



**T.C.  
MİLLÎ EĞİTİM BAKANLIĞI  
ÖLÇME, DEĞERLENDİRME VE SINAV HİZMETLERİ GENEL MÜDÜRLÜĞÜ**

**AÇIK ÖĞRETİM LİSESİ / MESLEKİ AÇIKÖĞRETİM LİSESİ**

**2014-2015 ÖĞRETİM YILI EK SINAVI  
11 EKİM 2015 Saat:10.00**

| <u>DERS KODU VE ADI</u>       | <u>SAYFA</u> | <u>DERS KODU VE ADI</u>        | <u>SAYFA</u> | <u>DERS KODU VE ADI</u>        | <u>SAYFA</u> |
|-------------------------------|--------------|--------------------------------|--------------|--------------------------------|--------------|
| (111) DİN KÜL. AHL. BİL. – 1  | 2            | (244) FRANSIZCA – 5            | 58           | (500) FRANSIZCA – 6            | 119          |
| (112) DİN KÜL. AHL. BİL. – 2  | 3            | (401) DİL ve ANLATIM – 1       | 59           | (501) İNGİLİZCE – 7            | 120          |
| (113) DİN KÜL. AHL. BİL. – 3  | 4            | (402) DİL VE ANLATIM – 2       | 60           | (501) ALMANCA – 7              | 121          |
| (114) DİN KÜL. AHL. BİL. – 4  | 5            | (403) DİL VE ANLATIM – 3       | 62           | (501) FRANSIZCA – 7            | 122          |
| (115) DİN KÜL. AHL. BİL. – 5  | 7            | (404) DİL VE ANLATIM – 4       | 63           | (502) İNGİLİZCE – 8            | 123          |
| (116) DİN KÜL. AHL. BİL. – 6  | 8            | (405) DİL ve ANLATIM – 5       | 65           | (502) ALMANCA – 8              | 124          |
| (117) DİN KÜL. AHL. BİL. – 7  | 9            | (406) DİL ve ANLATIM – 6       | 66           | (502) FRANSIZCA – 8            | 124          |
| (118) DİN KÜL. AHL. BİL. – 8  | 10           | (407) DİL VE ANLATIM – 7       | 67           | (503) SEÇMELİ TARİH – 3        | 125          |
| (121) FELSEFE – 1             | 11           | (408) DİL VE ANLATIM – 8       | 69           | (504) SEÇMELİ TARİH – 4        | 126          |
| (122) FELSEFE – 2             | 13           | (411) TÜRK EDEBİYATI – 1       | 70           | (505) SEÇ. COĞRAFYA – 3        | 128          |
| (123) SEÇMELİ FELSEFE – 1     | 14           | (412) TÜRK EDEBİYATI – 2       | 71           | (506) SEÇ. COĞRAFYA – 4        | 129          |
| (124) SEÇMELİ FELSEFE – 2     | 16           | (413) TÜRK EDEBİYATI – 3       | 72           | (511) FİKİH – 1                | 131          |
| (131) TARİH – 1               | 17           | (414) TÜRK EDEBİYATI – 4       | 74           | (512) FİKİH – 2                | 132          |
| (132) TARİH – 2               | 18           | (415) TÜRK EDEBİYATI – 5       | 75           | (527) SEÇ. YAB. DİL İNG. – 7   | 133          |
| (133) TARİH – 3               | 19           | (416) TÜRK EDEBİYATI – 6       | 76           | (527) SEÇ. YAB. DİL ALM. – 7   | 134          |
| (134) TARİH – 4               | 20           | (417) TÜRK EDEBİYATI – 7       | 78           | (527) SEÇ. YAB. DİL FRAN. – 7  | 135          |
| (135) TARİH – 5               | 21           | (418) TÜRK EDEBİYATI – 8       | 79           | (528) SEÇ. Y. DİL İNG. – 8     | 136          |
| (136) TARİH – 6               | 23           | (421) FİZİK – 1                | 80           | (528) SEÇ. Y. DİL ALM. – 8     | 136          |
| (141) T.C. İNK. TAR. ATA. – 1 | 24           | (422) FİZİK – 2                | 81           | (528) SEÇ. Y. DİL FRAN. – 8    | 137          |
| (142) T.C. İNK. TAR. ATA. – 2 | 25           | (423) FİZİK – 3                | 83           | (531) HZ. MUHAMMED'İN HAY. – 1 | 138          |
| (151) COĞRAFYA – 1            | 26           | (424) FİZİK – 4                | 85           | (532) HZ. MUHAMMED'İN HAY. – 2 | 140          |
| (152) COĞRAFYA – 2            | 28           | (431) KİMYA – 1                | 86           | (533) HZ. MUHAMMED'İN HAY. – 3 | 141          |
| (153) COĞRAFYA – 3            | 29           | (432) KİMYA – 2                | 88           | (534) HZ. MUHAMMED'İN HAY. – 4 | 142          |
| (154) COĞRAFYA – 4            | 30           | (433) KİMYA – 3                | 89           | (608) DEMOK. ve İNSAN HAK. – 2 | 144          |
| (155) COĞRAFYA – 5            | 31           | (434) KİMYA – 4                | 91           | (611) KARŞ. DİN. TAR. – 1      | 145          |
| (156) COĞRAFYA – 6            | 33           | (441) BİYOLOJİ – 1             | 92           | (612) KARŞ. DİN. TAR. – 2      | 146          |
| (157) COĞRAFYA – 7            | 34           | (442) BİYOLOJİ – 2             | 93           | (613) SEÇ. DİL VE ANLA. – 3    | 147          |
| (158) COĞRAFYA – 8            | 35           | (443) BİYOLOJİ – 3             | 94           | (614) SEÇ. DİL VE ANLA. – 4    | 149          |
| (163) MATEMATİK – 3           | 36           | (444) BİYOLOJİ – 4             | 96           | (615) SEÇ. DİL VE ANLA. – 5    | 150          |
| (164) MATEMATİK – 4           | 38           | (451) ÇAĞ. TÜRK DÜN. TAR. – 1  | 97           | (616) SEÇ. DİL VE ANLA. – 6    | 152          |
| (181) İNGİLİZCE – 1           | 39           | (452) ÇAĞ. TÜRK DÜN. TAR. – 2  | 98           | (617) SEÇ. DİL VE ANLA. – 7    | 153          |
| (181) ALMANCA – 1             | 40           | (455) DEMOK. ve İNSAN HAK. – 1 | 99           | (618) SEÇ. DİL VE ANLA. – 8    | 154          |
| (181) FRANSIZCA – 1           | 41           | (461) EKONOMİ – 1              | 100          | (623) SEÇ. TÜRK ED. – 3        | 155          |
| (182) İNGİLİZCE – 2           | 42           | (462) EKONOMİ – 2              | 101          | (624) SEÇ. TÜRK ED. – 4        | 157          |
| (182) ALMANCA – 2             | 43           | (465) TEMEL DİNİ BİLGİLER – 1  | 102          | (625) SEÇ. TÜRK ED. – 5        | 158          |
| (182) FRANSIZCA – 2           | 44           | (466) TEMEL DİNİ BİLGİLER – 2  | 104          | (626) SEÇ. TÜRK ED. – 6        | 159          |
| (206) PSİKOLOJİ – 1           | 45           | (476) İŞLETME – 1              | 105          | (627) SEÇ. TÜRK ED. – 7        | 161          |
| (207) PSİKOLOJİ – 2           | 46           | (477) İŞLETME – 2              | 106          | (628) SEÇ. TÜRK ED. – 8        | 162          |
| (208) SOSYOLOJİ – 1           | 47           | (478) MANTIK – 1               | 107          | (711) İSLAM TARİHİ – 1         | 163          |
| (209) SOSYOLOJİ – 2           | 49           | (479) MANTIK – 2               | 109          | (712) İSLAM TARİHİ – 2         | 164          |
| (242) İNGİLİZCE – 3           | 50           | (481) SANAT TARİHİ – 1         | 110          | (811) KELAM – 1                | 166          |
| (242) ALMANCA – 3             | 51           | (482) SANAT TARİHİ – 2         | 111          | (812) KELAM – 2                | 167          |
| (242) FRANSIZCA – 3           | 52           | (483) SAĞLIK BİLGİSİ – 1       | 112          | (931) SİYER – 1                | 168          |
| (243) İNGİLİZCE – 4           | 53           | (484) SAĞLIK BİLGİSİ – 2       | 113          | (932) SİYER – 2                | 169          |
| (243) ALMANCA – 4             | 54           | (491) TRAF. ve İLK YARD. – 1   | 115          | (974) GİRİŞİMCİLİK – 1         | 171          |
| (243) FRANSIZCA – 4           | 55           | (492) TRAF. ve İLK YARD. – 2   | 116          | (975) GİRİŞİMCİLİK – 2         | 172          |
| (244) İNGİLİZCE – 5           | 56           | (500) İNGİLİZCE – 6            | 117          | (998) MATEMATİK – 1            | 173          |
| (244) ALMANCA – 5             | 57           | (500) ALMANCA – 6              | 118          | (999) MATEMATİK – 2            | 174          |

**BAŞLAYINIZ DENİLMEDEN SORU KİTAPÇIĞINI AÇMAYINIZ.**

## EK SINAV

### (111) DİN KÜL. AHL. BİL. – 1

**1. Aşağıdakilerden hangisi tek tanrıcılık anlamına gelir?**

- A) Monoteizm B) Politeizm  
C) Ateizm D) Satanizm

**2. Aşağıdaki dinlerden hangisi diğerlerinden farklıdır?**

- A) İslam B) Hristiyanlık  
C) Yahudilik D) Hinduizm

**3. Aşağıdakilerden hangisi Peygamberimiz'in çocuklarından biri değildir?**

- A) Abdullah B) Hacer  
C) Rukiye D) İbrahim

4. • Tanrının varlığı kabul edilmez.  
• Evren ve evrendeki olayların tesadüfen meydana geldiği savunulur.  
• Dinin insanları uyuşturduğu iddia edilir.

**Bu bilgiler aşağıdaki inanma biçimlerinden hangisine aittir?**

- A) Büyücülük  
B) Çok tanrıcılık  
C) Tanrıtanımazlık  
D) Şeytana tapıcılık

**5. İnsanın ibadet etmesinin en önemli sebebi aşağıdakilerden hangisidir?**

- A) Cennete girmek  
B) İyi insan olmak  
C) Günahlardan kurtulmak  
D) Allah'ın emrini yerine getirmek

**6. Mekke'den Medine'ye göç eden Müslümanlara ne ad verilmiştir?**

- A) Sahabe B) Havari  
C) Muhacir D) Ensar

**7. Temizlik türü açısından aşağıdakilerden hangisi diğerlerinden farklıdır?**

- A) Elleri yıkamak  
B) Yere çöp atmamak  
C) Kötü sözden uzak durmak  
D) Dişleri fırçalamak

**8. Besmele ile birbirinden ayrılan ayetlerden oluşan Kur'an bölümüne ne ad verilir?**

- A) Sure B) Hizb  
C) Mushaf D) Cüz

**9. Aşağıdakilerden hangisi ibadetin bireysel faydalarından biri değildir?**

- A) İnancı kuvvetlendirir.  
B) Allah'a olan sevgiyi artırır.  
C) Sorumluluk bilincini geliştirir.  
D) Toplumsal barışa katkı sağlar.

10. Kelime olarak kapalı şeyi ortaya çıkarmak, açmak, yorumlamak anlamına gelir. Terim olarak ise Kur'an-ı Kerim'i açıklayıp yorumlayan ilim dalıdır.

**Hakkında bilgi verilen ilim dalı aşağıdakilerden hangisidir?**

- A) Kelam B) Hadis  
C) Fıkıh D) Tefsir

**11. Hz. Muhammed'in toplumsal dayanışma ve yardımlaşmaya katkı sağlayan faaliyetlerinden hangisi diğerlerinden önce gerçekleşmiştir?**

- A) Hilfu'l-Fudul'a katılması  
B) Medine Sözleşmesi'ni yapması  
C) Hudeybiye Barış Antlaşmasını imzalaması  
D) Mekkeli müslümanlarla, Medineli müslümanları kardeş ilan etmesi

**12. Mekke'de Müslümanların işkencelere maruz kalması ve dinlerini yaşayamamaları sebebiyle ilk hicret ettikleri yer aşağıdakilerden hangisidir?**

- A) Medine B) Taif  
C) Habeşistan D) Hayber

**13. Hz. Muhammed'in doğduğu dönemdeki Arap toplumu hakkında aşağıdakilerden hangisi söylenemez?**

- A) Güçlü ve zenginler zayıfları ezerdi.  
B) İçki içmek, kumar oynamak yaygındı.  
C) Güzel söz söylemek ve şiir gelişmişti.  
D) Okuma yazma bilenlerin sayısı çoktu.

**14. Hz. Muhammed İslamı anlatmaya ilk olarak aşağıdakilerden hangisi ile başlamıştır?**

- A) Köleler B) Liderler  
C) Zenginler D) Yakın çevresi

**15. Peygamberimiz'in gençlik yıllarında katıldığı Hilful Fudul (Erdemliler Birliği)'un kuruluş amacı aşağıdakilerden hangisidir?**

- A) Mekke'nin tanıtımını yapmak  
B) Haksızlıklara engel olmak  
C) Akıbalık bağlarını güçlendirmek  
D) Ticaretin güçlenmesini sağlamak

**16. Kur'an'a göre insan hakkında aşağıdakilerden hangisi söylenemez?**

- A) Diğer varlıklar insanın emrine verilmiştir.  
B) Hür ve sorumsuz bir varlıktır.  
C) Yaratılanların en üstünüdür.  
D) Yeryüzünün halifesidir.

**17. Hz. Muhammed ne zaman ve nerede vefat etmiştir?**

- A) 632 - Medine  
B) 630 - Medine  
C) 632 - Mekke  
D) 630 - Mekke

**18. Kur'an-ı Kerim'in toplanması ve çoğaltılması hangi halifeler zamanında olmuştur?**

- A) Hz. Osman - Hz. Ali  
B) Hz. Ebubekir - Hz. Osman  
C) Hz. Ömer - Hz. Ebubekir  
D) Hz. Ali - Hz. Ömer

## EK SINAV

19. Harflerin çıkış yerlerine uygun olarak, hatasız biçimde Kur'an-ı Kerim okumasını öğreten ilim aşağıdakilerden hangisidir?

- A) Tecvit B) Mukabele  
C) Tefsir D) Hatim

20. Peygamberimiz her yıl Ramazan ayında o güne kadar inen ayetleri Cebrail ile karşılıklı okumuşlardır. Bu uygulamaya İslam toplumuna yerleşmiş ve gelenek halini almıştır.

**Bu durum aşağıdakilerden hangisiyle isimlendirilir?**

- A) Tefsir B) Hatim  
C) Hafızlık D) Mukabele

### (112) DİN KÜL. AHL. BİL. – 2

1. Bir toplumda eskiden beri uygulanan, nesilden nesile aktarılan kültürel değer, bilgi ve alışkanlıklara - - - - denir.

**Boş bırakılan yere aşağıdakilerden hangisi gelmelidir?**

- A) Din B) Örf  
C) İbadet D) Ahlak

2. Peygamberimizin ahlaki sorulduğunda Hz. Aişe'nin verdiği cevap aşağıdakilerden hangisidir?

- A) Örf ve Âdetler  
B) Anne-Baba  
C) Kur'an  
D) Sünnet

3. İslam'dan önce de var olan ve İslam'a ters düşmeyen örf ve âdetlerden biri aşağıdakilerden hangisidir?

- A) Kan davası  
B) Tefecilik yapmak  
C) Aşure orucu tutmak  
D) Şans oyunları

4. Aşağıdakilerden hangisi dinin amaçlarından biri değildir?

- A) İyiliğe yönlendirmek  
B) Doğruluğa teşvik etmek  
C) Kötülüklerden uzaklaştırmak  
D) Zengin olmayı sağlamak

5. Sevap ve günah kavramları hangi tür değerleri ifade etmek için kullanılır?

- A) Toplumsal B) Ahlakî  
C) Dini D) Estetik

6. Aşağıdakilerden hangisi laik bir devlet yapısında bulunmaz?

- A) Din hürriyeti ana ilke olarak kabul edilir.  
B) Vatandaşlar, belli bir dinin kurallarına uymaya zorlanamaz.  
C) İnandığı dini uygulamak isteyenlere imkân hazırlanır.  
D) Vatandaşların bir dine bağlı olmaları teşvik edilir.

7. Aşağıdakilerden hangisi İslam dininin korunmasını istediği temel ilkelerden biri değildir?

- A) Can B) Dil  
C) Mal D) Namus

8. Aşağıdakilerden hangisi Türklerin İslam dinini benimsemelerinde etkili olmamıştır?

- A) Müslüman tüccarların dürüstlüğü.  
B) İslam dininin hoşgörü ve sevgi anlayışı.  
C) İslam dininin Türklerin mizacına uyması.  
D) Arapların Türkleri Müslümanlığa zorlaması.

9. "Din ve mezhep herkesin vicdanına kalmış bir iştir. Hiçbir kimse, bir dini ve bir mezhebi kabul etmeye zorlanamaz."

**Bu paragrafta Atatürk aşağıdakilerden hangisine vurgu yapmıştır?**

- A) İnanç hürriyeti  
B) Dinin önemi  
C) Aile hayatı  
D) Toplumsal değerler

10. Kişinin, dinî ve ahlakî değerleri, doğruluk, dürüstlük, sevgi, saygı, şefkat, merhamet vb. davranışları kazanmasında en etkili kurum aşağıdakilerden hangisidir?

- A) Aile  
B) Okul  
C) Arkadaş  
D) Yayın organları

11. Aşağıdakilerden hangisi Türklerin Müslüman olmadan önce benimsedikleri Gök Tanrı inancının temel özelliklerinden biri değildir?

- A) Gök Tanrı vardır ve birdir.  
B) Gök Tanrı'nın melekleri vardır.  
C) Dünya hayatından sonra sonsuz bir hayat vardır.  
D) Tanrı yaratan, yaşatan ve koruyandır.

12. Günümüzde Türkiye'nin doğusunda, Irak'ta, Suriye'de ve Mısır'da yaygın olan ameli mezhep aşağıdakilerden hangisidir?

- A) Hanbelilik B) Malikilik  
C) Hanefilik D) Şafilik

13. Türkler arasında İslam anlayışının oluşmasında ve gelişmesinde aşağıdakilerden hangisinin etkisi olmamıştır?

- A) Ebu Hanife  
B) İmam Malik  
C) Hacı Bektaş Veli  
D) Ahmet Yesevi

14. "Yavrucuğum! Küçümseyerek insanlardan yüz çevirme ve yeryüzünde böbürlenerek yürüme! Zira Allah kendini beğenmiş öğrenüp duran kimseleri asla sevmez."  
(Lokman suresi, 18. Ayet)

**Hiz. Lokman'ın oğluna verdiği öğütlerin yer aldığı bu ayette aşağıdaki kötü davranışlardan hangisi reddedilmektedir?**

- A) Kibir B) Gıybet  
C) Haset D) Kin ve nefret

(113) DİN KÜL. AHL. BİL. – 3

15. 1281 yılında Horasan'da doğmuştur. Asıl adı Seyyid Muhammed bin İbrahim Ata'dır. Vaaz ve sohbetleriyle İslam dinini insanlara öğretmeye ve sevdirmeye çalışmıştır. Sohbet meclislerinde kolay anlaşılır, sade bir Türkçeyle "nefes" adı verilen beyitler söylemiştir. Manzum olarak söylediği şiirlerinin toplandığı "Makalat" adlı Arapça bir eseri vardır.

**Bu parçada verilen bilgiler aşağıdakilerden hangisine aittir?**

- A) Hacı Bayram Veli
- B) Yunus Emre
- C) Ahmet Yesevi
- D) Hacı Bektaş Veli

16. Aşağıdakilerden hangisi Türklerin İslam anlayışının oluşmasında daha çok etkili olmuş şahsiyetlerden biridir?

- A) Tirmizi
- B) Ebu Hanife
- C) Ebu Davut
- D) Ebubekir Razi

17. Aşağıdakilerden hangisi Türk İslam sanatlarından biri değildir?

- A) Heykel
- B) Minyatür
- C) Tezhip
- D) Hüsnü Hat

18. Aşağıdakilerden hangisi ilk Müslüman Türk Devletidir?

- A) Karahanlılar
- B) Endülüs Emevi
- C) Büyük Selçuklu
- D) Anadolu Selçuklu

19. Kitap kenarlarını ve satır aralarını altın tozu, çiçek ve nakışlarla süslemek olarak adlandırılan sanat dalı aşağıdakilerden hangisidir?

- A) Hüsnü Hat
- B) Ebru
- C) Tezhip
- D) Minyatür

20. Aşağıdakilerden hangisi İslam dünyasında inançla ilgili benimsenen yaygın mezheplerden biridir?

- A) Şafîilik
- B) Maturidilik
- C) Hanefilik
- D) Yesevilik

1. "Göklerin ve yerin yaratılışında, gece ile gündüzün birbiri ardınca gelip gidişinde akıllı selim sahipleri için gerçekten açık ibretler vardır."  
(Âl-i İmran Suresi, 190. ayet)

**Bu ayette vurgulanan ana düşünce aşağıdakilerden hangisidir?**

- A) Allah'ın varlığı
- B) Allah'ın adaleti
- C) Allah'ın cömertliği
- D) Allah'ın merhameti

2. Allah'ın her şeyi görmesi anlamına gelen sıfatı aşağıdakilerden hangisidir?

- A) Hayat
- B) Basar
- C) Kelam
- D) Semi

3. Hz. Peygamber aşağıdakilerden hangisini ibadetin özü olarak tanımlamıştır?

- A) Namaz
- B) Oruç
- C) Dua
- D) Hac

4. "Eğer göklerde ve yerde Allah'tan başka ilahlar olsaydı, göklerin ve yerin düzeni bozulurdu..."  
(Enbiya suresi, 22. Ayet.)

"De ki: Eğer onların iddia ettiği gibi Allah'la beraber (başka) ilahlar olsaydı o zaman o ilahlar da arşın sahibine ulaşmak için elbette bir yol ararlardı."  
(İsra suresi, 42. Ayet.)

**Bu ayetlerin ortak konusu aşağıdakilerden hangisidir?**

- A) Allah'ın sonsuz güç ve kudret sahibi olduğu
- B) Allah'ın hiçbir şeye muhtaç olmadığı
- C) Her şeyin yaratıcısının Allah olduğu
- D) Allah'ın bir ve tek olduğu

5. Aşağıdakilerden hangisi farz bir ibadet değildir?

- A) Oruç tutmak
- B) Namaz kılmak
- C) Zekat vermek
- D) Kurban kesmek

6. Yüce Allah'ın ezelden ebede kadar olacak bütün şeylerin zamanını ve yerini, özellik ve niteliklerini, ezeli ilmiyle bilip takdir etmesi şeklinde tarif edilen kavram aşağıdakilerden hangisidir?

- A) İrade
- B) Tevekkül
- C) Kader
- D) Kaza

7. Aşağıdakilerden hangisi ibadetin bireye kazandırdıklarından biri değildir?

- A) Allah'a yaklaştırır.
- B) İmanı kuvvetlendirir.
- C) Gönül Allah sevgisiyle doldurur.
- D) Komşuluk ilişkilerini güçlendirir.

8. Aşağıdakilerden hangisi hac'cın farzlarından biri değildir?

- A) Arafat'ta vakfe
- B) Kabe'yi tavaf
- C) İhram
- D) Sa'y

9. Haccın farz olması için aşağıdakilerden hangisi gerekli değildir?

- A) Hür olmak.
- B) Zengin olmak.
- C) Erkek olmak.
- D) Ergenlik çağına girmiş olmak.

10. Aşağıdakilerden hangisi namazın farzları arasında yer almaz?

- A) Tekbir almak
- B) Elleri bağlamak
- C) Abdest almak
- D) Kibleye dönmek

11. Aşağıdakilerden hangisi haccın farzlarından biri değildir?

- A) Arafat'ta vakfe yapmak.
- B) İhrama girmek.
- C) Kurban kesmek.
- D) Kabe'yi tavaf etmek.

## EK SINAV

12. “Ey peygamber! Rabb’inden sana indirileni tebliğ et. Eğer bunu yapmazsan onun verdiği görevi yapmamış olursun...”  
(Maide suresi, 67. Ayet.)

**Aşağıdakilerden hangisi Hz. Muhammed’le ilgili bu ayetten çıkarılacak bir sonuçtur?**

- A) Kur’an-ı Kerim’i açıklayıcıdır.  
B) İnsanlığa bir rahmettir.  
C) Güvenilir bir insandır.  
D) Son peygamberdir.

13. Zekat ile ilgili aşağıda verilen bilgilerden hangisi **yanlıştır**?

- A) Zengin müslümanlara farzdır.  
B) Ramazan ayında verilmesi gerekir.  
C) Verilecek malın üzerinden bir yıl geçmelidir.  
D) Toprak ürünlerinin zekatı 1/10’dur.

14. Hz. Muhammed’in adı söylen-dikten sonra, O’na saygı ve sevgiyi ifade etmek üzere aşağıdakilerden hangisi söylenir?

- A) Lailahe illallah  
B) Elhamdül lillah  
C) Muhammedün rasulullah  
D) Sallallahü aleyhi ve sellem

15. “... iyilik o kimsenin yaptığıdır ki Allah’a, ahiret gününe, meleklerle, kitaplara, peygamberlere inanır. O kimse (Allah’ın rızasını gözeterek) yakınlarla, yetimlere yoksullara, yolda kalmışlara, dilenenlere ve kölelere, sevdiği maldan harcar, namaz kılar, zekat verir. Antlaşma yaptığı zaman sözlerini yerine getirir. Sıkıntı, hastalık ve savaş zamanlarında sabreder.”  
(Bakara Suresi, 177. ayet)

**Verilen ayette aşağıdakilerden hangisine değinilmemiştir?**

- A) Allah’a ve ahiret gününe inanmak.  
B) Yetimlere ve yoksullara yardım etmek.  
C) Hacca gitmek.  
D) Zorluklara sabretmek.

16. “Ey iman edenler! Fasıkın biri size bir haber getirirse, bilmeyerek bir topluluğa zarar verip yaptığınıza pişman olmamak için, o haberin doğruluğunu araştırın.”  
(Hucurat suresi, 6. Ayet.)

**Bu ayet Kur’an’ın aşağıdaki temel amaçlarından hangisine kanıt oluşturur?**

- A) Doğru davranış  
B) Doğru inanç  
C) Doğru bilgi  
D) Doğru öğüt

17. “(İnsanları) Allah’a çağıran, iyi iş yapan ve “ben Müslümanlardanım” diyenden daha güzel sözlü kim vardır. İyilikle kötülük bir olmaz. Sen (kötülüğü) en güzel bir tavırla önle. O zaman (görürsün ki) seninle arasında düşmanlık bulunan kimse, sanki yakın bir dost olur.”  
(Fussilet Suresi, 33 - 34. ayetler)

**Bu ayetlerin ana düşüncesi aşağıdakilerden hangisidir?**

- A) Salih amelin önemi.  
B) Namaz kılmanın önemi.  
C) Ezan okumanın değeri.  
D) Anne - babaya saygının önemi.

18. Kur’an-ı Kerim’i bir dilden başka bir dile çevirmeye ne ad verilir?

- A) Meal  
B) Mushaf  
C) Tefsir  
D) Mufessir

19. “Nitekim kendi içinizden, size ayetlerimizi okuyan, sizi temizleyen, size kitabı ve hikmeti getirip size bilmediklerinizi öğreten bir Resul gönderdik.”  
(Bakara Suresi, 151. ayet)

**Verilen ayette Peygamberimiz’in hangi özelliğine vurgu yapılmaktadır.**

- A) Cesaretli olmasına  
B) Adaletli olmasına  
C) Toplumu eğitmesine  
D) Son peygamber olmasına.

20. Kur’an-ı Kerim’in harflerinin düzgün çıkarılması ve kelimele-rin doğru okunmasıyla ilgili ku-rallar aşağıdakilerden hangisi ile isimlendirilir?

- A) Hizb  
B) Tecvid  
C) Mukabele  
D) Tadil-i Erkan

(114) DİN KÜL. AHL. BİL. – 4

1. “Allah’a ve ahiret gününe inanan kimse, komşusuna eziyet etmesin.”

“Müslüman, elinden ve dilinden başka Müslümanların zarar görmediği kimsedir.”

“Müslümanların kanları, malları, namusları ve şerefleri kendi aralarında kutsal Mekke kadar, hac ayları ve günleri kadar saygındır, dokunulmazdır.”

**Verilen hadisler aşağıdakilerden hangisi ile en çok ilgilidir?**

- A) Kul hakkı  
B) Eğitim hakkı  
C) İnanç hakkı  
D) Mülkiyet hakkı

2. Hz. Muhammed: “Sizden evvelkilerin mahvolmalarının sebebi şudur ki: içlerinden şerefli bir kimse hırsızlık yapınca onu cezasız bırakır, zayıf birisi çalınca ise kanunu tatbik eder, onu cezalandırırlardı. Allah’a yemin ederim ki, Muhammed’in kızı Fatıma da haksızlık etse, cezasız bırakmazdım.” (Hadis-i Şerif)

**Hz. Muhammed’in dikkat çektiği husus aşağıdakilerden hangisidir?**

- A) Hukukun üstünlüğü  
B) İnanç özgürlüğü  
C) Barış ve güven  
D) Kul hakkı

## EK SINAV

3. Aşağıda verilen hadislerden hangisi İslam'ın eğitime verdiği önem ile ilgili değildir?

- A) "İlim ve hikmet Müslüman'ın yetiğidir. Nerede bulursa onu alır."
- B) "İlim öğrenmek kadın - erkek her Müslüman'a farzdır."
- C) "İlim için yola çıkan kimse, dönünceye kadar Allah yolundadır."
- D) "Kim Allah'a ve ahiret gününe iman ediyorsa, ya hayır konuşsun ya da sussun."

4. Kişinin başkasına zarar vermeden düşündüğünü ve dilediğini yapabilmesi anlamına gelen kavram aşağıdakilerden hangisidir?

- A) Adalet
- B) Hak
- C) Özgürlük
- D) Hukuk

5. Dinimizde korunması emredilen esaslar, temel haklar ile karşılıklı olarak eşleştirilmiştir. Bunlardan hangisi yanlıştır?

- A) Can - Yaşama hakkı
- B) Din - İnanç hakkı
- C) Mal - Ekonomik hak
- D) Akıl - Özel hayatın gizliliği

6. "... Kim bir cana kıymamış veya yeryüzünde bozgunculuk yapmamış olan bir kimseyi öldürürse, bütün insanları öldürmüş gibidir..." (Maide suresi, 32. ayet.)

Bu ayet aşağıdakilerden hangisini korumaya yöneliktir?

- A) Yaşama hakkı
- B) İnanç özgürlüğü
- C) Özel yaşamın gizliliği hakkı
- D) Düşünce ve ifade özgürlüğü

7. "De ki: O Kur'an, Rabbinizden gelen bir haktır. Artık dileyen iman etsin, dileyen inkar etsin." (Kehf Suresi, 29. ayet)

"Şüphesiz biz ona doğru yolu gösterdik. İster şükredici olsun ister nankör."  
(İnsan Suresi, 3. ayet)

Bu ayetler, aşağıdaki haklardan hangisi ile ilgilidir?

- A) İnanç hakkı
- B) Eğitim hakkı
- C) Yaşam hakkı
- D) Mülkiyet hakkı

8. Bir şeye körü körüne bağlanmak, aşağıdaki hangi kavram ile ifade edilmektedir?

- A) İstismar
- B) Yozlaşmak
- C) Fazilet
- D) Taassup

9. İslam dini aşağıdakilerden hangisini yasaklamamıştır?

- A) İftira atmak
- B) Gıpta etmek
- C) Yalan söylemek
- D) Söz taşımak

10. Tıp alanında yazılmış Kitab'üş Şifa ve El-Kanun fit-Tıp adlı eserleri bulunan dünyaca ünlü Müslüman bilim adamı kimdir?

- A) Ömer Hayyam
- B) İbn'ül Heysem
- C) İbn-i Rüşd
- D) İbn-i Sina

11. Aşağıdakilerden hangisi taassup için söylenemez?

- A) Ön yargıdır.
- B) Bilgisizce taklittir.
- C) Körü körüne bağlılıktır.
- D) Düşünceyi zenginleştirir.

12. İslam medeniyetinde "Suffa" "Beytül-Hikme" ve "Darul-Kurra" gibi kurumların bulunması, İslam medeniyetinde aşağıdakilerden hangisine verilen önemi gösterir?

- A) İlim öğrenmeye
- B) Çevreyi korumaya
- C) Mimariyi desteklemeye
- D) Yardımlaşmayı sağlamaya

13. İslam'da ilk eğitim kurumu aşağıdakilerden hangisidir?

- A) Medrese
- B) Suffe
- C) Beytül Hikme
- D) Tekke

14. Aşağıdakilerden hangisi vahyin geliş şekillerinden biri değildir?

- A) Peygamberlerin kalbine doğrudan yerleştirilmesi
- B) Peygamberlere yazılı bir kitap halinde gönderilmesi
- C) Perde arkasından gelen vahyi peygamberin duyması
- D) Cebrail adlı meleğin peygamberlere vahiy getirmesi

15. Din ve bilim hakkında aşağıdakilerden hangisi söylenemez?

- A) Din, bilimi teşvik eder.
- B) Din, ilahidir; bilim ise beşeridir.
- C) Din ve bilim çatışma halindedir.
- D) Din ve bilim, insanı özgürleştirir.

16. "Kişi, elinin emeğiyle kazandığından daha temiz bir kazanç elde etmemiştir."

Bu hadis aşağıdaki hak ve özgürlüklerden hangisiyle ilişkilidir?

- A) Ekonomik hak
- B) Eğitim hakkı
- C) Sağlık hakkı
- D) Özel yaşamın gizliliği hakkı

17. Gökyüzünü izlemeye ve gezegenlerin yerini hesaplamaya yarayan "Usturlap" aletini icad eden Müslüman bilim adamı aşağıdakilerden hangisidir?

- A) Biruni
- B) Harezmi
- C) Battani
- D) İbrahim el-Fezari

18. Aşağıdakilerden hangisi İslam medeniyetinde faaliyet gösteren bir eğitim kurumu değildir?

- A) Medrese
- B) Küttap
- C) Beytül-Mal
- D) Beytül-Hikme

## EK SINAV

19. Aşağıdakilerden hangisi İslam medeniyetine fıkıh alanında katkı sağlayan ilim adamlarından biri değildir?

- A) Ebu Hanife
- B) Zemahşeri
- C) Ahmet bin Hanbel
- D) İmamı Şafii

20. Aşağıdakilerden hangisi bilginin kaynaklarından biridir?

- A) Rüya
- B) İlham
- C) Duyu
- D) Yorum

### (115) DİN KÜL. AHL BİL. – 5

1. “Kim hidayet yolunu seçerse bunu ancak kendi iyiliği için seçmiş olur; kim de doğruluktan ayrılırsa kendisine zarar vermiş olur.”  
(İsra Suresi, 15. ayet)

**Bu ayette vurgulanan ana düşünce aşağıdakilerden hangisidir?**

- A) İyiliğin değeri
- B) İnsanın sorumluluğu
- C) Kadere teslimiyetin önemi
- D) Doğruluğun dinimizdeki yeri

2. Yüce Allah'ın sevmediği, hoşlanmadığı ve yapılmasını istemediği davranışlara genel olarak ne denir?

- A) Şer
- B) Zan
- C) Nifak
- D) Fitne

3. İnsanın yaptıklarından sorumlu tutulmasının nedeni aşağıdakilerden hangisidir?

- A) Güçlü olması
- B) Çalışkan olması
- C) Akıllı olması
- D) Yetenekli olması

4. Bir amaca ulaşmak için gereken bütün tedbirleri aldıktan sonra işin sonucunu Allah'a bırakıp ondan yardım beklemeye ne denir?

- A) Kader
- B) Kaza
- C) Tevekkül
- D) İrade

5. “Ey iman edenler! Allah'a ve ahiret gününe inanmadığı halde malını gösteriş için harcayan kimse gibi, başa kakmak ve incitmek suretiyle, yaptığınız hayırları boşa çıkarmayın...”  
(Bakara Suresi, 264. ayet)

**Ayette eleştirilen davranış aşağıdakilerden hangisidir?**

- A) Haset
- B) Gıybet
- C) İftira
- D) Riya

6. Toplumsal yardımlaşma ve dayanışmaya katkısı diğerlerine göre daha az olan ibadet aşağıdakilerden hangisidir?

- A) Kurban
- B) Zekât
- C) Hac
- D) Sadaka

7. Aşağıdakilerden hangisi ibadetlerin bireysel faydalarından biri değildir?

- A) İmanı kuvvetlendirir.
- B) Güven duygusunu geliştirir.
- C) Sorumluluk bilincini geliştirir.
- D) Sosyal yardımlaşmayı teşvik eder.

8. • İnsanın Allah'la olan ilişkisini güçlendirir.  
• Güzel ahlakı ve sorumluluk bilincini geliştirir.  
• Sosyal yardımlaşmayı teşvik eder.

**Verilenlerin tamamı aşağıdakilerden hangisinin faydaları arasında yer alır?**

- A) Ahlakın
- B) İbadetin
- C) Örfün
- D) Yasaların

9. Aşağıdakilerden hangisi peygamberlerin ortak sıfatlarından biri değildir?

- A) Doğru olmak.
- B) Okur - yazar olmak.
- C) Güvenilir olmak.
- D) Günahtan uzak olmak.

10. Hz. Muhammed açıktan tebliğle emrolunduğunda Safa Tepesi'ne çıkmış ve şehir halkını oraya davet etmişti. Onlara: “*Şayet ben size şu tepenin arkasında bir düşman var desem, inanır mısınız?*” diye sorduğunda Mekkeliler; “*sen asla yalan söylemedin, senin söyleyeceğin her şeye inanırız.*” dediler.

**Mekkelilerin bu tepkisi Hz. Muhammed'in hangi özelliğinin Peygamber olmadan önce de Mekkeliler tarafından kabul gördüğüne delildir?**

- A) Cesareti
- B) Bilgili oluşu
- C) Güvenilirliği
- D) Hoşgörüsü

11. Aşağıdakilerden hangisi örnek bir Müslüman'ın özelliği olamaz?

- A) Akrabalarını ziyaret eder.
- B) Boş ve yararsız işlerden uzak durur.
- C) Ölçü ve tartıda hile yapmaz.
- D) Başkalarının kusurları ile alay eder.

12. “*Kolaylaştırınız zorlaştırmayınız, müjdeleyiniz, nefret ettirmeyiniz.*”  
(Hadisi Şerif)

**Aşağıdakilerden hangisi bu hadise örnek oluşturur?**

- A) Teyemmüm abdesti ile namaz kılınması
- B) Namazın beş vakit olarak farz kılınması
- C) Namaz için abdestin gerekli olması
- D) Ramazan orucunun farz olması

13. • Siffin Savaşı sonucunda ortaya çıkmıştır.  
• Hüküm vermek Allah'a aittir  
• Ameller, imanın bir parçasıdır.

**Verilen bu bilgiler aşağıdaki mezheplerden hangisine aittir?**

- A) Caferilik
- B) Şafilik
- C) Haricilik
- D) Maturidilik

## EK SINAV

14. Hz. Peygamberin ailesi ve onun soyundan gelenler için kullanılan kavram aşağıdakilerden hangisidir?

- A) Ehl-i Resul
- B) Ehl-i Beyt
- C) Hane-i Saadet
- D) Ümmet-i Muhammed

15. “İnsan kendi eylemlerinde tamamen özgürdür. Fiillerin yaratılmasında Allah'ın bir müdahalesi yoktur. Eğer insanın fiillerinin yaratıcısı Allah olsaydı, o zaman Allah'ın insanları cezalandırması anlamsız olurdu.”

**Bu düşünce mutezile mezhebinin temel görüşlerinden hangisini ifade etmektedir?**

- A) Tevhit
- B) Adalet
- C) El-Va'd ve'l-void
- D) El-Menziletü beyne'l-menziletayn

16. Mezhepler hakkında aşağıdaki ifadelerden hangisi **yanlıştır**?

- A) Ameli ve itikadi mezheplerin ortaya çıkmasında siyasetin etkisi olmamıştır.
- B) Mezhep farklılıklarında sosyal, kültürel ve coğrafi sebeplerin etkisi olmuştur.
- C) Farklı kültürler farklı din anlayışlarının ortaya çıkmasında etkili olmuştur.
- D) Mezhep farklılıkları doğal olup birer zenginliktir.

17. Aşağıdakilerden hangisi **tevek-kül anlayışı kapsamında değerlendirilemez**?

- A) Çiftçinin tarlayı sürüp ekmesi.
- B) Öğrencinin hazırlanıp sınava girmesi.
- C) Hastanın ilacını kullanması.
- D) Namaz kılanın abdest alması.

18. Aşağıdakilerden hangisi **İslam düşüncesindeki yorumların birleştiği temel konulardan biri değildir**?

- A) Tevhit
- B) Nübüvvet
- C) Kur'an-ı Kerim
- D) Örf ve Adetler

19. Aşağıdakilerden hangisi **İslam düşüncesinde ortaya çıkan fıkhi mezheplerden biridir**?

- A) Şafilik
- B) Şîlik
- C) Haricilik
- D) Eşarilik

20. Bir gün yoldan cenaze geçerken Hz. Muhammed, ayağa kalktı. Arkadaşları cenazenin Yahudi birisine ait olduğunu söyleyince Hz. Peygamber; “O da bir insan değil mi? buyurdu.

**Bu olay Hz. Muhammed'in aşağıdaki ahlaki özelliklerinden hangisine örnektir?**

- A) Kararlılığına
- B) Güvenirliğine
- C) Fedakârlığına
- D) İnsan sevgisine

### (116) DİN KÜL. AHL. BİL. – 6

1. Aile ile ilgili verilen bilgilerden hangisi **yanlıştır**?

- A) Ekonomik gelişme aileyi ortadan kaldırır.
- B) Topluma yararlı bireyler kazandırır.
- C) Huzurlu bir toplumun oluşmasına katkıda bulunur.
- D) İnsan neslinin sağlıklı çoğalmasını sağlar.

2. Aşağıdakilerden hangisi **İslam kültüründe “Sıla-i Rahim” olarak adlandırılır**?

- A) Türbeleri ziyaret
- B) Kutsal yerleri ziyaret
- C) Kabristanları ziyaret
- D) Akrabaları ziyaret

3. Aşağıdakilerden hangisi **Diyanet İşleri Başkanlığının görevleri arasında yer almaz**?

- A) Toplumda birlik ve beraberliği pekiştirici çalışmalar yapmak
- B) Bireylerin manevi ve ahlaki değerlere bağlılığını artırmak
- C) Örf ve adetlerin uygulanıp yaygınlaşmasını sağlamak
- D) İslam dinini en doğru şekilde öğretmek ve tanıtmak

4. “Yavrucuğum! Namazı kıl, iyiliği emret, kötülükten vazgeçirmeye çalış, başına gelenlere sabret. Doğrusu bunlar azmedilmeye değer işlerdir. Küçümseyerek insanlardan yüz çevirme ve yeryüzünde böbürlenerek yürüme. Zira Allah kendini beğenmiş övünüp duran kimseleri asla sevmez.” (Lokman Suresi, 17 ve 18. ayetler)

**Aşağıdakilerden hangisi Hz. Lokman'ın oğluna yaptığı nasihatlerden biri değildir?**

- A) İbadetlerini yerine getir!
- B) Kötülükleri görmezden gel!
- C) Sabırlı davran!
- D) Alçak gönüllü ol!

5. Aşağıdaki ayet ve hadislerden hangisi **aile kurumunu korumaya yöneliktir**?

- A) “Çocuklarınıza hoşça davranın, onları güzel terbiye edin.” (Hadisi Şerif)
- B) “Küçüklerine merhamet etmeyen, büyüklerine saygı göstermeyen bizden değildir.” (Hadisi Şerif)
- C) “Rabbin sadece kendisine kulluk etmenizi, ... kesin bir şekilde emretti...” (İsra suresi, 23. Ayet)
- D) “Zinaya yaklaşmayın. Zira o bir hayasızlıktır ve çok kötü bir yoldur.” (İsra suresi, 32. Ayet)

6. Diyanet İşleri Başkanlığı aşağıdaki kurumlardan hangisine **bağlıdır**?

- A) İçişleri Bakanlığı
- B) Başbakanlık
- C) Cumhurbaşkanlığı
- D) Milli Eğitim Bakanlığı

7. Aşağıdakilerden hangisi **Din İşleri Yüksek Kurulu'nun görevleri arasında değildir?**

- A) Personelini mesleki açıdan eğitmek.
- B) Din şurasını düzenlemek.
- C) Dini konularda araştırma yapmak.
- D) Dini konularda karar vermek.



## EK SINAV

8. Aşağıdakilerden hangisi Osmanlı İmparatorluğu döneminde din işleri ile meşgul olan kişidir?

- A) Şeyhülislam B) Kazasker  
C) Sadrazam D) Veziriazam

9. Aşağıdakilerden hangisi Diyanet İşleri Başkanlığında görev yapan din hizmetleri personelinin biri değildir?

- A) Vaiz  
B) Müftü  
C) Kur'an Kursu öğreticisi  
D) Din Kültürü ve Ahlak Bilgisi öğretmeni

10. Aşağıdakilerden hangisi Diyanet İşleri Başkanlığı'nın görevleri arasında yer almaz?

- A) Toplumun ahlak esaslarını belirlemek.  
B) İbadet yerlerini yönetmek.  
C) Toplumun dinle ilgili sorularına cevap vermek.  
D) Din hususunda toplumu aydınlatmak.

11. "Erkek veya kadın, mü'min olarak kim iyi amel işlerse onu mutlaka güzel bir hayat ile yaşatırız. Ve mükafatlarını elbette yapmakta olduklarına karşılık olarak en güzeli ile veririz."  
(Nahl Suresi, 97. ayet)

Aşağıdakilerden hangisi bu ayetten çıkarılamaz?

- A) Güzel davranmanın değeri.  
B) Yapılanların karşılıksız kalması.  
C) Mükafatın sadece cennette verileceği.  
D) Kulluk açısından cinsiyet farkının önemli olmadığı.

12. Kişinin evini, elbisesini ve kullandığı eşyasını güzelleştirmesi onun aşağıdakilerden hangisi-ne önem verdiğini gösterir?

- A) Hayatı kolaylaştırmaya  
B) Ahiret hayatına  
C) Giyinmeye  
D) Estetiğe

13. Aşağıdakilerden hangisi külliye-nin bölümlerinden biri değildir?

- A) Cami B) Aşevi  
C) Şifahane D) Tekke

14. Aşağıdakilerden hangisi dinin etkisiyle ortaya çıkan mimari eserlerden değildir?

- A) Medrese B) Şadırvan  
C) Malikâne D) Dar'ül-Aceze

15. Divan Edebiyatı'nda, Peygamberimiz'e duyulan sevgi ve saygıyı ortaya koyan, onu öven şiirlere ne ad verilir?

- A) Münacaat B) Na'at  
C) Mersiye D) Gazel

16. Bulunduğu il ve ilçelerde din hizmetlerinden birinci derece sorumlu kişi kimdir?

- A) Müftü  
B) Vaiz  
C) Baş İmam  
D) Diyanet İşleri Başkanı

17. İslam medeniyetinde, kağıt veya deri üzerine yapılan ışık, gölge ve derinliği olmayan küçük boyutlu ve renkli resimlere ne ad verilir?

- A) Ebru B) Tezhip  
C) Hüsnü Hat D) Minyatür

18. "Güneş kendi için belirlenen yörüngede akar. İşte bu aziz ve alim olan Allah'ın takdiridir. Ay için de bir takım menziller tayin ettik. Nihayet o, eğri hurma dalı gibi olur da geri döner. Ne güneş aya yetişebilir ne de gece gündüzü geçebilir. Her biri bir yörüngede yüzerler."  
(Yasin suresi, 38 – 40. ayetler.)

Bu ayetlerde aşağıdaki konulardan hangisine değinilmemiştir?

- A) Gök cisimlerinin zamanı hesaplamada ölçü olduğuna  
B) Güneş ve ayın uyumlu hareketine  
C) Evrende bir düzenin varlığına  
D) Evrenin başlangıç ve sonuna

19. Altın tozu ve boya kullanılarak sayfa kenarları, kitap başlıkları ve el yazması kitapların süslenmesi sanatına ne ad verilir?

- A) Tezhip  
B) Hüsnü Hat  
C) Minyatür  
D) Ebru

20. Aşağıdakilerden hangisi Osmanlı döneminde yapılan cami mimarisinin örnekleri arasında sayılamaz?

- A) Sultan Ahmet Camii  
B) Süleymaniye Camii  
C) Kocatepe Camii  
D) Selimiye Camii

### (117) DİN KÜL. AHL. BİL. – 7

1. Cenaze namazının şartları aşağıdaki seçeneklerden hangisinde doğru olarak verilmiştir?

- A) Kıyam - Kıraat  
B) Kıyam - Tekbirler  
C) Ruku - Secde  
D) Kıyam - Selam

2. Kur'an-ı Kerim'de kıyamet ile ilgili aşağıdaki bilgilerden hangisi yer almaz?

- A) Varlığı B) Tanımı  
C) Zamanı D) Oluş biçimi

3. Aşağıdaki meleklerin hangisi Sur'a üflemekle görevlidir?

- A) Azrail B) İsrail  
C) Mikail D) Cebrail

4. Aşağıdakilerden hangisinin dünyaya aşırı bağlılık göstermeyi daha çok engellediği söylenebilir?

- A) Kitaplara iman  
B) Meleklerle iman  
C) Kaza ve kadere iman  
D) Ahirete iman

## EK SINAV

5. “Kim zerre kadar hayır yapmışsa onu görür. Kim de zerre kadar şer işlemişse onu görür.”  
(Zilzal Suresi, 7 ve 8. ayetler)

**Bu ayetlerde aşağıdaki konulardan hangisinden bahsedilmektedir?**

- A) Hesap B) Sırat  
C) Haşır D) Sur

6. Günah ve hatalardan pişman olup bir daha yapmama konusunda Allah’a söz vermeyi ifade eden kavram aşağıdakilerden hangisidir?

- A) Dua B) Şükür  
C) Tövbe D) Tevekkül

7. Aşağıdakilerden hangisi tövbede aranan şartlardan değildir?

- A) Günahtan uzaklaşmak.  
B) Hatasından pişman olmak.  
C) Günahı işlememeye kararlı olmak.  
D) Hatalarını başkalarıyla paylaşmak.

8. Aşağıdaki durumların hangisinde tövbe etmenin kişiye faydası olmaz?

- A) Ölüm anında  
B) İhtiyarlık çağında  
C) Büyük günah işlediğinde  
D) İşlediği günahı tekrarladığında

9. Sahih-i Müslim ve Sahih-i Buhari adlı eserler aşağıdaki bilim dallarından hangisiyle ilgilidir?

- A) Hadis B) Kelam  
C) Tefsir D) Fıkıh

10. Aşağıdakilerden hangisi Hz. Peygamber’in Kur’an’ı açıklamak konusundaki görevlerinden biri değildir?

- A) Te’kid B) Tezat  
C) Teşrîf D) Tefsir

11. Aşağıdakilerden hangisi tasavvuf alanında meşhur sufilerden değildir?

- A) Beyazıd Bistami  
B) Hasan Basri  
C) Ahmet Rifai  
D) İmam Eşari

12. Aşağıdakilerden hangisi “Kütübü Sitte” diye bilinen altı hadis kitabından birisidir?

- A) Müsned  
B) Muvatta  
C) Sünen-i Tirmizi  
D) Sünen-i Darimi

13. İmam Rabbani ve Mevlana Halid’in temsil ettiği tasavvufi oluşum aşağıdakilerden hangisidir?

- A) Yesevilik  
B) Mevlevilik  
C) Nakşibendilik  
D) Kâdirilik

14. Kalbini manevi kirlerden temizleyen, Allah’tan başka her şeyi gönlünden çıkaran, ruhunu Allah’ın zikri ile süsleyen kişi aşağıdakilerden hangisi ile isimlendirilir?

- A) Mutasavvıf B) Mütefekkiri  
C) Mufessir D) Muhaddis

15. Aşağıdaki eserlerden hangisi Alevi - Bektaşî klasikleri arasında yer alır?

- A) Mesnevi  
B) Makalat  
C) Divan-ı Hikmet  
D) Kitabu’t Tevhit

16. Sultan Veled’in sistemleştirdiği ve yaymaya çalıştığı tasavvufi oluşum aşağıdakilerden hangisidir?

- A) Bektaşilik B) Mevlevilik  
C) Yesevilik D) Rifailik

17. Ben gelmedim dava için  
Benim işim sevgi için  
Dostun evi gönüllerdir  
Gönüller yapmaya geldim.  
(Yunus Emre)

**Bu dörtlüğün konusu aşağıdakilerden hangisidir?**

- A) Barış B) Edep  
C) Marifet D) Kanaat

18. Aşağıdakilerden hangisi Kербela’da şehit edilmiştir?

- A) Hz. Hasan B) Zeyn’ül Âbidin  
C) Hz. Ali D) Hz. Hüseyin

19. Aşağıdakilerden hangisi Alevilik - Bektaşilik’te yer almaz?

- A) Cem B) Sema  
C) Gülbeng D) Musahip

20. • XI. yüzyılın sonlarında Batı Türkistan’da doğmuştur.  
• Aslan Baba ve Şeyh Yusuf Hemadani hocalarıdır.  
• Sözleri “Divan-ı Hikmet” adlı eserinde toplanmıştır.

**Hakkında bilgi verilen din âlimi aşağıdakilerden hangisidir?**

- A) Hoca Ahmet Yesevi  
B) Abdulkadir Geylani  
C) Bahaeddin Nakşibendi  
D) Mevlana Celaleddin Rumi

(118) DİN KÜL. AHL. BİL. – 8

1. Aşağıdakilerden hangisinin İslam düşüncesinde yeri yoktur?

- A) Antlaşmalara sadık kalmak.  
B) Haksızlığa aynısıyla karşılık vermek.  
C) İnsanlara iyi ve güzeli tavsiye etmek.  
D) Kendisi için istediğini kardeşi için de istemek.

2. Peygamberimizin gençliğinde üyesi olduğu, zulümlere karşı çıkmak amacıyla kurulan barış teşkilatı aşağıdakilerden hangisidir?

- A) Ashab-ı Suffe  
B) Hilful Fudul  
C) Akabe Görüşmeleri  
D) Medine Sözleşmesi

## EK SINAV

3. Aşağıdakilerden hangisi İslam'a göre savaşmayı haklı kılan sebeplerden değildir?

- A) Toprakları genişletmek
- B) Barışa katkı sağlamak.
- C) Nefsi müdafaa etmek.
- D) Hak ve hürriyetleri korumak.

4. Bir şehirde farklı dinlere ait mabetlerin bulunması aşağıdakilerden hangisinin varlığına işaret etmez?

- A) Barış
- B) Hoşgörü
- C) Taassup
- D) Birlikte yaşama kültürü

5. Aşağıdakilerden hangisi din öğretimiyle ilgili Atatürk'ün görüşleri arasında yer almaz?

- A) Dinin okullarda öğretilmesi.
- B) Din öğretiminin ehil kimseler tarafından verilmesi.
- C) Devletin dini görevleri yerine getirecek memurlar yetiştirilmesi.
- D) Din görevlilerinin maaşlarının halk tarafından karşılanması.

6. Atatürk'ün dinin doğru anlaşılması ve topluma doğru bir şekilde anlatılması için başlattığı çalışmalarından biri de Kur'an-ı Kerim tefsiri yazdırmasıdır.

**Bu çerçevede Türk toplumunun dinini asıl kaynaktan öğrenmesi için yazdırılan "Hak Dini Kur'an Dili" adlı Türkçe tefsir kim tarafından yazılmıştır?**

- A) Hasan Basri Çantay
- B) Konyalı Mehmed Vehbi
- C) Babanzade Ahmet Naim
- D) Elmalılı Muhammed Hamdi Yazır

7. Aşağıdakilerden hangisi **Tevhid-i Tedrisat Kanunu**'yla gelen yeniliklerdendir?

- A) Milli Eğitim Bakanlığı'nın kurulması
- B) Medreselerdeki eğitimin modernize edilmesi
- C) Tekke ve zaviyelerin birleştirilmesi
- D) Din öğretiminin Diyanet İşleri Başkanlığı'na bırakılması

8. Atatürk'ün din eğitiminin verilmesini istediği yer aşağıdakilerden hangisidir?

- A) Okullar
- B) Tekkeler
- C) Külliye
- D) Medreseler

9. Hristiyanlıkta Baba, Oğul ve Kutsal Ruh'tan oluşan tanrı inancına ne denir?

- A) Vaftiz
- B) İkon
- C) Teslis
- D) Aforoz

10. Yahudilerin ibadet esnasında başlarına taktıkları takke'ye ne denir?

- A) Kipa
- B) Havra
- C) Tanah
- D) Mişna

11. Hristiyanlık'ta yeni doğan bebeklerin ve Hristiyanlık dinine girecek olanların kutsal su ile yıkanıp günahattan arınması için yaptıkları ayine ne denir?

- A) Evharistiya
- B) Vaftiz
- C) Afaroz
- D) Paskalya

12. Yedi kollu şamdan aşağıdaki dinlerden hangisinin sembolüdür?

- A) Budizm
- B) Yahudilik
- C) Hristiyanlık
- D) Konfüçyanizm

13. Aşağıdakilerden hangisi İslam dininin inanç esaslarından biridir?

- A) Oruç tutmak
- B) Güzel ahlak sahibi olmak
- C) Günahlardan tevbe etmek
- D) Bütün peygamberlere inanmak

14. İslam dini için aşağıdakilerden hangisi söylenemez?

- A) Son ilahi dindir.
- B) Mesajları bölgeseldir.
- C) İnsanların günahsız doğduğu kabul edilir.
- D) Kutsal kitabı hiçbir değişikliğe uğramamıştır.

15. Aşağıdaki dinlerden hangisinde din kurucusuna rastlanmaz?

- A) Sihizm
- B) Caynizm
- C) Şintoizm
- D) Taoizm

16. Aşağıdakilerden hangisi Tevhit inancının esasını oluşturur?

- A) Ahiret inancı
- B) Allah inancı
- C) Melek inancı
- D) Kitap inancı

17. İlk kabile dinlerinde aşağıdakilerden hangisine rastlanmaz?

- A) Büyücülere
- B) Tanrı inancına
- C) Kutsal kitaba
- D) Din adamlarına

18. Paskalya Bayramı aşağıdaki dinlerin hangisine aittir?

- A) Hinduizm
- B) Sihizm
- C) Hristiyanlık
- D) Yahudilik

19. Aşağıdaki ibadetlerden hangisi Hristiyanlık'ta yoktur?

- A) Kurban
- B) Sadaka
- C) Oruç
- D) Hac

20. Aşağıdakilerden hangisi İslamiyet ve Yahudilik arasındaki ortak noktalardan biridir?

- A) Vahye dayalı dinlerdir.
- B) Aynı kıbleye yönelirler.
- C) Hac mekanları ortaktır.
- D) Millî bir din anlayışı vardır.

### (121) FELSEFE – 1

1. Özne (bilen) ile nesne (bilinen) arasındaki karşılıklı ilişkinin sonucu olan ürün aşağıdakilerden hangisidir?

- A) Doğa
- B) Bilgi
- C) Varlık
- D) İnsan

2. Aşağıdakilerden hangisi felsefe bilgisinin özelliklerinden değildir?

- A) Sonuçlarının kesin olması
- B) Düzenli ve sistemli olması
- C) Akla dayanması
- D) Eleştireci olması

## EK SINAV

3. Aşağıdakilerden hangisi felsefe ile bilimin ortak özelliklerindendir?

- A) Sonuçlarının kesin olması
- B) Deneye dayanması
- C) Objektif olması
- D) Akla dayanması

4. Aşağıdaki sorulardan hangisi bilim adamından daha çok filozofu ilgilendirir?

- A) Varlık var mıdır?
- B) Doğa olaylarının nedenleri nelerdir?
- C) Toplumsal değişimin nedenleri nelerdir?
- D) Küresel ısınmayı önlemek için ne tür çalışmalar yapılmalıdır?

5. “Suje” kavramının tanımı aşağıdakilerden hangisidir?

- A) Bilgisini edinmek için yöneldiğimiz herşeydir.
- B) Belli bir zamanda ve mekanda var olan herşeydir.
- C) Bilgiyi ortaya koymak için nesneye yönelen öznedir.
- D) Özne ile nesne arasındaki ilişkinin sonucunda ortaya çıkan üründür.

6. • “Akla dayanan bilgi doğru bilgidir.”  
• “Deneye dayanan bilgi doğru bilgidir.”  
• “Sezgiye dayanan bilgi doğru bilgidir.”

Yukarıda verilenler öncelikle aşağıdaki sorulardan hangisine verilmiş yanıtlardandır?

- A) Bilimsel yöntemin özellikleri nedir?
- B) Varlığın ana maddesi nedir?
- C) Doğru bilginin ölçütü nedir?
- D) Gerçeklik nedir?

7. Aşağıdakilerden hangisi, kesin ve doğru bilginin mümkün olmadığını savunan görüşlerden biridir?

- A) Rasyonalizm
- B) Entüisyonizm
- C) Kritisizm
- D) Septisizm

8. R. Descartes’a göre; Zihnimizin duyumlarla ve deneyle elde ettiği bilgiler her zaman açık seçik değildir. Doğuştan gelen bilgiler genel geçer ve doğru bilgilerdir.”

**Bu görüşleriyle Descartes doğru bilginin kaynağı olarak aşağıdakilerden hangisini göstermektedir?**

- A) Duyum
- B) Deney
- C) Fayda
- D) Akıl

9. “Felsefe varlık, değer ve Tanrı üstüne doğruluğu test edilemeyen görüşler öne sürmemelidir. Felsefenin görevi dildeki kavramları çözümlenektir. Dildeki kavramlar çözümlendiği takdirde kafa karışıklığı yaratan geleneksel felsefe problemleri de çözümlenebilir.”

**Bu görüş hangi felsefe akımına aittir?**

- A) Fenomenoloji
- B) Analitik Felsefe
- C) Rasyonalizm
- D) Pragmatizm

10. Auguste Comte’a göre dış dünyaya ait “pozitif bilgi” nasıl kazanılır?

- A) Akılla
- B) Sezgiyle
- C) Gözlem ve deneyle
- D) Metafizik güçlerle

11. Bilgilerimizin kaynağının yalnızca deney olduğu görüşünde olan düşünürler hangisinde birlikte verilmiştir?

- A) Protagoras-Gorgias
- B) John Locke - David Hume
- C) Immanuel Kant - John Locke
- D) Friedrich Hegel - Immanuel Kant

12. İlkçağlarda tüm bilimleri kapsayan disiplin aşağıdakilerden hangisidir?

- A) Matematik
- B) Felsefe
- C) Mantık
- D) Fizik

13. XIX. yüzyıl bilimin sanayi alanına uygulandığı bir dönem olmuştur. Teknolojinin gelişmesi bilimsel araştırmalarda yeni ufuklar açmıştır. Fizikte ışığın yayılması ve dalga kuramı; kimyada atomla ilgili çalışmalar, enerjinin korunumu yasası ve termodinamik yasası gibi gelişmeler sayılabilir. Bu dönem aynı zamanda bilimlerin felsefeden ayrılma sürecinin tamamlandığı bir dönem olmuştur.

**Buna göre XIX. yüzyıl bilimi ile ilgili olarak aşağıdakilerden hangisi söylenemez?**

- A) Yeni bilim dallarının ortaya çıktığı bir dönemdir.
- B) Bilim alanındaki buluşların yoğun olduğu bir dönem olmuştur.
- C) Bilimsel çalışmalar felsefenin içinde yapılmaya devam etmiştir.
- D) Bilimsel alandaki gelişmelerin sanayi alanına uygulanmaya başlandığı bir dönemdir.

14. • Bilim insanları topluluğu, içinde yaşadıkları toplumun değer sisteminden bağımsız bilim üretmezler.  
• Paradigma kavramını bilim felsefesi literatürüne kazandırmıştır.  
• Bilimi, bilim insanları topluluğunun bir etkinliği olarak değerlendirir.

**Yukarıda düşüncelerinden bazıları verilen düşünür hangisidir?**

- A) Thomas Kuhn
- B) Edmund Husserl
- C) Rudolf Carnap
- D) Carl Gustav Hempel

15. Bilimin ürünü olan bilgi, onu ortaya koyan bilim insanının inançlarından, kişisel kanaatlerinden, dünya görüşünden bağımsız bir bilgidir. Bilimsel bilgi kişiden kişiye ya da toplumdan topluma değişmez.

**Yukarıda bilimsel bilginin hangi özelliği anlatılmaktadır?**

- A) Olgusalılığı
- B) Rölatifliği
- C) Eleştireliliği
- D) Objektifliği

## EK SINAV

16. Bilim ve teknoloji yalnızca olumlu, yaşamı kolaylaştıran sonuçlar üretmez. İnternet ve cep telefonları bir yandan iletişimi kolaylaştırırken bir yandan da bağımlı bireyler meydana getirmekte, sosyalleşmeyi sanal ortamlarda yaşayan sorunlu bireyler yaratmaktadır. Bilim, olumlu ve yapıcı bir biçimde kullanıldığı zaman da olumsuz sonuçlar doğurduğu zaman da yaşamı doğrudan etkilemektedir.

**Yukarıda bilim ve teknolojinin hangi özelliği vurgulanmaktadır?**

- A) Bilim ve teknoloji ürünlerinin hep insanlığın yararına olduğu  
B) Bilim ve teknolojinin insanı ve insan ilişkilerini tahrip edici bir yanının da olduğu  
C) Teknolojiyi kullanmayanların daha sağlıklı sosyalleştikleri  
D) Teknolojik aygıtları kullanmanın gereksizliği

17. Aşağıdakilerden hangisi varlık felsefesinin sorularından biri değildir?

- A) Varlığın kökeni nedir?  
B) Evrende bir düzen var mıdır?  
C) Varlık bir midir, çok mudur?  
D) Doğru bilgiye ulaşmak mümkün müdür?

18. Varlığı idea olarak kabul eden düşünürler aşağıdakilerin hangisinde birlikte verilmiştir?

- A) Herakleitos – Platon  
B) T. Hobbes – K. Marx  
C) Aristoteles – Farabi  
D) Hegel – Demokritos

19. • İki çeşit varlık vardır; mümkün varlık ve zorunlu varlık(Vacibü'l Vücut)  
• Mümkün varlıklar varoluşlarını ilk varlık olan Tanrı'dan alırlar.  
• Zorunlu varlık ise bir ve gerçek olan Tanrıdır. Tanrı var olmak için bir başka varlığa ihtiyaç duymaz.

**Yukarıdaki görüşler hangi düşünürü aittir?**

- A) Farabi B) Descartes  
C) Sokrates D) Demokritos

20. Aşağıdakilerden hangisi Platon'un varlık konusundaki görüşlerindendir?

- A) Her şey sürekli değişim ve dönüşüm içerisinde.  
B) Gerçekte var olan varlıklar ideallerdir. Nesneler dünyasındaki varlıklar ise ideaların kopyasıdır.  
C) Gerçekte var olan idea yani formdur. Form ise bir şeyi her ne ise o şey yapan özür.  
D) Varlık insan zihninden bağımsız olarak vardır. Maddi varlık dışında bir varlık yoktur.

### (122) FELSEFE – 2

1. Aşağıdakilerden hangisi ahlak felsefesinin temel kavramlarından?

- A) Meşruiyet B) Kutsal  
C) Erdem D) Güzel

2. Arkadaşına yaptığı olumsuz bir davranıştan dolayı kişinin ileride pişmanlık ve üzüntü duyması hangi kavramla ifade edilir?

- A) Vicdan B) Erdem  
C) Sorumluluk D) Özgürlük

3. Aşağıdakilerden hangisi ahlak yargılarının özelliklerinden değildir?

- A) Estetik beğeni ile ilgili yargılardır.  
B) Yaptırım gücüne sahiptir.  
C) Kişiden kişiye değişebilir.  
D) Kural koyucudur.

4. I. Kant'ın ahlaki eylem konusundaki görüşü aşağıdakilerden hangisidir?

- A) Bir eylemin iyi ideasına uygun olup olmadığına bakarak karar verebiliriz.  
B) Bir eylem, ödev duygusuyla yapılmış ise ahlaki eylemdir.  
C) Bir eylem çıkara dayanmalıdır.  
D) Ahlaki eylemin amacı mutludur.

5. "İnsanın var oluşu, onun özünden önce gelir. Buna göre insan önce vardır, sonra şöyle ya da böyle olur, çünkü özünü kendi oluşturabilme özelliğine sahiptir."

**Bu görüşüyle Jean Paul Sartre hangi felsefi yaklaşımın temsilcilerindendir?**

- A) Varoluşçuluk B) Faydacılık  
C) Sezgicilik D) Hazcılık

6. I- Mevlana  
II- Yunus Emre  
III- Hacı Bektaş Veli

**Yukarıda verilenlerden hangileri, evrensel ahlak yasasını tasavvuf düşüncesiyle temellendirmiştir?**

- A) I ve II B) I ve III  
C) II ve III D) I, II ve III

7. "Kamuda ya da kamu emrinde çalışan ve hiyerarşik bir düzen içinde örgütlenmiş memurlar topluluğudur."

**Tanımı verilen kavram hangisidir?**

- A) Sivil toplum B) Bürokrasi  
C) Meşruiyet D) Hukuk

8. Yönetimin geçerlilik ölçütleri, din – devlet ilişkileri, hukuk sistemi, insan hakları, devlet ile birey arasındaki ilişkileri ele alan felsefe dalı hangisidir?

- A) Siyaset felsefesi  
B) Ahlak felsefesi  
C) Varlık felsefesi  
D) Din felsefesi

9. Max Weber'e göre, demokratik otoritenin kaynağı aşağıdakilerden hangisidir?

- A) Karizmatik lider  
B) Toplumdaki gelenekler  
C) Yazılı hukuk kuralları  
D) Toplumdaki inançlar

## EK SINAV

10. Düşünce ve ekonomik alanda serbest girişim özgürlüğü başta olmak üzere tüm etkinlik alanlarında özgürlüğü temel ilke olarak kabul eden yaklaşımdır hangisidir?

- A) Sosyalizm B) Septisizm  
C) Liberalizm D) Empirizm

11. Protagoras'a göre "her şeyin ölçüsü insandır. Her şeyin ölçüsü insan olduğuna göre bütün insanların kabul edebileceği bir kural, sistem olamaz."

**Buna göre, Protagoras'ın ideal bir düzen konusunda aşağıdakilerden hangisini savunduğu söylenebilir?**

- A) İdeal bir toplum düzeni demokrasi ile gerçekleşir.  
B) İdeal bir toplum düzeni yoktur.  
C) İdeal toplum düzeni yasalarla sağlanabilir.  
D) İdeal toplum düzeni toplumun değerlerine göre kurulmalıdır.

12. Aşağıdakilerden hangisi, gelecekte toplumu bekleyen tehlikelere dikkat çekmek isteyen korku ütopalarına örnek olarak gösterilir?

- A) Aldous Huxley'in "Yeni Dünya"sı  
B) Farabi'nin "Erdemli Toplum"u  
C) Campanella'nın "Güneş Ülkesi"  
D) Platon'un "İdeal Devlet"i

13. 11. Yüzyılda yaşamış, birey, devlet ve yaşamı konu alan "Kutadgu Bilig (mutluluk veren kitap)" adlı eseriyle ün kazanmış Türk düşünürü hangisidir?

- A) Farabi  
B) Platon  
C) İbn-i Sina  
D) Yusuf Has Hacip

14. Aşağıdakilerden hangisi estetiğin temel sorularındandır?

- A) Evren yaratılmış mıdır?  
B) İdeal bir düzen var mıdır?  
C) Ahlaki eylemin amacı var mıdır?  
D) Ortak bir güzellik anlayışına ulaşılabilir mi?

15. Sanatçı dışarıdan almış olduğu izlenimlerle işe başlar ve bu izlenimler sanatçı için ham bir malzemedir. Sanatçı bu ham malzemeleri işler, dönüştürür ve bir sentez haline getirir.

**Bu düşünceye göre sanatçı eserlerini aşağıdakilerden hangisine göre oluşturur?**

- A) Oyun olarak sanat.  
B) Yaratma olarak sanat.  
C) Taklit olarak sanat.  
D) Yansıtma olarak sanat.

16. Aşağıdakilerden hangisi estetik yargılar için söylenemez?

- A) Estetik yargılar bireyseldir.  
B) Estetik yargılar subjektiftir.  
C) Estetik yargılar doğru ve yanlış biçiminde değerlendirilir.  
D) Estetik yargılar kültürel özelliklerden etkilenir.

17. Renkler, şekiller ve sesler kişiler tarafından farklı şekilde değerlendirilir. Kimse kendisinin güzel bulduğunu başkalarının da güzel bulmasını bekleyemez.

**Bu düşünce estetik yargıların hangi özelliğini ifade eder?**

- A) Estetik yargılar zaman içinde değişikliğe uğrayabilir.  
B) Estetik yargılar kültürden etkilenir.  
C) Estetik yargılar zorunludur.  
D) Estetik yargılar subjektiftir.

18. Teoloji belirli bir dini temel alır ve incelediği dinin kuralları sistemini doğru olarak kabul eder. Her dini kendine özgü tarihi, konusu ve problemleriyle ele alıp inceler.

Din felsefesi ise genel olarak dinin doğası, dinsel inancın yapısı, dinin insan yaşamındaki yeri gibi konuları nesnel bir yaklaşımla ele alır.

**Buna göre teolojinin din felsefesinden farkı aşağıdakilerden hangisidir?**

- A) Dinleri genel olarak ele alır.  
B) Dinsel inancın dayandığı temelleri inceler.  
C) Kendi inandığı dinin inançlarını sorgulamaz.  
D) Bütün dinlere bakış açısı eşit mesafedir.

19. Tanrı'nın kendi varlığı ve buyruklarını dolaylı ya da dolaysız olarak peygamberler aracılığı ile duyurması aşağıdakilerden hangi kavramla ifade edilir?

- A) İman B) Vahiy  
C) Kutsal D) Peygamber

20. Aşağıdakilerden hangisi tanrının varlığını kabul eden görüşlerden değildir?

- A) Teizm B) Deizm  
C) Panteizm D) Ateizm

### (123) SEÇMELİ FELSEFE – 1

1. Aşağıdaki sorulardan hangisi felsefe sorusu değildir?

- A) Güzel nedir?  
B) Bilgilerimizin kaynağı nedir?  
C) İnsanın bu evrendeki yazgısı nedir?  
D) Toplumsal denetim kuralları nelerdir?

2. Aşağıdakilerin hangisinde formel bilimler birlikte verilmiştir?

- A) Felsefe – Sosyoloji  
B) Mantık – Matematik  
C) Antropoloji – Psikoloji  
D) Fizik – Kimya

3. Aşağıdakilerden hangisi felsefe ve bilimin ortak özelliklerinden değildir?

- A) Kesin sonuçlara ulaşma  
B) Eleştirel tavır takınma  
C) Akla ve mantığa dayanma  
D) Dünyayı ve insanı anlamaya çalışma

4. • Bilgilerimiz doğuştan mıdır?  
• Bilgilerimiz sonradan mı kazanılıyor?  
• Bilgilerimizin sınırı nedir?

**Bu soruları soran ve yanıt arayan felsefe dalı hangisidir?**

- A) Varlık felsefesi  
B) Bilgi felsefesi  
C) Din felsefesi  
D) Bilim felsefesi

## EK SINAV

5. Açık – seçik bilgiye ulaşmak için şüpheyi metod olarak kullanan 17. yüzyıl filozofu hangisidir?

- A) Protagoras B) Demokritos  
C) Descartes D) Locke

6. İnsan bilgisinin doğuştan geldiğini savunan, bunu kanıtlamak için matematik bilmeyen bir kimseye konuşma esasına dayanan diyalektik yöntemini kullanarak geometri problemini çözdüren filozof aşağıdakilerden hangisidir?

- A) Sokrates B) Aristoteles  
C) Farabi D) Hume

7. Felsefenin asıl uğraş alanı dildir. Felsefenin görevi dil çözümlemeleri yapmaktır. Dildeki kavramlar çözümlendiği taktirde kafa karışıklığı oluşturan geleneksel felsefe problemleri de çözümlenebilir.

**Yukarıdaki görüşü savunan düşünce akımı hangisidir?**

- A) Pozitivizm  
B) Rasyonalizm  
C) Septisizm  
D) Analitik Felsefe

8. Aşağıdaki düşünce akımlarından hangisinin anlamı yanlış verilmiştir?

- A) Pozitivizm – Olguculuk  
B) Entüisyonizm – Sezgicilik  
C) Rasyonalizm – Deneycilik  
D) Pragmatizm – Faydacılık

9. Aşağıdakilerden hangisi empirizm düşüncesine ait bir görüş olamaz?

- A) Bilginin kaynağı deney ve tecrübelerdir.  
B) İnsan zihni doğuştan boş bir levha gibidir.  
C) Doğru bilgiye sadece akılla ulaşılabilir.  
D) Bilgilerimizin kaynağı, yalnızca duyu organlarının faaliyetlerine bağlıdır.

10. “Gerçekler, insan yaşamında işe yarayan ve faydalı olan şeylerdir. Gerçeklerin değeri mutlak değil, insanlara sağladığı faydadır.”

**Bu görüşü savunan düşünce akımı hangisidir?**

- A) Analitik felsefe  
B) Pragmatizm  
C) Fenomenoloji  
D) Kritisizm

11. Bilimin konusunu, ulaştığı sonuçları ve yöntemini sorgulayan felsefe dalı aşağıdakilerden hangisidir?

- A) Varlık felsefesi  
B) Mantık felsefesi  
C) Bilgi felsefesi  
D) Bilim felsefesi

12. Aşağıdakilerden hangisi bilim felsefesinin incelediği konulardan değildir?

- A) Bilimsel kuramlarla gerçeklik arasındaki ilişkiyi incelemek  
B) Bilimsel düşünüş biçimini felsefeye uyarlamak  
C) Bilimin yapısını ve doğasını incelemek  
D) Bilimde yöntem problemini incelemek

13. Ortaçağda bilimsel çalışmalarla ilgili olarak aşağıda verilen bilgilerden hangisi yanlıştır?

- A) Avrupa karanlık bir dönem yaşarken İslam kültür çevresinde bilim alanında tam bir aydınlık dönem yaşanıyordu.  
B) Yalnızca dinsel düşünce ön plana çıkmış, bilim ve felsefe dinsel otoritenin izin verdiği kadar gelişebilmiştir.  
C) Bu dönemde filozoflar yoğun olarak mantık tartışmaları yapmışlardır.  
D) Bu dönemde bilimin Hristiyanlığın etkisinden kurtulduğu görülür.

14. Bilimi, ürün olarak anlamaya çalışan Mantıkçı pozitivistler olarak da bilinen yaklaşımın temsilcileri hangisinde birlikte verilmiştir?

- A) H. Reichenbach – R. Carnap  
B) H. Reichenbach – S. Toulmin  
C) T. Kuhn – C. G. Hempel  
D) T. Kuhn – S. Toulmin

15. Bilimi bilim insanları topluluğunun bir etkinliği olarak gören bu yaklaşıma göre bilim, yapıldığı dönemin değerlerinden, inançlarından bağımsız değildir. Bilim insanları bulunduğu toplum ve çağın inanç, değer ve kültürel değişimlerinden etkilenmektedirler.

**Yukarıdaki metinde bilimi etkinlik olarak kabul edenlerin hangi özelliği vurgulanmaktadır?**

- A) Bilim insanları çalışmalarında objektif olmak zorundadırlar.  
B) Bilim insanları bilimsel çalışmalarında ortak hareket etmelidirler.  
C) Bilim insanı yaşadığı toplumun değerlerinden bağımsız bilim üretemez.  
D) Bilim insanı kendisinden önceki bilim adamlarının birikimlerinden yararlanmalıdır.

16. Aşağıdakilerden hangisi bilimsel yöntemin aşamalarından değildir?

- A) Gözlem yapma  
B) Hipotez oluşturma  
C) Teori geliştirme  
D) Olması gerekene ulaşma

17. Varlığı bir bütün olarak ele alıp açıklamaya çalışan disiplinler aşağıdakilerin hangisinde birlikte verilmiştir?

- A) Metafizik - Fizik  
B) Ontoloji – Metafizik  
C) Epistemoloji – Ontoloji  
D) Matematik – Fizik

18. • Bilgi felsefesinde her tür bilginin bir aldanma olduğunu, bilginin olmadığını  
• Ahlak felsefesinde insan eylemlerini belirleyen değerlerin olmadığını  
• Varlık felsefesinde hiçbir şeyin var olmadığını savunan felsefi öğretisi hangisidir?

- A) İdealizm B) Realizm  
C) Nihilizm D) Kritisizm

19. Varlığın hem madde hem de düşüncenin ürünü olduğunu savunan düşünür aşağıdakilerden hangisidir?

- A) Descartes B) Herakleitos  
C) Demokritos D) Hegel

## EK SINAV

20. Herakleitos'a göre "iki kez yıkana-mazsınız aynı ırmakta, üzerinde akan sular şimdi yeni sulardır. Gerçekte akıp giden sular her seferinde onu başka bir ırmak yapmaktadır."

**Bu durum varlığın ne olduğu sorusuna cevap veren hangi görüşe örnek olur?**

- A) Varlığı madde olarak kabul eden görüşe  
B) Varlığı oluş olarak kabul eden görüşe  
C) Varlığı idea olarak kabul eden görüşe  
D) Varlığı fenomen olarak kabul eden görüşe

### (124) SEÇMELİ FELSEFE – 2

1. • İnsan eylemlerini ahlaki bakımdan denetleyen bir çeşit içsel mahkemedir.  
• Ahlaki açıdan uyulması zorunlu ya da gerekli olan genel geçer kurallardır.

**Yukarıda tanımları verilen kavramlar hangisinde birlikte yer almıştır?**

- A) Vicdan – Özgürlük  
B) Vicdan – Ahlak yasası  
C) Sorumluluk – Özgürlük  
D) Erdem– Ahlaki eylem

2. İnsanın kararlarında ve eylemlerinde özgür olduğunu, iyi, kötü, değerli ve değersiz arasındaki seçimi kendi iradesiyle özgürce yaptığını savunan yaklaşım aşağıdakilerden hangisidir?

- A) İndeterminist yaklaşım  
B) Hedonist yaklaşım  
C) Determinist yaklaşım  
D) Sezgisel yaklaşım

3. I. Eylem alanıyla ilgili yargılardır.  
II. Yaptırım gücü vardır.  
III. Akla değil duygulara dayanır.

**Yukarıda verilenlerden hangisi ya da hangileri ahlak yargılarının özelliklerinden değildir?**

- A) Yalnız I  
B) Yalnız II  
C) Yalnız III  
D) I ve III

4. Sokrates'e göre, ahlaki eylemin amacı nedir?

- A) Haz  
B) Fayda  
C) Ödev  
D) Mutluluk

5. I. Bencilik  
II. Anarşizm  
III. Sezgicilik

**Yukarıda verilenlerden hangisi ya da hangileri evrensel ahlak yasasının varlığını reddeden yaklaşımlardandır?**

- A) Yalnız I  
B) Yalnız III  
C) I ve II  
D) II ve III

6. İnsanın sezgi ve aşk yoluyla Tanrı'ya ulaşabileceğini, onunla bütünleşebileceğini savunan öğretiyi aşağıdakilerden hangisidir?

- A) Tasavvuf  
B) Akılcılık  
C) Faydacılık  
D) Hazcılık

7. • İktidar veya devlet tarafından, bireyler arası ilişkileri düzenlemek amacıyla konulan kurallardır.  
• Devletin iktidar gücünü hiçbir baskı olmadan kullanabilmesidir.  
• Bireyin başka birey veya kurumlardan isteyebileceği şeylerdir.

**Yukarıda hangi kavramın tanımı verilmemiştir?**

- A) Egemenlik  
B) Devlet  
C) Yasa  
D) Hak

8. Max Weber'in, iktidarın kaynağını liderin sahip olduğuna inanılan olağanüstü niteliklerine bağladığı otorite türü aşağıdakilerden hangisidir?

- A) Hukuksal otorite  
B) Karizmatik otorite  
C) Geleneksel otorite  
D) Demokratik otorite

9. Aşağıdakilerden hangisi ideal bir düzenin olabileceğini reddeden "nihilizm" görüşünün temsilcilerindendir?

- A) Platon  
B) Farabi  
C) Adam Smith  
D) Friedrich Nietzsche

10. Demokratik otoritenin kaynağı aşağıdakilerden hangisidir?

- A) Gelenekler  
B) Karizmatik liderler  
C) Yerleşik inançlar  
D) Yazılı hukuk kuralları

11. Zihinde tasarlanmış, gerçekleşmesi çok fazla mümkün olmayan düşsel veya ideal bir toplum düzenini ifade eden kavram aşağıdakilerden hangisidir?

- A) Bürokrasi  
B) Karmaşa  
C) Ütopya  
D) Birey

12. • Egemenlik soylu küçük bir azınlığın elindedir.  
• Egemenlik halkın çoğunluğunun elindedir.  
• Tek bir kişinin ülkeyi yasalara uygun olarak yönetmesidir.

**Yukarıda tanımları verilen kavramlar hangisinde birlikte verilmiştir?**

- A) Aristokrasi - Monarşi - Despotizm  
B) Aristokrasi - Demokrasi - Monarşi  
C) Teokrasi - Monarşi - Demokrasi  
D) Monarşi - Teokrasi - Aristokrasi

13. Aşağıdakilerden hangisi korku ütopyelerine örnek olabilir?

- A) İbn-i Tufeyl - Hay bin Yakzan  
B) Thomas More - Ütopya  
C) Aldous Huxley - Yeni Dünya  
D) Platon - İdeal Devlet

14. "Güzel" in ne olduğunu sorgulayan felsefe dalı aşağıdakilerden hangisidir?

- A) Etik  
B) Estetik  
C) Epistemoloji  
D) Ontoloji



## EK SINAV

### (131) TARİH – 1

15. Aşağıdakilerden hangisi sanatı “oyun” olarak açıklayan düşünceye ait bir görüştür?

- A) Sanat, sanatçının nesneleri taklit etmesidir.
- B) Sanatla oyun arasında benzerlik vardır.
- C) Sanatçı sanat eserine kendi yeteneği ve hayal gücünü katar.
- D) Sanat gerçeğin taklididir.

16. Aşağıdakilerden hangisi estetik yargının özelliklerinden değildir?

- A) Kültürden etkilenir
- B) Bireyseldir
- C) Subjektiftir
- D) Nesneldir

17. Ortak estetik yargıların varlığını reddeden düşünür aşağıdakilerden hangisidir?

- A) Croce
- B) Baumgarten
- C) Kant
- D) Platon

18. Aşağıdakilerden hangisi, din felsefesinin temel sorularından değildir?

- A) Evren yaratılmış mıdır?
- B) Ruh ölümsüz müdür?
- C) Erdem nedir?
- D) Tanrı var mıdır?

19. Tanrı ile evreni bir ve aynı şey olarak kabul eden, Tanrının evrenden ayrı bir varlığının bulunmadığını öne süren yaklaşım hangisidir?

- A) Teizm
- B) Deizm
- C) Ateizm
- D) Panteizm

20. “Dünyadaki amaçlılık ve düzenden yola çıkılarak bir Tanrı'nın varlığına ulaşılır. Bu düzenin bir yapıcısı olması gerektiği düşüncesinden hareketle Tanrı kanıtlanmaya çalışılır.”

Tanrı'nın varlığını kabul edenlerin öne sürdüğü bu kanıt aşağıdakilerden hangisiyle ifade edilir?

- A) Ereklilik kanıtı
- B) Kozmolojik kanıt
- C) Ontolojik kanıt
- D) Ahlaki kanıt

1. “Geçmişte yaşamış insan toplumlarının yaşayışlarını, birbirleri ile olan ilişkilerini, kültür ve medeniyetlerini yer ve - - - - göstererek, sebep-sonuç belirterek belgelere dayalı olarak inceleyen bir bilim dalıdır.”

Verilen tarih tanımında boş bırakılan yere, aşağıdakilerden hangisi yazılmalıdır?

- A) Zaman
- B) Olay
- C) Olgu
- D) Tasnif

2. Aşağıdaki faaliyetlerden hangisi, tarihin konusu içerisinde yer almaz?

- A) Siyasal
- B) Kültürel
- C) Astronomi
- D) Dini

3. Aşağıdakilerden hangisi, tarihin zamana göre sınıflandırılmasına örnektir?

- A) Türkiye Tarihi
- B) Orta Çağ Tarihi
- C) Avrupa Tarihi
- D) Tıp Tarihi

4. Osmanlı Devleti'nde mali alanda - - - - takvim kullanılırken; gündelik hayatta ise hicri takvim kullanılırdı.

Verilen bilgi cümlesinde boş bırakılan yere, aşağıdakilerden hangisi gelmelidir?

- A) Celali
- B) Miladi
- C) Rumi
- D) Selimi

5. Kullandığı “Karbon 14” metoduyla tarihî buluntuların madde yapısını inceleyerek, buluntuların ait olduğu dönemi belirlemeye çalışan tarihe yardımcı bilim dalı, aşağıdakilerden hangisidir?

- A) Coğrafya
- B) Nüvizmatik
- C) Sanat Tarihi
- D) Kimya

6. Tarihî olayların zamanının belirlenmesinde ve sıralanmasında tarihe yardımcı olan bilim dalı, aşağıdakilerden hangisidir?

- A) Edebiyat
- B) Nüvizmatik
- C) Kronoloji
- D) Coğrafya

7. Mısır uygarlığında bütün yetkileri elinde bulunduran Tanrı-Krallara verilen isim aşağıdakilerden hangisidir?

- A) Firavun
- B) Patesi
- C) Hammurabi
- D) İmparator

8. Aşağıdakilerden hangisi Anadolu'da tarih boyunca birçok uygarlığın kurulmasının nedenlerinden biri değildir?

- A) Anadolu'nun Asya ile Avrupa'yı birbirine bağlaması
- B) Anadolu'nun uygun iklimi ve toprak yapısı
- C) Anadolu'nun Doğu ile Batı arasında köprü olması
- D) Anadolu'nun Hristiyanlar tarafından kutsal sayılması

9. Eski Türklerde ülke doğu ve batı olmak üzere ikiye ayrılarak yönetilmiştir.

Aşağıdakilerden hangisi bu durumun temel nedenidir?

- A) Devletin askerî gücünü artırmak
- B) Devlet yönetimini kolaylaştırmak
- C) Devletin ekonomik gücünü artırmak
- D) Devletin topraklarını genişletmek

10. Türklerde ilk düzenli orduyu kuran ve orduyu onluk, yüzlük, binlik bölümlere ayıran Asya Hun Devleti hükümdarı aşağıdakilerden hangisidir?

- A) Mete
- B) Teoman
- C) Ki-ok
- D) Uldız

11. Aşağıdakilerden hangisi, Orta Asya uygarlığında ilk kez demiri işleyen kültürdür?

- A) Karasuk
- B) Tagar
- C) Anav
- D) Andronova

## EK SINAV

12. Aşağıdaki şehirlerden hangisi Museviler, Hristiyanlar ve Müslümanlar için kutsal olarak kabul edilmektedir?

- A) İstanbul B) Bağdat  
C) Vatikan D) Kudüs

13. Mürekkep, kağıt, barut, pusula ve matbaayı bularak dünyada birçok gelişmeye öncülük eden uygarlık, aşağıdakilerden hangisidir?

- A) İran B) Çin  
C) Mısır D) Hint

14. Türk adına ilk kez aşağıdaki kaynaklardan hangisinde rastlanmıştır?

- A) Çin yıllıkları  
B) Anal yıllıkları  
C) Bizans kaynakları  
D) Roma kaynakları

15. Aşağıdakilerden hangisi, tarihte bilinen ilk teşkilatlı Türk devletidir?

- A) Avrupa Hun Devleti  
B) Uygur Devleti  
C) Asya Hun Devleti  
D) Ak Hun Devleti

16. Aşağıdakilerden hangisi Orta Asya'da Türk göçlerinin sebeplerinden biri değildir?

- A) Kuraklık ve aşırı soğuklar  
B) Nüfusun hızla artması  
C) Hayvan hastalıkları  
D) Türk boyları arasındaki birlik

17. • Avrupa Hun Devleti'nin en parlak döneminin hükümdarıdır.  
• Hristiyanlar O'na "tanrının kamçısı" unvanını vermiştir.

Hakkında bilgi verilen Avrupa Hun hükümdarı aşağıdakilerden hangisidir?

- A) Balamir B) Uldız  
C) Attila D) İlek

18. Büyük Selçuklular, Türkiye Selçukluları ve Osmanlılar gibi devletler kurup dünya tarihinde önemli rol oynayan Türk topluluğu, aşağıdakilerden hangisidir?

- A) Oğuzlar B) Bulgarlar  
C) Kıpçaklar D) Kırğızlar

19. Aşağıdakilerden hangisi tarihi olayların mekâna göre sınıflandırılmasına bir örnektir?

- A) Hukuk tarihi B) İslam tarihi  
C) Asya tarihi D) Uygarlık tarihi

20. Babillere ait olan, cezaları çok ağır olup, toplam 284 maddeden oluşan mülkiyet, ticaret ve ceza hukukuna dair kurallar içeren kanun, aşağıdakilerden hangisidir?

- A) 12 Levha Kanunları  
B) Hammurabi Kanunları  
C) Kast Kuralları  
D) Roma Kanunları

### (132) TARİH – 2

1. İslâmiyet'in doğuşu sırasında Avrupa'da egemen olan din, aşağıdakilerden hangisidir?

- A) Zerdüştlük B) Hristiyanlık  
C) Haniflik D) Musevilik

2. Aşağıdaki imparatorluklardan hangisi, 375 Kavimler Göçü sırasında Doğu - Batı olmak üzere ikiye ayrılmıştır?

- A) Roma B) Pers  
C) İskender D) Çin

3. Cahiliye Dönemi'nde Arabistan'da konuşma ve yazı dili olarak aşağıdakilerden hangisi kullanılmıştır?

- A) Farsça B) Türkçe  
C) İngilizce D) Arapça

4. Hz. Muhammed'in süt annesi aşağıdakilerden hangisidir?

- A) Meryem  
B) Amine  
C) Ümmü Eymen  
D) Halime

5. Hz. Muhammed'e Nur Dağı'nda ilk vahyin geldiği mağara, aşağıdakilerden hangisidir?

- A) Sevr B) Beldibi  
C) Hira D) Karain

6. Müslümanlarla Bizans İmparatorluğu arasında yapılan ilk savaş, aşağıdakilerden hangisidir?

- A) Mute Seferi B) Bedir Savaşı  
C) Taif Seferi D) Hendek Savaşı

7. Aşağıdaki halifelerden hangisi döneminde Kuran ayetleri ilk kez bir kitap hâlinde bir araya getirilmiştir?

- A) Hz. Ali  
B) Hz. Osman  
C) Hz. Ebu Bekir  
D) Hz. Ömer

8. İslam tarihinde Muaviye Dönemi'nde yapılan İstanbul kuşatmasına katılıp burada şehit olan ve mezarı İstanbul'da bulunan sahabe, aşağıdakilerden hangisidir?

- A) Halid Bin Velid  
B) Enes Bin Malik  
C) Selman-ı Farisi  
D) Eyüp El Ensari

9. Kur'an-ı Kerim'i açıklayan ve yorumlayan bilim dalı aşağıdakilerden hangisidir?

- A) Hadis B) Fıkıh  
C) Tefsir D) Kelam

## EK SINAV

10. Türklerde İslam öncesi inanışa ait aşağıda verilen bilgilerden hangisi **yanlıştır**?

- A) Gök Tanrı inancı vardır.
- B) Ahiret inancı vardır.
- C) Temizliğe önem verilmiştir.
- D) Din adamlarına üstünlük tanınmıştır.

11. Türk - İslam devletlerinde gelirleri hayır kurumlarına aktarılan topraklar, aşağıdakilerden hangisidir?

- A) İktâ B) Vakıf
- C) Has D) Mülk

12. Dünyada **ilk** üniversite olarak kabul edilen Nizamiye Medresesi, aşağıdaki şehirlerden hangisinde yapılmıştır?

- A) Tahran B) Bağdat
- C) İstanbul D) Bakü

13. Aşağıdakilerden hangisi Büyük Selçuklu hükümdarlarından biri **değildir**?

- A) Yıldırım Bayezit
- B) Alparslan
- C) Melikşah
- D) Sencer

14. Gazne Devleti'ne **en güçlü** dönemini yaşatan hükümdar, aşağıdakilerden hangisidir?

- A) Sebük Tigin B) Mesut
- C) İsmail D) Mahmut

15. Aşağıdakilerden hangisi çöllerde yaşayan Araplara verilen isimdir?

- A) Hanif B) Medeni
- C) Bedevi D) Ensar

16. Aşağıdakilerden hangisi Selçuklularda hükümdarın silahını taşıyan, aynı zamanda saray silahhanesine bakan görevlilerin başıdır?

- A) Emir-i Candar
- B) Emir-i Alem
- C) Emir-i Silah
- D) Emir-i Dad

17. Erzurum merkez olmak üzere Anadolu'da kurulan **ilk** Türk Beyliği aşağıdakilerden hangisidir?

- A) Danişmentliler
- B) Saltuklular
- C) Mengücekliler
- D) Artuklular

18. Aşağıdakilerden hangisi Büyük Selçuklu Devleti'nin ordu teşkilatında bulunan bölümlerden biri **değildir**?

- A) Yeniçeriler B) Hassa Ordusu
- C) Sipahiler D) Gulam-ı Saray

19. Kayseri'de bulunan Gevher Nesibe Darüşşifası aşağıdaki devletlerden hangisi döneminde yapılmıştır?

- A) Karahanlılar
- B) Anadolu Selçuklu Devleti
- C) Osmanlı Devleti
- D) Gazneliler

20. Aşağıdakilerden hangisi Moğol İmparatorluğu'nun parçalanmasından sonra ortaya çıkan devletlerden biri **değildir**?

- A) İlhanlı Devleti
- B) Çağatay Devleti
- C) Babür Devleti
- D) Altınordu Devleti

### (133) TARİH – 3

1. Aşağıdakilerden hangisi XIV. yüzyılda Yakın Doğu'da kurulmuş devletlerden biridir?

- A) Büyük Selçuklu
- B) Asya Hun
- C) Memluk
- D) Uygur

2. 1243 Köseadağ Savaşı'nda Selçuklu Devleti'ni yenilgiye uğratan devlet, aşağıdakilerden hangisidir?

- A) Memluk B) Bizans
- C) Altın Orda D) İlhanlı

3. Osmanlı Beyliği Bizans ile mücadele ederken gaza ve cihat anlayışıyla gelen - - - - adı verilen Türkmen topluluklarının desteğini sağladı.

**Verilen bilgi cümlesinde boş bırakılan yere, aşağıdakilerden hangisi gelmelidir?**

- A) Tekfur B) Kazasker
- C) Müsellem D) Gaziyanırum

4. Edirne, hangi padişah döneminde başkent yapılmıştır?

- A) Orhan Bey
- B) I. Murat
- C) Yıldırım Bayezit
- D) II. Mehmet

5. 1402 Ankara Savaşı'nda Yıldırım Bayezit'i esir alarak Osmanlı Devleti'ne yıkılma tehlikesi yaşatan ünlü Türk hükümdarı, aşağıdakilerden hangisidir?

- A) Timur B) Baybars
- C) Tumanbay D) Attila

6. Moğol İmparatorluğu'nun parçalanmasından sonra Cengiz Han'ın torunu Batu Han tarafından Karadeniz ve Hazar denizi kuzeyinde kurulan devlet, aşağıdakilerden hangisidir?

- A) Memlük Devleti
- B) Eyyübiler
- C) Altın Orda Devleti
- D) Bizans

7. Osmanlı Devleti'nin Balkanlara kesin olarak yerleştiği savaş aşağıdakilerden hangisidir?

- A) II. Kosova Savaşı
- B) Sırpındığı Savaşı
- C) Niğbolu Savaşı
- D) Ankara Savaşı

8. I. Murat "Ülke hanedanının ortak malıdır." anlayışı yerine "Ülke padişah ve oğullarınıdır." anlayışını getirmiştir.

**Bu uygulamanın temel amacı aşağıdakilerden hangisidir?**

- A) Padişahın yetkilerini sınırlandırmak
- B) Anadolu siyasi birliğini kurmak
- C) Taht kavgalarını önlemek
- D) Devletin sınırlarını korumak

## EK SINAV

9. Osmanlı Devleti'nde gelirleri kale muhafızlarına ve tersane giderlerine ayrılan topraklar aşağıdakilerden hangisidir?
- A) Paşmaklık B) Ocaklık  
C) Malikane D) Yurtluk
10. Yeniçeri Ocağı'nı kuran Osmanlı padişahı aşağıdakilerden hangisidir?
- A) Osman Bey B) II. Mehmet  
C) I. Bayezit D) I. Murat
11. Fatih Sultan Mehmet Dönemi'nden itibaren, padişahların divanîhümayun toplantılarını izledikleri yere ne ad verilir?
- A) Enderun B) Kasrıadl  
C) Birun D) Harem
12. Bizans İmparatorluğu, aşağıdaki hangi olay sonrasında yıkılmıştır?
- A) İstanbul'un Fethi  
B) Köseadağ Savaşı  
C) Fransız İhtilali  
D) Reform Hareketleri
13. Öncülüğünü Martin Luther'in yaptığı Reform hareketi, ilk hangi Avrupa ülkesinde ortaya çıkmıştır?
- A) İtalya B) Fransa  
C) İngiltere D) Almanya
14. Osmanlı Devleti'nde medreselerde ders veren öğretmenlere ne ad verilirdi?
- A) Müderris B) Müftü  
C) Kadı D) Kazasker
15. Aşağıdakilerden hangisi, Osmanlı Devleti'nde ticareti korumak ve geliştirmek amacıyla kurulmuş teşkilatlardan biri değildir?
- A) Tulumbacılar  
B) Derbentçiler  
C) Menzil Teşkilatı  
D) Mekkâri Taifesi

16. Aşağıdakilerden hangisi Osmanlı Devleti'nde ilmiye sınıfının divandaki temsilcilerinden biridir?
- A) Nişancı  
B) Veziriazam  
C) Kaptanıderya  
D) Şeyhülislam
17. Aşağıdakilerden hangisi İstanbul'un fethinin sonuçlarından biri değildir?
- A) Bizans, Doğu ve Batı olarak ikiye ayrıldı.  
B) Orta Çağ sona erdi, Yeni Çağ başladı.  
C) II. Mehmet "Fatih" unvanı aldı.  
D) İstanbul, Osmanlı Devleti'nin başkenti oldu.
18. Osmanlı ordusunda, kale kuşatmalarında tünel kazarak ve fitil döşeyerek düşman surlarını ve kale duvarlarını yıkan askeri teşkilat, aşağıdakilerden hangisidir?
- A) Humbaracılar  
B) Lağımcılar  
C) Deliler  
D) Sakalar
19. Osmanlı Devleti'nin Akdeniz ve Kızıldeniz'i birleştirerek, Baharat Yolu'nu kontrol etmek amacıyla hazırladığı proje, aşağıdakilerden hangisidir?
- A) Süveyş Kanal Projesi  
B) Don-Volga Kanal Projesi  
C) Marmara-Karadeniz Kanal Projesi  
D) Panama Kanal Projesi
20. Osmanlı Devleti'nin batıda toprak kazandığı son antlaşma aşağıdakilerden hangisidir?
- A) Vasvar B) İstanbul  
C) Bucaş D) Sevr

### (134) TARİH – 4

1. XVIII. yüzyılda Avrupalı devletlerin, devletler arası politika ve çıkar çatışmalarında "amaçta ulaşmak için her türlü araca başvurulabileceği" anlayışıyla hareket ettikleri fikir akımı, aşağıdakilerden hangisidir?
- A) Feodalizm  
B) Sosyalizm  
C) Makyavelizm  
D) Kapitalizm
2. Osmanlı tarihinde 1718-1730 yılları arasındaki döneme ne ad verilir?
- A) Lale Devri  
B) Tanzimat Devri  
C) Meşrutiyet Devri  
D) Fetret Devri
3. Sanayi İnkılabı sonrasında en büyük sömürge imparatorluğu, aşağıdaki devletlerden hangisi kurmuştur?
- A) Fransa B) İtalya  
C) Rusya D) İngiltere
4. Amerika Birleşik Devletleri'nin ilk cumhurbaşkanı aşağıdakilerden hangisidir?
- A) Demirbaş Şarl  
B) Bismarck  
C) Metternich  
D) George Washington
5. XIX. yüzyıl Osmanlı Devleti için - - - - - olarak kabul edilmiştir.
- Verilen bilgi cümlesinde boş bırakılan yere aşağıdakilerden hangisi gelmelidir?**
- A) Aydınlanma Çağı  
B) Ayaklanmalar yüzyılı  
C) Akıl Çağı  
D) Demokrasi yüzyılı
6. Tanzimat Fermanı'nın ilanından I. Meşrutiyet'e kadar geçen döneme ne ad verilir?
- A) Gerileme Dönemi  
B) Fetret Dönemi  
C) Lale Devri  
D) Tanzimat Dönemi

## EK SINAV

7. 19. yüzyılda Osmanlı Devleti'ne karşı Mısır'da isyan eden Osmanlı valisi, aşağıdakilerden hangisidir?
- A) Mehmet Ali Paşa  
B) Cem Sultan  
C) Mithat Paşa  
D) Gazi Osman Paşa
8. Osmanlı Devleti'nde Türkler tarafından çıkarılan ilk özel gazete aşağıdakilerden hangisidir?
- A) Tercümaniahval  
B) Muhbir  
C) Tasvirieffkar  
D) Vekayıtıbbiye
9. Osmanlı Devleti sınırları içinde birçok azınlık okulları vardı. Aşağıdakilerden hangisi Osmanlı'da azınlık okulu bulunan milletlerden biri değildir?
- A) Rum  
B) Portekiz  
C) Ermeni  
D) Fransız
10. 18. yüzyılda Osmanlı Devleti, Avrupa ile olan diplomatik ilişkilerini geliştirmek için aşağıdakilerden hangisini yapmıştır?
- A) Avrupa'ya öğrenci gönderilmiştir.  
B) Avrupa'ya askerî sefer düzenlenmiştir.  
C) Avrupa'dan borç para alınmıştır.  
D) Avrupa'da elçilikler açılmıştır.
11. II. Mahmut Dönemi'nde
- Devlet memurlarının elbiselerinin yerli kumaştan yapılması
  - Ordunun fes ihtiyacını karşılamak için feshanenin kurulması
  - Türk tüccar ve esnafa kolaylık sağlanması
- gibi faaliyetlerle, aşağıdakilerden hangisi gerçekleştirilmek istenmiştir?
- A) Askerî açıdan Avrupa'nın önüne geçmek  
B) Avrupa'daki gelişmeleri yakından takip etmek  
C) Ülkenin ekonomi ve sanayisinin kalkınmasını sağlamak  
D) Ülkenin eğitim seviyesini yükseltmek
12. Osmanlı Devleti sınırları içerisindeki Sırp ve Rum azınlığının milliyetçilik fikri doğrultusunda isyan çıkartmaları, aşağıdaki gelişmelerden hangisi sonrasında yaşanmıştır?
- A) Fransız İhtilali  
B) Londra Konferansı  
C) Tersane Konferansı  
D) Meşrutiyetin ilanı
13. Aşağıdaki antlaşmalardan hangisi sonrasında Yunanistan bağımsız hâle gelmiştir?
- A) Bükreş  
B) Amasya  
C) Kütahya  
D) Edirne
14. Osmanlı Devleti'nde halk ilk kez hangi olay ile seçme ve seçilme hakkı elde etmiştir?
- A) Ayastefanos Antlaşması'yla  
B) Kanunuesasi'nin ilanıyla  
C) Senediittifak ile  
D) Tanzimat Fermanı'nın ilanıyla
15. Aşağıdakilerden hangisi XIX. yüzyılda Osmanlı Devleti'nde ortaya çıkmış fikir akımlarından biri değildir?
- A) Osmanlıcılık  
B) Şarkiyatçılık  
C) Batıcılık  
D) Türkçülük
16. Almanya, Osmanlı Devleti'ni aşağıdaki hangi özelliğinden dolayı I. Dünya Savaşı'nda kendi yanında savaşa sokmak istemiştir?
- A) Siyasi yapısı  
B) Askerî teknolojisi  
C) Jeopolitik konumu  
D) Ekonomik zenginliği
17. Osmanlıda dağılmayı önlemek amacıyla, Türkleri millî bir duygu ile birleştirerek Osmanlı bayrağı altında kuvvetli bir unsur olarak yeniden dünya devletleri arasına sokmayı düşünen fikir akımı, aşağıdakilerden hangisidir?
- A) Türkçülük  
B) İslamcılık  
C) Osmanlıcılık  
D) Batıcılık
18. Osmanlı Devleti'nin I. Dünya Savaşı'nda İngiliz ilerleyişini durdurmak, İslamiyet'in kutsal şehirleri Mekke ve Medine'yi korumak için savaştığı cephe, aşağıdakilerden hangisidir?
- A) Çanakkale  
B) Irak  
C) Suriye ve Filistin  
D) Hicaz ve Yemen
19. Osmanlı Devleti'nde yaşayan azınlıkların isyan etmelerinde aşağıdaki gelişmelerden hangisinin yaydığı düşünceler daha çok etkili olmuştur?
- A) Rönesans  
B) Reform  
C) Fransız İhtilali  
D) Sanayi İnkılabı
20. Aşağıda verilen savaşlardan hangisinde Osmanlı Devleti'nin toprak kaybettiği söylenemez?
- A) Trablusgarp Savaşı  
B) I. Balkan Savaşı  
C) II. Balkan Savaşı  
D) I. Dünya Savaşı

(135) TARİH – 5

1. Orta Asya'da sert ve karasal bir iklimin hüküm sürmesi, yağışların yetersiz olması; yazların sıcak ve kurak, kışların ise dondurucu ve fırtınalı geçmesi sebebiyle Türklerin başlıca geçim kaynağı;
- I- Tarım  
II- Ticaret  
III- Hayvancılık
- faaliyetlerinden hangileri olmuştur?
- A) Yalnız I  
B) Yalnız III  
C) I ve II  
D) I, II ve III
2. Türk ana yurdunda rastlanan en eski kültür Abakan veya - - - - adıyla anılırdı.
- Verilen cümlede boş bırakılan yere aşağıdakilerden hangisi getirilmelidir?
- A) Afanasyevo  
B) Tagar  
C) Karasuk  
D) Taştık

## EK SINAV

3. Aşağıdakilerden hangisi, Orta Asya'daki Türk göçlerinin nedenlerinden biri değildir?

- A) Sanayi kuruluşlarının yetersiz olması
- B) Nüfusun artması ve otlakların yetersizliği
- C) Boylar arasında yaşanan siyasi anlaşmazlıklar
- D) Boyların bağımsızlığının tehlikeye düşmesi

4. Aşağıdaki toplumlardan hangisi, tarihte "bozkırın kuyumcuları" olarak anılmıştır?

- A) Oğuzlar B) Persler
- C) İskitler D) Sümerler

5. Tarihte bilinen ilk Türk Devleti aşağıdakilerden hangisidir?

- A) Uygur Devleti
- B) Hazar Devleti
- C) Türgiş Devleti
- D) Büyük Hun Devleti

6. İslamiyet öncesi Türklerde aşağıdaki alanlardan hangisinde göçebe yaşam tarzının olumsuz etkisinden söz edilemez?

- A) Tarım
- B) Mimari
- C) Dokumacılık
- D) Savaşçılık

7. Orta Asya Türk devletlerinde sosyal hayatı düzenleyen ve yazılı olmayan hukuk kurallarına ne ad verilir?

- A) Kut B) Töre
- C) Toy D) Budun

8. Aşağıdakilerden hangisi Türklerin Orta Asya'da kurduğu devletlerden biri değildir?

- A) Bulgar B) Uygur
- C) Kök Türk D) Kırgız

9. Türklerin en eski kültürü aşağıdakilerden hangisidir?

- A) Afanasyevo kültürü
- B) Andronova kültürü
- C) Karasuk kültürü
- D) Anav kültürü

10. Aşağıdakilerden hangisi Orta Asya Türk sanat dallarından biri değildir?

- A) Maden işçiliği
- B) Dokumacılık
- C) Mimari
- D) Tezhip

11. Oğuzlar, İslamiyet'i kabul ettikten sonra aşağıdaki hangi isim ile anılmışlardır?

- A) Sabar B) Türgiş
- C) Türkmen D) Kıpçak

12. Orta Asya'da yaşayan Türkler coğrafi, siyasi ve ekonomik nedenlerden dolayı MÖ XVI. yüzyıldan itibaren Asya, Avrupa ve Afrika kıtasının değişik bölgelerine göç etmişlerdir.

**Türklerin yaptığı bu göçler neticesinde;**

- I- Türk kültürü farklı bölgelere yayılmıştır.
- II- Göç edilen yerlerde kültürel ve siyasi yapıda değişiklikler görülmüştür.
- III- Göç edilen bölgelerde önemli iklim değişiklikleri yaşanmıştır.
- IV- Göç ettikleri bölgelerde Budizm'i yaymışlardır.

**Yukarıdaki hangi numaralı cümleler yanlıştır?**

- A) I ve II B) III ve IV
- C) I ve III D) II, III ve IV

13. Gök Tanrı dinine inanan Türk toplulukları zamanla farklı dinleri kabul etmişlerdir. - - - - dışındaki dinleri benimseyen Türk toplulukları ise zamanla Türklük özelliklerini yitirmişlerdir.

**Verilen cümlede boş bırakılan yere aşağıdakilerden hangisi gelmelidir?**

- A) İslamiyet B) Şamanizm
- C) Maniheizm D) Hristiyanlık

14. Türk hukuku ilk kez kimler tarafından yazılı hâle getirilmiştir?

- A) Hazarlar B) Uygurlar
- C) Peçenekler D) Kırgızlar

15. Türkler tarih boyunca;

- I- Uygur
- II- Kök Türk
- III- Kiril
- IV- Arap
- V- Latin

**alfabelerinden hangilerini kullanmışlardır?**

- A) Yalnız II
- B) I, II ve III
- C) I, IV ve V
- D) I, II, III, IV ve V

16. Uygurlar aşağıdaki dinlerden hangisinin etkisiyle yerleşik hayata geçmişlerdir?

- A) Gök Tanrı B) Mani
- C) Budizm D) Şamanizm

17. İslamiyet öncesi Türklerde devlet topraklarının "Hükümdar ve ailesinin ortak malı" **sayılması**, aşağıdakilerden hangisine neden olmuştur?

- A) Taht kavgalarının artmasına
- B) Askerî teşkilatın güçlenmesine
- C) Türk siyasi birliğin sağlanmasına
- D) Merkezi otoritenin güçlenmesine

18. Aşağıdaki devletlerden hangisinin yıkılması Kavimler Göçünü hazırlamıştır?

- A) Avarlar
- B) Büyük Hun Devleti
- C) Uygurlar
- D) Roma İmparatorluğu

19. Türk maden sanatının en önemli örneklerinden biri olan "Altın Elbiseli Adam" aşağıdaki kurganlardan hangisinde bulunmuştur?

- A) Pazarık B) Alacahöyük
- C) Esik D) Alişar

20. İlk Türk devletlerinde hükümdar eşlerine ne ad veriliirdi?

- A) Han B) İlteber
- C) Tigin D) Hatun

1. İslamiyetten önce Arap Yarımadası ve daha birçok yerde insani, ahlaki ve dinî değerlerin kaybolduğu dönemi ifade etmek için aşağıdaki kavramlardan hangisi kullanılmaktadır?

- A) Fetret B) Hicret  
C) Cahiliye D) Fütüvvet

2. Hicret sonrası ilk İslam devleti, aşağıdaki şehirlerin hangisinde kurulmuştur?

- A) Medine B) Mekke  
C) Taif D) Hayber

3. Hz. Muhammed İslamiyeti;

- I- Mekke halkına  
II- Yakın akrabalarına  
III- En yakınındakilerine  
tebliğe başlamıştır.

Yukarıda karışık olarak verilen olayların doğru sıralaması, aşağıdakilerin hangisinde verilmiştir?

- A) I - II - III B) II - III - I  
C) I - III - II D) III - II - I

4. Hz. Muhammed'in 632 yılında vefatı sonrasında aşağıdakilerden hangileri sırasıyla halife seçilmişlerdir?

- A) Hz. Ebubekir, Hz. Ali, Hz. Osman, Hz. Ömer  
B) Hz. Osman, Hz. Ömer, Hz. Ali, Hz. Ebubekir  
C) Hz. Ebubekir, Hz. Osman, Hz. Ömer, Hz. Ali  
D) Hz. Ebubekir, Hz. Ömer, Hz. Osman, Hz. Ali

5. İslam dininin getirmiş olduğu adalet ve eşitlik anlayışı aşağıdakilerden hangisine yol açmıştır?

- A) İslam devletlerinin büyük ve güçlü ordulara sahip olmasına  
B) İslam dininin hızla geniş coğrafyalara yayılmasına  
C) İslam devletlerinin ekonomisinin gelişmesine  
D) Kur'an-ı Kerim'in Arapça yazılmasına

6. İslamiyet'i kabul eden ilk Türk boyu aşağıdakilerden hangisidir?

- A) Karluklar B) Avarlar  
C) Kumanlar D) Peçenekler

7. Aşağıdakilerden hangisi Mısır'da kurulan ilk Türk devletlerinin özelliklerinden değildir?

- A) Halkın çoğunluğu Arap'tır.  
B) Mısır'a İslam'ı getirmişlerdir.  
C) Kurucu ve yöneticileri Türk'tür.  
D) Mısır'ı bayındır hâle getirmişlerdir.

8. Karahanlı Devleti'nde İslamiyet'i resmî din olarak kabul eden hükümdar, aşağıdakilerden hangisidir?

- A) Arslan Han  
B) Kılıç Buğra Han  
C) Satuk Buğra Han  
D) Bilge Kül Kadir Han

9. Gazneli Devleti'nin yıkılış sürecine girmesinde etkili olan savaş, aşağıdakilerden hangisidir?

- A) Malazgirt B) Talas  
C) Pasinler D) Dandanakan

10. "Oğuz" adına ilk kez aşağıdakilerden hangisinde rastlanılmıştır?

- A) Kutadgu Bilig  
B) Siyasetname  
C) Şehname  
D) Orhun Yazıtları

11. • Türk tarihinde ilk defa sultan unvanını kullanmıştır.  
• Hindistan'a 17 sefer yaparak İslamiyetin yayılmasını sağlamıştır.  
• Gazne Devleti'ne en parlak zamanını yaşatmıştır.

Yukarıda özellikleri verilen Türk hükümdarı aşağıdakilerden hangisidir?

- A) Gazneli Mahmut  
B) Sebük Tegin  
C) Alp Tegin  
D) İbrahim

12. Büyük Selçuklu Devleti, Dandanakan Savaşı'nda aşağıdaki hangi devleti yenerek; resmen kurulmuştur?

- A) Karahanlılar  
B) Samanoğulları  
C) Gazneliler  
D) Karahitaylar

13. Türk-İslam devletlerindeki göçebelerin temel geçim kaynağı, aşağıdakilerden hangisidir?

- A) Tarım B) Hayvancılık  
C) Ticaret D) Balıkçılık

14. Büyük Selçuklu Devleti'nde, hükümdar çocukları olan şehzadeleri eğitmekle görevli kişilere ne ad verilir?

- A) Lala B) Hacıp  
C) Atabey D) Naip

15. Aşağıdaki Türk-İslam devletlerinden hangisi Orta Asya'da kurulmamıştır?

- A) Gazneliler  
B) Harzemşahlar  
C) Karahanlılar  
D) Tolunoğulları

16. • Türk-İslam kültürünün Türkçe yazılmış ilk eserlerini verdiler.  
• İslamiyet'in Orta Asya'da yayılmasını sağladılar.

Yukarıda temel özellikleri verilen Türk-İslam devleti aşağıdakilerden hangisidir?

- A) Kök Türkler B) Karahanlılar  
C) Memlükler D) Gazneliler

17. Büyük Selçuklularda devletin mali işleriyle ilgilenen kurum aşağıdakilerden hangisidir?

- A) Büyük Divan  
B) Vezaret Divanı  
C) Tuğra Divanı  
D) İstifa Divanı

## EK SINAV

18. Matematik, fizik, astronomi, felsefe, mantık ve siyaset alanlarında yetişmiş; Aristo başta olmak üzere eski Yunan filozoflarının eserlerini inceleyip yeni yorumlar getirdiği için "Muallimi sani" unvanını alan Türk bilim adamı aşağıdakilerden hangidir?

- A) El-Biruni B) Harezmi  
C) Farabi D) İbn-i Türk

19. Kölemen emiri Aybek Mısır'da Eyyubi Devleti'ne son vererek aşağıdaki devletlerden hangisini kurmuştur?

- A) Tolunoğulları B) İhşidler  
C) Gazneliler D) Memlûkler

20. Timurlular döneminde dil olarak aşağıdakilerden hangisi kullanılmıştır?

- A) Kırgız Türkçesi  
B) Özbek Türkçesi  
C) Çağatay Türkçesi  
D) Kazak Türkçesi

(141) T.C. İNK. TAR. ATA. – 1

1. Çıkarlarına uygun olması nedeniyle İtalya'nın Trablusgarp'ı işgal etmesine göz yuman devletler, aşağıdakilerin hangisinde birlikte verilmiştir?

- A) İran - Almanya - İngiltere  
B) İngiltere - Fransa - Rusya  
C) Fransa - Kanada - İsveç  
D) Rusya - Almanya - İspanya

2. Balkan Savaşları sonrasında, aşağıdaki sorunlardan hangisi ortaya çıkmıştır?

- A) Kıbrıs Sorunu  
B) Arnavutluk Sorunu  
C) Balkan Türkleri Sorunu  
D) Bosna - Hersek Sorunu

3. "20. yüzyılın başlarında kalkındırma görünümü altında Osmanlı Devleti üzerinde etkisini giderek artıran devlet - - - - olmuştur."

Verilen cümlelerin doğru olabilmesi için boş bırakılan yere aşağıdaki devletlerden hangisi yazılmalıdır?

- A) Almanya B) İngiltere  
C) Fransa D) Rusya

4. İzmir yöresinin işgali sırasında Yunanlıların bölgede yaptığı katliamların gerçekliğini onaylayan ve işgalin bir ilhaka dönüşüğünü dünya kamuoyuna duyuran yabancı kaynaklı ilk resmî belge, aşağıdakilerden hangisidir?

- A) Wilson Bildirisi  
B) Petrograd Protokolü  
C) Sevr Antlaşma Metni  
D) Amiral Bristol Raporu

5. Amerikan manda yönetimini isteyenler tarafından kurulan millî varlığa düşman cemiyet, aşağıdakilerden hangisidir?

- A) Teali İslam Cemiyeti  
B) Hürriyet ve İtilaf Fırkası  
C) İngiliz Muhipler Cemiyeti  
D) Wilson Prensipleri Cemiyeti

6. Aşağıdakilerden hangisi Mondros Ateşkes Antlaşması'ndan sonra İtalya tarafından işgal edilen yerlerden biri değildir?

- A) Antalya B) Urfa  
C) Muğla D) Konya

7. Aşağıdaki azınlık cemiyetlerinden hangisi Rumlar tarafından kurulmuştur?

- A) Taşnak Cemiyeti  
B) Makabi Cemiyeti  
C) Hınçak Cemiyeti  
D) Pontus Cemiyeti

8. Mustafa Kemal'in ataşemiliterlik görevinde bulunduğu yer, aşağıdakilerden hangisidir?

- A) Sofya B) Şam  
C) Selanik D) İstanbul

9. Kurtuluş Savaşı'nın Batı Cephesi, aşağıdaki devletlerden hangisinin işgallerine karşı kurulmuştur?

- A) Yunanistan B) İtalya  
C) Fransa D) İngiltere

10. Aşağıdakilerden hangisi Kurtuluş Savaşı'nın hazırlık dönemi ile ilgili gelişmelerden değildir?

- A) Amasya Genelgesi  
B) Sivas Kongresi  
C) Ankara Antlaşması  
D) Erzurum Kongresi

11. I. Dünya Savaşı'ndan sonra Anadolu'nun yer yer işgal edilmesi ve Osmanlı Devleti'nin bu durum karşısında sessiz kalması, aşağıdakilerden hangisinin kurulmasında doğrudan etkili olmuştur?

- A) Mavri Mira'nın  
B) Kuvayımilliye'nin  
C) Kuvayıinzibatiye'nin  
D) İstiklal Mahkemelerinin

12. Sivas'ta millî bir kongrenin toplanması kararı, aşağıdakilerin hangisinde alınmıştır?

- A) Erzurum Kongresi'nde  
B) Amasya Görüşmeleri'nde  
C) Amasya Genelgesi'nde  
D) Son Osmanlı Mebusan Meclisinde

13. Aşağıdakilerden hangisi, "Erzurum Kongresi'nin Millî Mücadele'deki yeri ve önemi nedir?" sorusuna verilebilecek cevaplardan biri değildir?

- A) Meclis Hükûmeti Sistemi kabul edilmiştir.  
B) Ulusal egemenliğin koşulsuz olarak gerçekleştirileceği görüşü ortaya çıkmıştır.  
C) Meclisin açılarak millî iradenin her yerde egemen kılınması amaçlanmıştır.  
D) Bölgesel güçlerin birleşerek hareket etmesi gerektiği vurgulanmıştır.



## EK SINAV

(142) T.C. İNK. TAR. ATA. – 2

14. İstanbul'da toplanan Meclis-i Mebusanın aldığı Misakımillî kararlarından vazgeçmesi için İtilaf Devletleri'nin yaptıkları baskılara dayanamayarak 3 Mart 1920 tarihinde istifa etmek zorunda kalan İstanbul Hükûmeti, aşağıdakilerden hangisidir?

- A) Salih Paşa Hükûmeti
- B) Tevfik Paşa Hükûmeti
- C) Ali Rıza Paşa Hükûmeti
- D) Damat Ferit Paşa Hükûmeti

15. Düzenli ordunun ilk sınavını verdiği savaş, aşağıdakilerden hangisidir?

- A) II. Balkan
- B) I. İnönü
- C) II. İnönü
- D) Sakarya

16. Kurtuluş Savaşı'nın Doğu Cephesi komutanlığını aşağıdakilerden hangisi yapmıştır?

- A) Kazım Karabekir
- B) İsmet İnönü
- C) Refet Bele
- D) Rauf Orbay

17. Mustafa Kemal Paşa aşağıdaki savaşların hangisinden sonra "Mareşal" rütbesini almıştır?

- A) Trablusgarp
- B) Çanakkale
- C) Sakarya
- D) Dumlupınar

18. Aşağıdakilerden hangisi Mudanya Ateşkes Antlaşması'yla işgalden kurtarılmış olan yerlerden değildir?

- A) Edirne
- B) Çanakkale
- C) Tekirdağ
- D) Kırklareli

19. I. ve II. İnönü Muharebeleri aşağıdakilerden hangisiyle yapılmıştır?

- A) İtalyanlarla
- B) İngilizlerle
- C) Fransızlarla
- D) Yunanlılarla

20. Lozan Antlaşması'nda Suriye sınırlarımız aşağıdaki antlaşmalardan hangisine göre belirlenmiştir?

- A) Moskova
- B) Gümrü
- C) Ankara
- D) Kars

1. TBMM tarafından halife olarak seçilen Abdülmecit Efendi'nin yetkilerini aşarak padişah gibi davranması, aşağıdaki inkılaplardan hangisinin yapılmasına gerekçe olmuştur?

- A) Halifeliğin kaldırılması
- B) Saltanatın kaldırılması
- C) Tekke ve türbelerin kapatılması
- D) Türk Medeni Kanunu'nun çıkarılması

2. Türkiye Büyük Millet Meclisinin açılmasından kaç gün sonra cumhuriyet ilan edilmiştir?

- A) 1095
- B) 1280
- C) 1284
- D) 1320

3. Aşağıdakilerden hangisi, meclis hükûmeti sisteminin ortaya çıkardığı sorunları çözümlyerek hükûmet bunalımlarını önlemek amacıyla yapılmıştır?

- A) Halifeliğin kaldırılması
- B) Cumhuriyetin ilan edilmesi
- C) Medreselerin kapatılması
- D) Şeyh Sait İsyanı'nın bastırılması

4. Menemen Olayı, aşağıdaki siyasi fırkalardan (partilerden) hangisinin kapanması sonrasında çıkmıştır?

- A) Halk Fırkası
- B) Serbest Cumhuriyet Fırkası
- C) Terakkiperver Cumhuriyet Fırkası
- D) İttihat ve Terakki Fırkası

5. Osmanlı Devleti'nde şeri davalara bakan görevli aşağıdakilerden hangisidir?

- A) Kadı
- B) Sipahi
- C) Emir-i Dad
- D) Yiğitbaşı

6. Tevhid-i Tedrisat Kanunu aşağıdaki alanlardan hangisiyle ilgilidir?

- A) Eğitim
- B) Sanat
- C) Ekonomi
- D) Ordu

7. Ülkemizde okur-yazar oranının artması aşağıdakilerden hangisinin bir sonucudur?

- A) Kılık kıyafet değişikliğinin
- B) Soyadı Kanunu'nun çıkarılmasının
- C) Saat ve takvimde değişikliğin
- D) Harf inkılabının kabulünün

8. Aşağıdakilerden hangisi toplumsal yaşayışı düzenlemek amacıyla yapılan inkılaplardan değildir?

- A) Tekke ve zaviyelerin kapatılması
- B) Medreselerin kaldırılması
- C) Kıyafette değişiklik yapılması
- D) Soyadı Kanunu'nun kabulü

9. Türk kadını milletvekili seçme ve seçilme hakkına hangi yıl sahip olmuştur?

- A) 1934
- B) 1933
- C) 1932
- D) 1930

10. Yeni Türk Devleti'nin ekonomik hedeflerinin belirlendiği ilk ekonomi kongresi aşağıdaki illerin hangisinde toplanmıştır?

- A) Sivas
- B) Ankara
- C) İzmir
- D) İstanbul

11. Aşağıdaki Türk büyüklerinden hangisi ilk Türk donanmasını kuran kişi olarak tanınır?

- A) Atilla
- B) Mete Han
- C) Çağrı Bey
- D) Çaka Bey

12. Yeni Türk Devleti'nde görülen;  
• Kabotaj Kanunu'nun çıkarılması  
• Düyun-u Umumiye İdaresinin kaldırılması  
• Türkiye'de faaliyet gösteren yabancı şirketlerin satın alınması gibi uygulamalarla, aşağıdakilerden hangisi amaçlanmıştır?

- A) Millî iradeyi gerçekleştirmek
- B) Ülkeye yabancı sermayeyi çekmek
- C) Devlet eliyle sanayiye geliştirmek
- D) Ekonomik bağımsızlığı sağlamak

## EK SINAV

13. Atatürk dış politikada, bağımsızlığa saygı ve devletlerin eşitliği ilkesinden hiç taviz vermemiştir. O, "Yurtta barış, dünyada barış" anlayışının bir gereği olarak Türkiye'nin, komşuları ile birlikte geçmişin kötü anılarını unutarak barış içinde yaşamasını siyasetinin temeli yapmıştır.

**Aşağıdakilerden hangisi parçada verilen bilgiyi destekleyici gelişmelerden biri değildir?**

- A) Türkiye'nin Milletler Cemiyetine üye olması  
B) Balkanlarda bölgesel barışın kuvvetlendirilmesi  
C) Türkiye'nin, dünyadaki silahlanma yarışına katılması  
D) Türkiye'nin Orta Doğu ülkeleriyle ilişkilerini geliştirmeye çalışması

14. Türkiye, 8 Temmuz 1937 günü aşağıdakilerden hangisinin katılım belgesini imzalamıştır?

- A) NATO'nun  
B) Balkan Antantı'nın  
C) Sadabat Paktı'nın  
D) Milletler Cemiyetinin

15. Türkiye'nin hangi komşusuyla olan sınırı en son kesinleşmiştir?

- A) Bulgaristan B) Gürcistan  
C) Yunanistan D) Suriye

16. Eğitilmiş ve teknik bilgilerle donatılmış, kültürlü insanların oluşturduğu güçtür.

**Yukarıda tanımı verilmiş olan millî güç unsuru, aşağıdakilerden hangisidir?**

- A) Siyasi güç  
B) Askerî güç  
C) Ekonomik güç  
D) Sosyokültürel güç

17. Türk ekonomisinin geliştirilmesinde uygulanmış olan Atatürk ilkesi aşağıdakilerden hangisidir?

- A) Cumhuriyetçilik  
B) Devletçilik  
C) Laiklik  
D) Halkçılık

18. Atatürk'ün naaşı hangi tarihte Anıtkabir'e konulmuştur?

- A) 10 Kasım 1953  
B) 20 Ekim 1945  
C) 10 Kasım 1940  
D) 10 Kasım 1938

19. Aşağıdakilerden hangisi Mihver Devletlerden değildir?

- A) Fransa B) İtalya  
C) Almanya D) Japonya

20. Türkiye'nin Kore Savaşı'na katılması aşağıdaki uluslararası kuruluşlardan hangisine üye olmasında etkili olmuştur?

- A) Birleşmiş Milletler Teşkilatı  
B) Batı Avrupa Birliği  
C) Kuzey Atlantik Paktı  
D) Kellogg Pakti

### (151) COĞRAFYA – 1

1. Aşağıdakilerden hangisi beşeri coğrafyanın çalışma alanlarından değildir?

- A) Tarım B) Turizm  
C) Sanayi D) Doğal afetler

2. Doğa ile insan sürekli etkileşim içerisindedir.

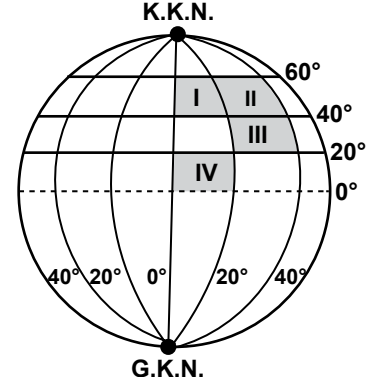
**Aşağıdakilerden hangisi bu etkileşime örnek olarak gösterilebilir?**

- A) Yükselti arttıkça sıcaklığın azalması  
B) Yer şekillerinin iklimi etkilemesi  
C) Sis olayının trafik kazalarına neden olması  
D) Aşırı yağışın heyelana neden olması

3. Aşağıda verilen doğal unsurlardan hangisi hidrosfer içerisinde bulunur?

- A) Dağ B) Göl  
C) Bitki D) Toprak

4.



Şekilde gösterilen taralı alanların aynı ölçek kullanılarak siyasi haritaları çiziliyor.

**Bu haritalardan hangisi ikisinin boyutları aynı olur?**

- A) I. ve II. B) II. ve III.  
C) II. ve IV. D) III. ve IV.

5. 16. yy'da yaşamış olan, Kitab-ı Bahriye eseri ve Dünya Haritası ile tanınan ünlü Türk denizcimiz aşağıdakilerden hangisidir?

- A) Piri Reis B) İbn-i Sina  
C) Ali Kuşçu D) Uluğ Bey

6. Bir yerin enlem derecesine bakarak aşağıdakilerden hangisi hakkında çıkarımda bulunabiliriz?

- A) Yükseltisi  
B) Yerel saati  
C) Yıllık sıcaklık ortalaması  
D) Başlangıç meridyenine uzaklığı

7. Ülkemizde kış saati uygulamasına geçildiğinde, aşağıdaki şehirlerimizden hangisinin yerel saati ile ulusal saat arasındaki fark en fazla olur?

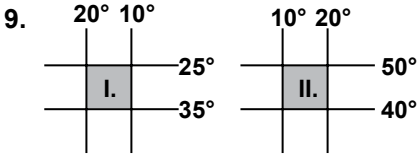
- A) Ankara B) Antalya  
C) Edirne D) Iğdır

8. I. Sıcaklık  
II. Yer çekimi  
III. Cisimlerin gölge yönü

**Yukarıdakilerden hangileri Dünya'nın hareketlerine bağlı olarak değişiklik gösterir?**

- A) Yalnız I B) Yalnız II  
C) II. ve III. D) I. ve III.

## EK SINAV



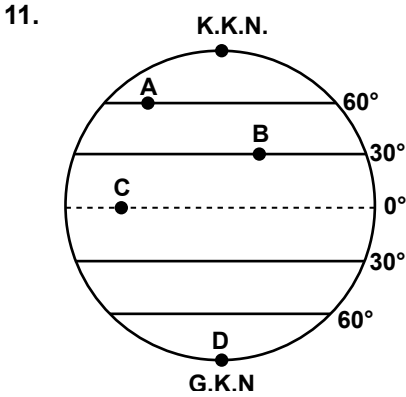
Yukarıda coğrafi koordinatları verilen iki farklı bölge hakkında aşağıdakilerden hangisi söylenemez?

- A) İki bölgenin de doğusu ve batısı arasındaki mesafe aynıdır.
- B) Bölgelerin ikisi de orta kuşakta yer alır.
- C) I. Bölge'nin izdüşüm alanı daha büyüktür.
- D) II. Bölge'nin yerel saati daha ileridir.

10. Troposfer katmanının kalınlığı Ekvator çevresinde ortalama 12 km. iken kutuplarda 6 km.'ye kadar incelmektedir.

Bu farklılığın sebebi nedir?

- A) Basınç
- B) Yükselti
- C) Sıcaklık
- D) Kara ve denizlerin dağılışı

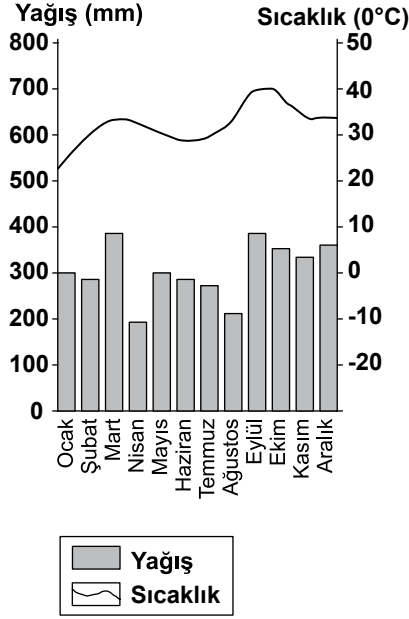


- I. C ve D noktalarında termik kökenli basınç alanı oluşmuştur.
- II. B noktasından C noktasına doğru esen rüzgarlar gittiği yerin sıcaklığını yükseltir.
- III. A noktası dinamik yüksek basınç alanıdır.

Şekilde verilen A, B, C ve D noktalarıyla ilgili olarak yukarıdakilerden hangileri doğrudur?

- A) Yalnız I
- B) Yalnız II
- C) I. ve III.
- D) II. ve III.

12.



Yukarıda bir yerin yıllık sıcaklık ve yağış grafiği verilmiştir.

Sadece bu grafiğe bakılarak bu yer hakkında aşağıdakilerden hangisi kesinlikle söylenebilir?

- A) Başlangıç meridyeninin doğusunda yer alır.
- B) Dönenceler arasında yer alır.
- C) Doğal bitki örtüsü makidir.
- D) Nüfus miktarı fazladır.

13. Aşağıdaki okyanus akıntılarında hangisi ulaştığı yerin sıcaklığını yükseltir?

- A) Kanarya
- B) Labrador
- C) Gulf Stream
- D) Oyoşiva

14. Kırsal alanlarda sıcaklığın yükseldiği dönemde insanların yaylalarda yaşamasının temel sebebi aşağıdakilerden hangisidir?

- A) Yaylalardan yakın çevrenin gözlenebilmesi
- B) Yerden yükseldikçe sıcaklığın azalması
- C) Yaylalarda oksijen miktarının fazla olması
- D) Yaylalarda yer şekillerinin sade olması

15. Atmosferde meydana gelen doğa olaylarını inceleyen bilim dalı aşağıdakilerden hangisidir?

- A) Biyocoğrafya
- B) Hidroğrafya
- C) Jemorfoloji
- D) Klimatoloji

16. Aşağıdakilerden hangisinin her haritada bulunması zorunludur?

- A) Ölçek
- B) İzohipsler
- C) İdari sınırlar
- D) Nüfus dağılışı

17. İstedığımız kadar paralel çemberi çizebilecek iken paralellerin 180 tane olmasının sebebi nedir?

- A) Dünyanın geoit şekli
- B) Ekvatora paralel uzanmaları
- C) Birer derece açıyla çizilmeleri
- D) Kutuplarda nokta halini alması

18. Haritalarda Dünya'nın şeklinden dolayı oluşan bozulmaları en aza indirmek için kullanılan yöntemlere ne ad verilir?

- A) Lejant
- B) Projeksiyon
- C) Ölçek
- D) İzohips

19. Renklendirme yöntemiyle hazırlanmış bir haritada renkler doğrudan neyi ifade etmektedir?

- A) Bitki örtüsünü
- B) Yer şekillerini
- C) Eğim değerlerini
- D) Yükselti basamaklarını

20. Dünya'nın, kendi eksenini etrafındaki dönüşünü şimdikinden daha hızlı tamamladığı düşünülürse aşağıdaki ifadelerden hangisi kesinlikle doğru olur?

- A) 1 gün 24 saatten daha kısa olurdu.
- B) Ortalama sıcaklık değerleri azalır.
- C) Ekvatorial kuşak genişler.
- D) Yerçekimi kuvveti artardı.

(152) COĞRAFYA – 2

1. Doğal çevre ve insan hakkında verilen ifadelerden hangisi yanlıştır?

- A) Canlı ve cansız varlıklardan oluşan ortama doğal çevre denir.
- B) Toprak, kayaç ve su cansız varlıklardır.
- C) İnsan ile doğal çevre arasında etkileşim yoktur.
- D) İklimin canlılar üzerinde olumlu ve olumsuz etkileri bulunmaktadır.

2. Yerleşik hayata geçen insanlar öncelikle hangi alanlara yerleşmişlerdir?

- A) Maden bölgeleri
- B) Tarım alanları
- C) Ormanlık alanlar
- D) Deniz kıyıları

3. Aşağıdakilerden hangisi beşeri coğrafyanın inceleme alanları içerisinde?

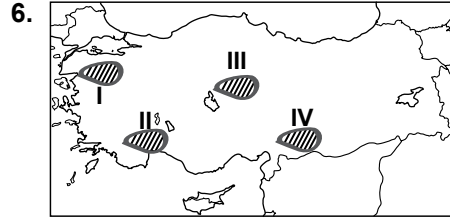
- A) Su kaynakları
- B) İklim özellikleri
- C) Enerji kaynakları
- D) Yeryüzü şekilleri

4. Aşağıdaki alanlardan hangisinde yerleşme faaliyetlerini sınırlandıran bir faktör görülmemektedir?

- A) Kıyıda uzak küçük adalar
- B) Ilıman iklim bölgeleri
- C) Gür ormanlık alanlar
- D) Engebeli alanlar

5. İdari şehirlerin kurulup gelişmesinde aşağıdakilerden hangisi daha fazla etkili olmuştur?

- A) Nüfus artışı
- B) Teknolojik ilerleme
- C) İhtiyaç fazlası üretim
- D) Ticari anlaşmazlıklar



Gaziantep platosu haritada taralı olarak verilen alanlardan hangisinin içinde bulunmaktadır?

- A) I B) II C) III D) IV

7. Aşağıdakilerden hangisi kırsal alanlarda kullanılan doğal yapı malzemesi değildir?

- A) Taş B) Tuğla
- C) Ağaç D) Kerpiç

8. Aşağıdaki şehirlerden hangisinin gelişmesinde diğerlerinden farklı bir fonksiyon etkili olmuştur?

- A) Roma B) Ankara
- C) Mekke D) Tokyo

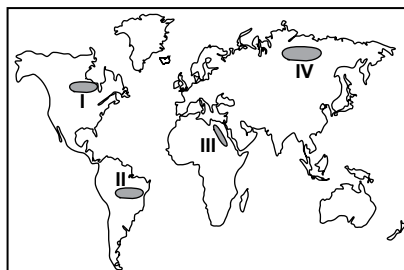
9. Geçici yerleşmelerin kurulmasında aşağıdakilerden hangisi etkili olmamıştır?

- A) Dinlenme B) Tarım
- C) Hayvancılık D) Sanayi

10. Aşağıdaki konulardan hangisi coğrafya biliminin çalışma alanı dışındadır?

- A) İklim ile bitki örtüsü arasındaki etkileşim
- B) Toprak türlerinin insan faaliyetlerine etkisi
- C) Bitkilerin çoğalması için gerekli şartlar
- D) Yeraltı kaynaklarının dağılışı

11. ve 12. soruları aşağıda verilen haritaya göre cevaplayınız.



11. Taralı olarak verilen alanların hangisinde nüfusun seyrek olmasında düşük sıcaklıklar daha etkili olmuştur?

- A) I B) II C) III D) IV

12. Taralı alanların hangisinde yerleşme sınırı daha yüksektir?

- A) I B) II C) III D) IV

13. Aşağıdaki şehirlerimizden hangisi Akdeniz İklim Bölgesi içerisinde yer alır?

- A) Ankara B) Muğla
- C) Konya D) Çorum

14. İnsanların deniz aşırı yerlerle ticari faaliyetlerde bulunması aşağıdaki şehirlerden hangisinin gelişmesine neden olmuştur?

- A) Liman kentleri
- B) Askeri kentler
- C) İdari kentler
- D) Maden kentleri

15. Aşağıdaki yerleşmelerden hangisi çizgisel doku özelliği gösterir?

- A) Toplu yerleşmeler
- B) Dağınık yerleşmeler
- C) Yol boyu yerleşmeleri
- D) Düzensiz kent yerleşmeleri

16. Aşağıda verilen illerin hangisinde yıllık ortalama sıcaklık daha yüksektir?

- A) Kocaeli B) İzmir
- C) İstanbul D) Kayseri

17.



Aşağıdakilerden hangisi haritada işaretlenmiş dağların ortak özelliğidir?

- A) Kıvrım dağ olmaları
- B) İklimlerinin aynı olması
- C) Yükseltilerinin aynı olması
- D) Karstik kayalardan oluşması

## EK SINAV

18.



Fay hatlarının uzanışı dikkate alındığında haritada işaretli yerlerden hangisinde deprem riski daha azdır?

- A) I B) II C) III D) IV

19. Antalya ili ekvatora Diyarbakır'dan daha yakındır. Ancak Diyarbakır'ın yaz sıcaklık ortalaması daha yüksektir.

Bu durumun sebebi aşağıdaki-lerden hangisidir?

- A) Karasallık B) Yükselti  
C) Bakı D) Bitki örtüsü

20. Ülkemiz arazisinin bugünkü görünümünü kazandığı jeolojik zaman aşağıdakilerden hangisidir?

- A) Paleozoik B) Mezozoik  
C) Tersiyer D) Kuaterner

### (153) COĞRAFYA – 3

1. Aşağıdakilerden hangisi levha hareketleri sonucu oluşmuştur?

- A) Kıvrım dağlar  
B) Peri bacaları  
C) Polye ovası  
D) Falez

2. Aşağıdakilerden hangisi sıcak su kaynaklarının kullanım alanlarından biri değildir?

- A) Tarımsal sulama  
B) Termal turizm  
C) Kültür balıkçılığı  
D) Seraların ısıtılması

3. Aşağıdakilerden hangisi volkan tüfünün özellikleri arasında gösterilemez?

- A) İnce boyutlu malzemelerden oluşur.  
B) Genellikle açık renktedir.  
C) Aşınmaya karşı dirençsizdirler.  
D) Yerin derinliklerinde bulunurlar.

4. Bir ülkede aşağıdaki kaynak türlerinden hangisinin yaygın olarak görülmesi, o ülkenin depremselliği hakkında bilgi verir?

- A) Gayzer kaynağı  
B) Yamaç kaynağı  
C) Artezyen kaynak  
D) Karstik kaynaklar

5. I. Bir dağ yamacı boyunca bitki örtüsünün farklılık göstermesi  
II. Çöllerde kurakçıl bitkilerin görülmesi  
III. Gevşek dokulu topraklarda bitkilerin daha kolay gelişmesi

Yukarıda verilenlerden hangileri sıcaklık ve yağış şartlarının bitkilerin dağılışına etki ettiğine örnek olarak gösterilebilir?

- A) Yalnız I B) Yalnız II  
C) I. ve II. D) II. ve III.

6. Aşağıdakilerden hangisi yükseltinin toprak oluşumunu etkilediğine kanıt olarak gösterilebilir?

- A) Toprak kalınlığının her yerde aynı olmaması  
B) Toprağın farklı horizonlardan oluşması  
C) Bir dağ yamacında farklı toprakların görülmesi  
D) Farklı renklerde toprakların oluşması

7. Göllerin fazla sularını boşaltan akarsulara ne ad verilir?

- A) Akifer B) Gidegen  
C) Akım D) Rejim

8. Aşağıdakilerden hangisi zonal toprakların özellikleri arasında gösterilemez?

- A) Anakayanın ayrışmasıyla oluşmuşlardır.  
B) Toprak horizonları sıralı biçimde bulunur.  
C) Bulunduğu yerin iklim özelliklerini yansıtır.  
D) Dış kuvvetler tarafından taşınmışlardır.

9. Kalkerli arazi üzerinde oluşmuş bir göl için aşağıdakilerden hangisi kesinlikle söylenebilir?

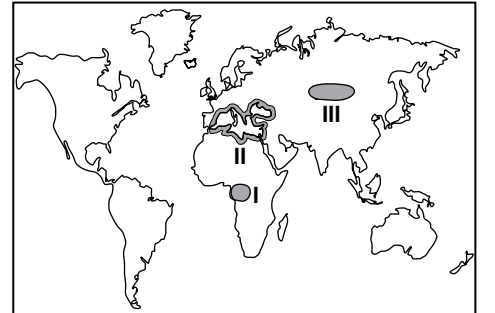
- A) Suları kireçlidir.  
B) Göl dışı akışlıdır.  
C) Suları sürekli soğuktur.  
D) Deniz seviyesinden yüksektir.

10. I. Kuzeyden gelen rüzgarların sıcaklığı düşürmesi  
II. Doğusu ile batısı arasında 76 dakika zaman farkı bulunması  
III. Kuzeye gidildikçe güneş ışınlarının geliş açısının küçülmesi

Yukarıdakilerden hangisi ülkemizin Kuzey Yarım Küre'de yer almasının sonucunda oluşmuştur?

- A) Yalnız I B) II. ve III.  
C) I. ve II. D) I. ve III.

11.



Haritada işaretli alanlarda yaygın olarak görülen bitki formasyonları aşağıdakilerden hangisinde doğru verilmiştir?

- | I       | II   | III  |
|---------|------|------|
| A) Çalı | Ot   | Ağaç |
| B) Çalı | Ağaç | Ot   |
| C) Ağaç | Çalı | Ot   |
| D) Ot   | Ağaç | Çalı |



## EK SINAV

12. Ülkemizde dağlar genellikle doğu-batı doğrultuda uzanış göstermektedir.

**Bu durum ülkemizin hangi özelliğinden kaynaklanmaktadır?**

- A) Karstik arazinin geniş yer kaplaması
- B) Üç tarafının denizlerle çevrili olması
- C) Dış kuvvetlerin bu yönde aşındırma yapması
- D) Alp-Himalaya Orojenez sisteminde yer alması

13. Aşağıdakilerden hangisi dünya nüfusunda herhangi bir değişikliğe neden olmaz?

- A) Savaşlar
- B) Göçler
- C) Salgın hastalıklar
- D) Doğal afetler

14. I. Tarımsal faaliyetlerin yaygın olması  
II. Eğitim seviyesinin düşük olması  
III. Aile planlamasının yapılması

**Az gelişmiş ülkelerde nüfus artış hızının yüksek olmasının sebepleri arasında yukarıdakilerden hangileri gösterilebilir?**

- A) Yalnız I
- B) Yalnız III
- C) I. ve II.
- D) I. ve III.

15. Aşağıdakilerden hangisinin Dünya nüfusunun artmasında etkili olduğu söylenemez?

- A) Beslenme koşullarının iyileşmesi
- B) Kadınların çalışma hayatına girmesi
- C) Tıp alanındaki ilerlemeler
- D) Sanayi devrimi

16. 2000 yılı nüfus sayımı anket formundaki bir soru: "Beş yıl önce şu anda ikamet ettiğiniz yerleşim yerinde mi yaşıyordunuz?" şeklindedir.

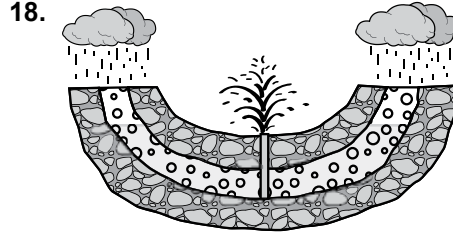
**Bu soru ile aşağıdaki bilgilerden hangisi elde edilebilir?**

- A) Nüfusun eğitim düzeyi
- B) Nüfus hareketleri
- C) Aritmetik nüfus yoğunluğu
- D) Tarımsal nüfus yoğunluğu

17. I. Himalaya dağları  
II. Orta Asya  
III. Kutup çevresi

**Yukarıda verilen alanların hangisinde nüfus yoğunluğunun az olmasında yer şekilleri temel etkindir?**

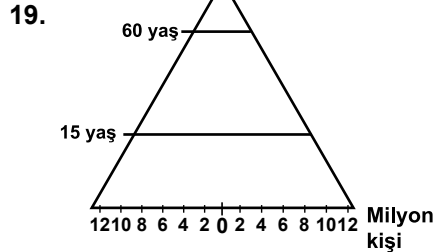
- A) Yalnız I
- B) Yalnız II
- C) I. ve II.
- D) I. ve III.



- Geçirimsiz tabaka
- Geçirimli tabaka

**Şekilde gösterilen kaynak türü aşağıdakilerden hangisidir?**

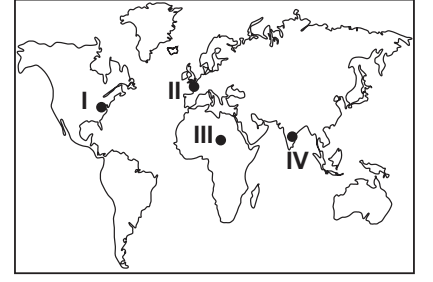
- A) Gayzer
- B) Fay kaynağı
- C) Karstik kaynak
- D) Artezyen



**Düzgün üçgene benzeyen nüfus piramidine sahip bir ülke için aşağıdaki çıkarımlardan hangisi yapılamaz?**

- A) Doğum oranı yüksektir.
- B) Ortalama ömür uzundur.
- C) Kişi başına düşen milli gelir azdır.
- D) Tarım sektöründe çalışanların oranı fazladır.

20.



**Yukarıdaki Dünya haritasında işaretli noktaların hangilerinde nüfus yoğunluğunun fazla olmasında ulaşım faaliyetleri daha etkili olmuştur?**

- A) I ve II
- B) II ve III
- C) I ve IV
- D) II ve IV

### (154) COĞRAFYA – 4

1. Aşağıdakilerden hangisi volkanik dağdır?

- A) Karacadağ
- B) Aydın dağları
- C) Kafkas Dağları
- D) Kaçkar Dağları

2. Aktif volkan bölgeleri insan yaşamı için tehlikeli olmasına karşın nüfusun yoğun olduğu alanlardır.

**Bu durum volkanik bölgelerin hangi özelliğiyle açıklanabilir?**

- A) Ulaşım imkânlarının kolaylığıyla
- B) Tarihi şehirlere yakın olmalarıyla
- C) Turizm bakımından gelişmiş olmalarıyla
- D) Verimli tarım alanları oluşturmalarıyla

3. Aşağıdakilerden hangisi ormanlardan elde edilen ana üründür?

- A) Tomruk
- B) Reçine
- C) Sığla yağı
- D) Defne yaprağı

4. Aşağıdakilerden hangisi Türkiye'deki akarsuların özellikleri arasında yer almaz?

- A) Akış hızları fazladır.
- B) Yatak eğimleri fazladır.
- C) Taşımacılığa elverişlidir.
- D) Hidroelektrik potansiyelleri yüksektir.

## EK SINAV

5. Tuz Gölü'nün yüzölçümünde yıl içinde görülen önemli değişimin sebebi aşağıdakilerden hangisidir?

- A) Gölde sürekli tuz elde edilmesi
- B) Göl çevresinin orman bakımından fakir olması
- C) Göl çevresindeki arazinin sade yapıda olması
- D) Yaz mevsiminin aşırı sıcak ve kurak geçmesi

6. Aşağıdakilerden hangisi yoğun biçimde göç verdiği için nüfusu azalan illerimizden biridir?

- A) Antalya B) Aydın
- C) Artvin D) Manisa

7. Aşağıdaki liman şehirlerinden hangisinin hinterlandı diğerlerine göre daha dardır?

- A) İzmir B) Trabzon
- C) İzmit D) Mersin

8. Ülkemizde yaylacılık faaliyetlerindeki temel amaç aşağıdakilerden hangisidir?

- A) Arıcılık yapmak
- B) Sebze yetiştirmek
- C) Hayvanları otlatmak
- D) Festivaller düzenlemek

9. Aşağıdakilerden hangisi bir yerleşim biriminin kırsal veya kent olarak sınıflandırılmasında göz önüne alınan temel faktördür?

- A) Yükseltisi B) Arazi yapısı
- C) Bitki örtüsü D) Nüfus miktarı

10. Aşağıdaki doğal afetlerden hangisinin oluşumunda insan etkisi vardır?

- A) Deprem B) Erozyon
- C) Tsunami D) Volkanizma

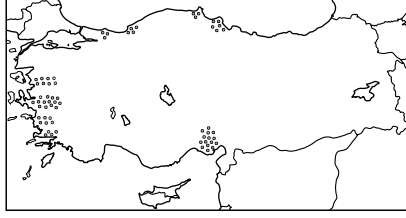
11. Aşağıdakilerden hangisi göçe neden olan itici faktörlerden biri değildir?

- A) Sağlık imkânlarının yetersiz olması
- B) Tarımda makineleşmenin artması
- C) Kentlerde iş imkânlarının fazla olması
- D) Miras yoluyla toprakların parçalanması

12. Toprak yüzeyinin dış kuvvetler tarafından aşındırılarak taşınmasına ne denir?

- A) Erozyon B) Ekosistem
- C) Humus D) Podzolleşme

13.



Haritada noktalanarak gösterilen alanlarda aşağıdaki toprak türlerinden hangisi daha yaygındır?

- A) Terra - Rossa
- B) Alüvyon
- C) Çernezyom
- D) Kahverengi Bozkır Toprakları

14. Türkiye'nin günümüz nüfusu yaklaşık olarak ne kadardır?

- A) 15 milyon kişi
- B) 30 milyon kişi
- C) 75 milyon kişi
- D) 90 milyon kişi

15. Aşağıdakilerden hangisi ülkemizin iğne yapraklı ağaç türlerinden biridir?

- A) Akçaağaç B) Meşe
- C) Kestane D) Sedir

16. Aşağıdakilerden hangisi gelişmiş ülkelere ait nüfus özelliği değildir?

- A) Nüfus artış hızı yüksektir.
- B) Okur-yazar oranı yüksektir.
- C) Doktor başına düşen hasta sayısı azdır.
- D) Aktif nüfusun büyük kısmı hizmet sektöründe çalışmaktadır.

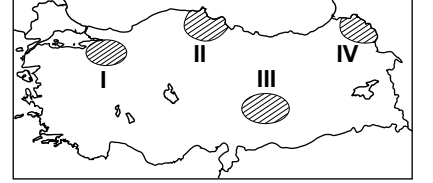
17. Aşağıdakilerden hangisi nüfus piramitlerinden belirlenebilen bir özelliktir?

- A) Tarımda çalışan sayısı
- B) Kentsel nüfus miktarı
- C) Sağlık harcamaları
- D) Nüfus artış hızı

18. Aşağıdakilerden hangisi "aktif nüfus" kavramını doğru açıklamaktadır?

- A) Çalışma çağına olduğu halde çalışmayan nüfusa denir.
- B) Genel nüfus içinde bir işte çalışan tüm nüfusa denir.
- C) Çalışma çağındaki dilimde olup işi olan nüfusa denir.
- D) İş olsun olmasın çalışma çağındaki nüfusun tamamına denir.

19.



Haritada numaralandırılarak verilen taralı alanların hangisi daha fazla göç almaktadır?

- A) I B) II C) III D) IV

20. Telefonun icadı aşağıda verilen tarih aralıklarının hangisinde gerçekleşmiştir?

- A) 1600-1700 B) 1700-1800
- C) 1800-1900 D) 1900-2000

### (155) COĞRAFYA – 5

1. Aşağıdakilerden hangisi bitki örtüsü zayıf ve seyrek olan yerlerin ortak özelliğidir?

- A) Sanayinin gelişmiş olması
- B) Yıllık yağış miktarının az olması
- C) Nüfus yoğunluğunun yüksek olması
- D) Yıllık sıcaklık ortalamasının düşük olması

2. İnsan faaliyetleri sonucunda bazı hayvan türleri yok olurken bazı türler de göçe zorlanmaktadır.

Buna göre aşağıdakilerden hangisi kesinlikle söylenebilir?

- A) Canlı türleri arasında rekabet yoktur.
- B) İnsan canlıların yeryüzüne dağılımını etkiler.
- C) Besinlerin azalması canlı türlerini artırır.
- D) Canlılar sürekli göç halinde yaşamak zorundadırlar.

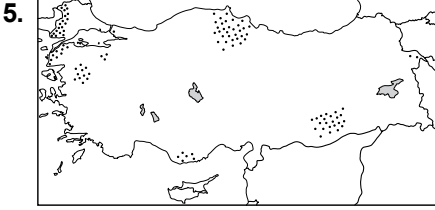
## EK SINAV

3. Atmosferdeki nemin en büyük kaynağı aşağıdakilerden hangisidir?

- A) Okyanuslar B) Denizler  
C) Akarsular D) Göller

4. Teke ve Taşeli platolarında aşağıdaki ekonomik faaliyetlerden hangisi daha yoğun yapılır?

- A) Turizm B) Madencilik  
C) Sanayi D) Hayvancılık



Haritada üretim alanları noktalananarak gösterilen tarım ürünü aşağıdakilerden hangisidir?

- A) Pirinç B) Buğday  
C) Fındık D) Mısır

6. Türkiye'nin nüfus özelliklerinden hangisi ekonomik gelişimini olumsuz etkiler?

- A) İş gücü ihtiyacının karşılanması  
B) Nüfusun eğitim seviyesinin yükselmesi  
C) Bağımlı nüfus oranının yüksek olması  
D) Genç ve dinamik nüfusa sahip olması

7. Taş kömürü yataklarının çevresinde öncelikle hangi sanayi kolu gelişmiştir?

- A) Boya B) Demir-Çelik  
C) Mobilya D) Konfeksiyon

8. Aşağıdakilerden hangisi yağ bitkisidir?

- A) Zeytin B) Tütün  
C) Nohut D) Anason

9. Aşağıdakilerden hangisi biyoçeşitliliği olumlu yönde etkiler?

- A) Suların kirlenmesi  
B) Kentleşmenin hızlanması  
C) İnsan nüfusunun artması  
D) Erozyonla mücadele edilmesi

10. New York'un küresel etkiye sahip olmasında aşağıdaki fonksiyonlardan hangisi daha fazla etkili olmuştur?

- A) Tarım B) Madencilik  
C) Hayvancılık D) Ulaşım

11. Aşağıdakilerden hangisi tropikal yağmur ormanlarının genel özelliğidir?

- A) Uzun boylu ve geniş yapraklı ağaçlardan oluşurlar.  
B) Kış mevsiminde yapraklarını döken ağaçlardan oluşurlar.  
C) Kuzey yarımküre'de 45°-70° enlemleri arasında yayılış gösterirler.  
D) Biyoçeşitlilik bakımından fakir ormanlardır.

12. Aşağıdaki şehirlerden hangisinin küresel etkisi daha fazladır?

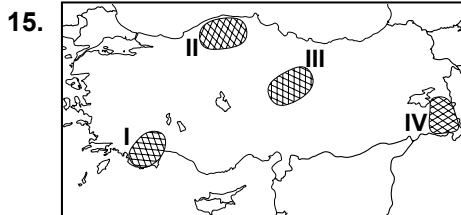
- A) Şam B) Buenos Aires  
C) Budapeşte D) Tokyo

13. Aşağıdaki ürünlerden hangisinin tüketim noktalarına ulaştırılmasında modern depolama ve hızlı taşıma sektörlerine daha çok ihtiyaç duyulur?

- A) Deniz ürünleri  
B) Turunçgiller  
C) Tahıllar  
D) Tekstil ürünleri

14. Türkiye'nin fiziki özelliklerinden hangisi ekonomisini olumsuz etkiler?

- A) Sık akarsu ağına sahip olması  
B) Kıyılarında büyük delta ovalarının olması  
C) Arazisinin büyük kısmının dağlık ve engebeli olması  
D) Platoların geniş yer tutması



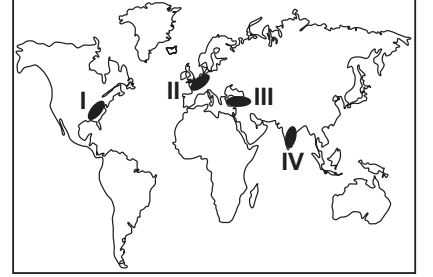
Haritadaki taralı alanların hangisinde koyun sayısı daha fazladır?

- A) I B) II C) III D) IV

16. Orman yangınları aşağıda verilen illerimizin hangisinde daha çok yaşanmaktadır?

- A) Muğla B) İstanbul  
C) Bolu D) Rize

17.



Haritada işaretli yerlerden hangisinde nüfus artış hızını azaltmaya yönelik politikalar uygulanmaktadır?

- A) I B) II C) III D) IV

18. Tarihsel süreçte ilk şehirler Mezopotamya, Nil vadisi, İndus nehri kıyıları gibi alanlarda kurulmuştur.

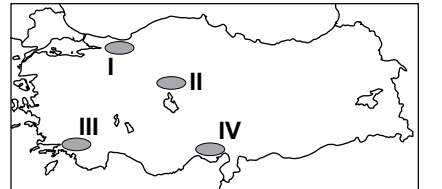
Bu durumun sebebi nedir?

- A) Ulaşımın kolay olması  
B) Tarım alanlarının varlığı  
C) Ticari faaliyetlerin gelişmiş olması  
D) Yeraltı kaynaklarının zengin olması

19. Aşağıdaki şehirlerden hangisinin küresel etki alanı diğerlerine göre daha dardır?

- A) Lefkoşa B) Roma  
C) New York D) İstanbul

20.



Haritada işaretlenmiş bölgelerin hangisinde yer şekillerinin yerleşme faaliyetleri üzerindeki olumsuz etkisi daha fazladır?

- A) I B) II C) III D) IV



1. Aşağıdakilerden hangisi doğal turizm alanlarından biridir?

- A) Kongreler B) Kamping  
C) Kaplıcalar D) Festivaller

2. Aşağıdakilerden hangisi kültür tanımlar?

- A) Canlı ve cansız öğelerden oluşan en küçük çevre bilimidir.  
B) Bir grup insanın bireysel ve toplu yaşamlarında etkili olan değerler bütünüdür.  
C) Canlı varlıkların etkilendikleri ve çeşitli yollardan etkiledikleri mekânlardır.  
D) Belli bir çevrenin sürekli olarak besleyebileceği belli bir türe ait maksimum birey sayısıdır.

3. Bir ülkenin ithalatında ham maddelerin, ihracatında ise mamül ürünlerin payı daha büyükse bu ülke için aşağıdakilerden hangisi kesin olarak söylenebilir?

- A) Genç nüfusunun fazla olduğu  
B) Madence zengin olduğu  
C) Sanayisinin gelişmiş olduğu  
D) Turizminin gelişmiş olduğu

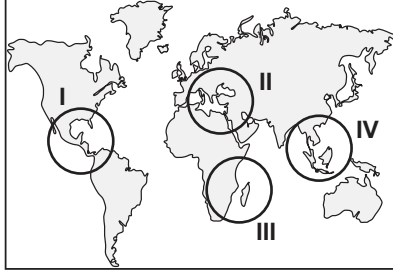
4. Tarım topraklarının tuzlanması ve göllerin kurumması aşağıdaki doğal kaynaklardan hangisinin bilinçsiz kullanımı sonucu görülür?

- A) Su  
B) Toprak  
C) Bitki örtüsü  
D) Yeraltı Kaynakları

5. Aşağıdaki enerji kaynaklarından hangisi doğal çevreyi daha az kirletir?

- A) Linyit B) Taş kömürü  
C) Doğalgaz D) Petrol

6.



Dünyanın Yedi Harikası, haritada numaralandırılarak verilen alanlardan hangisinin içinde yer alır?

- A) I B) II C) III D) IV

7. Petrol üretiminde meydana gelen dalgalanmalar aşağıdaki sektörlerden hangisini daha az etkiler?

- A) Tarım B) Ulaşım  
C) Sanayi D) Enerji

8. Aşağıdakilerden hangisi sanayi devrimiyle birlikte İngiltere’de gözlemlenen bir durum değildir?

- A) Şehirleşme  
B) Nüfus artışı  
C) Ekonomik gelişme  
D) Enerji talebinin azalması

9. Hindistan tarım ülkesi olmasına rağmen gıda ihtiyacının bir kısmını dışarıdan ithal etmektedir.

Bunun nedeni aşağıdakilerden hangisidir?

- A) Muson ikliminin görülmesi  
B) Geleneksel tarım yöntemleri  
C) Platoların geniş yer kaplaması  
D) Deniz ulaşımına önem vermesi

10. Hollanda’da her mevsim yağışlı iklim görülmesinin temel nedeni aşağıdakilerden hangisidir?

- A) Batı rüzgârları  
B) Tek iklimin görülmesi  
C) Bulunduğu enlemin etkisi  
D) Gulf-Stream sıcak su akıntısı

11. Aşağıdakilerden hangisinin doğal çevreye zararı daha fazladır?

- A) Dalga enerjisinin  
B) Nükleer enerjinin  
C) Jeotermal enerjinin  
D) Hidrojen enerjisinin

12. Aşağıdakilerden hangisi alternatif enerji kaynağıdır?

- A) Kömür B) Odun  
C) Rüzgâr D) Doğalgaz

13. Dünyadaki hiçbir ülke, ihtiyaçlarının tamamını üretecek kaynak ve kapasiteye sahip değildir.

Bu durum aşağıdakilerden hangisinin ortaya çıkmasına sebep olmuştur?

- A) Beyin göçünün  
B) Uzay çalışmalarının  
C) Turizm faaliyetlerinin  
D) Küresel ticaretin

14. 1994 yılında yürürlüğe giren, Kanada, ABD ve Meksika arasında imzalanan ticaret antlaşması aşağıdakilerden hangisidir?

- A) KEİ B) OPEC  
C) OECD D) NAFTA

15. Sanayi sektörünün doğup gelişmesinde etkisi olan ilk enerji kaynağı aşağıdakilerden hangisidir?

- A) Petrol B) Taş kömürü  
C) Rüzgâr D) Doğal gaz

16. Yatağan ilçemizde yer alan elektrik üretim tesisi hangi türde bir santraldir?

- A) Termik  
B) Nükleer  
C) Jeotermal  
D) Hidroelektrik

17. Kentlerin yakınlarında yer alan çöp toplama merkezleri hangi enerji türünün üretim alanıdır?

- A) Hidrojen B) Hidroelektrik  
C) Biyodizel D) Biyogaz

## EK SINAV

18. Sıklıkla taşkın ve sellerin yaşandığı bir akarsu üzerinde tedbir olarak aşağıdakilerden hangisi yapılmaz?

- A) Akarsu vadisinin uygun kesimlerine baraj yapmak.
- B) Tesis ve evleri akarsu vadisinin uzağına yapmak.
- C) Moloz yığınlarını akarsu yataklarına bırakmak.
- D) Akarsu yatağının kenarlarına setler yapmak.

19. Aşağıdakilerden hangisi Japonya'nın beseri bir özelliğidir?

- A) Zengin bitki örtüsüne sahip olması
- B) Pek çok adadan oluşan bir devlet olması
- C) Yeryüzü şekillerinin oldukça dağlık olması
- D) Gelişmiş ve modern ulaşım ağına sahip olması

20. ABD, Fransa, Hollanda gibi gelişmiş ülkelerin tarım faaliyetlerinde öne çıkan özellik aşağıdakilerden hangisidir?

- A) Modern yöntemlerle ticarete yönelik üretim yapmaları
- B) Üretimde insan emeğini yoğun şekilde kullanmaları
- C) İhtiyaçlarını karşılamaya yönelik üretim yapmaları
- D) Tarım sektörüne yeterli önemi vermemeleri

### (157) COĞRAFYA – 7

1. İlk medeniyetlerin genelde 0° - 40° kuzey enlemleri arasında gelişmesinde etkili olan en önemli faktör aşağıdakilerden hangisidir?

- A) İklim
- B) Yer şekilleri
- C) Doğal afetler
- D) Ulaşım imkanları

2. Aşağıdakilerden hangisi bir şehirde sanayi faaliyetlerinin gelişmesi sonucunda gözlenen bir durum değildir?

- A) Nüfus artışı
- B) Kültürel değişim
- C) Ekonomik gelişme
- D) Yüzölçümünün azalması

3. Aşağıdakilerden hangisi teknolojinin zararlarından biridir?

- A) Hayat standardını yükseltmesi
- B) Doğal kaynakları tüketmesi
- C) Yeni iş sahaları oluşturmaları
- D) Hizmet sektörünün çeşitlenmesi

4. Ülkemizde kara yollarının genellikle akarsu vadileri ve çöküntü alanlarıyla paralellik göstermesinin nedeni aşağıdakilerden hangisidir?

- A) Yüksek ve engebeli bir araziye sahip olması
- B) Çöküntü alanlarının alüvyonlu olması
- C) Bitki örtüsünün seyrek olması
- D) İklim koşullarının uygun olması

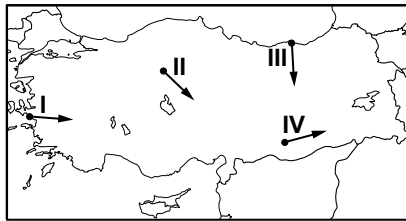
5. Türkiye'de iç ticaretin canlı olmasında aşağıdakilerden hangisinin etkisi daha azdır?

- A) Tarım faaliyetleri
- B) Sanayi faaliyetleri
- C) Enerji üretimi
- D) Kültürel çeşitlilik

6. Ülkemizin hemen hemen her bölgesinde tarihi yapıların bulunması aşağıdakilerden hangisiyle açıklanır?

- A) İç göçlerin fazla olmasıyla
- B) Farklı iklimlerin görülmesiyle
- C) Toprak yapısının uygunluğuyla
- D) Farklı medeniyetlerin yaşamasıyla

7.



Ülkemizin yer şekilleri dikkate alındığında haritada numaralı oklardan hangisinde yapılacak karayolunun maliyeti daha yüksek olur?

- A) I. B) II. C) III. D) IV.

8. Gebze'de nüfusun hızla artmasında etkili olan en önemli ekonomik faaliyet aşağıdakilerden hangisidir?

- A) Sanayi
- B) Tarım
- C) Turizm
- D) Madencilik

9. Aşağıdaki alanlardan hangisinde madencilik faaliyetleri daha yoğundur?

- A) Antalya ve çevresi
- B) Zonguldak ve çevresi
- C) Adana ve çevresi
- D) Konya ve çevresi

10. Aşağıdakilerden hangisi Ruhr Havzası'nın yoğunlaştığı ekonomik faaliyet alanlarından biri değildir?

- A) Makine-taşıt
- B) Orman ürünleri
- C) Elektronik aletler
- D) Kimyasal maddeler

11. Aşağıdaki bölgelerden hangisi ekonomik özelliklerine göre belirlenmemiştir?

- A) Tarım Bölgesi
- B) Maden Bölgesi
- C) Dağlık Bölge
- D) Turizm Bölgesi

12. Aşağıdakilerden hangisi Almanya'da sanayinin gelişmesinde daha fazla etkili olmuştur?

- A) Coğrafi özelliklerinin uygun olması
- B) Dışarıdan çok sayıda işçi göçü alması
- C) Verimli tarım alanlarına sahip olması
- D) Ruhr ve Saar havzalarındaki maden yatakları

13. Bir yerde ticaretin gelişmesinde aşağıdakilerden hangisinin etkisi daha azdır?

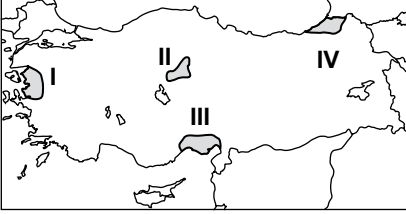
- A) Toprak çeşidi
- B) Ulaşım imkanları
- C) Coğrafi konum
- D) Nüfus miktarı

## EK SINAV

14. Aşağıdakilerden hangisi hidroserf k kenli doęal olaydır?

- A) Deprem B) Kuraklık  
C) Tsunami D) Fırtına

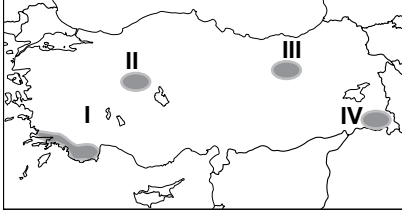
15.



Haritada numaralandırılarak verilen yerlerin hangisi karasal iklim b lgesindedir?

- A) I B) II C) III D) IV

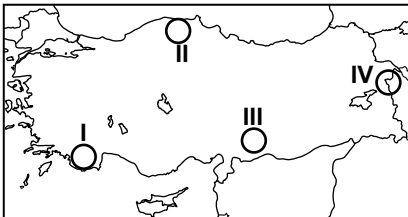
16.



Haritada numaralandırılarak verilen alanlardan hangisinde turunęgil tarımı yaygındır?

- A) I. B) II. C) III. D) IV.

17.



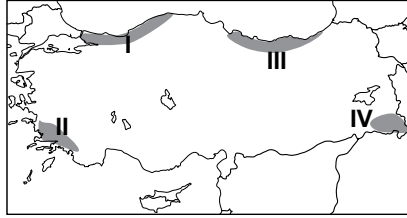
Osmanlı mimarisinin  nemli yapıtlarından biri olan İshakpaş Sarayı haritada numaralandırılarak verilen alanların hangisinde yer almaktadır?

- A) I B) II C) III D) IV

18. Aşağıdaki  lkelerin hangisinde  en n fus oranı daha fazladır?

- A) Almanya B) T rkiye  
C) İspanya D) Japonya

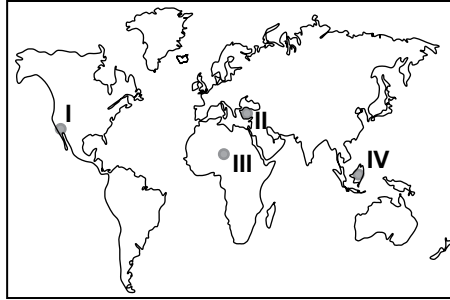
19.



Haritada numaralandırılarak verilen alanların hangisinde kış aylarında karayolu ulaşımda aksamalar daha fazla yaşanmaktadır?

- A) I. B) II. C) III. D) IV.

20.



D nya haritasında numaralandırılarak verilen yerlerin hangisinde deprem g r lme olasılığı daha azdır?

- A) I. B) II. C) III. D) IV.

### (158) COęRAFYA – 8

1. T rkiye'nin kuzeydoęusunda yer alan sınır komşusu aşağıdakilerden hangisidir?

- A) Irak B) İran  
C) G rcistan D) Bulgaristan

2. Kırsal yerleşmelerde n fus miktarını aşağıdakilerden hangisi daha  ok etkiler?

- A) Tarımda makineleşme  
B) İş g c ne ihtiya duyulması  
C) Bebek  l mlerinin yaşanması  
D) N fusun askeri g  olarak g r lmesi

3.  lkelerin gelişmişlik d zeyini belirlemede en  nemli  l t aşağıdakilerden hangisidir?

- A) Toplam n fus  
B) İş g c  ihtiyaı  
C) Baęımlı n fus sayısı  
D) Kişı başına d şen gelir

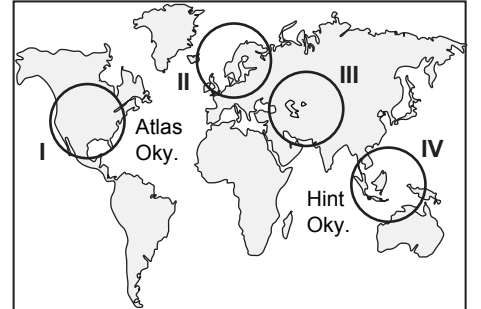
4. Aşağıdakilerden hangisinin gelişmesinde T rkiye'nin, Asya ve Avrupa kıtaları arasında bulunmasının etkisi yoktur?

- A) Ticari faaliyetler  
B) Yeraltı kaynakları  
C) Turizm etkinlikleri  
D) K lt rel zenginlik

5. Aşağıdakilerden hangisi Orta Doęu petrollerinin  ıkış kapısı olarak tarif edilir?

- A) Bering Boęazı  
B) H rm z Boęazı  
C) Macellan Boęazı  
D) Cebelitarık Boęazı

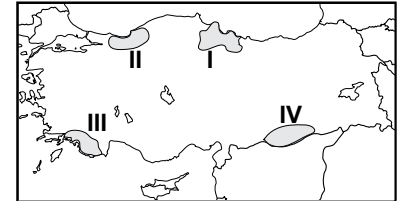
6.



Hazar Havzası petrol rezervleri haritada numaralandırılarak verilen alanların hangisinde yer almaktadır?

- A) I B) II C) III D) IV

7.



Yeşilırmak Havzası Gelişim Projesi haritada numaralandırılmış alanların hangisinde uygulanmaktadır?

- A) I. B) II. C) III. D) IV.

## EK SINAV

8. Türkiye'nin uluslararası ilişkileri üzerinde aşağıdakilerden hangisinin etkisi daha azdır?

- A) Askeri gücünün
- B) Coğrafi konumunun
- C) Yeraltı kaynaklarının
- D) Kültürel değerlerinin

9. Aşağıdaki sorunlardan hangisi Türkiye'yi doğrudan ilgilendirmektedir?

- A) Kıbrıs sorunu
- B) Filistin sorunu
- C) Kosova sorunu
- D) Makedonya sorunu

10. Orta Doğu'nun uluslararası alanda önemli bir bölge olmasında aşağıdakilerden hangisinin etkisi daha azdır?

- A) Kutsal mekânları barındırması
- B) Ticaret yollarının kavşak noktasında bulunması
- C) Sıcak iklim özelliklerine sahip olması
- D) Petrol rezervlerinin büyük bir bölümüne sahip olması

11. Ülkeler arasındaki su sorunu, su kaynaklarının ortak kullanıma açık olmasından kaynaklanmaktadır.

**Buna göre aşağıdaki akarsulardan hangisi uluslararası sorunlara neden olabilir?**

- A) Gediz
- B) Göksu
- C) Dicle
- D) Yeşilirmak

12. Bir ülkenin nüfus piramidinin tabanı daralıyorsa bunun nedeni aşağıdakilerden hangisidir?

- A) İç göçlerin yaşanması
- B) İşsizlik oranının artması
- C) Bağımlı nüfusun artması
- D) Nüfus artış hızının düşmesi

13. Ülkelerin siyasi açıdan dünya üzerinde bulundukları yeri ve etkilerini araştıran bilim aşağıdakilerden hangisidir?

- A) Biyocoğrafya
- B) Fiziki coğrafya
- C) Siyasi coğrafya
- D) Ekonomik coğrafya

14. Topraklar için aşağıdakilerden hangisi söylenemez?

- A) Yapay olarak üretilebilir.
- B) Çevre kirliliğini engeller.
- C) İnsan yaşamı için vazgeçilmezdirler.
- D) Ekonomik değerleri yüksektir.

15. İnsani Gelişme Endeksi hangi kuruluş tarafından yayınlanmaktadır?

- A) Avrupa Birliği
- B) Birleşmiş Milletler
- C) Avrupa Konseyi
- D) Dünya Bankası

16. Almanya ekonomisinde aşağıdaki sektörlerden hangisinin payı daha fazladır?

- A) Madencilik
- B) Tarım
- C) Sanayi
- D) Turizm

17. Toprakların en önemli işlevi nedir?

- A) Atıkların emilmesini sağlaması
- B) Organizmalara yaşam alanı olması
- C) Sosyo ekonomik faaliyetler yapılabilmesi
- D) Tarihi ve kültürel mirası barındırması

18. Aşağıdakilerden hangisi doğal mirasın korunmasında yapılan yanlış bir uygulamadır?

- A) Su kaynaklarının hızlı tüketilmesi
- B) Ormanların gençleştirilip, genişletilmesi
- C) Çöplerin geri dönüşüm için ayıklanması
- D) Düşük yakıt tüketen araçların tercih edilmesi

19. Doğu Anadolu Projesi içerisinde yer alan illerde yoğun olarak yapılan ekonomik faaliyet aşağıdakilerden hangisidir?

- A) Sanayi
- B) Madencilik
- C) Ticaret ve Ulaşım
- D) Tarım ve Hayvancılık

20. Gelişmekte olan bir ülkede aşağıdaki durumlardan hangisi gözlemlenmez?

- A) İstihdam miktarı artar.
- B) Enerjiye olan talep azalır.
- C) Sanayi ve hizmet sektörü gelişir.
- D) Kişi başına düşen milli gelir yükselir.

### (163) MATEMATİK – 3

1. Birbirinden farklı 4 pantolon, 5 gömlek ve 2 kravatı olan bir kişi, 1 pantolon, 1 gömlek ve 1 kravatı kaç farklı şekilde seçebilir?

- A) 40
- B) 28
- C) 20
- D) 11

2.  $\frac{n!}{(n-2)!} = 132$  olduğuna göre,  $n$  kaçtır?

- A) 10
- B) 11
- C) 12
- D) 13

3. Hilesiz iki zar atılması deneyinde üst yüze gelen sayıların toplamının 4 olma olasılığı nedir?

- A)  $\frac{1}{18}$
- B)  $\frac{1}{12}$
- C)  $\frac{5}{36}$
- D)  $\frac{1}{6}$

4.  $K = \{a, b, c, d, e, f\}$  kümesinin 4 elemanlı alt kümelerinin sayısı kaçtır?

- A) 24
- B) 20
- C) 15
- D) 10

5.  $f, g: \mathbb{R} \rightarrow \mathbb{R}, f(x) = x^2 + 3x - 1$  ve  $g(x) = 3x - 5$  olduğuna göre,  $(f + g)(1)$  değeri kaçtır?

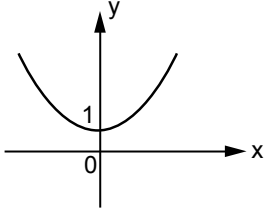
- A) 3
- B) 1
- C) -1
- D) -3

6.  $f$  bire bir ve örten bir fonksiyondur.  $f(x) = 3x + 5$  olduğuna göre,  $f^{-1}(x)$  aşağıdakilerden hangisidir?

- A)  $\frac{x+5}{3}$
- B)  $3x - 5$
- C)  $-3x - 5$
- D)  $\frac{x-5}{3}$

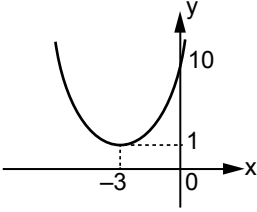
# EK SINAV

7.

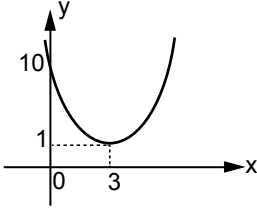


Yukarıda  $f(x) = x^2 + 1$  fonksiyonunun grafiği veriliyor. Buna göre,  $f(x+3)$  fonksiyonunun grafiği aşağıdakilerden hangisidir?

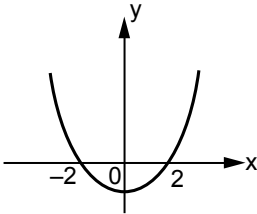
A)



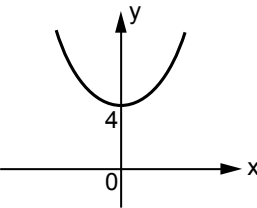
B)



C)



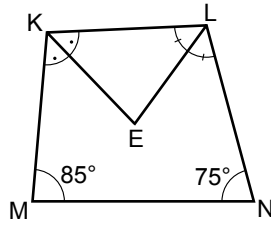
D)



8.  $f, g: \mathbb{R} \rightarrow \mathbb{R}$ ,  $f(x) = x + 2$ ,  
 $g(x) = 3x - 1$  fonksiyonları veriliyor. Buna göre,  $(f \circ g)(3)$  değeri kaçtır?

A) 8 B) 9 C) 10 D) 11

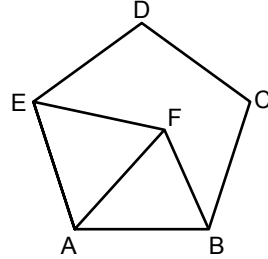
9.



Şekildeki KMNL dörtgeninde  $[KE]$ ,  $ML$ 'nin;  $[LE]$ ,  $KN$ 'nin açıortayıdır.  $m(\widehat{KMN}) = 85^\circ$  ve  $m(\widehat{LNM}) = 75^\circ$  olduğuna göre,  $m(\widehat{KEL})$  kaç derecedir?

A) 70 B) 80 C) 90 D) 100

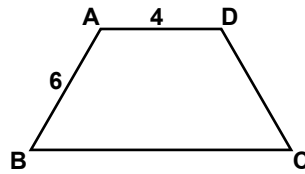
10.



ABCDE düzgün beşgen ve AFE eşkenar üçgen olduğuna göre,  $m(\widehat{FBC})$  kaç derecedir?

A) 42 B) 48 C) 58 D) 66

11.

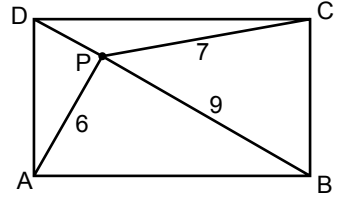


Şekildeki ABCD yamuğunda  $[AD] \parallel [BC]$ 'dir.

$m(\widehat{ADC}) = 2 \cdot m(\widehat{DCB})$ ,  
 $|AB| = |DC| = 6$  cm ve  
 $|AD| = 4$  cm olduğuna göre, ABCD yamuğunun çevresi kaç santimetredir?

A) 20 B) 22 C) 24 D) 26

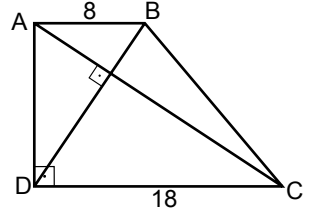
12.



ABCD dikdörtgeninde P iç bölgede bir noktadır.  $|PA| = 6$  cm,  $|PC| = 7$  cm ve  $|PB| = 9$  cm olduğuna göre,  $|PD|$  kaç santimetredir?

A) 2 B)  $2\sqrt{3}$   
C) 3 D)  $3\sqrt{3}$

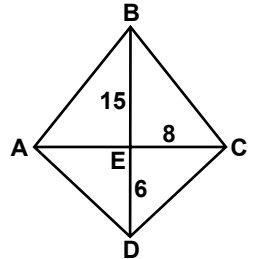
13.



Şekildeki ABCD dik yamuğunda,  $[AB] \parallel [DC]$ ,  $[AD] \perp [DC]$  ve  $[BD] \perp [AC]$ 'tir.  $|AB| = 8$  cm ve  $|DC| = 18$  cm olduğuna göre,  $|AD|$  kaç santimetredir?

A)  $10\sqrt{2}$  B) 12  
C)  $12\sqrt{3}$  D) 16

14.

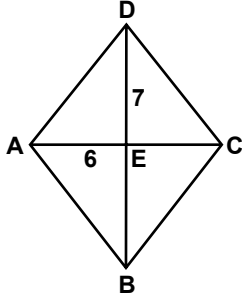


Şekildeki ABCD deltoidinde,  $[AC]$  ve  $[BD]$  köşegenleri E noktasında kesismektedir.  $|BE| = 15$  cm,  $|EC| = 8$  cm ve  $|DE| = 6$  cm olduğuna göre, ABCD deltoidinin çevresi kaç santimetredir?

A) 29 B) 37 C) 46 D) 54

# EK SINAV

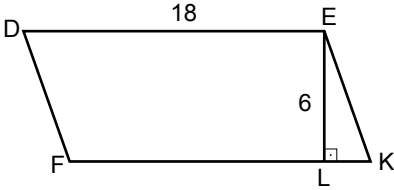
15.



Şekildeki ABCD eşkenar dörtgeninde,  $[AC]$  ve  $[BD]$  köşegenleridir.  $|AE| = 6$  cm ve  $|DE| = 7$  cm olduğuna göre,  $A(ABCD)$  kaç santimetrekaredir?

- A) 21 B) 42 C) 84 D) 168

16.



Şekildeki DFKE paralelkenarında,  $[EL] \perp [FK]$ 'tir.  $|DE| = 18$  cm ve  $|EL| = 6$  cm olduğuna göre, DFKE paralelkenarının alanı kaç santimetrekaredir?

- A) 72 B) 96 C) 108 D) 126

17. Bir iç açısının ölçüsü  $144^\circ$  olan düzgün çokgen kaç kenarlıdır?

- A) 12 B) 10 C) 8 D) 6

18.  $A(2,5)$  ve  $B(4,3)$  noktaları veriliyor.  $[AB]$ 'nin orta noktasının koordinatları  $(a,b)$  olduğuna göre,  $a + b$  kaçtır?

- A) 7 B) 6 C) 5 D) 4

19. Denklemi  $3x - 2y + 1 = 0$  olan doğrunun eğimi nedir?

- A)  $-\frac{3}{2}$  B)  $-\frac{1}{2}$  C)  $\frac{1}{2}$  D)  $\frac{3}{2}$

20. Analitik düzlemde  $E(3, -5)$  noktasının  $6x - 8y - 3 = 0$  doğrusuna olan uzaklığı kaç birimdir?

- A)  $\frac{5}{2}$  B)  $\frac{7}{2}$  C)  $\frac{9}{2}$  D)  $\frac{11}{2}$

## (164) MATEMATİK - 4

1.  $z = i^4 + i^7$  olduğuna göre,  $\text{Re}(z)$  kaçtır?

- A) -2 B) -1 C) 1 D) i

2.  $x^2 + mx + 9 = 0$  denkleminin gerçek kökü olmadığına göre,  $m$  aşağıdakilerden hangisi olamaz?

- A) -5 B) 0  
C) 4 D) 6

3.  $2x^2 - 14x + 30 = 0$  denkleminin kökler toplamı kaçtır?

- A) 7 B) 14  
C) 15 D) 30

4.  $z_1 = 1 + 3i$  ve  $z_2 = 2 + 2i$  olduğuna göre,  $z_1 \cdot z_2$  aşağıdakilerden hangisidir?

- A)  $2 + 6i$  B)  $8 + 8i$   
C)  $-4 + 8i$  D)  $2 - 6i$

5.  $x^2 - mx - 12 = 0$  denkleminin bir kökü  $-3$  olduğuna göre,  $m$  kaçtır?

- A) -4 B) -2 C) 0 D) 1

6.  $f: \mathbb{R} \rightarrow \mathbb{R}$ ,  $f(x) = x^2 - 4x + 6$  fonksiyonunun tepe noktası  $T(a,b)$  olduğuna göre,  $a + b$  kaçtır?

- A) 0 B) 2 C) 4 D) 6

7.  $P(x) = -3 - 4x^2 + 2x^3 + 5x^4$  polinomunun başkatsayısı kaçtır?

- A) -4 B) -3 C) 2 D) 5

8.  $P(x) = (a - 2)x^3 + (2 - b)x + c + 1$  ve  $Q(x) = x^3 + ax + 4$  polinomları veriliyor.  $P(x) = Q(x)$  olduğuna göre,  $a + b + c$  kaçtır?

- A) 5 B) 3  
C) 0 D) -1

9.  $a^2 - b^2 = (a - b) \cdot (a + b)$  olduğuna göre,  $2014^2 - 2013^2$  kaçtır?

- A) 1 B) 2013  
C) 2014 D) 4027

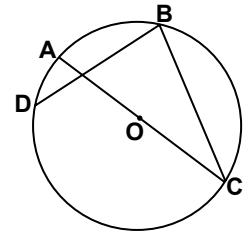
10.  $x, y$  pozitif tam sayılardır.  $x \cdot y = 10$  ve  $x^2 + y^2 = 29$  olduğuna göre,  $x^3 + y^3$  kaçtır?

- A) 63 B) 117  
C) 133 D) 157

11.  $\frac{x^2 - 9}{x - 3} \cdot \frac{x^2 - 4}{x^2 + 5x + 6}$  ifadesinin en sade şekli aşağıdakilerden hangisidir?

- A)  $3x - 6$  B)  $x - 2$   
C)  $\frac{x - 2}{x + 3}$  D)  $\frac{3x - 6}{x + 3}$

12.

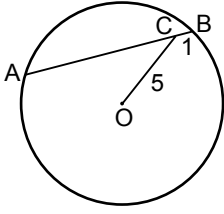


Şekildeki O merkezli çemberde  $[AC]$  çap ve  $[DB]$  kiriştir.  $m(\widehat{AD}) = 30^\circ$  olduğuna göre,  $m(\widehat{DBC})$  kaç derecedir?

- A) 80 B) 75 C) 60 D) 30

# EK SINAV

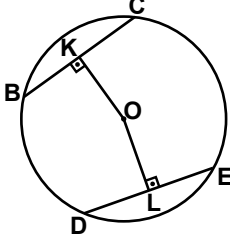
13.



O merkezli çemberde  $[AB]$  kiriş,  $|AB| = 10$  cm,  $|BC| = 1$  cm ve  $|OC| = 5$  cm olduğuna göre, çemberin yarıçapının uzunluğu kaç santimetredir?

- A)  $\sqrt{34}$  B) 5  
C)  $2\sqrt{6}$  D) 4

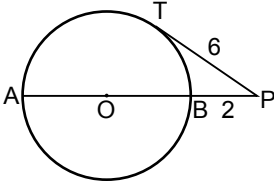
14.



Şekilde B, C, D ve E noktaları O merkezli çemberin üzerindedir.  $[OK] \perp [BC]$ ,  $[OL] \perp [DE]$ ,  $|BC| = |DE|$ ,  $|OK| = (4x - 3)$  cm ve  $|OL| = (3x + 1)$  cm olduğuna göre, x kaç santimetredir?

- A) 2 B) 3 C) 4 D) 5

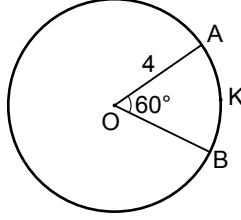
15.



Şekilde  $[PT]$ , O merkezli çembere T noktasında teğettir.  $|BP| = 2$  cm,  $|TP| = 6$  cm ve A, B, P noktaları doğrusal olduğuna göre, çemberin yarıçapının uzunluğu kaç santimetredir?

- A) 8 B) 6 C) 4 D) 2

16.



Şekildeki O merkezli çemberde,  $m(\widehat{AOB}) = 60^\circ$  ve  $|OA| = 4$  cm olduğuna göre,  $|AKB|$  kaç santimetredir? ( $\pi$ 'yi 3 alınız.)

- A) 3 B) 4 C) 5 D) 6

17. Hacmi  $300 \text{ cm}^3$  ve yüksekliği 12 cm olan kare dik prizmanın yanal alanı kaç santimetrekaredir?

- A) 120 B) 150  
C) 200 D) 240

18. Bir düzgün altıgen dik piramidin taban ayrıtlarından birinin uzunluğu 16 cm ve yan ayrıtlarından birinin uzunluğu 10 cm olduğuna göre, yanal alanı kaç santimetrekaredir?

- A) 192 B) 288 C) 360 D) 480

19. Taban yarıçapının uzunluğu 5 cm ve yüksekliği 8 cm olan dik dairesel silindirin yüzey alanı kaç santimetrekaredir? ( $\pi$  yerine 3 alınız.)

- A) 390 B) 300  
C) 240 D) 150

20. Yarıçapının uzunluğu 5 cm olan kürenin yüzey alanı kaç santimetrekaredir? ( $\pi$ 'yi 3 alınız.)

- A) 200 B) 300 C) 400 D) 500

(181) İNGİLİZCE - 1

1 - 19. sorularda boş bırakılan yere uygun gelen kelime ya da ifadeyi işaretleyiniz.

1. Mehmet is a hardworking student. He - - - gets high marks.

- A) seldom B) never  
C) rarely D) always

2. Some people - - - eat meat. They are vegetarian.

- A) never B) always  
C) often D) usually

3. I am very hot now. Could you - - - the window, please?

- A) get B) take  
C) open D) come

4. The plane - - - in İstanbul at 8:00 yesterday morning.

- A) played B) landed  
C) stopped D) watched

5. We - - - this film two years ago.

- A) cut B) listened  
C) broke D) watched

6. I usually - - - to work by bus, but today I - - - to work.

- A) goes / walks  
B) go / am walking  
C) goes / am walking  
D) going / am walking

7. People - - - travel by horse-drawn vehicles in the past, but now they - - - luxury cars.

- A) were / had  
B) are / were  
C) used to / have  
D) are / used to have

## EK SINAV

8.



The bank is ---- the post office and the supermarket.

- A) between      B) in front of  
C) opposite      D) under

9. Ahmet has been studying Maths since the beginning of this week. I think ----

- A) he will fail his exams.  
B) he will get high marks.  
C) he doesn't like studying.  
D) he isn't a hardworking student.

10. I am very thirsty so ----

- A) she will help you.  
B) I am listening to music.  
C) I'll get some cold drinks.  
D) they are playing volleyball.

11. ---- does your sister go abroad?

- A) Who      B) What  
C) How often      D) How much

12. I don't want to wear ---- old shoes any more.

- A) these      B) that  
C) this      D) an

13. The old lady doesn't have ---- food to eat.

- A) any      B) many  
C) some      D) a few

14. Metin and Tarık are brothers. ---- father is a lawyer.

- A) His      B) They  
C) Them      D) Their

15. You ---- get up early to catch the early train.

- A) may      B) should  
C) mustn't      D) couldn't

16. A: There are strange noises coming from outside.

B: It ---- be a cat.

- A) must      B) will  
C) should      D) have to

17. A: Who is ----?

B: ---- is Murat, my new classmate.

- A) he / I      B) she / He  
C) he / She      D) he / He

18. A: Does your father have a car?

B: Yes, ----.


- A) he is      B) he does  
C) he isn't      D) he doesn't

19. A: What are you doing now?

B: ----.

- A) I'm cooking  
B) She likes eggs  
C) You're running  
D) They will swim

20. Aşağıda verilen resmi ifade eden seçeneği işaretleyiniz.



- A) It is on your right.  
B) Go along this road.  
C) Turn left at the traffic light.  
D) Turn right at the traffic light.

## (181) ALMANCA – 1

1 - 19. sorularda boş bırakılan yere uygun gelen kelime ya da ifadeyi işaretleyiniz.

1.



Wo ist das Kind?

Es ist ---- dem Teddybär.

- A) neben      B) unter  
C) vor      D) auf

2. ---- 15. Mai habe ich Geburtstag.

- A) Um      B) Im      C) Am      D) Bis

3. Februar, ----, April

- A) Januar      B) März  
C) Mai      D) Juni

4. Hans sagt, ---- er mir bei den Hausaufgaben helfen wird.

- A) denn      B) weil  
C) dass      D) aber

5. In einer Metzgerei kann ich ---- kaufen.

- A) Spielzeug      B) T-Shirt  
C) Fleisch      D) Banane

6. A: ---- wohnst du?

B: ---- Ankara.

- A) Was / Aus      B) Wohin / In  
C) Wo / Aus      D) Wo / In

7. A: ---- gehst du zur Schule?

B: Mit dem Fahrrad.

- A) Woher      B) Was  
C) Wohin      D) Womit



## EK SINAV

8. **A: - - - - ist Ahmet?**  
**B: Er ist 16 Jahre alt.**
- A) Wie heißt B) Wo wohnt  
 C) Was ist D) Wie alt
9. **A: Was - - - - du?**  
**B: Ich - - - - Basketball.**
- A) mache / spielt  
 B) macht / spielt  
 C) machst / spiele  
 D) machen / spielen
10. **A: Herzlich Willkommen! Wie ist - - - - Name?**  
**B: - - - - Name ist Lea.**
- A) mein / Sein B) dein / Mein  
 C) sein / Unser D) euer / Sein
11. **Ich - - - - Klara. Wer - - - - du?**
- A) bin / bist B) ist / sind  
 C) bist / bin D) ist / bist
12. **A: - - - - kommst du?**  
**B: Ich komme aus Frankreich.**
- A) Wie B) Woher  
 C) Wo D) Was
13. **Sie ist mein- - - - Schwester.**  
**Sie - - - - Fatma.**
- A) - / heißen B) -en / heißt  
 C) -e / hieß D) -e / heißt
14. **A: - - - - ist deine Mutter von Beruf?**  
**B: Sie ist Lehrerin.**
- A) Was B) Wie  
 C) Wo D) Wer
15. **Montag, - - - -, Mittwoch**
- A) Sonntag B) Donnerstag  
 C) Dienstag D) Freitag
16. **A: - - - - habt ihr gesprochen?**  
**B: Über die Prüfung.**
- A) Worüber B) Wohin  
 C) Wonach D) Woran

17. **A: - - - - kommt Monika?**  
**B: Sie kommt - - - - Deutschland.**
- A) Wie / um B) Wann / in  
 C) Was / dem D) Woher / aus
18. **A: Bist du krank?**  
**B: Nein, ich bin - - - - krank.**
- A) nicht B) kein  
 C) ist D) sind
19. **Ich - - - - mir ein neues Telefon - - - - .**
- A) bin / kaufen  
 B) habe / gekauft  
 C) hast / kaufen  
 D) ist / gekauft
20. **22 - 11 = ?**
- A) neun B) zehn  
 C) elf D) zwölf

### (181) FRANSIZCA – 1

**1 - 16. sorularda boş bırakılan yere uygun gelen kelime ya da ifadeyi işaretleyiniz.**

1. - - - - aiment le gâteau au chocolat.
- A) Tu B) Il C) Ils D) Elle
2. - - - - suis allé en Grèce.
- A) Je B) Tu C) Il D) Elle
3. **Demet - - - - à Paris par avion avec la compagnie Turkish Airlines.**
- A) est arrivé B) suis arrivé  
 C) es arrivé D) est arrivée
4. **Samedi dernier, nous - - - - déjeuné au restaurant.**
- A) as B) avons  
 C) es D) avez
5. **Je - - - - sorti du café à 14 heures.**
- A) ont B) as C) est D) suis

6. **Yasmin a passé - - - - à Izmir chez son oncle.**
- A) l'hiver B) la rue  
 C) le cinéma D) le théâtre
7. **Ma fille a travaillé - - - - l'été dans un supermarché.**
- A) toute B) personne  
 C) tout D) chaque
8. **Ahmet a - - - - voiture de sport que moi.**
- A) l'autre B) la même  
 C) les mêmes D) certaine
9. **A: Bora est divorcé?**  
**B: Non, - - - - .**
- A) il est assez jeune  
 B) il est encore marié  
 C) il est encore sportif  
 D) il est divorcé
10. **Si tu venais dîner chez moi, je (j') - - - - contente.**
- A) suis B) étais  
 C) ai été D) serais
11. **S'il fait chaud, mes parents - - - - à la plage.**
- A) était allé B) étiez allés  
 C) iront D) iriez
12. **A: Tu travailles en France?**  
**B: Oui, j'y - - - - depuis deux ans.**
- A) ne pas travailler  
 B) ne travaille pas  
 C) travailler  
 D) travaille
13. **A: Tu as déjà lu ce livre?**  
**B: Oui, je - - - - ai lu le mois dernier.**
- A) le (l') B) leur  
 C) les D) la (l')
14. **A: Il aime la tarte aux fraises?**  
**B: Oui, il - - - - aime beaucoup.**
- A) les B) du  
 C) la(l') D) de la

## EK SINAV

15. A: Tu veux encore du café?  
B: Non, je ne veux plus ----  
café.

A) des B) de C) du D) de la

16. Un violon sert à ----.

A) fermer la porte  
B) faire de la peinture  
C) se laver les dents  
D) faire de la musique

17. Cümleler sırasıyla okunduğunda anlam bütünlüğünü bozan cümleyi bulunuz.

(I) Il est assez jeune. (II) Il y a du vent. (III) Il est gentil. (IV) Il a les yeux noirs.

A) III B) II C) I D) IV

18- 20. sorularda verilen resme göre doğru ifadenin bulunduğu seçeneği işaretleyiniz.

18.



- A) Elle a les cheveux longs et elle porte des lunettes.  
B) Il a de la barbe et il porte une casquette noire.  
C) Elle a les cheveux frisés et elle porte un foulard.  
D) Il a les lèvres minces et il porte une casquette.

19.



Il est ---- et il a ----.

- A) paresseuse / les cheveux courts  
B) musclé / de petites lunettes  
C) blonde / de grandes dents  
D) chauve / de la barbe

20.



Elle a le visage ----.

A) ronde B) carrée  
C) ovale D) pointue

### (182) İNGİLİZCE – 2

1 - 17. sorularda boş bırakılan yere uygun gelen kelime ya da ifadeyi işaretleyiniz.

1. Tuna will come to Graduation Ceremony, ----?

A) is he B) will he  
C) does he D) won't he

2. A: Why do you buy so many fruits?

B: Because my children like ---- fruits very much.

A) eating B) eat  
C) ate D) to eat

3. A: Mother, I have been looking for my school bag for an hour. I can't find it. ---- did you put it?

B: Under your bed.

A) Where B) How  
C) What D) Which

4. A: Have you ---- been to Amasya. It is a very historical city.

B: No, ----.

A) ever / ever  
B) ever / never  
C) never / ever  
D) never / never

5. A: How long have you collected these stamps, sir?

B: ----

A) In twenty years.  
B) Twenty years ago.  
C) Twenty years later.  
D) For more than twenty years.

6. A: ----

B: It is cold and snowy. You should take on your coat.

A) Where will you go for holiday?  
B) What is the matter with you?  
C) How is the weather out?  
D) How is it going?

7. I miss my mother too much. I wish ----

A) she is with me.  
B) she were with me.  
C) she will be with me.  
D) she has been with me.

8. He has run the company ---- seventeen years.

A) yet B) for  
C) since D) then

9. I haven't seen a kangaroo ----.

A) already B) since  
C) up to now D) for

10. ---- he was born, his father was working abroad.

A) Why B) What  
C) Where D) When

11. Mete was talking ---- in the hospital. So the nurse warned him.

A) silent B) silently  
C) loud D) loudly

12. Your pronunciation in English is ---- than mine.

A) best B) better  
C) good D) the best

## EK SINAV

13. Buğra is ---- student in the class.

- A) the tallest      B) taller than  
C) tallest          D) tall

14. The river Nile is ---- than the Amazon.

- A) the long          B) long  
C) longer           D) the longest

15. Harry Potter series ---- by J.K. Rowling.

- A) were written  
B) have written  
C) are writing  
D) wrote

16. How about ---- her at the hospital?

- A) visit              B) to visit  
C) visited          D) visiting

17. I would rather ---- TV than listen to music.

- A) watching       B) watch  
C) to watch       D) watches

18. Aşağıda verilen cümle seçeneklerinden hangisi ile tamamla-namaz?

If you want to lose weight, ---- .

- A) you shouldn't get something after 8 pm.  
B) you should do sports regularly.  
C) you shouldn't eat fast food.  
D) you should sleep too much.

19. Aşağıda verilen cümlelerin edilgen (passive) halini işaretleyiniz.

"The students broke the door of the classroom."

- A) The door of the classroom is broken by the student.  
B) The door of the classroom was breaking the students.  
C) The door of the classroom was broken by the students.  
D) The door of the classroom is breaking the student.

20. Aşağıda verilen cümlelerin Türkçe karşılığını işaretleyiniz.

"I prefer staying at home than going out at the weekends."

- A) Hafta sonları evde oturmayı dışarı çıkmaya tercih ederim.  
B) Hafta sonları dışarı çıkmayı evde oturmaya tercih ederim.  
C) Hafta sonları hiç dışarı çıkmam.  
D) Hafta sonları evde oturmayı hiç sevmem.

### (182) ALMANCA – 2

1 - 15. sorularda boş bırakılan yere uygun gelen kelime ya da ifadeyi işaretleyiniz.

1. Er lebt ---- 2008 in Berlin.

- A) seit              B) Jahr  
C) von              D) etwa

2. Die Sonne scheint. Es ---- bestimmt ein heißer Tag.

- A) werden        B) haben  
C) wird            D) hat

3. Sie lernte ihn kennen ---- sie in Antalya war.

- A) denn            B) damit  
C) durch          D) als

4. Nach der Schule kommst du zu mir ---- ich komme zu dir.

- A) denn            B) aber  
C) weil             D) oder

5. ---- Auto gefällt dir?

- A) Welches       B) Welcher  
C) Welche        D) Welchen

6. Ali spielt---- Fußball. Ich und Hans spiel---- Tischtennis.

- A) -en / -te       B) -st / -en  
C) - / -en        D) -e / -t

7. Das ist die Wohnung, ---- ihr kaufen wollt.

- A) der      B) das      C) die      D) dem

8.



- Wo ist das Bild?

- Das Bild hängt ---- Wand.

- A) auf die          B) an der  
C) am der        D) auf dem

9.



- A) Die Frau sieht fern.  
B) Die Frau liest eine Zeitung.  
C) Die Frau schreibt einen Brief.  
D) Die Frau hört die Nachrichten.

10. Aşağıdakilerden hangisi fiildir? (Verb)

- A) laufen          B) schwer  
C) Fernseher      D) unten

11. Gestern ---- ich einen Film --- (haben / sehen)

- A) habe / gesehen  
B) hat / sehen  
C) hast / siehst  
D) haben / gesehen

12. Das Geschenk ist ---- dich.

- A) durch          B) für  
C) gegen        D) mit

13. Am Sonntag ---- ich meine Freunde.

- A) trinke          B) schlafe  
C) treffe          D) spiele

# EK SINAV

14. Eda lern- - - - Deutsch. Du geh- - - - spazieren.

- A) -t / -e      B) -st / -en  
C) -en / -t      D) -t / -st

15. A: - - - - dankt die Mutter?  
B: Dem Kind.

- A) Wer      B) Wem  
C) Wen      D) Was

16. Aşağıdaki sözcüklerden hangisi yapısı bakımından diğerlerinden farklıdır?

- A) haben      B) aufstehen  
C) sein      D) machen

17. Hangisinde sıfatların zıt anlamı verilmiştir?

- A) hell x klar  
B) lang x breit  
C) langsam x schnell  
D) schön x gut

18. "trinken" fiilinin "Perfekt" hali aşağıdakilerden hangisidir?

- A) getrunken      B) trank  
C) trinkt      D) trinkst

19. Aşağıdaki isimlerin çoğul hali hangi seçenekte verilmiştir?

**der Vater / die Zeitung / das Mädchen**

- A) die Vater / die Zeitungen / die Mädchen  
B) die Väter / die Zeitung / die Mädchen  
C) die Vater / die Zeitung / die Mädchen  
D) die Väter / die Zeitungen / die Mädchen

20. "gehen" fiilinin 2. çoğul şahısa göre çekimi aşağıdakilerden hangisidir?

- A) gehe      B) gehen  
C) geht      D) gehst

## (182) FRANSIZCA – 2

**1 – 17. sorularda boş bırakılan yere uygun gelen kelime ya da ifadeyi işaretleyiniz.**

1. - - - - vais en voiture à mon travail.

- A) Vous      B) Elle  
C) Tu      D) Je

2. Vous le connaissez; - - - - il ne vous connaît pas.

- A) mais      B) car  
C) dans      D) en

3. - - - - tu es malade, tu iras chez le médecin.

- A) Ce que      B) Comment  
C) Puisque      D) Combien

4. C'est à Rome - - - - Sylvie apprend l'italien depuis deux ans.

- A) qui      B) donc  
C) que      D) ce que

5. Ils vont à la poste à pied - - - - à vélo.

- A) car      B) ou  
C) donc      D) mais

6. Tu n'aimes pas la soupe - - - - maman t'a préparée?

- A) qui      B) ce que  
C) que      D) où

7. Cet été, Melih va passer dix jours - - - - Allemagne - - - - Berlin.

- A) en / à      B) au / en  
C) à / à      D) aux / au

8. - - - - lundi et mercredi c'est mardi.

- A) Sous      B) Dans  
C) Entre      D) Sur

9. Dans la classe, il y a beaucoup d'élèves - - - - viennent de Berlin.

- A) ce qui      B) qui  
C) donc      D) que

10. Çetin - - - - dans son lit quand son père revient.

- A) lit      B) ont lu  
C) a lu      D) lis

11. A: Tu connais Sevim?  
B: Oui, je la connais - - - - deux semaines.

- A) devant      B) en  
C) depuis      D) il y a

12. A: Pourquoi va-t-elle chez le dentiste?

B: Parce qu'elle a mal - - - - .

- A) au cou  
B) aux pieds  
C) au bras gauche  
D) aux dents

13. A: Quand sortent les enfants de la bibliothèque?

B: Ils - - - - sortent à trois heures.

- A) y      B) des      C) en      D) de

14. A: D'où reviennent-elles?

B: Elles reviennent - - - - Japon.

- A) du      B) de      C) des      D) les

15. A: Jean est monté dans le train?

B: Oui, il - - - - est monté.

- A) aux      B) y      C) en      D) de

16. A: Tu as une voiture de sport?

B: Non, je n' - - - - ai pas.

- A) au      B) de la  
C) y      D) en

17. Jean mesure 1m 85. Paul mesure 1m 85.

Paul est - - - - grand que Jean.

- A) aussi      B) autant  
C) plus      D) moins

## EK SINAV

18. “Pierre et Tuna aiment beaucoup la lecture.” cümlesinde altı çizili sözcüklerin yerine aşağıdaki şahıs zamirlerinden hangisi kullanılabilir?

A) Elle B) Ils  
C) Elles D) Il

19.



Verilen resme göre cümlede boş bırakılan kısmı tamamlayan ifadenin bulunduğu seçeneği işaretleyiniz.

Il fait - - - - .

A) une promenade  
B) de la peinture  
C) de l'escalade  
D) du théâtre

20.



Bu trafik işaretinin anlamı nedir?

A) Annonce de feux tricolores  
B) Circulation à sens unique  
C) Endroit fréquenté par des enfants  
D) Passage pour piétons

### (206) PSİKOLOJİ – 1

1. Aşağıdakilerden hangisi psikoloji biliminin incelediği konulardan değildir?

A) İnsan davranışlarının fizyolojik temelleri  
B) Bireyin yaşa bağlı davranış değişiklikleri  
C) Sosyal olayların nedenleri  
D) Bireyin zeka ve kişiliği

2. 1879 yılında, Leipzig’de psikoloji laboratuvarını kurarak psikolojiye deneysel bilim dalı olma ünvanını kazandıran psikolog hangisidir?

A) John Dewey  
B) Wilhelm Wundt  
C) Kurt Kofka  
D) Sigmund Freud

3. “Organizmanın doğrudan veya dolaylı olarak gözlenebilen tüm etkinlikleridir.”

**Yukarıda tanımı verilen kavram hangisidir?**

A) Davranış B) Uyarım  
C) Güdü D) Bilim

4. Davranışlar bir bütündür, parçalara ayrılmaz ve tek tek anlamı olmayan parçalar bütünlük içinde anlam kazanır.

**Açıklaması verilen psikoloji yaklaşımı aşağıdakilerden hangisidir?**

A) Yapısalcılık  
B) İşlevselcilik  
C) Davranışçılık  
D) Gestaltçı yaklaşım

5. Bireyin toplumla ilişkilerini ve toplumun bireyi etkilemesiyle ilgili olaylar üzerinde araştırmalarını sürdüren psikoloji dalıdır.

**Yukarıda açıklanan psikoloji dalı hangisidir?**

A) Genetik psikoloji  
B) Fizyolojik psikoloji  
C) Sosyal psikoloji  
D) Klinik psikoloji

6. Uyarıcıların duyu organını uyarması durumu aşağıdaki kavramlardan hangisiyle adlandırılır?

A) Duyum B) İhtiyaç  
C) Alışma D) Güdü

7. Yetersiz uyarımın sonucunda insanlarda aşağıdakilerden hangisi görülmez?

A) Sanrı görme  
B) Düzensiz davranışlar  
C) Algılama bozuklukları  
D) Zekâ düzeyinde yükselme

8. Aşağıdakilerden hangisi güdülenmiş davranışın özelliklerinden değildir?

A) Davranışlar belli bir doğrultuya yönelmiştir.  
B) Doğuştan getirilen refleksel davranışlardır.  
C) Organizma mutlaka harekete geçer.  
D) Güdülenmiş bir davranış seçicidir.

9. Aşağıdakilerden hangisi toplumsal güdüye neden olan ihtiyaçlardandır?

A) Açlık  
B) Susuzluk  
C) Dinlenme  
D) Başarılı olmak

10. Farklı toplumsal normlara sahip iki insanın aynı durumla karşılaştıklarında farklı tepki göstermelerinin nedeni aşağıdakilerden hangisidir?

A) Algı dayanağı  
B) Algı yanılması  
C) Yetersiz uyarım  
D) Algıda değişmezlik

11. Yaşadığımız süre zevkli ise zaman kısa, zevksiz ise uzun olarak algılanır.

**Bu durumu aşağıdaki kavramlardan hangisi ifade eder?**

A) Algıda organizasyon  
B) Algıda değişmezlik  
C) Figür – fon algısı  
D) Subjektif zaman algısı

12. Varolan gerçekliğin olduğundan farklı olarak algılanması algı yanılması olarak adlandırılır.

**Buna göre aşağıdakilerden hangisi bir algı yanılması değildir?**

A) Sessiz bir ortamda bir kişinin sesler duyduğunu söylemesi  
B) Gece kapının arkasında asılı duran kemeri yılan olarak algılamak  
C) Caddede yürürken yanıp sönen ışıkların dikkatimizi çekmesi  
D) Yarısı suyla dolu bir bardağın içindeki kaşığın kırık olarak algılanması

## EK SINAV

13. Aşağıdaki davranışlardan hangisi öğrenme sonucu kazanılmıştır?

- A) Büyüklerin ellerinin öpülmesi
- B) Ani bir ses karşısında irkilmek
- C) Bir kuşun yuvasını yapması
- D) Uzun süre yemek yemediğimizde acıkmamız

14. Öğrenmenin tanımı aşağıdakilerden hangisidir?

- A) İnsanın gözlenebilen davranışlarıdır.
- B) Belirli bir tepkiyi doğal olarak harekete geçiren uyarandır.
- C) Bir türe ait ortaklaşa özelliklerin bir ad altında toplanmasıdır.
- D) Tekrar ya da yaşantı sonucu davranışta meydana gelen devamlı bir değişikliktir.

15. Çocuğa, bisiklete binmeyi öğretmek için yeterli bedensel gelişme düzeyine gelmesini beklemek gerekir.

**Burada öğrenmeye etki eden faktörlerden hangisinin önemi vurgulanmaktadır?**

- A) Organizmanın genel uyarılmışlık durumu
- B) Öğrenmede türe özgü hazır olma
- C) Öğrenmede olgunlaşma
- D) Öğrenmede güdülenme

16. Aşağıdakilerden hangisi öğrenmeyi zorlaştırıcı bir etkindir?

- A) Öğrenilecek materyalin anlamsız olması
- B) Öğrenilecek konuya güdülenme
- C) Öğrenilenleri tekrarlama
- D) Okuma ve anlatma

17. Herhangi bir öğrenme konusunu ya da algısal gereçleri daha sonra anımsanacak şekilde tekrarlayarak belleğe yerleştirme işlemidir.

**Yukarıda belleğin temel işlemlelerinden hangisi açıklanmaktadır?**

- A) Kodlama
- B) Saklama
- C) Hatırlama
- D) Çağırma

18. Geçmişte öğrendiğimiz herhangi bir bilgi, beceri ve nesnelerin geçici veya sürekli olarak yitirilmesi, tanınmaması olayı aşağıdakilerden hangisiyle adlandırılır?

- A) Ket vurma
- B) Transfer
- C) Unutma
- D) Yansıtmama

19. Uykunun uyku sırasındaki göz hareketlerine göre iki farklı dönemi vardır. Bu dönemler hangisinde birlikte verilmiştir?

- A) BİORİTİM – EKG
- B) NREM – REM
- C) EEG – REM
- D) REM – EMG

20. İnsanın normal bilinçlilik durumu aşağıdakilerden hangisidir?

- A) Uyanıklılık dönemleri
- B) Uyku ve rüyalar
- C) Meditasyon
- D) Hipnoz

### (207) PSİKOLOJİ – 2

- 1. I. Soyut düşünme gücü  
II. Çevreye uyum sağlama  
III. İyi muhakeme gücü

**Yukarıda verilenlerden hangisi ya da hangileri zekânın göstergesi olan yeteneklerdendir?**

- A) Yalnız I
- B) Yalnız III
- C) II ve III
- D) I, II ve III

- 2. Fareler üzerinde yapılan araştırmalarda zeki farelerin yavrularının zeki, zekâca geri farelerin yavrularının da zekâca geri oldukları görülmüştür.

**Bu bulgu, zekâ üzerinde aşağıdakilerden hangisinin etkili olduğunu göstermektedir?**

- A) Cinsiyetin
- B) Kalıtımın
- C) Çevrenin
- D) Yaşın

- 3. Bir eylem yapılarak cevaplandırılan testler aşağıdakilerden hangisiyle adlandırılır?

- A) Grup testleri
- B) Sözlü testler
- C) Yazılı testler
- D) Performans testleri

- 4. Zekâ testlerinin temel amacı aşağıdakilerden hangisidir?

- A) Bireyin kişiliğini belirlemek.
- B) Bireyin bedensel gelişimini incelemek.
- C) Bireyin zihinsel başarı düzeyini saptamak.
- D) Bireyin davranışlarını saptamak.

5. Sigmund Freud'un psikodinamik kuramına göre, kişiliğin biyolojik yanını oluşturan, doyurulması gereken temel ihtiyaçların yer aldığı ve haz ilkesine dayanan unsur hangisidir?

- A) İd
- B) Ego
- C) Süper ego
- D) Duyum

6. Aşağıdakilerden hangisi kişiliği ölçmek için kullanılan yöntemlerden biri değildir?

- A) Değerlendirme ölçekleri
- B) Projektif testler
- C) Zekâ testleri
- D) Anketler

7. Evrende kendi kendini oluşturan tek varlık insandır. O kendisini nasıl var kılmışsa öyledir. İnsan böylece kendi yolunu seçmeli, kendi yaşamına anlam vermelidir. İnsan özgürlüğüne sorumluluk yüklediğinde ulaşır.

**Kişilikle ilgili açıklama hangi psikoloji ekolüne aittir?**

- A) Temel eğilim kuramları
- B) Psikodinamik kuram
- C) Öğrenme kuramları
- D) Varoluşçu kuram

8. Aşağıdakilerden hangisi sağlıklı bir insanda görülmesi beklenen davranışlardan değildir?

- A) Hoşgörülü olması
- B) Çalışabiliyor olması
- C) Sürekli kaygı içinde olması
- D) Sorumluluklarını yerine getirmesi

9. Kişilik kuramlarından biri olan "temel eğilim kuramının" öne sürdüğü görüş aşağıdakilerden hangisidir?

- A) Kişilik, beden yapısıyla birlikte doğuştan gelen bir yapıdır.
- B) Kişilik, fiziksel, ruhsal ve çevresel etkenlerin kişiye özgü biçimde örgütlenmesiyle oluşur.
- C) Kişilik, belirli uyarımlar karşısında öğrenilmiş, pekiştirilmiş davranışlardan meydana gelir.
- D) Bilinçaltına itilen duygu, düşünce, arzu ve istekler insanın kişiliğini etkiler.

## EK SINAV

10. Engellenmenin yarattığı gerilim durumuna psikolojide ne ad verilir?

- A) Dengelenme
- B) Hayal kırıklığı
- C) Pişmanlık
- D) Çatışma

11. I. Çok beğenilen iki ayakkabıdan birini seçmek durumunda içine düşülen kararsızlık hali  
II. Ameliyat olması gereken bir hastanın hem ağrı çekmek istememesi, hem de ameliyat olmaktan kaçınması  
III. Sevdiği kızla evlenmek isteyen kişinin evliliğin sorumluluklarından kaçınması

Yukarıda verilenlerden hangisi ya da hangileri yaklaşma – kaçınma çatışmasına örnek oluşturur?

- A) Yalnız I
- B) Yalnız II
- C) Yalnız III
- D) I ve II

12. Aşağıdakilerden hangisi iyi (olumlu) stresin kişiye kazandırdığı bir özellik değildir?

- A) Kişiyi daha canlı ve dinamik hale getirmesi
- B) Kişiyi, başarılması güç işlerde başarılı kılması
- C) İnsanda sürekli kaygı durumu oluşturmaması
- D) Dikkatin, belli bir konuda yoğunlaşmasını sağlaması

13. Dedikodu yapanların başkalarını dedikoducu olarak görmesi hangi savunma mekanizmasıyla açıklanır?

- A) Ödünleme
- B) Yansıtma
- C) Yüceltme
- D) Yön değiştirme

14. Aşağıdakilerden hangisi stresle baş etmede kullanılan duygusal yöntemlerdendir?

- A) Olaylara yaklaşım biçimi çatışmaları azaltıcı nitelikte olmalı
- B) Düzenli bedensel egzersizlerle rahatlamaya çalışılmalı
- C) Stresli iken kesik kesik ve sık sık nefes alınmalı
- D) Zaman iyi planlanarak değerlendirilmeli

15. I- Hastanede tedavi edilmesi gereken ağır hastalıklardır.  
II- Gerçek hayatta ilgi kesilmiştir.  
III- Kişilikte parçalanmalar görülür.  
IV- Hastanın irade gücü zayıftır.

Yukarıda verilenlerin hangileri psikotik bozuklukların özelliklerindendir?

- A) II ve III
- B) III ve IV
- C) I, III ve IV
- D) I, II ve III

16. Bastırılmış ve bilinçaltına itilmiş dürtülerin; rüyaların yorumu, dil sürçmeleri, unutulmuş veya yanlış kullanılan sözcük ve hareketlerden yararlanılarak bilinç durumuna getirilip anormal davranışın tedavisinde kullanılması hangi psikolojik yöntemdir?

- A) İş terapisi
- B) Psikanaliz yöntemi
- C) Narkoanaliz
- D) Psikodrama

17. Bireyin davranışını ve görüşlerini baskı nedeniyle değiştirip, yanlış olduğunu bile bile başkaları öyle davrandığı için aynı davranışta bulunması hangi kavramla ifade edilir?

- A) Uyma davranışı
- B) Sosyal sorumluluk
- C) İkna olma
- D) Çatışma

18. Bir tutumun değişmesi için tutum ile davranış arasında bir tutarsızlığın olması gerekir.

Sigaranın sağlığa zararlı olduğunu ifade eden birisinin sigara içmeye devam etmesi tutumların değişmesi ile ilgili hangi kavramla ifade edilir?

- A) Sosyal etki kuramı
- B) Bilişsel çelişki kuramı
- C) Tutarlılık
- D) İtaat

19. Aşağıdakilerden hangisi bireyin kimlik oluşum süreciyle ilgili olarak söylenemez?

- A) Kim olduğunu, neye yönelmesi gerektiğini bilir.
- B) Kendi ruhsal durumu, aile ve çevre şartlarını tanır.
- C) Bilgi ve becerisine göre neler yapması gerektiğine karar verir.
- D) Kimlik oluşumunun sadece taklit ve özdeşimlerin birbirine eklenmesi ile oluşan bir bütünlük olduğunu bilir.

20. Çocukluk döneminde anne-babasını örnek alanlar, ergenlik döneminde dışa yönelerek sevdiği, güvendiği, kendisini olduğu gibi kabul ettiğine inandığı kişiler gibi olmak ister.

Kişilerin çocuklukta ve ergenlikte modele benzeme çabası aşağıdakilerden hangisiyle ifade edilmektedir?

- A) Özdeşleşme
- B) Rol çatışması
- C) Kimlik kargaşası
- D) Olgunlaşma

### (208) SOSYOLOJİ – 1

1. Aşağıdakilerden hangisi sosyolojinin amaçlarından değildir?

- A) Bireylerin psikolojik özelliklerini incelemek.
- B) Toplumsal değişimlerin yönelimleri hakkında öngörülerde bulunmak.
- C) Toplum içindeki ilişkileri bilimsel yöntemlerle incelemek.
- D) Toplumlar arası benzerlik ve farklılıkları saptayarak genellemelere ulaşmak.

2. I. Tek tek gerçekleşir.  
II. Soyuttur.  
III. Sayılarla ifade edilir.  
IV. Yeri ve zamanı belli olan değişimlerdir.

Verilenlerden sosyal olayın özelliklerinden olanlar aşağıdakilerin hangisinde birlikte verilmiştir?

- A) I ve II
- B) II ve III
- C) I, III ve IV
- D) II, III ve IV

## EK SINAV

3. • Toplum yaşamında insanların ihtiyaç duyduğu her türlü mal ve hizmetlerin nasıl üretildiğini, dağıtıldığını, bölüşüldüğünü ve tüketildiğini inceleyen bilimdir.  
• Bireylerin birbirleriyle ve toplumla ilişkilerini düzenleyen ve uyulması zorunlu olan yazılı kuralları ele alan bilim dalıdır.  
• Gözlenebilir insan ve hayvan davranışlarını inceleyen bir bilimdir.

**Yukarıda tanımları verilen bilim dalları, hangisinde doğru sıralamayla verilmiştir?**

- A) Ekonomi - Psikoloji - Hukuk  
B) Hukuk - Psikoloji - Ekonomi  
C) Psikoloji - Hukuk - Ekonomi  
D) Ekonomi - Hukuk - Psikoloji

4. **Bilimsel bir çalışmada izlenmesi gereken aşamalar aşağıdakilerin hangisinde doğru sıralamayla verilmiştir?**

- A) Gözlem - Varsayım - Deneyleme - Genelleme  
B) Varsayım - Deneyleme - Gözlem - Genelleme  
C) Deneyleme - Gözlem - Genelleme - Varsayım  
D) Genelleme - Gözlem - Deneyleme - Varsayım

5. **Aşağıdakilerden hangisi bilimin niteliklerinden değildir?**

- A) Genelleyici olma  
B) Evrensel olma  
C) Sistemli olma  
D) Özel olma

6. "Sınırları belirlenmiş tek bir konunun derinlemesine incelenmesidir."

**Tanımı verilen araştırma tekniği aşağıdakilerden hangisidir?**

- A) Anket  
B) Monografi  
C) Sosyometri  
D) İstatistik analizler

7. Toplumsal ilişkilerin, olayların oluştuğu, toplumsal kurumların, grupların yer aldığı, nüfus ile yerleşim tarzının biçimlendiği toplumsal bir varlıktır.

**Yukarıda tanımı verilen kavram hangisidir?**

- A) Toplumsal Yapı  
B) Toplumsal Statü  
C) Toplumsal Değer  
D) Toplumsal Norm

8. **Aşağıdakilerden hangisi, toplumsal ilişkinin oluşması için gerekli olan koşullardan değildir?**

- A) Bireyler arasında etkileşimin olması  
B) En az üç kişi arasında olması  
C) Bireylerin birbirinden haberdar olması  
D) Belli bir zaman sürecinde devam etmesi

9. **Aşağıdakilerden hangisi verilmiş statüye örnektir?**

- A) Mühendis olmak  
B) Öğrenci olmak  
C) Kadın olmak  
D) Tüccar olmak

10. **Bir okul futbol takımının diğer okulun futbol takımının antrenörü ile ilişkisi hangi tür toplumsal ilişkiye örnek olur?**

- A) Birey – Birey  
B) Grup – Grup  
C) Grup – Birey  
D) Grup – Toplum

11. Bireyin toplum içindeki yerini belirleyen hak ve ödevlerle biçimlenen konumuna toplumsal statü denir.

**Toplumsal statülerle ilgili olarak aşağıda verilenlerden hangisi yanlıştır?**

- A) Statü bireyin çevresindeki kişilerin ona uygun gördükleri yeri ve mevkiyi ifade eder.  
B) Bireyler bazen sahip oldukları statüden vazgeçebilir ya da kaybedebilirler.  
C) Statünün en evrensel ölçütü servet sahipliğidir.  
D) Her bireyin sadece bir statüsü olabilir.

12. **Yazısız olan toplumsal normların yaptırımları hangisinde birlikte verilmiştir?**

- A) Ayıplama – Kınama  
B) Para cezası – Hapis cezası  
C) Ayıplama – Para cezası  
D) Görevden alma – Hapis cezası

13. • Bireyin yerine getirdiği rollerin birbirini desteklemesi.  
• Bir rolün, diğer bir rolün yerine getirilmesini zorlaştırması.  
• Toplum içinde nasıl davranılması gerektiğini gösteren ve yaptırım gücü taşıyan kurallar sistemi.

**Verilenlerin karşılığı olan kavramlar hangisinde birlikte verilmiştir?**

- A) Anahtar statü – Rol çatışması – Kazanılmış statü  
B) Rol pekiştirmesi – Rol çatışması – Toplumsal norm  
C) Rol pekiştirmesi – Anahtar statü – Toplumsal norm  
D) Toplumsal prestij – Rol çatışması – Toplumsal norm

14. Savaş, devrim, iç çatışma ve ekonomik bunalım dönemlerinde toplumsal sapmaların arttığı görülür. Aynı zamanda, enflasyon, işsizlik, gelir dağılımındaki adaletsizlikler gibi ekonomik sorunlar toplumsal sapma davranışlarını artırır.

**Buna göre toplumsal sapma ile ilgili aşağıdakilerden hangisi söylenbilir?**

- A) Toplumsal sapma her toplumda aynı derecede görülür.  
B) Hızlı değişimlerin yaşandığı dönemlerde sapma davranışlarında artışlar görülür.  
C) Farklı kültürlerden gelmiş olma ve grup farklılıkları sapma davranışlarında etkilidir.  
D) Toplumsallaşma sürecinde meydana gelen olumsuzluklar sapma davranışlarını artırır.

15. **Aşağıdakilerden hangisi sosyal grupların özelliklerinden değildir?**

- A) Her grubun ortak değerleri, normları ve amaçlarının olması  
B) Grup içinde her bireyin bir rolünün bulunması  
C) En az üç kişi arasında gerçekleşmesi  
D) Göreli bir sürekliliğe sahip olmaları

16. **Aşağıdakilerden hangisi birincil grupların özelliklerindendir?**

- A) Yapı olarak büyük gruplardır.  
B) Yazılı kuralların hakim olduğu gruplardır.  
C) Grup üyelerinde "ben" bilinci hakimdir.  
D) Yüz yüze samimi ilişkilerin olduğu gruplardır.



17. Köy toplumsal yapısı ile kent toplumsal yapısı birbirinden farklıdır. **Köy ve kent farklılaşması aşağıdakilerden hangisinde yanlış verilmiştir?**

|   | KÖY                    | KENT                                   |
|---|------------------------|--|
| A | Ekonomi                | Tarıma ve hayvancılığa dayanır         |
| B | Toplumsal hareketlilik | Statü değişirme çok sık görülür        |
| C | İş bölümü              | Cinsiyete dayalı doğal işbölümü vardır |
| D | Toplumsal kontrol      | Gelenek ve görenekler etkilidir        |

18. Toplumsal tabakalaşma ile ilgili olarak aşağıda verilen bilgilerden hangisi **yanlıştır**?

- A) Gelişmiş ülkelere ait tabakalaşma piramidinde orta tabakayı oluşturan bireylerin sayısı fazladır.  
B) Az gelişmiş toplumlarda halkın ekonomik refahı düşük olduğu için, alt tabaka daha geniştir.  
C) Tabakalaşma toplumlarda bir farklılaşmayı ya da eşitsizliği ifade eder.  
D) Farklı tabakalarda yer alan bireylerin yaşam biçimleri de birbirine benzer.

19. Açık sınıf tabakalaşmasında, bireylerin tabakalar arasında yer değiştirebilmesinde belirleyici olan temel faktör aşağıdakilerden hangisidir?

- A) Bireylerin yetenek ve başarıları  
B) Dinsel değerler ve gelenekler  
C) Doğuştan verilmiş olan statüler  
D) Belli bir aileye mensubiyet

20. Bir fabrikanın patronu olan Kaya'nın iflas ederek başka bir fabrikada gece bekçisi olarak çalışmaya başlaması aşağıdakilerden hangisine örnektir?

- A) Yukarıya doğru dikey hareketlilik  
B) Aşağıya doğru dikey hareketlilik  
C) Toplumsal yapıda yatay hareketlilik  
D) Coğrafi alanda yatay hareketlilik

1. Kültür ile ilgili aşağıdaki yargılardan hangisi doğrudur?

- A) Kültür doğuştan kalıtım yoluyla kazanılır.  
B) Maddi ve manevi kültür öğeleri birbirinden tamamen bağımsızdır.  
C) Kültürleri, ileri kültür, geri kalmış kültür olarak ayırabiliriz.  
D) İnsanların birbirleriyle girdikleri sosyal, ekonomik siyasal ilişkiler sonucu kültür ortaya çıkar.

2. • Belli bir toplumda kültürün maddi ve manevi öğelerinin dıştan içe ya da içten dışa doğru yayılmasıdır.  
• Bir kültürün başka bir kültürden bir takım unsurlar almasıdır.

**Yukarıda tanımlanan verilen kavramlar hangisinde birlikte verilmiştir?**

- A) Kültürleşme – Kültürleşme  
B) Kültürel değişim – Kültürleşme  
C) Kültürel yayılma – Kültürleşme  
D) Kültürel yayılma – Kültürel yozlaşma

3. Aşağıdakilerden hangisi toplumsal kurum **değildir**?

- A) Kültür B) Aile  
C) Eğitim D) Din

4. Aile, birincil grup ilişkilerinin yaşadığı temel kurumlardan birisidir. Birincil grup ilişkilerinin temel özelliği çıkar duygusundan uzak samimi duyguların yaşandığı ilişkiler olmasıdır.

**Aşağıdakilerden hangisi birincil grup ilişkisine örnek verilebilir?**

- A) Toplumsal çözümlere sebep olan ilişkiler  
B) "Bizim hepimiz, hepimiz bizim için" ilkesine dayalı ilişkiler  
C) Hukuk kurallarına bağlı olan ilişkiler  
D) "Biz" diye bir şey yok, sadece "ben varım" ilkesine dayanan ilişkiler

5. Aşağıdaki aile sınıflandırmalarının hangisi, tek eşliliğin olduğu, evlenme ve boşanmanın hukuk kurallarıyla yapıldığı, eşitlik ilkesine dayanan aile türüdür?

- A) Anaerkil aile  
B) Çekirdek aile  
C) Ataerkil aile  
D) Büyük aile

6. Günümüz ailesinde kadının statüsünde olumlu anlamda değişimler meydana gelmiştir. Bu olumlu değişimlerin nedeni aşağıdakilerden hangisiyle açıklanamaz?

- A) Tek eşliliğin uygulanması.  
B) Kadınların eğitim imkanlarından faydalanması.  
C) Anayasamızda kadın erkek arasında ayırım yapılması.  
D) Medeni kanunla beraber kadın haklarının, hukuksal bir temele dayandırılması.

7. Evreni yaratan ve yöneten bir tanrının varlığını kabul eden görüş aşağıdakilerden hangisidir?

- A) Teizm B) Ateizm  
C) Panteizm D) Fetişizm

8. I. Bir takım kurallar koyarak toplumsal düzeni sağlamaya çalışır.  
II. İnsanların psikolojik olarak rahatlamalarına yardımcı olur.  
III. Bireyin korku ve günlük kaygılarından uzaklaşmasına yardımcı olur.

**Verilenlerden hangisi veya hangileri dinin toplumsal işlevlerindendir?**

- A) II ve III B) Yalnız III  
C) I ve II D) Yalnız I

9. Bireylerin inançlarını özgürce yaşayabilmelerine ve ifade edebilmelerine imkan sağlayan demokratik toplum sisteminin vazgeçilmez ilkesi hangisidir?

- A) Laiklik  
B) Devletçilik  
C) Güçler ayrılığı  
D) Milli egemenlik

## EK SINAV

10. Üretim sonucunda elde edilen mal ve hizmet değerlerinin, üretime katılanlar arasında paylaşılması aşağıdakilerden hangisidir?

- A) Üretim B) Tüketim  
C) Bölüşüm D) İş bölümü

11. Aşağıdakilerden hangisi kapitalist ekonomi sisteminin özelliklerindendir?

- A) Hangi malların ne miktarda üretileceğini devletin önceden belirlemesi  
B) Malların fiyatının ekonomik plânlama ve maliyete göre belirlenmesi  
C) Üretim araçlarının mülkiyetinin devletin elinde olması  
D) Hangi malların ne miktarda üretileceği kâra göre belirlenmesi.

12. Tüketim malı, insan ihtiyaçlarını doğrudan doğruya karşılayan mallardır.

**Buna göre aşağıdakilerden hangisi öncelikle tüketim malına örnek olur?**

- A) Ekmek B) Traktör  
C) Çimento D) Dikiş makinesi

13. Aşağıdakilerden hangisi siyasetin temel kavramlarından değildir?

- A) Devlet B) Meşruiyet  
C) Demokrasi D) Sermaye

14. Aşağıdakilerden hangisi baskıcı yönetimlerin belirgin özelliğidir?

- A) Sivil toplum kuruluşlarının faaliyetlerini desteklemek  
B) Halkı siyaset dışında tutmaya çalışmak  
C) Temel hakları güvence altına almak  
D) Evrensel hukuk normlarını uygulamak

15. Toplumsal değişme toplumsal hayatın her alanında zaman içerisinde meydana gelen değişimlerdir.

**Aşağıda verilen toplumsal değişme ile ilgili yargılardan hangisi yanlıştır?**

- A) Toplumsal değişme, bütün toplumlar için kaçınılmaz bir olgudur.  
B) Toplumsal değişme sürekli ve sürekli.  
C) Toplumsal değişimin hızı bütün toplumlar arasında aynıdır.  
D) Bütün toplumlar değişim içindedir.

16. “Bir toplumda maddî ve manevî kültür öğelerinin bir arada işleyen bir bütün oluşturacak biçimde birbirlerini tamamlamamasıdır.”

**Yukarıda tanımlanan kavram hangisidir?**

- A) Toplumsal ilerleme  
B) Toplumsal çözülme  
C) Toplumsal bütünleşme  
D) Toplumsal dayanışma

17. Aşağıdakilerden hangisi toplumsal bütünleşmeyi sağlayan nedenlerden değildir?

- A) Millî değerleri paylaşma  
B) Orta tabakanın genişlemesi  
C) Manevî değerler etrafında birleşme  
D) Toplumsal değerlerden uzaklaşma

18. I. Toplumların kendiliğinden ve herhangi bir müdahale olmadan değişimini ifade eder.  
II. Değişimin, plân ve programlar aracılığıyla istenen yönde ve belli bir sürede gerçekleştirildiği, şiddet ve terör içermeyen değişimlerdir.  
III. Tek bir karar mekanizmasının hazırladığı plân ve programların toplumun onayının alınmadan uygulanmasıdır.

**Yukarıda verilenlerden hangisi toplumsal değişim tiplerinden “demokratik plânlı değişimin” özelliklerindendir?**

- A) Yalnız I B) Yalnız II  
C) Yalnız III D) I ve II

19. Aşağıdakilerden hangisi toplumsal gelişme düzeyini belirleyen unsurlardan değildir?

- A) Gelir dağılımındaki dengesizlik  
B) Orta tabakanın genişlemesi  
C) Ekonomik büyüme  
D) Toplumsal bütünleşme

20. Aşağıdakilerden hangisi millî birlik bilincinin zayıflamasının nedenlerindendir?

- A) Gelir dağılımının adaletli gerçekleşmesi  
B) Yeni değişimlere uygun normların geliştirilmesi  
C) Kültürel öğelerin, özellikle dilin yozlaşması  
D) Aydınların toplumsal sorunlara duyarlı olması

(242) İNGİLİZCE – 3

**1 - 19. sorularda boş bırakılan yere uygun gelen kelime ya da ifadeyi işaretleyiniz.**

1. You must learn - - - English in order to find a good job.

- A) the B) a C) an D) -

2. Suat is ill now and he is at the hospital. - - - he can't play in the next match.

- A) But B) So C) Or D) Nor

3. I came to visit my grandparents - - - they weren't at home.

- A) nor B) or C) yet D) so

4. The meeting was crowded - - - noisy.

- A) and B) for C) if D) as

5. Money makes rich - - - it doesn't bring happiness.

- A) or B) so C) nor D) but

## EK SINAV

6. Would you rather go to cinema  
- - - - go to theatre?

- A) so B) nor C) or D) yet

7. It is very hot here. If you want,  
you can take off - - - - coat.

- A) you B) your  
C) yourself D) yourselves

8. Fatih usually watches sports  
programs such as bungee-  
jumping, snowboarding and  
rafting on TV.

He likes - - - - sports.

- A) indoors B) usual  
C) safe D) extreme

9. The telephone - - - - . Could you  
answer it please?

- A) has rung B) ring  
C) is ringing D) rang

10. My best friend, Mustafa is  
studying Medicine at university.  
He - - - - a doctor soon.

- A) is going to be  
B) has been  
C) had been  
D) was

11. What - - - - they - - - - to do  
now? They look very strange.

- A) can / try B) will / try  
C) do / trying D) are / trying

12. My sister is going to be a  
doctor - - - - .

- A) right now B) every day  
C) next year D) once a week

13. He is having a shower - - - -. So,  
he can't go out now.

- A) the following week  
B) at the moment  
C) every day  
D) tomorrow

14. I always drink a glass of milk  
- - - - .

- A) in the mornings  
B) at the moment  
C) next year  
D) tomorrow

15. My father works hard from  
08:00 am to 10:00 pm. He has  
got - - - - .

- A) lots of toys  
B) an easy job  
C) a punctual student  
D) long working hours

16. She bought a - - - - .

- A) shirt new black expensive  
B) expensive black shirt new  
C) new expensive black shirt  
D) black expensive shirt new

17. A: - - - - you like reading comics?  
B: No, I - - - - .

- A) Do / don't B) Does / doesn't  
C) Do / doesn't D) Does / don't

18. A: - - - - kind of movies do you  
like?

B: I like scary movies.

- A) How B) What  
C) When D) Whose

19. A: - - - - is your favourite football  
player?

B: Arda Turan.

- A) Who B) When  
C) Where D) Which

20. are going to / Egypt / soon / to /  
4 5 6 1

They / fly .  
2 3

Yukarıda karışık olarak verilen  
kelimelerin doğru sıralandığı  
seçeneği işaretleyiniz.

- A) 2, 3, 4, 5, 6, 1  
B) 5, 2, 3, 4, 6, 1  
C) 2, 4, 3, 1, 5, 6  
D) 5, 6, 2, 3, 1, 4

(242) ALMANCA – 3

1 - 15. sorularda boş bırakılan  
yere uygun gelen kelime  
ya da ifadeyi işaretleyiniz.

1. A: Darf ich - - - - zum Essen  
einladen?

B: Danke! Das ist sehr nett von  
dir.

- A) mich B) dich  
C) sich D) unser

2. Ich - - - - jeden Morgen um  
7 Uhr - - - - .

- A) gehe / - B) ziehe / -  
C) stehe / auf D) sehe / aus

3. Hasan mal- - - - - ein Bild und  
häng- - - - - es an die Wand.

- A) -t / -t B) -t / -e  
C) -st / -st D) -t / -st

4. A: - - - - schreibst du?

B: Ich schreibe mit dem Füller.

- A) Womit B) Woher  
C) Wem D) Was

5. Susanne - - - - morgen nach  
Deutschland fliegen.

- A) wird B) werden  
C) wurde D) geworden

6. Der Vater sagt seiner Tochter,  
- - - - sie zu wenig isst.

- A) weil B) denn  
C) dass D) und

7.



- Wo ist der Ball?

- Der Ball ist - - - - .

- A) über den Jungen.  
B) unter den Jungen.  
C) neben dem Jungen.  
D) zwischen den Jungen.

## EK SINAV

8. Ali : - - - - spielst du Tennis?

Ahmet : Mit Hasan.

- A) Mit wem      B) Womit  
C) Wo            D) Was

9. Tina schläft im - - - - .

- A) Küche            B) Badezimmer  
C) Balkon          D) Bett

10. Das - - - - Auto gehört mir.

- A) blauen            B) rote  
C) schwarz          D) grün

11. Das - - - - ist heute sehr schön und die Sonne scheint.

- A) Wetter            B) Wolken  
C) Grad              D) Temperatur

12. Er holt seine Freundin - - - - der Schule ab.

- A) vom              B) vor  
C) von               D) zum

13. Wir essen - - - - einem Restaurant.

- A) zu      B) um    C) im    D) in

14. Der Schrank steht vor - - - - Wand. (die Wand)

- A) das    B) dem    C) der    D) den

15. A: - - - - du mir bitte Geld leihen?

B: Nein, ich kann dir leider kein Geld leihen.

- A) Können            B) Kannst  
C) Kann              D) Könnte

16. Verilen sözcüklerden bir grup oluşturulduğunda hangisi farklıdır?

- A) das Bad  
B) das Kino  
C) die Küche  
D) der Wohnzimmer

17. Kurallı bir cümle oluşturunuz.

Michael und Klaus

1

im Supermarkt eingekauft

2

3

haben heute

4

- A) 1 / 2 / 3 / 4    B) 3 / 4 / 2 / 1  
C) 1 / 4 / 2 / 3    D) 4 / 2 / 3 / 1


18. Aşağıdaki kelimelerden hangisinin Almanca karşılığı yanlış verilmiştir?

- A) almak = nehmen  
B) unutmak = vergessen  
C) yazmak = schreiben  
D) nefes almak = kaufen

19. "Her sabah saat 7:00'de kalkıyorum." cümlesinin karşılığı hangi seçenekte verilmiştir?

- A) Ich stehe jeden Morgen um 7:00 Uhr auf.  
B) Ich werde jeden Morgen um 7:00 Uhr aufstehen.  
C) Ich stand jeden Morgen um 7:00 Uhr auf.  
D) Ich bin jeden Morgen um 7:00 Uhr aufgestanden.

20. Wie ist das Wetter?



- A) Es regnet.  
B) Es schneit.  
C) Die Sonne scheint.  
D) Es ist wolkig.

### (242) FRANSIZCA – 3

1 – 18. sorularda boş bırakılan yere uygun gelen kelime ya da ifadeyi işaretleyiniz.

1. A: Gökhan a dix-sept ans?  
B: Non, - - - - n'a pas dix-sept ans.

- A) il      B) elle    C) tu    D) ils

2. A: Vous écoutez la radio le matin?  
B: Oui, je - - - - écoute.

- A) te (t')            B) les  
C) la (l')            D) le (l')

3. A: Est-ce que vous faites les exercices?  
B: Oui, nous - - - - faisons.

- A) nous              B) les  
C) la                  D) leurs

4. A: Tu téléphones à Julie?  
B: Oui, je - - - - téléphone souvent.

- A) le      B) la      C) leur    D) lui

5. A: Est-ce que quelqu'un parle italien au bureau de poste?  
B: Non, - - - - ne parle italien.

- A) rien  
B) depuis  
C) quelque chose  
D) personne

6. Je déteste les gens - - - - ne disent jamais bonjour.

- A) qui    B) ou    C) où    D) que

7. Comme il - - - - elle ne sort pas.

- A) neigé            B) venu  
C) pleut            D) plu

## EK SINAV

8. **A: Je n'aime pas cela.**  
**B: Dis-moi - - - - tu aimes, alors!**

A) ce qui      B) ce que  
C) depuis      D) pour

9. **A: Tu as déjà lu ce roman?**  
**B: Oui, je l'ai lu - - - - .**

A) la semaine prochaine  
B) le mois dernier  
C) demain  
D) après-demain

10. **A: Bernard va au magasin de musique?**  
**B: Oui, il - - - - va en métro.**

A) dans      B) en  
C) aux      D) y

11. **A: Comment vas-tu à l'école, Asya?**  
**B: J'y vais à vélo mais - - - - il fait froid, j'y vais en voiture.**

A) quand  
B) parce que  
C) qui est-ce qui  
D) combien

12. **Madame, votre mari est malade.**  
**Vous ne lui permettrez pas de - - - - .**

A) respecter      B) vendre  
C) acheter      D) fumer

13. **A: Vous mangez du yaourt?**  
**B: Oui, nous - - - - mangeons.**

A) en      B) du      C) des      D) y

14. **A: Qu'est-ce qu'un - - - - ?**  
**B: C'est quelqu'un qui soigne les dents malades.**

A) pilote      B) médecin  
C) vétérinaire      D) dentiste

15. **C'est Kıvanç Tatlıtuğ - - - - joue dans le film Kelebeğin Rüyası.**

A) donc      B) que  
C) qui      D) ce que

16. **Sümer Tilmaç, acteur célèbre est - - - - à l'âge de 67 ans.**

A) né      B) mort  
C) marché      D) donné

17. **La pâtissière - - - - des gâteaux, des croissants.**

A) faire      B) ai fait  
C) fait      D) faisais

18. **Paul - - - - passé ses vacances d'hiver en Autriche.**

A) as      B) es      C) a      D) est

19-20. sorularda verilen resme göre doğru ifadenin bulunduğu seçeneği işaretleyiniz.

19.



**S'il - - - - elle aime marcher sous son parapluie.**

A) neige      B) pleut  
C) fait chaud      D) fait froid

20.



**Il est - - - - .**

A) boucher      B) médecin  
C) journaliste      D) professeur

(243) İNGİLİZCE – 4

1 - 20. sorularda boş bırakılan yere uygun gelen kelime ya da ifadeyi işaretleyiniz.

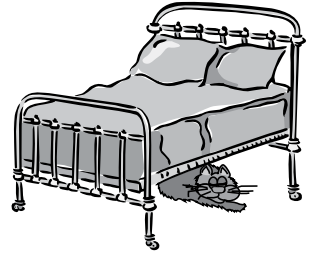
1. **The stars were shining - - - - night.**

A) up      B) in      C) on      D) at

2. **She is going to fly to Paris - - - - Friday.**

A) on      B) in      C) at      D) of

3.



**The little cat was sleeping - - - - the bed.**

A) near      B) under  
C) opposite      D) in front of

4. **Scientists have made many - - - - in the 21<sup>st</sup> century.**

A) cake      B) movie  
C) campaign      D) inventions

5. **Yesterday, we went on a picnic by the lake. It was enjoyable. We had a - - - - time.**

A) great      B) many  
C) much      D) less

6. **Kids learn a foreign language - - - - than adults.**

A) easy      B) easily  
C) easier      D) the easiest

7. **Japanese is - - - - language to learn in the world.**

A) the most difficult  
B) more difficult  
C) most difficult  
D) difficult than

## EK SINAV

8. The wind was blowing - - - - while she was watching delightful sea view.

- A) easily                      B) gently  
C) slow                        D) sharp

9. She left the house - - - - and started to cry on the way.

- A) difficult                      B) dangerous  
C) comfortably                D) sorrowfully

10. I haven't seen such a beautiful view - - - - .

- A) ever                        B) never  
C) before                      D) already

11. Have you - - - - been to Canada?

- A) yet                        B) ever  
C) never                      D) before

12. They travelled to California for their honeymoon - - - - .

- A) once a year  
B) next summer  
C) two days ago  
D) at the moment

13. After dinner, I and my wife - - - - along the beach. The sky was full of stars. It was very romantic.

- A) walks                      B) walk  
C) walked                      D) walking

14. Last week, I was in Italy for 3 days. I - - - - some souvenirs for you.

- A) buying                      B) buy  
C) to buy                        D) bought

15. Every year, we - - - - to İzmir for our summer holiday but this year we - - - - to Antalya instead.

- A) go / will go                B) goes / went  
C) went / go                  D) will go / goes

16. People - - - - fasten their relationship in Feasts in the past but nowadays some people - - - - the Feasts as holiday.

- A) use to / saw  
B) used to / see  
C) used to / saw  
D) use to / to see

17. A: Where - - - - you - - - - camp last year?  
B: In Uludağ.

- A) do / make  
B) did / make  
C) are / making  
D) have / made

18. A: When were you born?  
B: I was born - - - - 13<sup>rd</sup> of August - - - - 1982.

- A) in / on                      B) on / on  
C) on / in                      D) in / in

19. A: - - - -  
B: I was hungry so I ate three sandwiches for lunch.

- A) How much money did you pay for a sandwich?  
B) Did you eat a sandwich for breakfast?  
C) Do you prefer sandwich or pizza?  
D) How many sandwiches did you eat?

20.

| Healthy Food | Unhealthy Food |
|--------------|----------------|
| fruit        | 2 .....        |
| 1 .....      | chips          |
| dried food   | coke           |

- | 1            | 2           |
|--------------|-------------|
| A) fast food | / fruit     |
| B) vegetable | / fast food |
| C) fast food | / vegetable |
| D) vegetable | / fruit     |

(243) ALMANCA – 4

1 - 19. sorularda boş bırakılan yere uygun gelen kelime ya da ifadeyi işaretleyiniz.

1. Sie - - - - vorsichtig sein, wenn sie Auto fahren.

- A) muss                      B) musste  
C) müssen                      D) müsse

2. Lehrer : - - - - deine Hausaufgaben!

- A) Machen                      B) Machst  
C) Macht                        D) Mach

3. Der Fahrrad ist - - - - als das Auto.

- A) langsamer                      B) langsamste  
C) schnell                        D) schnellste

4. - - - - wir zusammen tanzen?

- A) Kann                        B) Können  
C) Kannst                        D) Könnte

5. Ayşe : - - - - du Englisch?  
Betül : Ja, ich lerne Englisch.

- A) Lernt                        B) Lerne  
C) Lernen                        D) Lernst

6.



Halil : Wie spät ist es?  
Claudia : Es ist - - - -

- A) Viertel vor drei.  
B) Viertel vor eins.  
C) Viertel nach drei.  
D) Viertel nach eins.

7. - - - - ihr Kino ins gehen?

- A) Wollt                        B) Willst  
C) Wollen                        D) Will

8. Dienstag, - - - -, Donnerstag

- A) Montag                        B) Samstag  
C) Freitag                        D) Mittwoch

## EK SINAV

9. lang, - - - -, am längsten

- A) langes      B) lange  
C) länger      D) langen

10. Der groß- - - - Mann möchte Kaffee trinken.

- A) -en      B) -e  
C) -s      D) -

11. - - - - man Studieren will, soll man ins Gymnasium gehen.

- A) Als      B) Wenn  
C) Wie      D) Ob

12. - - - - du das Buch kaufen?

- A) Wollt      B) Will  
C) Wollen      D) Willst

13. Ferien in Antalya bietet Ihnen; sonnig- - - - Wetter und neu- - - - Freundschaften.

- A) -e / -e      B) -es / -e  
C) -er / -      D) - / -e

14. A: Muss ich noch üben?  
B: Nein, du brauchst nicht - - - - üben.

- A) zu      B) haben  
C) dass      D) denn

15. Ich möchte ein- - - - neu- - - - Schreibtisch.

- A) -em / -es      B) -er / -en  
C) -en / -en      D) -er / -e

16. Ich schenk- - - - meiner Freundin zum Geburtstag eine Rose.

- A) -en      B) -e      C) -t      D) --

17. hoch, - - - -, am höchsten

- A) hohes      B) höher  
C) hohen      D) hohe

18. Freitag, - - - -, Sonntag

- A) Mittwoch      B) Montag  
C) Samstag      D) Donnerstag

19. A: Mit - - - - hast du telefoniert?  
B: Mit Sandra.

- A) wem      B) wer  
C) was      D) wo

20. Aşağıdaki cümlelerden hangisi emir cümlesidir? (Befehlsatz)

- A) Wer ist das □  
B) Ich heiße Çınar □  
C) Schreib schnell □  
D) Angenehm □

### (243) FRANSIZCA – 4

1 – 18. sorularda boş bırakılan yere uygun gelen kelime ya da ifadeyi işaretleyiniz.

1. - - - - sommes en hiver, mais bientôt ce sera le printemps.

- A) Ils      B) Nous  
C) Elles      D) Vous

2. Selim a les cheveux courts, Ömer et Okan, - - - - ont les cheveux longs.

- A) ils      B) il  
C) elles      D) elle

3. Ne prends pas ce pantalon-ci, mais - - - - .

- A) celle-là      B) celles-là  
C) celui-là      D) ceux-ci

4. Pierre n'a pas de veste blanche, mais il met souvent - - - - de son père.

- A) ceux-ci      B) celles-ci  
C) celui-là      D) celle

5. Derya a 42 ans. Sevim a 37 ans. Derya est - - - - âgée que Sevim.

- A) autant      B) moins  
C) plus      D) aussi

6. Pascal prend deux cours de maths par semaine, René aussi. René prend - - - - de cours de maths que Pascal.

- A) plus      B) la plus  
C) autant      D) moins

7. L'éléphant est l'animal - - - - grand du zoo.

- A) le plus      B) la moins  
C) les moins      D) les plus

8. A: C'est le vélo de Paul?  
B: Non, c'est - - - -

- A) les miens      B) les leurs  
C) les siens      D) le mien

9. A: Mes enfants sont petits. Et les tiens?  
B: - - - - aussi sont petits.

- A) Le sien      B) Les miens  
C) Les siennes      D) La mienne

10. - - - - il pleut, je m'ennuie beaucoup.

- A) Où      B) Combien  
C) Comment      D) Quand

11. Lorsque l'arbitre sifflera, - - - - commencera.

- A) le match      B) la fenêtre  
C) le sac      D) la chambre

12. Quand je me sens fatigué, je - - - - une douche.

- A) as pris      B) prenais  
C) prends      D) a pris

13. A: Au petit déjeuner, tu bois - - - - ?  
B: Non, je n'en bois pas.

- A) du pain  
B) de la salade  
C) du jus de fruit  
D) des olives

14. Un - - - - a été volé dans le musée du Louvre.

- A) tableau      B) restaurant  
C) quartier      D) jardin public

15. Si tu recevais - - - - anonyme, que ferais-tu?

- A) un boulevard  
B) une lettre  
C) un bâtiment  
D) une banlieue



## EK SINAV

16. Pour déclarer un vol, on va - - - - .

- A) au coin de la rue
- B) au commissariat de police
- C) à la librairie
- D) au bureau de poste

17. - - - - est une personne qui vend de la viande.

- A) Le pâtissier
- B) Le pompier
- C) Le photographe
- D) Le boucher

18. La statue de la Liberté est - - - - New York - - - - États-Unis.

- A) en / à
- B) à la / au
- C) à / aux
- D) aux / en

19. Aşağıdaki cümlelerin hangisinde "futur proche" kullanılmıştır?

- A) Elle a bien regardé les enfants.
- B) Regardez bien les oiseaux.
- C) Je viens de regarder les enfants.
- D) Il va passer ses vacances à Bodrum.

20. Verilen resme göre doğru ifadenin bulunduğu seçeneği işaretleyiniz.



- A) Il est beau et il est souriant.
- B) Il est vieux et il a des lunettes.
- C) Il est chauve et il a de la barbe.
- D) Il est barbu et il est sérieux.

### (244) İNGİLİZCE – 5

**1 - 20. sorularda boş bırakılan yere uygun gelen kelime ya da ifadeyi işaretleyiniz.**

1. It hasn't snowed in Antalya - - - - many years.

- A) for
- B) since
- C) to
- D) at

2. Turkish Republic of Northern Cyprus has been independent - - - - 1984.

- A) never
- B) for
- C) since
- D) ever

3. To lose weight you need to eat - - - - .

- A) less
- B) much
- C) most
- D) worse

4. Today, Ahmet is - - - - than yesterday.

- A) good
- B) best
- C) the best
- D) better

5. Konya is - - - - than all the other cities in Turkey.

- A) large
- B) larger
- C) largest
- D) the largest

6. The air in the big cities is more - - - - than in the village.

- A) crowded
- B) comfortable
- C) polluted
- D) pleasant

7. People have to use the - - - - for the benefit of human kind.

- A) invitations
- B) scientists
- C) questions
- D) inventions

8. Technology has made our lives easier but it has some - - - - for us.

- A) disadvantages
- B) precautions
- C) researches
- D) resources

9. When I was a child, I - - - - drink much more milk than now.

- A) should
- B) have to
- C) used to
- D) might

10. Your father never drinks cold water, - - - -

- A) will he?
- B) does he?
- C) won't he?
- D) doesn't he?

11. You never tell lies, - - - - ?

- A) were they
- B) is she
- C) will you
- D) do you

12. Don't cheat in the exam, - - - - ?

- A) do you
- B) are we
- C) will you
- D) has she

13. The author - - - - a historical novel and won the Nobel Prize.

- A) wrote
- B) writes
- C) will write
- D) is writing

14. While the little girl was swimming in the lake, unfortunately she - - - - .

- A) has drowned
- B) will drown
- C) is drowning
- D) drowned

15. My watch - - - - out of order since yesterday.

- A) have been
- B) has been
- C) will be
- D) is

16. The manager - - - - the campaign successfully for six months.

- A) is leading
- B) will lead
- C) has led
- D) to lead

17. While they were walking in the forest, they - - - - a big poisonous snake.

- A) see
- B) saw
- C) were seeing
- D) will see



## EK SINAV

18. My grandfather ---- a moustache when he was young.

- A) will use
- B) is using
- C) have had
- D) used to have

19. ---- your wife ---- to cook delicious meals?

- A) Did / use
- B) Did / used
- C) Does / use
- D) Does / used

20. A: I have some guests for this evening.

B: Don't worry! I ---- you clean the house.

- A) have helped
- B) am helping
- C) will help
- D) helped

### (244) ALMANCA – 5

1 - 15. sorularda boş bırakılan yere uygun gelen kelime ya da ifadeyi işaretleyiniz.

1. Dienstag, ----, Donnerstag

- A) Mittwoch
- B) Freitag
- C) Samstag
- D) Montag

2. Atatürk ist ---- Jahre 1881 in Selanik geboren.

- A) bis
- B) im
- C) um
- D) am

3.



Fahrrad ----

- A) reiten
- B) spielen
- C) arbeiten
- D) fahren

4. Ich lese die Zeitungen, ---- die Nachrichten ---- verfolgen.

- A) um / zu
- B) von / bis
- C) aber / bis
- D) und / zum

5. Suzi hat ---- April Geburtstag.

- A) um
- B) im
- C) von
- D) bis

6. Du machst ---- deine Hausaufgaben. Du hast eine Belohnung verdient.

- A) trotzdem
- B) nie
- C) immer
- D) selten

7. ---- hat sie sich auf diese Vorführung vorbereitet.

- A) Ziemlich
- B) Denn
- C) Tagelang
- D) Ungefähr

8. Ich tanze gern, ---- es Spaß macht.

- A) weil
- B) aber
- C) denn
- D) um

9. Das Geschäft ist ---- Montag ---- Freitag geöffnet.


- A) um / zu
- B) je / mehr
- C) weil / aber
- D) von / bis

10. A: ---- dauert die Fahrt nach Antalya?

B: Ungefähr 6 Stunden.

- A) Wann
- B) Wie lange
- C) Wo
- D) Wie oft

11.



Ali ist dicker ---- Can.

- A) dass
- B) wenn
- C) als
- D) weil

12. Man sollte ---- frühstücken.

- A) morgens
- B) morgen
- C) mittag
- D) nachts

13. Mittwoch, Donnerstag, ----

- A) Samstag
- B) Freitag
- C) Montag
- D) Mittwoch

14. A: Wann bist du geboren?  
B: Ich bin ---- 2001 geboren.

- A) im Jahre
- B) am
- C) um
- D) im

15. A: ---- dauert eine Unterrichtsstunde?  
B: 45 Minuten. Danach gibt es Pause.

- A) Wieviel
- B) Wie oft
- C) Wann
- D) Wie lange

16. Fiat: 500 km / h  
VW: 300 km / h  
Audi: 290 km / h

Bu bilgiler doğrultusunda bir derecelendirme için, uygun sıfat hangisidir?

- A) billig
- B) dick
- C) schön
- D) schnell


17. Aşağıdakilerden hangisinde uygun olmayan bir sıfat kullanılmıştır?

- A) der schnellste Läufer
- B) der höchste Berg
- C) das laute Haus
- D) die moderne Stadt

18. Aşağıdakilerden hangisi özgeçmişte (Lebenslauf) yer almaz?

- A) Vor-und Nachname
- B) Hobbys
- C) Geburtsort
- D) Ausbildung

19.



Wie spät ist es?

- A) Es ist halb sechs.
- B) Es ist Viertel vor sieben.
- C) Es ist Viertel nach sechs.
- D) Es ist Viertel nach sieben.

## EK SINAV

20. Aşağıda karışık olarak verilen kelimelerle kurallı bir cümle oluşturunuz.

geregnet – in – hat – Es – viel –  
1 2 3 4 5  
İstanbul  
6

- A) 1 - 2 - 3 - 4 - 5 - 6  
B) 4 - 5 - 3 - 1 - 6 - 2  
C) 4 - 3 - 5 - 2 - 6 - 1  
D) 4 - 2 - 3 - 1 - 5 - 6

### (244) FRANSIZCA – 5

1 - 16. sorularda boş bırakılan yere uygun gelen kelime ya da ifadeyi işaretleyiniz.

1. - - - - part en vacances avec ses grands-parents.

- A) Elles B) Vous  
C) Il D) Nous

2. - - - - n'aiment pas jouer au ballon avec Pierre.

- A) Elle B) Tu  
C) Je D) Elles

3. Lisez bien - - - - est écrit au tableau.

- A) ce qui B) que  
C) ce que D) donc

4. As-tu vu le film - - - - est passé hier soir à la télé?

- A) ce que B) ce qui  
C) que D) qui

5. Je ne connais pas la jeune fille - - - - tu cherches.

- A) où B) que C) qui D) donc

6. - - - il est fatigué, il écoute de la musique classique.

- A) Quand B) Combien  
C) Comment D) Pourquoi

7. Nous avons fait du camping à Foça - - - - les vacances d'été.

- A) enfin B) il y a  
C) pour D) pendant

8. Nous irons - - - - ensemble pour faire du ski nautique.

- A) au concert  
B) à la bibliothèque  
C) à la mer  
D) au musée

9. - - - - elles sont allées en Italie.

- A) Lundi prochain  
B) Juin prochain  
C) La semaine dernière  
D) Demain

10. Titanic est un film - - - - la fin est triste.

- A) que B) dont  
C) où D) qui

11. Ma fille apprend l'anglais - - - - des CD.

- A) chanté B) en chantant  
C) écouté D) en écoutant

12. Mme Duval - - - - dans le parc national, étudie les oiseaux.

- A) travaillant B) oubliant  
C) pendant D) apportant

13. Pendant ses - - - - en bateau sur le Bosphore, elle lit des romans.

- A) vêtements B) promenades  
C) animaux D) romans

14. S'il neige demain, nous irons - - - - à Iğaz.

- A) faire du ski  
B) se réveiller  
C) faire du ski nautique  
D) faire de la plongée

15. - - - - avons fait des gâteaux dimanche dernier.

- A) Ma femme  
B) Mon frère et sa femme  
C) Ma fille et moi  
D) Mon frère

16. - - - - France, on roule - - - - droite.

- A) Aux / au B) Au / aux  
C) À / en D) En / à

17 - 18. sorularda verilen cümlelerin Türkçe karşılığını işaretleyiniz.

17. Les jeunes sont sortis de l'école en riant ensemble.

- A) Gençler okuldan gülüşerek çıktılar.  
B) Gençler okulun avlusunda kol kola geziniyorlar.  
C) Çocukların zayıflıktan kemikleri çıkmış.  
D) Çocuklar atlara zıplama okula gidiyorlar.

18. Je prends du thé en mangeant du gâteau.

- A) Çayımı hazırlarken pasta yedim.  
B) Pasta yaparken çay içtim.  
C) Pastanın yanında çay olsun isterim.  
D) Pasta yerken çay içerim.

19 - 20. sorularda verilen cümlelerin Fransızca karşılığını işaretleyiniz.

19. Sokakta şarkı söyleyen bir genç kız gördüm.

- A) J'ai vu un beau garçon chantant dans la rue.  
B) J'ai vu une jeune fille chantant dans la rue.  
C) J'ai rencontré un jeune dansant dans la cour.  
D) Je vois une jeune fille dansant dans la cour.

20. Metin kahvaltısını yaparken telefonla konuşuyordu.

- A) Metin a répondu au téléphone en prenant son café.  
B) Metin parlait au téléphone en prenant son petit déjeuner.  
C) Metin parle toujours au téléphone en prenant le dîner.  
D) Metin a parlé au téléphone en prenant du lait.

1. Aşağıdakilerden hangisi doğal göstergeye örnektir?

- A) Gökyüzündeki kara bulutlar
- B) Duvar yazıları
- C) Trafik levhaları
- D) Duvardaki bilgisayar resmi

2. Aşağıdakilerden hangisi iletişime ihtiyaç duyulma nedenlerinden biri olamaz?

- A) İnsanın günlük gereksinimlerini karşılama isteği
- B) Yazım ve noktalama kurallarına gereksinim duyulması
- C) İnsanın duygu ve düşüncelerini anlatma isteği
- D) İnsanın sosyal bir varlık olması

3. Duygu, düşünce ve isteklerin yazı, konuşma ve görsel araçlarla iletilmesine - - - - denir.

Bu cümlede boş bırakılan yere aşağıdaki sözcüklerden hangisi getirilmelidir?

- A) edebiyat
- B) kültür
- C) iletişim
- D) dil bilim

4. Aşağıdakilerden hangisi iletişim öğelerinden biri değildir?

- A) Kaynak
- B) Mesaj
- C) Alıcı
- D) Plan

5. Aşağıdakilerden hangisi “bağlam” sözcüğünü ifade eder?

- A) Kişilerin birbiriyle konuşması durumu
- B) İletişimin yapıldığı ortam
- C) Kişilerin aktardıkları mesajın önemi
- D) İletişimde gazete, tv, radyo kullanılması

6. Aşağıdakilerden hangisi dil bilgisinin bölümlerinden biri sayılamaz?

- A) Edebî sanat bilgisi
- B) Ses bilgisi
- C) Biçim bilgisi
- D) Anlam bilgisi

7. Aşağıdakilerden hangisi dili bir iletişim aracı olarak diğerlerinden üstün kılan temel özelliktir?

- A) Toplumun kültürünü yansıtması
- B) Tarihi olayları aktarması
- C) Duygu ve düşünceleri yazılı ve sözlü olarak açıkça iletilmesi
- D) Toplumdan topluma farklılık göstermesi

8. Aşağıdaki cümlelerden hangisinde bir bilgi yanlışlığı yapılmıştır?

- A) Konuşma dili kişilerin kültür düzeylerine göre değişiklikler gösterebilir.
- B) Okuma yazma oranı düştükçe dil kullanımında yöresel farklılıklar artar.
- C) Dillerde coğrafya ve toplumsal farklılıklar nedeniyle farklılaşmalar olur.
- D) İnsanların yüzyıllardır birbirlerine sözlü olarak aktardıkları dile yazı dili denir.

9. Türkçe, köken bakımından aşağıdaki dil ailelerinden hangisi içinde sayılabilir?

- A) Hint-Avrupa dil ailesi
- B) Hami-Sami dil ailesi
- C) Ural-Alтай dil ailesi
- D) Bantu dilleri ailesi

10. Aşağıdakilerin hangisinde Türkçenin ses özellikleri yanlış verilmiştir?

- A) Ünlü uyumu vardır.
- B) Sözcük çekim sırasında uğradığı değişikliklerle yeni anlamlar kazanır.
- C) Sondan eklemeli bir yapısı vardır.
- D) Sözcüklerde erkek ve dişi ayrımı yoktur.

11. Kesme işareti (') aşağıdaki cümlelerin hangisinde yanlış kullanılmıştır?

- A) Anadolu'nun en ücra köşesinde bile internet var.
- B) Bu yaz gidip Topkapı Sarayı'nı gezeceğim mutlaka.
- C) Türk Dil Kurumu'nun sitesinden dergiye abone oldum.
- D) Geçen ay okuduğum Derviş ve Ölüm'ü çok beğendim.

12. Aşağıdaki cümlelerin hangisinde büyük harflerin yazımıyla ilgili bir yanlışlık yapılmıştır?

- A) 21 Mart 2014 cuma günü dün-yaya gelmiş.
- B) Ahmet Bey, sizi toplantı salonunda bekliyor.
- C) Kızılay Meydanı renkli ışıklarla süslenmişti.
- D) Tamir için bir İngiliz anahtarı şart.

13. Aşağıdaki cümlelerin hangisinde yazım yanlış yapılmamıştır?

- A) Geçtiğimiz ay belediye otuz işçi alacağını ilanetti.
- B) Yaptığınız herşeyin bir gün karşılığını alacaksınız.
- C) Gerçekten odadaki bütün kitapları okudunuzmu?
- D) Eve girdiğimde sürpriz bir doğum günü partisiyle karşılaştım.

14. Bakış açısı ( ) seçilen objeye karşı yaklaşım biçimidir ( ) içinde bulunduğumuz birikim kaynakları ( ) böyle bir bakış açısına müsait midir ( )

Bu parçada parantez ( ) ile gösterilen yerlere sırasıyla aşağıdaki noktalama işaretlerinden hangileri getirilmelidir?

- A) ( , ) ( . ) ( , ) ( ? )
- B) ( ; ) ( ! ) ( , ) ( ... )
- C) ( , ) ( . ) ( : ) ( ! )
- D) ( : ) ( . ) ( , ) ( ? )

15. Aşağıdaki cümlelerin hangisinin sonuna farklı bir noktalama işareti konmalıdır?

- A) Ne güzeldir, ne heyecan verir; hangi şey insanı mutlu eder
- B) Bilmiyorum, bu kitabın neden başarısız olduğunu
- C) Bu şehri seven, bu şehre sahip çıkacak var mı
- D) Gökyüzü nasıl olur da farklı bir renk alır

16. Bir ülkenin sınırları içinde dilin bölgelere, şehirlere ve sınıflara göre değişen söyleyiş özelliğine verilen ad aşağıdakilerden hangisidir?

- A) Ağız
- B) Şive
- C) Lehçe
- D) Yazı dili

17. Kaşgarlı Mahmut'un Türkçenin Arapça kadar zengin bir dil olduğunu ortaya koymak için yazdığı eser aşağıdakilerden hangisidir?

- A) Atabetü'l Hakayık
- B) Kutadgu Bilig
- C) Divan-ı Hikmet
- D) Divanü Lügati't Türk

18. Ciğerlerden gelen havanın gırtlakta bulunan ses tellerinden geçtikten sonra ağız boşluğunun herhangi bir bölgesinde sese dönüşmesine - - - - denir.

**Bu cümlede boş bırakılan yere aşağıdakilerden hangisi getirilmelidir?**

- A) boğumlanma B) telaffuz
- C) iletişim D) vurgu

19. Aşağıdakilerden hangisi yazım ve noktalama kurallarına uygun bir cümledir?

- A) Direktör: "İyi bir hasılat yapıp ramazanı İzmir'de geçirmek istiyorum." dedi.
- B) Direktör: "İyi bir hasılat yapıp, ramazanı İzmir'de geçirmek istiyorum." dedi.
- C) Direktör, iyi bir hasılat yapıp ramazanı İzmirde geçirmek istiyorum, dedi.
- D) Direktör: "iyi bir hasılat yapıp Ramazan'ı İzmir'de geçirmek istiyorum" dedi.

20. Aşağıdaki cümlelerin hangisinde ünlü düşmesi yoktur?

- A) Bu, aklıma hiç gelmemişti.
- B) Resmi, karşı duvara asacakmış.
- C) Boksörün omzu çıkmış.
- D) Kütüğü yolun kenarına çekti.

(402) DİL VE ANLATIM – 2

1. I. Hafta sonunda çoğunlukla dinlenirim.  
II. Bu kitapları okumak için rahatlıkla izin alabilirsin.  
III. Sorunları güzellikle çözmek gerekmez mi?  
IV. Sabah saatlerinde genellikle trafik sıkışık olur.

**Yukarıda numaralanmış altı çizili sözcüklerden hangileri anlamca birbirine en yakındır?**

- A) I. ve II. B) I. ve IV.
- C) II. ve III. D) III. ve IV.

2. Aşağıdaki altı çizili sözcüklerden hangisi gerçek anlamıyla kullanılmıştır?

- A) Oyuncuların renkli dünyası onu biraz korkutmuştu.
- B) Kadının keskin bakışları karşısında hepimiz sustuk.
- C) Nermin konuştuğu ben aynı odada uzaklara gidiyordum.
- D) Kapı açık kalınca mutfığa kedi girmiş.

3. "Kaçmak" sözcüğü aşağıdaki cümlelerin hangisinde "mekân olarak uzaklaşmak, başka bir yere gitmek" anlamında kullanılmıştır?

- A) İstanbul'un insanı yutan havasından bir haftalığına kaçmıştı.
- B) Kuyucaklı Yusuf, olaylardan kırk gün kaçabilmişti.
- C) Zihnimde kaçmak istedim, ama yapamadım.
- D) Bilgisayar başında saatlerce kalarak gerçek yaşamdan kaçıyordu.

4. Aşağıdaki cümlelerin hangisinde deyim anlamına uygun kullanılmıştır?

- A) En karışık sorunları bile tereyağından kıl çeker gibi kolayca çözerdi.
- B) Düğün gününde kesenin ağzını açmış, çalışanlar bile yanından uzak durmuştu.
- C) Kedi yere düşen etleri kaşla göz arasında hızla kaçırıldı.
- D) Son maçtaki üç puanı alması nedeniyle kıl payı şampiyon oldu.

5. Aşağıdaki cümlelerin hangisinde eş sesli sözcük kullanılmıştır?

- A) Çocuk, anlamlı sözcükler söylüyordu.
- B) Geç kalkınca otobüse yetişemedi.
- C) Her zor, başka bir kolay demektir.
- D) Gün olur, sen de amacına ulaşırsın.

6. Türk edebiyatı, uzun yıllar Batı edebiyatının gölgesinde yürümek zorunda kaldı.

**Bu cümledeki "gölgesinde yürümek" sözüyle anlatılmak istenen aşağıdakilerden hangisidir?**

- A) Hiçbir varlık gösterememek
- B) O alanda yeni olmak
- C) Yeni türler üretememek
- D) Etki altında kalmak

7. Aşağıdaki cümlelerin hangisinde deyim açıklaması doğru verilmiştir?

- A) Çamur atmak: Bir kimseyi lekelemeye çalışmak
- B) Dişini sıkmak: Sıkıntılara, zorluklara katlanmak
- C) Göz kulak olmak: Bir kimseyi koruyup kollamak
- D) Hatır gönül bilmemek: İnsanlara karşı nerede nasıl davranacağını bilmemek

8. I. Gerçekler, dikenlerle; numaralanmış yalanlar ise renk renk çiçeklerle çevrelenmiştir.  
II. İstemeyi bilirsen her şeyi elde edebilirsin.  
III. Güzel süslenmeyince çirkin, çirkin bakım yapılmıca güzel görünebilir.  
IV. İnsanları tanımak için bir süre onlarla beraber olmak gerekir.

**Yukarıda cümlelerden hangileri anlamca birbirine en yakındır?**

- A) I. ve II. B) I. ve III.
- C) II. ve IV. D) III. ve IV.

## EK SINAV

9. Aşağıdaki cümlelerin hangisinde “küçümseme” anlamı söz konusudur?

- A) Başladığı hangi işi tamamlamıştır ki Sami Bey?
- B) Şiirlerini sıkça okuduğum kişiyi ilk defa görüyordum.
- C) Her şair, gerçek şiiri yakalamak için çaba gösterir.
- D) İstmeden kırdığı arkadaşına bir özür borçluydu.

10. I. Attila İlhan'ın şiiri ne kolay ne de zor anlaşılan şiirdir.  
II. Şiirsel tadın alınabileceği bir şiirdir.  
III. Okurun önünde onun popüler olması, herkesin içindeki şiiri keşfetmesinden kaynaklanır.  
IV. Hepimizin içinde keşfedilmeyi bekleyen bir şair vardır.

Yukarıda numaralanmış cümlelerin hangisinde neden - sonuç ilişkisi vardır?

- A) I. B) II. C) III. D) IV.

11. Aşağıdaki cümlelerde yer alan ikilemelerden hangisi oluşum bakımından diğerlerinden farklıdır?

- A) Adam bu işlerden doğru dürüst anlamıyordu.
- B) Burada mutlu mesut yaşıyordu adamcağız.
- C) Toplantıda bu konulara az çok değinmişti.
- D) Daima kılık kıyafetimize dikkat etmeliyiz.

12. I. Yosunlu, denizli gece  
II. Bir yeşil kıyıya veda  
III. Kimi ta yanımda deniz  
IV. Kimi bir uzak kıyıda

Yukarıdaki numaralanmış dize-lerin hangisinde sıfat tamlaması kullanılmamıştır?

- A) I. B) II. C) III. D) IV.

13. Aşağıdakilerin hangisinde “açmak” sözcüğü karşısında verilen anlama uygun kullanılmamıştır?

- A) Bir kuruluşu işler duruma getirmek: Hastaneyi açmak, ilçeye çok faydalı oldu.
- B) Ayırmak, tahsis etmek: Üst kattaki odayı sizin için açtık.
- C) Birbirinden uzaklaştırmak: Masaların arasını açmak, servis yapmayı kolaylaştırır.
- D) Rengin koyuluğunu azaltmak: Bu çocuğun gözünü biraz açmak lazım.

14. Aşağıdaki cümlelerde altı çizili sözcüklerden hangisinin kökü diğerlerinden farklıdır?

- A) Batık gemide hazine arıyorlarmış.
- B) Çevremize karşı duyarlı olmalıyız.
- C) Hazırık yapmadan yola çıkmazdı.
- D) Geleceğe dair umut taşımaliyiz.

15. Kendinizi duygu ve heyecan  
I  
yönünden olgun bir insan olarak  
II III

görmeniz öz güveninizi gösterir.  
IV

Bu cümledeki numaralanmış sözcüklerden hangisi yapım eki almamıştır?

- A) I. B) II. C) III. D) IV.

16. Aşağıdaki cümlelerdeki altı çizili sözcüklerden hangisi yapıca farklıdır?

- A) Bu kitabı detaylı bir şekilde değerlendirmelisin.
- B) Bu öyküyü nasıl yazdığını imza gününde anlatacakmış.
- C) Bu küçük kasabada yapabileceğim bir şey kalmadı.
- D) Yıllar sonra aldığı okuma kararını canıgönülden destekliyoruz.

17. Aşağıdakilerin hangisi kurallı bir isim cümlesidir?

- A) Aydın'ın sorumluluğu, adının ayrılmaz bir parçasıdır.
- B) Okumanın tadına varan kişi bir daha okumayı bırakamaz.
- C) Şiiri özümsemek için üzerinde kafa yormalıyız.
- D) Şiirdir bizi farklı diyarlara götüren, bize farklı duygular yaşatan.

18. Ara sıra sevimli çeneleriyle yeşil otları didikliyor, ihtiyar kadının parmağını kemiriyordu.

Aşağıdakilerden hangisi yapıca bu cümleyle özdeştir?

- A) Tavşanların gözü korku ve hayret ile doluydu.
- B) Tramvay, yokuşu homurdanarak çıkmıştı.
- C) Musiki ustası arkadaşımız konuşuyor, bizi aydınlatıyordu.
- D) Okuduğu metindeki atasözü ve deyimleri tespit etmişti.

19. Son zamanlarda çoğalan internet yazışmaları insanın kendini saklama güdüsünden kuvvet alıyor.

Bu cümlelerin öznesi aşağıdaki-lerden hangisidir?

- A) kuvvet
- B) internet yazışmaları
- C) çoğalan internet yazışmaları
- D) Son zamanlarda çoğalan internet yazışmaları

20. Aşağıdaki cümlelerin hangisinde birleşik zamanlı bir fiil kullanılmıştır?

- A) Yurt dışında kaldığım iki yıllık sürede İngilizceyi iyice geliştirdim.
- B) Yağmurlu bir günde sığındığım bu tenha han çok hoşuma gitmişti.
- C) O akşam orada kimseyi görmedim.
- D) O günden sonra yalnızlığımı kitaplarımla paylaşıyorum.

## (403) DİL VE ANLATIM – 3

1. Kişiler arası iletişimde aşağıdakilerden hangisi daha önemlidir?

- A) Söylenen sözün edebî değeri  
B) Sözün içinde alıntı olup olmaması  
C) Söylenenlerin sanatlı anlatıma sahip olması  
D) Söylenen sözün içeriği

## 2. İnsanların duygu ve düşüncelerini çeşitli yollarla birbirlerine anlatmasına ( - - - ) denir.

**Bu cümlede boş bırakılan yere aşağıdakilerden hangisi getirilmelidir?**

- A) iletişim B) dil  
C) kültür D) sanat

3. Sözlü iletişimde aşağıdakilerden hangisi diğerlerine göre daha önceliklidir?

- A) Slayt B) Dil  
C) Bilgi D) Beden dili

4. 10. sınıf dil ve anlatım dersinde ders anlatımında öğretmen dilin aşağıdaki işlevlerinden hangisini daha çok kullanmaktadır?

- A) Sanatsal işlev  
B) Kanalı kontrol işlevi  
C) Dil ötesi işlev  
D) Heyecana bağlı işlev

5. Aşağıdakilerden hangisi sunum yaparken görsel malzemenin kullanım amaçlarından biri değildir?

- A) Bilgilerin daha iyi algılanmasını sağlamak  
B) Sunum yapan kişinin reklamını yapmak  
C) Düşünceleri anlatırken zaman kazanmak  
D) Sunumu sıkıcılıktan kurtarıp ona tat katmak

## 6. Güncel herhangi bir konu hakkında bir grup ya da topluluğa bilgi vermek, bilgileri güncellemek amacıyla yapılan etkinliklere - - - - denir.

**Bu cümlede boş bırakılan yere aşağıdakilerden hangisi getirilmelidir?**

- A) sunum B) panel  
C) forum D) tartışma

## 7. Sunum yapan kişi, iyi bir sunum için aşağıdakilerden hangisine dikkat etmelidir?

- A) Konuyu anlatırken geçişleri hızlı yapmaya  
B) Konunun önemli yönlerinin kısa ve özlü olarak verilmesine  
C) Farklı konuları bir arada verebileceğini göstermeye  
D) Kendisinin ne kadar bilgili bir kişi olduğunu ifade etmeye

8. Aşağıdakilerden hangisi sunum hazırlayan kişinin sunumdan önce yapması gerekenlerden biri değildir?

- A) Sorulan sorulara kısa ve kesin cevaplar vermek  
B) Sunum için farklı kaynaklardan yararlanmak  
C) Sunum yerini önceden görmek  
D) Görsel malzemelerden yararlanmak

9. Aşağıdakilerden hangisi bir sözlü anlatım biçimi değildir?

- A) Tartışma B) Röportaj  
C) Panel D) Sempozyum

## 10. Aşağıdakilerden hangisi bir başkan yönetiminde gerçekleştirilen tartışma türlerinden biridir?

- A) Konferans B) Münazara  
C) Sunum D) Nutuk

## 11. Gönderici ile alıcı arasında aktarılmakta olan duygu, düşünce ya da isteğe denir.

**Bu cümlede tanımlanan iletişim ögesi aşağıdakilerden hangisidir?**

- A) İleti B) Dönüt  
C) Kanal D) Kod

12. Aşağıdakilerden hangisi iyi bir sunum için dikkat edilmesi gereken hususlardan biri değildir?

- A) Slaytlarda çok küçük yazı karakteri kullanılmamalıdır.  
B) Hâkim olunmayan bir konuda sunum yapmaktan kaçınılmalıdır.  
C) Konuşmacı dinleyicilerle göz teması kurmamalıdır.  
D) Sunumdan önce seyircili prova yapılmalıdır.

13. Aşağıdakilerden hangisi tartışmalarda başkanının görevlerinden biri değildir?

- A) Tarafsız olmak  
B) Konuşmacıların konu dışına çıkmalarını sağlamak  
C) Özetler yaparak konuyu toparlamak  
D) Tartışmayı başlatmak

## 14. Aşağıdaki cümlelerin hangisi “öznel anlatım”a örnektir?

- A) Turizm gelirleri geçen yıla oranla artmıştır.  
B) Bu oyun dört perdeden oluşmuştur.  
C) Yazar bu eserinde sürükleyici bir dil kullanmıştır.  
D) “Otuz Beş Yaş” adlı şiir Cahit Sıtkı Tarancı’ya aittir.

## 15. Ben yazılarımda diğer eleştirmenlerden farklı olarak “kendini tanımak” kavramı üzerinde çok fazla duruyorum. “Kendini tanımak niçin gerekli?” sorusu aklınıza gelmiş olabilir. Belki bu soru, “Kendini tanıyan kimsenin, kendini tanımayan birine göre ne gibi üstünlükleri vardır?” biçiminde sorulsa daha anlamlı olur. Kendini tanıyan kimse gerçek duygu ve düşüncelerinin farkındadır. Hiç düşündünüz mü, kendini tanımayan bir romancı başkalarını nasıl anlatabilir ki?

**Bu parçada aşağıdaki anlatım biçimlerinden hangisi ağır basmaktadır?**

- A) Açıklama B) Betimleme  
C) Öyküleme D) Tartışma

## (404) DİL VE ANLATIM – 4

16. Kişinin anlattıklarının önceki anlattıklarıyla çelişmemesine, yaptıklarıyla ters düşmemesine - - - - denir.

**Bu cümlede boş bırakılan yere aşağıdakilerden hangisi getirilmelidir?**

- A) inandırıcılık B) akıcılık  
C) özlülük D) tutarlılık

17. Aşağıdaki cümlelerin hangisinde dolaylı anlatıma başvurulmuştur?

- A) Teyzem bu akşam eve erken gelmem gerektiğini söyledi.  
B) Mevlana: "Ne kadar bilersen bil, bildiklerin karşısındakinin anlayabildiği kadardır." demiş.  
C) Babam bana, her zaman dürüst olmalısın, der.  
D) Müdür: "Meslek ahlakı yabana atılacak bir kavram değildir." dedi.

18. Aşağıdaki cümlelerin hangisi bir metnin giriş cümlesi olamaz?

- A) Ağaç sevgisi de bizim önemli değerlerimizden biridir.  
B) Sanatçı toplumun sorunlarına duyarlı olmalıdır.  
C) Okumak bir ihtiyaçtır.  
D) Çatık kaşları, yaralı yüzüyle insanı ürküten bir havası vardı.

19. Aşağıdaki cümlelerin hangisinde anlatım bozukluğu vardır?

- A) Yazar, 1 Ocak 1986 tarihinde ilk romanını yayımlamış.  
B) Olay, bir hastane odasında geçer.  
C) Karanlıkta göz yordamıyla ilerlemeye çalışıyorduk.  
D) Büyüklere gereken saygıyı göstermeli, onları incitmemeliyiz.

20. Aşağıdakilerden hangisi tartışmaların amaçlarından biri değildir?

- A) Sorunları paylaşmak  
B) Fikir alışverişinde bulunmak  
C) Var olan bir sorunu çözmek  
D) Fikirlerimizde ısrar edip onu karşı tarafa kabul ettirmek

1. "Güzel" sözcüğü aşağıdaki cümlelerin hangisinde isim (ad) olarak kullanılmıştır?

- A) Kumdan, büyük ve güzel kaleler yapmıştı.  
B) İnsana, güzel söz yakışır ancak, dedi.  
C) Ev çok güzeldi ancak biraz pahalıydı.  
D) Müdür bey program sonunda güzel konuştu.

2. Çoğul eki almadığı hâlde birden çok varlığı karşılayan sözcüklere topluluk ismi denir.

**Aşağıdaki cümlelerin hangisinde topluluk ismi kullanılmıştır?**

- A) Genç, ailesine oldukça uzun bir mektup yazmıştı.  
B) Adının geçtiği her haberi dolabında saklıyordu.  
C) Odanın içinde kimler olduğunu merak ediyordu.  
D) Hastalığın ateşiyle koca konağın yolunu unutmuştu.

3. Aşağıdaki dizelerin hangisinde farklı bir isim tamlaması kullanılmıştır?

- A) Kalkıyor tozlu zaman perdesi her an oradan  
B) Karşı dağlarda tutuşmuş gibi gül bahçeleri  
C) Hâlâ dilimdedir tuzu engin denizlerin  
D) Deniz ufkunda bu top sesleri nereden geliyor

4. Bir çocuk sokağın başındaki markete doğru koşmaya başladı. Bir süre sonra elindeki poşetle geri döndü. Annesi Semiha Hanım'ın üçüncü katın balkonundan uzattığı sepete poşeti koydu. Bahçe kapısının arkasına bıraktığı okul çantasını alarak uzaklaştı. Semiha Hanım'ın her sabah söylediği, "Oğlum, dikkatli ol; kendine iyi bak!" sözlerini sıradan bir öğüt olarak zihninin bir köşesine koydu.

**Bu parçanın anlatımında aşağıdaki anlatım biçimlerinden hangisine başvurulmuştur?**

- A) Öyküleme B) Açıklama  
C) Betimleme D) Tartışma

5. Rüzgâr sertleşmeye başlamıştı. Kavaklar, bey söğütleri ve erik ağaçları yapraklarını dökmüştü. Bir yağmur yağdı mı, üç gün güneş açsa da toprağın kokusu, serinliği kaybolmuyordu. Dolapların, sandıkların kıyısında köşesinde yünlü adına ne varsa artık bir bir ortaya çıkıyordu. Eli erenler sobalarını kurmuştu bile.

**Bu parçanın anlatımında aşağıdaki duyulardan hangisine özgü ayrıntılara yer verilmemiştir?**

- A) Görme B) İşitme  
C) Koklama D) Dokunma

6. Önce Tekke Deresi'nin üstü karrardı, sonra şimşekler çakmaya başladı, ardından da yağmur boşandı. Kasabanın doğuya meyilli sokaklarında sağlı sollu ırmaklar oluştu. Gökyüzü neyi var neyi yoksa boşaltacak gibiydi. Akşehir, büyük çöküntüden sonraki ilk baharını karşılıyordu.

**Bu parçanın anlatımında aşağıdaki anlatım biçimlerinden hangisi ağır basmaktadır?**

- A) Açıklama B) Tartışma  
C) Öyküleme D) Betimleme

7. (I) Bir gün akşamüstü istasyonla ev arasındaki تنها yolda ağır ağır yürüyorum. (II) Ankara'nın açık sarıya boyanmış, hafif esintili güzel sonbaharını doya doya içime çekerek ruhumda iyimser bir hava yaratmak istiyordum. (III) Tam bu sırada yanımdan yüksek sesli müzikle bir otomobil geçti, sonra az ilerde durdu. (IV) Başımı çevirip baktığım zaman camın arkasındaki yüzü tanıdığımı zannettim.

**Yukarıdaki numaralanmış cümlelerin hangisinde betimleyici anlatım özellikleri ağır basmaktadır?**

- A) I. B) II. C) III. D) IV.

## EK SINAV

8. Aşağıdakilerden hangisi be-timleme yapılırken kullanılan anlatım özelliklerinden biri de-ğildir?

- A) Varlıklar hakkında izlenimler aktarmak
- B) Varlıkları nitelikleriyle tanıtmak
- C) Anlatımı örneklerle açıklamak
- D) Duyulara özgü ayrıntılara yer vermek

9. Aşağıdaki cümlelerin hangisin-de ikileme niteleme sıfatı olarak kullanılmamıştır?

- A) Uzun kar yürüyüşünden sonra sıcak sıcak çorbalar içtik.
- B) Koca koca insanlar çocuklar gibi tartışıyordu.
- C) Kitaptaki zor zor soruları biz çözerdik.
- D) Öğrenciler hasta hasta okula gelmişlerdi.

10. Aşağıdaki cümlelerin hangisin-de soru anlamı sıfatla sağlan-mıştır?

- A) Bu evlerden hangisi kendi aile-sinin malıydı?
- B) Kaç kişi bu yoldan geçmek ister ki?
- C) Evi, çocukları bırakıp da nere-ye gideyim?
- D) Avrupa'dan Anadolu'ya kadar nasıl gelecekler?

11. Aşağıdakilerin hangisinde ikile-me isim olarak kullanılmıştır?

- A) Yavaş yavaş gidiyordu arabamız.
- B) Mavi maviydi gökyüzündeki bulutlar.
- C) Uzun uzun anlattı yaşadıklarını.
- D) Koşa koşa gelmişti yanıma.

12. "Bu" sözcüğü aşağıdakilerin hangisinde diğerlerinden farklı bir görevde kullanılmıştır?

- A) Bu akşam sizi aramızda gör-mek istiyoruz.
- B) Bu bahçenin toprağı daha güzel.
- C) Bu senin söylediklerinle ilgili değil.
- D) Bu kapının kilidini bulamadım.

13. Aşağıdaki dizelerin hangisinde kişi zamiri vardır?

- A) Çocuk alınlarda duyulan sıcak öpücük
- B) Ve birden kalbe çırpınışlar ve-ren hatıra
- C) Beyaz etekleriyle bana görün-düğün an
- D) Gurbet ademden kara, hasret ölümünden acı

14. Dağlara, ovalara doğru koştu o gün kimimiz  
Sarmaşıklar yavaş yavaş uzuyordu  
Bir pencere yavaş yavaş açılıyordu  
Bugün işte bir bunu biliyoruz.

**Bu dizelerde aşağıdaki zamir türlerinden hangileri vardır?**

- A) Kişi zamiri – Belgisiz zamir
- B) Soru zamiri – İşaret zamiri
- C) Kişi zamiri- Soru zamiri
- D) Belgisiz zamir – İşaret zamiri

15. Aşağıdaki dizelerin hangisinde ünlem vardır?

- A) Kül bağlar içirimde bu kızıl kor yığını
- B) Ah, birçok şey hatırlatan erik ağacı
- C) Ben ömrümü harcadım bu yollar tükenmedi
- D) Düştüğüm yollar gibi sonsuzdur tasam

16. Aşağıdaki cümlelerin hangisin-de eylem haber kipiyle çekim-lenmiştir?

- A) Çok uzun bir süredir tercüme-y-le uğraşıyorum.
- B) Her romanın öncelikle bir sa-nat eseri olduğu unutulmamalı.
- C) Bu konu diğer konularla karış-tırılmasın.
- D) Size elimizden geldiği kadar yardımcı olmaya çalışalım.

17. Aşağıdakilerin hangisinde ey-lem geniş zamanın hikâyesiyle çekimlenmiştir?

- A) Ben mutlu olduğum zaman da ağlardım.
- B) Bir berrak kış akşamını hatırlı-yorum.
- C) Beni hiç unutmayacağını dü-şünmüştüm.
- D) Seni her zaman kapıda karşı-lıyordu.

18. Aşağıdaki dizelerin hangisinde isim-fiil vardır?

- A) Bense büyük bulutlar gibi ağlamak,  
Ve geniş yaylalar gibi gülmek istiyorum
- B) Boşuna çekilmedi bunca acılar İstanbul  
Bulutların ardında damla damla eser
- C) Bir ak kuş gelip de konu kara çatıya  
Dünyayı böylesine sardı mı kollar
- D) Etimiz, salatamız olacak soframızda  
Dudağında tebessümün en güzeli

19. (I) Tilkinin biri bir gün bağlar ara-sında gezerken etrafı çevrilmiş bir bağa varıyor.(II) Duvarın dibin-den, su deliğinden içeriye giriyor. (III) Bakıyor ki üzümler iyice er-miş, üzümleri güzelce yiyor. (IV) Artık karnı şişmiş, bağdan çıkma imkânı kalmamış. (V) Öldü bellesinler diye dişlerini çıkarıp sırt üstü yatmış, böylece kurtulmuş.

**Bu parçada numaralanmış cüm-lelerin hangilerinde eylemsi kul-lanılmamıştır?**

- A) I. ve II. B) II. ve III.
- C) III. ve IV. D) IV. ve V.

20. Aşağıdaki cümlelerden hangi-sinin yüklemi çatı bakımından diğerlerinden farklıdır?

- A) Üç gündür bahçıvanlar fidanları buduyordu.
- B) Toprak kokusunu içimize çeki-yorduk.
- C) Güzelim manzara bir tabloyu andırıyordu.
- D) İzçiler bu gece tepenin eteğinde kalmışlardı.



**1. Aşağıdakilerden hangisi sanat metnlerinin özelliklerinden biri değildir?**

- A) Gerçeği olduğu gibi yansıtmaz.  
B) Kurmaca bir nitelik taşır.  
C) Bilgi vermekten çok hissettirmeyi amaçlar.  
D) Sözcükler ilk anlamlarıyla kullanılır.

**2. Aşağıdakilerden hangisi sanat metnlerine örnek olabilir?**

- A) 1982 Anayasası  
B) Ortaöğretim Kurumları Yönetmeliği  
C) Aşure tarifi kitabı  
D) Orhan Pamuk'un "İstanbul" adlı anı kitabı

3. I. Çağrışım gücü yüksek olan metindir.  
II. Dil göndergesel işlevde kullanılır.  
III. Üslup kaygısı vardır.  
IV. Düşüncelerin okuyucuya en açık şekilde aktarılması amaçlanır.

**Yukarıdaki numaralandırılmış cümlelerin hangilerinde edebî metinlerin özellikleri doğru verilmiştir?**

- A) I. - III. B) I. - IV.  
C) II. - IV. D) III. - IV.

**4. Aşağıdakilerden hangisi modern Türk tiyatrosunun türlerinden biri değildir?**

- A) Dram B) Destan  
C) Trajedi D) Komedi

**5. Aşağıdakilerden hangisi kişisel yaşamı konu alan metinlerden biridir?**

- A) Deneme B) Makale  
C) Günlük D) Fıkra

6. İnsan yaşamını, sahne üzerinde gerçek kişiler tarafından yaşanıyor havası içinde anlatan eserlere - - - - denir.

**Bu cümlede boş bırakılan yere aşağıdakilerden hangisi getirilmelidir?**

- A) mesnevi B) öykü  
C) tiyatro D) biyografi

7. I. Duygular çışkulu bir anlatımla dile getirilir.  
II. Olağanüstü varlıklara yer verilir.  
III. Göstermeye bağlı edebî türdür.

**Numaralandırılmış bilgilerle aşağıdaki türler eşleştirildiğinde hangisi dışarıda kalır?**

- A) Roman B) Şiir  
C) Tiyatro D) Masal

**8. Aşağıdakilerden hangisi anlatmaya bağlı edebî türlerden biri değildir?**

- A) Masal B) Öykü  
C) Sohbet D) Halk Hikâyesi

9. Anonim eserlerdir. Hayal ögesi ağır basar. Anlatım kısa ve yoğundur. Bir varmış bir yokmuş, biçimindeki tekerlemeler ile başlar. Anlatım öğrenilen geçmiş zaman biçiminde yapılır. Eğitici amaç taşır.

**Bu parçada sözü edilen tür aşağıdakilerden hangisidir?**

- A) Destan B) Mesnevi  
C) Hikâye D) Masal

10. Niğde'ye yaklaşıyorduk. Yanımda oturan bir Niğdeli, şehrin eteğini saran ağaç kümeleri arasında pek iyi seçemediğim bir noktayı işaret etti. Faruk Nafiz'in hanı, dedi. Büyük şairin han sahibi olduğu günleri de inşallah görürüz. Fakat yol arkadaşımın bana gösterdiği bina, sadece Faruk Nafiz'in unutulmaz Han Duvarları şirinde tasvir ettiği han idi.

**Bu parça aşağıdaki türlerden hangisinden alınmış olabilir?**

- A) Deneme B) Gezi Yazısı  
C) Fıkra D) Biyografi

**11. Deneme ile ilgili verilen aşağıdaki bilgilerden hangisi doğrudur?**

- A) Ülke gündemindeki konular işlenir.  
B) Yazar kendisiyle konuşur, tartışır gibi yazar.  
C) Ortaya atılan düşünceler kanıtlanmalıdır.  
D) Ciddi bir üslupla yazılır.

**12. Aşağıdakilerden hangisi iş mektubu yazılırken dikkat edilecek özelliklerden değildir?**

- A) Düz, beyaz kâğıda yazılmalı.  
B) Karalama yapılmamalı.  
C) Sol alt köşeye imza atılmalı.  
D) Bilgisayarla veya siyah ya da mavi mürekkepli kalemle yazılmalı.

**13. Aşağıdakilerden hangisi gazete çevresinde gelişen metinlerin içerisinde yer almaz?**

- A) Biyografi B) Fıkra  
C) Deneme D) Sohbet

**14. Aşağıdakilerin hangisinde biyografinin özelliği doğru verilmiştir?**

- A) Anlatılanların tarihsel sıraya konması gerekmez.  
B) Biyografi yazarı kişisel duygu ve düşüncelerini aktarır.  
C) Biyografisi yazılan kişinin sadece meslekî başarıları ele alınır.  
D) Biyografisi yazılan kişinin yaşadığı dönem ve çevresi hakkında bilgi verilir.

**15. Bir eseri konu alan eleştirinin aşağıdaki sorulardan hangisine cevap vermesi beklenmez?**

- A) Eser, okuyucu üzerinde nasıl bir etki bırakmıştır?  
B) Eserin başarılı ve başarısız yanları nelerdir?  
C) Eserin konusu ile yazarı arasında nasıl bir ilişki vardır?  
D) Yayınevi, eserden ne kadar kazanç elde etmiştir?

## EK SINAV

16. Hemen her mikroskopta birden çok mercektir. Bunlardan biri göz merceğidir. Göz merceği, mikroskoba gözümüzü dayayıp baktığımız kısmın adıdır. Bir ışık mikroskobu alırken bu açıdan iki seçenek vardır: Tek gözle veya çift gözle bakılan ışık mikroskopları. Çift gözle bakılan ışık mikroskoplarının sistemleri daha pahalı ama kullanımları daha rahattır. Çünkü bunlarda tek gözünüzle bir nesneyi görmeye çalışmanıza gerek kalmaz.

**Bu parça aşağıdaki metin türlerinden hangisine örnektir?**

- A) Makale      B) Eleştiri  
C) Deneme      D) Fıkra

17. Rize'nin Çamlıhemşin ilçesinin ünü dünyaya yayılmış yaylası Ayder'deyiz. Bardaktan boşalırsına yağmur yağıyor. Bu çok da şaşırtıcı değil aslında. Temmuz ayı "çürük aydır" burada ve yağmur neredeyse hiç eksik olmaz.

**Bu parça aşağıdaki metin türlerinin hangisinden alınmış olabilir?**

- A) Sohbet      B) Deneme  
C) Biyografi      D) Gezi yazısı

18. Edebiyatın iç problemlerinin odağında yeni Türk edebiyatının özgün eserlerden yoksunluğu konusu bulunmaktadır. Fali Rıfki'nin açıkça dile getirdiği gibi üstün yetenekler, seçkinler, bayağılar, savunulan ülküler, oluşmuş edebiyat ekolleri, tartışılan konularla her şeyi yerli yerinde gibi görünen edebiyat ortamı aslında sanal bir ortamdır. Çünkü edebiyat ortamının gerçek varlığı, asıl ögesi; güçlü, özgün eserlerdir.

**Bu parça aşağıdaki metin türlerinden hangisine örnektir?**

- A) Eleştiri      B) Sohbet  
C) Fıkra      D) Anı

19. Fıkra türü ile ilgili olarak aşağıdakilerden hangisi yanlıştır?

- A) Güncel konular ele alınır.  
B) Düşünceler ispat edilmek zordur.  
C) Fıkraların samimi ve açık bir anlatımı vardır.  
D) Okuyucuyu düşündürmek ve uyandırmak amacıdadır.

20. (I) Sıkıcı ve gergin bir gecenin ardından heyecanla yeni haberleri dinlemeye gittim. (II) Saat yedi buçukta radyo, sabah haberlerini vermeye başlamıştı. (III) Spiker haberleri vermeye başlayınca kahvedeki konuşmaların uğultusu kesildi. (IV) Spiker, çay piyasası ile ilgili olarak cumartesi akşamı söylediklerini yineliyordu.

**Bu parçada numaralanmış cümlelerden hangisi kanıtlanabilirlik açısından diğerlerinden farklıdır?**

- A) I.      B) II.      C) III.      D) IV

### (406) DİL ve ANLATIM – 6

1. Aşağıdakilerden hangisi sözlü anlatım türlerinden biridir?

- A) Görüşme      B) Destan  
C) Masal      D) Anı

2. "Nutuk" türünde dil hangi işleyle kullanılır?

- A) Göndergesel İşlev  
B) Şiirsel İşlev  
C) Kanalı Kontrol İşlevi  
D) Alıcıyı Harekete Geçirme İşlevi

3. Röportajların birkaç bölümlük seri yazı biçiminde yayınlanmasına verilen ad aşağıdakilerden hangisidir?

- A) Seri sonu  
B) Yazı dizisi  
C) Yayın sırası  
D) Yayın katoloğu

4. Aşağıdakilerden hangisi konusuna göre röportaj türlerinden biri değildir?

- A) Bir yeri konu alan röportajlar  
B) Eşyayı konu alan röportajlar  
C) Hayvanı konu alan röportajlar  
D) İnsanı konu alan röportajlar

5. "Diyorlar ki" adlı ünlü eseriyle tanınan sanatçı aşağıdakilerden hangisidir?

- A) Fatih Rıfki Atay  
B) Ruşen Eşref Ünaydın  
C) Refik Halit Karay  
D) Cenap Şahabettin

6. I. Gazete ve dergi yazılarıdır.  
II. Yalnızca gözlemlerle yetinilir.  
III. Kişi ve bulgulardan yararlanılır.  
IV. Gezilen yerlerin yalnızca tarihi özellikleri anlatılır.

**Yukarıdaki özelliklerden hangileri röportaj türü ile ilgilidir?**

- A) I. - II.      B) I. - III.  
C) II. - IV.      D) III. - IV.

7. Röportaj türünde aşağıdakilerden hangisine başvurulmaz?

- A) Açıklama      B) Soyutlama  
C) Örnekleme      D) Betimleme

8. Aşağıdakilerden hangisi röportaj türünün özelliklerinden biri değildir?

- A) Sıra dışı konuları ele alarak gülünç yönleri ortaya çıkarmak önemsenir.  
B) Okuyucunun dikkatini çekmek amaçlanır.  
C) Olaylar çarpıtılmadan okuyucuya aktarılır.  
D) Belgesel niteliğinde okuyucu aydınlatılmaya çalışılır.

9. Aşağıdaki eserlerden hangisi röportaj türünde verilmiştir?

- A) Refik Halit Karay - Guguklu Saat  
B) Fatih Rıfki Atay - Zeytinadağı  
C) Ahmet Haşim - Bize Göre  
D) Mustafa Baydar - Edebiyatçılarımız Ne Diyor

10. Aşağıdakilerden hangisi bir nutuk örneği olabilir?

- A) Siyasi liderin bir açılışta yaptığı konuşma  
B) Bir öğretmenin ders anlatması  
C) Bir panelde panelistin soruya cevabı  
D) İki kişinin düşünce alışverişi

11. Aşağıdakilerden hangisi söylevin türlerinden biri değildir?

- A) Akademik      B) Hukuksal  
C) Teorik      D) Dinsel

## EK SINAV

12. Söylev türünün ilk örneklerine hangi dönemlerde rastlanmıştır?

- A) Asur- Bizans
- B) Sümer – Hitit
- C) Bizans – Göktürk
- D) Eski Yunan – Roma

13. Ülkemizde ilk söylev örnekleri hangi dönemden sonra veril-meye başlanmıştır?

- A) I. Meşrutiyet
- B) II. Meşrutiyet
- C) Cumhuriyet
- D) Tanzimat

14. Ey benim namlı, şerefli, sadık emirlerim! İyi bilirsiniz ki üstünde durduğumuz şu memleket ve maliki olduğumuz devlet nice müşkül muharebe ve mücadeleler sonunda, ecdadımız tarafından kazanılmış ve sonunda bize nasip olmuştur.

**Bu parça aşağıdaki türlerin hangisinden alınmıştır?**

- A) Röportaj
- B) Makale
- C) Nutuk
- D) Mülakat

15. - Tiyatroda nasıl ilerlediniz?

- İlk oynadığım oyunlarla göze girdim. Sonra karar verip kendi tiyatromu kurdum. Çok mu gayret ettim? Hayır. Oyun oynamaya başladığımın ikinci ayında kapılar kırılıyor, kuyruklar oluşuyordu.

**Bu parça aşağıdaki türlerden hangisine örnektir?**

- A) Mülakat
- B) Eleştiri
- C) Deneme
- D) Söylev

16. Aşağıda röportajla ilgili verilen bilgilerden hangisi yanıştır?

- A) Önemli olan, birçok kişinin gördüğü ve bildiği şeyleri ustaca dile getirmektir.
- B) Okuyucunun dikkatini çekecek ve onları düşündürecek biçimde düzenlenir.
- C) Ele alınan konular, toplumu ilgilendiren olaylar ya da olgular olmalıdır.
- D) Röportaj yapan kişi elde ettiği bilgilere kendi görüş ve düşüncelerini katmaz.

17. İlk yazılı eserimiz olan “Göktürk Yazıtları” aşağıdakilerden hangisine örnektir?

- A) Röportaj
- B) Deneme
- C) Söylev
- D) Fıkra

18. Aşağıdaki röportaj-yazar eşleştirmelerinden hangisi doğrudur?

- A) Edebiyatçılarımız Konuşuyor – Yaşar Nabi Nayır
- B) Bugün de Diyorlar ki – Mustafa Baydar
- C) Ustalarla Konuşmalar- Hikmet Feridun Es
- D) Ha Bu Diyar – Nurullah Berk

19. Aşağıdakilerden hangisi söylevin özelliklerinden değildir?

- A) İlgili çekecek cümlelerle başlanmalı.
- B) Etkileyici olmak için abartılı ifadeler kullanılmalı.
- C) İnandırıcı olmalı.
- D) Konuya ve dinleyici kitlesine uygun sözcükler seçilmeli.

20. Mülakat türünde dil hangi işlevde kullanılmaz?

- A) Alıcıyı harekete geçirme
- B) Göndergesel
- C) Heyecana bağli
- D) Dil ötesi

### (407) DİL VE ANLATIM – 7

1. Aşağıdakilerden hangisi sanat metinlerinin özelliklerinden biridir?

- A) Dil göndergesel işleviyle kullanılır.
- B) Her okuyucu farklı anlamlar çıkarabilir.
- C) Nesnel anlatım kullanılır.
- D) Üslup kaygısı güdülmez.

2. Aşağıdakilerden hangisi sanat metinlerine örnek gösterilebilir?

- A) Siyasi miting konuşması metni
- B) Panel konuşması metni
- C) Çocuklara anlatılan masal
- D) Köşe yazısı

3. Aşağıdakilerden hangisi göstermeye bağlı geleneksel türlerden biri değildir?

- A) Komedi
- B) Orta oyunu
- C) Karagöz
- D) Meddah

4. Orhan Veli, 13 Nisan 1914'te Beykoz'da doğdu. Orhan Veli'nin çocukluğu Beykoz ve Beşiktaş'ta geçti. İlk dört sınıfı Galatasaray Lisesi'nde okuyan Orhan Veli, 1925 yılında babasının arzusu ile annesiyle beraber Ankara'ya gitti. İlkokulun son sınıfında Oktay Rifat'la, lisenin birinci sınıfında Melih Cevdet'le karşılaşmıştı.

**Bu parça aşağıdaki türlerden hangisinden alınmıştır?**

- A) Biyografi
- B) Günlük
- C) Mektup
- D) Röportaj

5. Şakaklarıma kar mı yağdı ne var? Benim mi Allah'ım bu çizgili yüz? Ya gözler altındaki mor halkalar? Neden böyle düşman

görünürsünüz,  
Yıllar yılı dost bildiğim aynalar?

**Bu dizelerle ilgili olarak aşağıdakilerden hangisi söylenemez?**

- A) Mecaz anlamli sözcükler kullanılmıştır.
- B) Sanatsal bir anlatım söz konusudur.
- C) Açıklayıcı bir anlatım vardır.
- D) Zevk verme amacına yöneliktir.

6. Aşağıdakilerden hangisi öğretici metin örneği olarak gösterilebilir?

- A) Babaannenin anlattığı fabl
- B) Bir ozanın söylediği şiir
- C) Bir dergide yayınlanan makale
- D) Radyoda anlatılan bir halk hikâyesi

7. Aşağıdakilerden hangisi anlatmaya bağlı edebi türlere örnek gösterilemez?

- A) Masal
- B) Fabl
- C) Roman
- D) Dram

## EK SINAV

8. Sanat metinleri ile bilimsel metinlerin temel farkı aşağıdakilerden hangisinde verilmiştir?

- A) Metnin plana göre hazırlanıyor olması
- B) Metnin estetik bir duyuş yansıtır olması
- C) Metnin mesaj içeriyor olması
- D) Metnin başlığının olması

9. I. Sorunların olduğu gibi anlatımı söz konusudur.  
II. Güzellik oluşturma kaygısı vardır.  
III. İçerik kaygısı ön plandadır.  
IV. Sözcükler çok anlamlılığa açıktır.

**Yukarıdakilerden hangileri sanatsal metnin özelliklerindendir?**

- A) I. - III. B) I. - IV.
- C) II. - III. D) II. - IV.

10. Aşağıdakilerden hangisi fabl türünün özelliklerinden biridir?

- A) Tekerleme ile başlar
- B) Kahramanlar çocuklardır.
- C) Öğüt verme amacı taşır.
- D) Yazar düşüncelerini kanıtlamak zorundadır.

11. Akşam taliminden sonra hava biraz rüzgârlı idi. Ben arkadaşları bıraktım. Selanikli Akil'i buldum. Üç gündür tanıyordum bu kırmızı saçlı, çalışkan, faal çocuğu. Fakat bu akşam parlak ve faal gözleri sanki biraz gölgelenmiş, daha ziyade koyulaşmıştı.

**Bu parçada anlatmaya bağlı metinlerin yapı özelliklerinden hangisiyle ilgili bir ayrıntı yoktur?**

- A) Kişi B) Olay
- C) Zaman D) Mekân

12. I. Küçük Ağa – Psikolojik roman  
II. Devlet Ana – Tarihi roman  
III. Hasan Mellah – Macera romanı  
IV. Dokuzuncu Hariciye Koşuşu – Otobiyografik roman

**Yukarıdaki eşleştirmelerden hangisi yanlıştır?**

- A) I. B) II. C) III. D) IV.

13. Görmek ister isen cihanda rahat Çalış durma kazan, etme sefahat Damlayı damlayı göl olur elbet Derd ü belâ bile azdan az olur

**Altı çizili dizede aşağıdaki söz sanatlarından hangisi vardır?**

- A) Teşhis B) Kinaye
- C) Hüsnitâlîl D) Tecahül arif

14. Masalların daima mutlu sonla bitmesinin sebebi aşağıdakilerden hangisi olamaz?

- A) Çocuklara erdemli olma bilinci kazandırmak
- B) Kötülerin cezasız kalmayacağını öğretmek
- C) Farklı toplumların ortak değerlere sahip olduklarını ortaya koymak
- D) Zorluk ve sıkıntı çekmeden başarıya ulaşmanın mümkün olmadığını göstermek

15. Masal öyle gür kaynaktır ki bu kaynaktan birçok bilim yararlanır. Ulusun eski karakterleri, eski ülküleri masallarda gizlidir. Halk uygarlığının eski izlerini, masallardan çıkarma olanağı vardır. Nihayet hikâyeci, romancı, şair oyun yazarı, hatta senaryo yazarı masallardan, çok ilginç eserler meydana getirebilir.

**Bu parçadan masalla ilgili olarak aşağıdakilerden hangisi çıkarılamaz?**

- A) Tüm ulusları birleştirici bir özelliğe sahip olduğu
- B) Milletlerin tarihine ışık tutan eserler arasında olduğu
- C) Birçok sanatçı için birer esin kaynağı olduğu
- D) Ait olduğu ulusun düşünce yapısından izler taşıdığı

16. Sait Faik Abasıyanık'ın "Sinağrit Baba" öyküsü hangi öykü türüne örnektir?

- A) Halk B) Olay
- C) Durum D) Ben merkezli

17. Edebiyatımızda masalı gerçek anlamda ilk defa "Celalettin Harzemşah" adlı eserinin ön sözünde değerlendiren yazar, masalı tamamen hayali olaylardan meydana gelen bir anlatım türü olarak değerlendirir. Ayrıca masalların ahlaki, eğitici ve terbiye edici özellikleri olduğunu da belirtir.

**Bu parçada sözü edilen yazar aşağıdakilerden hangisidir?**

- A) Şeyhi
- B) Şinasi
- C) Namık Kemal
- D) Eflatun Cem Güney

18. Aşağıdaki eser – sanatçı eşleştirmelerinden hangisi yanlıştır?

- A) Mendil Altında – Sabahattin Ali
- B) Kıssadan Hisse – Ahmet Mithat Efendi
- C) Küçük Şeyler – Sami Paşazade Sezai
- D) Gurbet Hikâyeleri – Refik Halit Karay

19. I. Akşamleyin savaşın bitmesi ve Deli Mehmet'in defnedilmesi  
II. Kuru Kadı'nın, Deli Mehmet'in elinde başarıyla savaşmasını görmesi  
III. Elçinin kaledekilere teslim olmalarını teklif etmesi ve kaledekilerin savaşmaya karar vermesi  
IV. Savaşmak için Cuma namazını kılmayı beklemeleri ve savaşın başlaması

**"Başını Vermeyen Şehit" adlı hikâyenin karışık olarak verilen olay örgüsünün doğru sıralaması aşağıdakilerden hangisidir?**

- A) I – II – III – IV
- B) III – IV – II – I
- C) III – I – IV – II
- D) IV – III – II – I

20. Aşağıdakilerden hangisi komedinin çeşitlerinden değildir?

- A) Töre B) Yergi
- C) Karakter D) Absürt

## EK SINAV

### (408) DİL VE ANLATIM – 8

**1. Aşağıdakilerden hangisi açık oturumun özelliklerinden değildir?**

- A) Yarışma havası içinde gerçekleştirilir.
- B) Konuya hâkim bir başkan tarafından yönetilir.
- C) Konuşmacı sayısının altı kişiyi geçmemesi tercih edilir.
- D) Ortaya atılan düşüncelerin, verilen örneklerin bilimsel geçerliliği olmalıdır.

**2. Belli bir konuyu aydınlatmak amacıyla bilim adamı ve araştırmacıların bir araya geldikleri ve konuşmacıların konunun belirli bölümlerini sundukları tartışmalı toplantılara ne ad verilir?**

- A) Röportaj B) Söylev
- C) Münazara D) Sempozyum

**3. Alanında uzman kişilerin bir konuyu açıklamak, tanıtmak, konu hakkında bilgi vermek amacıyla yaptıkları konuşmalara ne ad verilir?**

- A) Mülakat B) Söylev
- C) Münazara D) Konferans

**4. Aşağıdakilerden hangisi grup hâlinde yapılan anlatım türlerinden biri değildir?**

- A) Nutuk B) Forum
- C) Açık oturum D) Panel

**5. Aşağıdakilerden hangisi konferansın özelliklerinden değildir?**

- A) Dinleyicinin ilgisini çekecek şekilde düzenlenir.
- B) Konferans konuları teknik bilimlerle sınırlıdır.
- C) Dinleyicileri bilgilendirmek amacıyla düzenlenir.
- D) Özgün düşünceler dile getirilir.

**6. Bir konunun dinleyiciler önünde söyleşi havası içinde birkaç kişi tarafından tartışıldığı sözlü anlatım türü aşağıdakilerden hangisidir?**

- A) Açık oturum B) Konferans
- C) Münazara D) Forum

**7. Alınan kararların bilimsel değer taşıması amacıyla basılı materyal hâline dönüştürüldüğü toplantı türü aşağıdakilerden hangisidir?**

- A) Açık oturum B) Konferans
- C) Sempozyum D) Forum

**8. Önceden belirlenmiş bir konuda farklı görüşlere sahip kişilerin bir araya gelerek kendi görüşlerini savunurken karşı tarafın zayıf noktalarını aramak için yaptıkları eğitim amaçlı tartışma türüne ne ad verilir?**

- A) Sempozyum B) Münazara
- C) Açık oturum D) Forum

**9. Aşağıdakilerden hangisi sempozyum başkanının görevlerinden değildir?**

- A) Başlangıçta konuyla ilgili kısa bir giriş yapmalı.
- B) Konuşmacıların salonda hazır bulunmalarını sağlamalı.
- C) Konuşmalar bittikten sonra konuyu dinleyicilerin tartışmasına açmalı.
- D) Sempozyum bildirisinin basım ve dağıtımını yapmalı.

**10. Toplumu ilgilendiren bir konuda farklı gruplardan oluşan dinleyicilerin söz sırası olarak yaptıkları tartışmalara ne ad verilir?**

- A) Mülakat B) Söylev
- C) Konferans D) Forum

**11. Sempozyum başkanı için aşağıda verilen bilgilerden hangisi yanlıştır?**

- A) Sunum yapacak kişilere sırasıyla söz vermelidir.
- B) Oturumun başarılı bir şekilde tamamlanmasından sorumludur.
- C) Oturum başlamadan sunum salonunda konuşmacıların hazır bulunmasını sağlar.
- D) Her konuşmacıdan sonra, anlatılanları özetlemelidir.

**12. Aşağıdakilerden hangisini münazara için söylemek yanlıs olur?**

- A) Düşünceler açık, anlaşılır bir dille ifade edilmelidir.
- B) Gerektiğinde konunun yönü değiştirilmelidir.
- C) Sağlam fikirlere önem verilir.
- D) Tekrara düşmemek gerekir.

**13. Aşağıdakilerden hangisi bilimsel yazıların bölümlerinden değildir?**

- A) Başlık
- B) Özet
- C) Paragraf
- D) Sonuç ve tartışma

**14. Aşağıdakilerden hangisi bilimsel yazılarla ilgili terimlerden değildir?**

- A) Ara söz B) Dipnot
- C) İndeks D) Kaynakça

**15. İbrahim Şinasi ve Agah Efendi tarafından çıkarılan ilk özel gazetemiz aşağıdakilerden hangisidir?**

- A) Tercüman-ı Ahval
- B) Takvim-i Vakayi
- C) Hürriyet
- D) Sabah

**16. Aşağıdakilerden hangisi makalenin özelliklerinden değildir?**

- A) Öznellik ağır basar.
- B) Bilimsel nitelik taşır.
- C) Süslü anlatımlara yer verilmez.
- D) Konu sınırlandırması yoktur.

**17. Aşağıdakilerden hangisi bilimsel yazı olarak değerlendirilebilir?**

- A) Hikâye özetleri
- B) Roman özetleri
- C) Fabl özetleri
- D) Toplantı özetleri

**18. Aşağıdaki dipnot örneklerinden hangisinin yazımı doğrudur?**

- A) İstanbul, 2000, Doğan Cüceloğlu, Yeniden İnsan İnsana, Remzi Kitabevi, 23. Baskı.
- B) Doğan Cüceloğlu, Yeniden İnsan İnsana, Remzi Kitabevi, 23. Baskı, İstanbul, 2000.
- C) Remzi Kitabevi, Doğan Cüceloğlu, Yeniden İnsan İnsana, 23. Baskı, İstanbul, 2000.
- D) İstanbul 2000, Remzi Kitabevi, 23. Baskı, Doğan Cüceloğlu, Yeniden İnsan İnsana, İstanbul, 2000.

## EK SINAV

19. Konferansa iyi hazırlanmalı, telaffuz ve söyleyiş hatalarımızı bir an önce gidermeliyiz.

**Bu cümlelerin açık bir anlatıma sahip olması için aşağıdakilerden hangisi yapılmalıdır?**

- A) "bir an önce" sözü cümleden atılmalı.  
B) "hazırlanmalı" yerine "hazırlanmalıyız" kullanılmalı.  
C) "telaffuz ve" sözcükleri cümleden atılmalı.  
D) "hatalarımızı" yerine "sorunlarımız" sözcüğü kullanılmalı

20. Aşağıdaki toplantı türlerinden hangisi diğerlerine göre daha bilimseldir?

- A) Forum  
B) Konferans  
C) Panel  
D) Açık oturum

### (411) TÜRK EDEBİYATI – 1

1. Sanatla ilgili aşağıdaki ifadelerden hangisi doğrudur?

- A) Sanat yalnızca bir yazı etkinliğidir.  
B) Sanatla yalnız çağdaş insanlar uğraşmaktadır.  
C) İnsanın bulunduğu yerde her zaman sanat var olmuştur.  
D) Sanatın insanı ruhsal olarak geliştirmedeği görülmüştür.

2. Aşağıda verilenlerden hangisi edebi metne örnektir?

- A) Doğa sevgisini işleyen öykü metni  
B) Anadolu'nun Türkleşmesini anlatan tarih metni  
C) Karadeniz orman örtüsünü anlatan coğrafya metni  
D) Aşılamanın önemini anlatan tarım bilgisi metni

3. "Sanat, dünden bugüne değil; yüzyıllar içinde oluşmuş bir bütünün adıdır."

**Bu cümlede sanatın hangi özelliği vurgulanmaktadır?**

- A) Pahalı olması  
B) İlgî çekici olması  
C) Geniş kitlelere hitap etmesi  
D) Birikim ürünü olması

4. Aşağıdakilerden hangisi görsel sanatlardan biridir?

- A) Müzik  
B) Resim  
C) Bale  
D) Tiyatro

5. Namık Kemal, tiyatro ile ilgili görüşlerini şu şekilde belirtmiştir: "Tiyatro bir eğlencedir, fakat eğlencelerin en faydalısıdır."

**Buna göre Namık Kemal, tiyatro sanatının hangi özelliğini öne çıkarmaktadır?**

- A) İnsanlar için sıradan bir durum olduğunu  
B) Tiyatronun ciddi bir uğraş gerektirmediğini  
C) Herkesin bu işi yapabileceğini  
D) İnsanları keyiflendirirken onlara yararlı olmasını

6. Kültür; halkın geleneklerinden, yapageldiği şeylerden, örflerinden, sözlü ve yazılı edebiyatından, dilinden, musikisinden, dininden, ahlakından, estetik ve ekonomik mahsüllerinden oluşur.

**Buna göre, aşağıdakilerden hangisi kültürü oluşturan öğelerden biri değildir?**

- A) Dil  
B) Sanat  
C) Siyasi tarih  
D) Müzik

7. Aşağıdakilerden hangisi edebî eserde bulunması gereken özelliklerden değildir?

- A) Üslup olarak sanatsal özellikler taşımak  
B) Edebî zevk duygusu vermek  
C) Duyguları güzel ve etkili biçimde anlatmak  
D) Topluma yararlı konuları işlemek

8. Bahar olsun da seyredin  
Nasıl süsler bayırları  
Zümrüt gibi çayırıları  
Yüzü gülen o pek narin  
Gelin yüzü papatyalar

**Bu dizeler aşağıdaki metin türlerinden hangisine örnektir?**

- A) Tarihî metin  
B) Felsefî metin  
C) Edebî metin  
D) Bilimsel metin

9. Aşağıdakilerden hangisi şiirde "zihniyet" kavramını açıklar?

- A) Her sanat eseri yazıldığı dönemin izlerini taşır.  
B) Sanat eseri, yazıldığı türün sınırları dışına çıkamaz.  
C) Sanat eseri bütün dönemlerden bağımsızdır.  
D) Her sanat eseri bir amaç için yazılmıştır.

10. Bir toplumdaki insanlar arasında günlük yaşam içinde kullanılan ve iletişimi sağlayan, sürekli olarak kullanılan dile - - - - denir.

**Bu cümlede boş bırakılan yere aşağıdakilerden hangisi getirilmelidir?**

- A) üslup  
B) konuşma dili  
C) üst dil  
D) halk dili

11. Aşağıdakilerden hangisi "aruz ölçüsü"nün özelliğidir?

- A) Türk şiirinin ulusal ölçüsüdür.  
B) İslamiyet öncesi dönemde etkin olarak kullanılmıştır.  
C) Dizelerdeki heceler parmak sayılarak hesaplandığı için eski ismi parmak hesabıdır.  
D) Dizelerdeki hecelerin açıklık-kapalılık bakımından değerlerinin eşitliğine dayanır.

12. Gurbet o kadar acı  
Ki, ne varsa içimde,  
Hepsi bana yabancı  
Hepsi başka biçimde

**Bu şiirde altı çizili kelimeler arasındaki uyak çeşidi aşağıdakilerden hangisidir?**

- A) Yarım  
B) Tam  
C) Tunç  
D) Zengin

13. Aşağıdakilerden hangisi tasavvuf şairidir?

- A) Ahmet Haşim  
B) Karacaoğlu  
C) Âşık Veysel  
D) Yunus Emre

## EK SINAV

14. Duygu, düşünce ve hayallerin ölçülü, uyaklı dizeler hâlinde anlatılmasına verilen ad aşağıdakilerden hangisidir?

- A) Nesir B) Mensur  
C) Nazım D) Yazım

15. Karlı dağların başında  
Salkım salkım olan bulut  
Saçın çözüp benim için  
Yaşın yaşın ağlar mısın

**Bu dörtlükte aşağıdaki edebî sanatların hangisinden yararlanılmıştır?**

- A) Teşhis B) Hüsnütalil  
C) Tezat D) Kinaye

16. Aşk, ayrılık, doğa güzellikleri, yiğitlik gibi din dışı konular işlenir. Bu edebiyatta ürünlerin kimin tarafından söylendiği bellidir. Koşma, semai, varsağı, destan vb. başlıca ürünleridir.

**Bu parçada sözü edilen edebiyat kolu aşağıdakilerden hangisidir?**

- A) Âşık edebiyatı  
B) Klasik edebiyat  
C) Anonim halk edebiyatı  
D) Dinî tasavvufi halk edebiyatı

17. Uçun kuşlar, uçun doğduğum yere;  
Şimdi dağlarında mor sümbül vardır.  
Ormanlar koynunda bir serin dere,  
Dikenler içinde sarı gül vardır.

**Bu dörtlüğün teması aşağıdakilerden hangisidir?**

- A) Tabiat sevgisi  
B) Özgürlük tutkusu  
C) Memleket özlemi  
D) Yalnızlıktan şikâyet

18. Bir edebî eserin incelenmesinde, yazarın etkilendiği akımları ve dünya görüşünü belirlerken aşağıdaki bilim dallarının hangisinden yararlanılır?

- A) Sosyoloji B) Psikoloji  
C) Tarih D) Felsefe

19. Bir şiirin kapalı olan yönlerini açıklamaya, onu anlaşılır hâle getirmeye - - - - denir.

**Bu cümlede boş bırakılan yere aşağıdakilerden hangisi getirilmelidir?**

- A) yorumlama  
B) okuma  
C) düzenleme  
D) seslendirme

20. Ben giderim adım kalır  
Dostlar beni hatırlasın  
Düğün olur bayram gelir  
Dostlar beni hatırlasın.

**Bu dörtlük aşağıdaki sanatçılardan hangisine aittir?**

- A) Nazım Hikmet  
B) Âşık Veysel  
C) Koroğlu  
D) Oktay Rifat

### (412) TÜRK EDEBİYATI – 2

1. Aşağıdakilerden hangisi anlatmaya bağlı eserlerin özelliklerinden biridir?

- A) Canlandırma amacı güdülür.  
B) Bir sahne ortamı bulunur.  
C) Anlatım bir olay çerçevesinde gerçekleşir.  
D) İzleyici ile diyalog sağlanır.

2. Yakup Kadri Karaosmanoğlu'nun "Yaban" adlı romanı Kurtuluş Savaşı sürecini anlatır.

**Yazarın eserlerini ortaya koyarken içinde bulunduğu koşullardan etkilenmesi aşağıdaki kavramlardan hangisiyle adlandırılabilir?**

- A) Gelenek B) Tema  
C) Anlatım D) Zihniyet

3. Aşağıdakilerden hangisi olay çerçevesinde oluşan edebî türlere örnektir?

- A) Makale B) Roman  
C) Fıkra D) Gezi Yazısı

4. Sanat eserleri; sanatçıların duygu, düşünce ve hayal dünyasından beslenen, imge ve izlenimlerle zenginleşen eserlerdir.

**Buna göre, aşağıdakilerden hangisi bu tanıma uymaz?**

- A) Makale B) Öykü  
C) Destan D) Tiyatro

5. Aşağıdakilerden hangisi hikâye planlarından biri değildir?

- A) Yayılma B) Serim  
C) Düğüm D) Çözüm

6. Bir hikâyede aşağıdaki öğelerden hangisi bulunmaz?

- A) Olay B) Yer  
C) Kişi D) Derleme

7. Aşağıdakilerden hangisi Türk edebiyatının önde gelen hikâyecilerinden biri olarak söylenemez?

- A) Memduh Şevket Esenalı  
B) Orhan Veli Kanık  
C) Sait Faik Abasıyanık  
D) Ömer Seyfettin

8. Aşağıdakilerden hangisi anlatmaya bağlı eserlerden biri olarak söylenemez?

- A) Destan B) Fabl  
C) Hikâye D) Şiir

9. İnsanların başlarından geçen ya da geçme olasılığı bulunan olayları yer, zaman ve kişilere bağlı olarak anlatan kısa yazılara - - - - denir.

**Bu cümlede boş bırakılan yere aşağıdakilerden hangisi getirilmelidir?**

- A) Roman B) Öykü  
C) Masal D) Destan

10. Aşağıdakilerden hangisi Türk edebiyatını da etkilemiş önemli hikâye sanatçılarından biridir?

- A) P. Valery  
B) C. Baudelaire  
C) G. Moupasant  
D) J. P. Sartre

## EK SINAV

11. Uygarlıktaki en büyük gelişmeler bilim temeli üzerine oturan, bilimden gücünü alan gelişme ve dönüşmelerdir. Bilim bir yandan teknolojinin yol açtığı maddi gelişme ve dönüşmeleri büyük ölçüde temellendirirken öte yandan da görgü ve kavrayış ufkumuzun gelişmesini, manevi hayatımızın sağlam düşünce temelleri üzerine oturmasını sağlar ve böylelikle de manevi hayatımıza, tinsel yaşam ve yaşantımıza, değer yargılarımıza yön vermeye yarar.

**Bu parça aşağıdaki düz yazı türlerinin hangisinden alınmıştır?**

- A) Anı B) Röportaj  
C) Makale D) Eleştiri

12. Bir eserin gerçek değerini ortaya koymak amacıyla inceleme sonucu yazılan yazıdır. Eserin iyi ve zayıf yönleri birlikte ele alınır. Peşin yargılardan kaçınılır.

**Bu parçada özellikleri verilen öğretici metin aşağıdakilerden hangisidir?**

- A) Söyleşi B) Eleştiri  
C) Deneme D) Köşe yazısı

13. Aşağıdakilerden hangisi Hun destanıdır?

- A) Göç B) Oğuz Kağan  
C) Türeyiş D) Alp Er Tunga

14. Aşağıdakilerden hangisi “kahraman anlatıcının bakış açısı” ile yazılmıştır?

- A) Balıkçı kahvesinin önündeki yarısı kırmızı, yarısı beyaz çiçek açmış akasyanın dalına asılmış bir dülgere balığı gördüm.  
B) Cephe yarılınca o kargaşa içinde taburlarından ayrı düşmüş ve buna gerçekten çok üzülmüşlerdi.  
C) Yüzbaşı, silahlarının şerefini sonuna kadar korumaya kararlı sahici askerler olduğunu görünce içten içe sevindi.  
D) Davet günü, Keloğlan'ın başına gelen, pişmiş tavuğun başına gelmemiş.

15. Aşağıdakilerden hangisi göstermeye bağlı edebî türlerden biridir?

- A) Tiyatro B) Roman  
C) Hikâye D) Masal

16. Aşağıdakilerden hangisi yazdığı denemelerle tanınmış yazarlardan biri değildir?

- A) Nurullah Ataç  
B) Cevdet Kudret  
C) Suut Kemal Yetkin  
D) Sait Faik Abasıyanık

17. • Konu sınırlaması yoktur.  
• Genelde sanat, bilim, edebiyat, felsefe gibi konularda yazılır.  
• Fıkra uzunluğunda olur.

**Bu özellikler aşağıdaki metin türlerinden hangisine aittir?**

- A) Gezi Yazısı B) Anı  
C) Biyografi D) Deneme

18. Olağanüstü olaylarla süslü, olağanüstü kişilerin başlarından geçen olayları anlatan eserlere verilen ad aşağıdakilerden hangisidir?

- A) Şiir B) Öykü  
C) Masal D) Tiyatro

19. Çanakkale - Gelibolu savaşlarının en kanlı sahneleri, hiç şüphe yok ki Arıburnu Anafartalar Cephesi'nde geçer. Mustafa Kemal Çanakkale Harpleri'ne, 19. Tümen Kumandanı Mustafa Kemal olarak katılır.

**Bu metin aşağıdakilerin hangisinden alınmıştır?**

- A) Tarihî metin  
B) Felsefî metin  
C) Bilimsel metin  
D) Betimleyici metin

20. Aşağıdakilerden hangisi anlatmaya bağlı eserler ile göstermeye bağlı eserler arasındaki benzerliklerden biri değildir?

- A) Bir olay çevresinde gelişmeleri  
B) Olayların belirli bir zaman diliminde geçmesi  
C) Serim, düğüm ve çözüm bölümlerinin bulunması  
D) Eserlerdeki olayların dekor, ışık, ses, aksesuarlar sayesinde gerçek hayatta oluyormuş gibi canlandırılmaları

### (413) TÜRK EDEBİYATI – 3

1. Aşağıdakilerden hangisi edebiyat tarihçisinin görevleri arasında yer almaz?

- A) Siyasi ve sosyal olayların edebî eserleri nasıl etkilediğini incelemek  
B) Şair ve yazarların yaşamlarını incelemek  
C) Özelliklerini dikkate alarak edebiyatı dönemlere ayırmak  
D) Siyasi olayları tarihi oluş sırasına göre aktarmak

2. Aşağıdakilerden hangisi Türk edebiyatının yaygın olarak kabul gören tarihi dönemlerinden biri değildir?

- A) Destan Dönemi Türk Edebiyatı  
B) Osmanlı Dönemi Türk Edebiyatı  
C) İslami Dönem Türk Edebiyatı  
D) Batı Etkisindeki Türk Edebiyatı

3. Aşağıdaki bilgilerden hangisinde bilgi yanlışlığı vardır?

- A) Türk edebiyatının gelişiminde tarihi gelişmelerin etkili olmadığı görülür.  
B) Edebi eserlerde tarihi olaylar anlatılabilir.  
C) Tarihi olaylar edebiyat dönemlerinin bölümlenmesinde etkilidir.  
D) Uygarlık tarihi, bir milletin yaşadığı tarihi, siyasi, sosyal, kültürel değişimi anlatır.

4. Aşağıdakilerden hangisi edebiyat tarihinin sağladığı yararlarından biri değildir?

- A) Farklı dönemlerdeki edebî zevkleri tanımak  
B) Kültürel birikimi tanıtmak ve aktarmak  
C) Bir toplumun siyasi tarihini öğrenmek  
D) Toplulukların düşünce yapılarını ve görüşlerini öğrenmek



## EK SINAV

5. Ertuğrul Bey'in vefatından sonra idaresi altındaki çok sayıda aşiretlerden - ki bu aşiretlerin Ertuğrul'un idaresi altında toplanmalarının kendisinin uç beyi ve Oğuzların en şerefli boyu olan Kayılara mensup olmalarının da dahilidir - kişisel yetenek ve cesareti sebebi ile kendisinin bağlı olduğu Kayı aşireti Ertuğrul'un küçük oğlu Osman Bey'e bağlandı. Osman Bey, 1258'de Söğüt'te doğmuştu. Buna göre aşiret beyi olduğu zaman yirmi üç yaşında demektir.

**Bu parça anlatım özellikleri düşünüldüğünde aşağıdaki metin türlerinin hangisinden alıntılanması olabilir?**

- A) Edebî metin
- B) Bilimsel metin
- C) Tarihî metin
- D) Felsefî metin

6. Türk edebiyatının dönemlere ayrılmasında aşağıdaki gelişmelerden hangisinin bir etkisi olmamıştır?

- A) Alfabe değişimi
- B) Göktürklerin yıkılması
- C) Din değişimi
- D) Edebi zevk değişimi

7. Bir toplumdaki edebî ürünleri, türlerin gelişimini değerlendiren, ürünlerin ortaya çıktığı toplumun tarihiyle, ekonomik-sosyal yapısıyla ilişkisini inceleyen, dönemseller ayrımlarla öğrenilmesini kolaylaştıran bilime - - - - denir.

**Bu cümlede boş bırakılan yere aşağıdakilerden hangisi getirilmelidir?**

- A) edebiyat tarihi
- B) medeniyet tarihi
- C) kültür tarihi
- D) sanat tarihi

8. Özellikleri ve yakınlıkları dikkate alındığında aşağıdaki bilim dallarından hangisi edebiyat tarihçisinin ilgi alanı içinde en uzak yere sahiptir?

- A) Tarih
- B) Kimya
- C) Felsefe
- D) Sosyoloji

9. Aşağıdakilerden hangisi **İslamiyet öncesi Türk edebiyatının sözlü dönemine ait bir özellik değildir**?

- A) Şiirlerde hece ölçüsü kullanılmıştır.
- B) İlk mesnevi ve koşma örnekleri bu dönemde verilmiştir.
- C) Cesaret, aşk, doğa sevgisi, işlenen başlıca konulardır.
- D) Şiirler "şaman, kam, baksı, ozan" adı verilen sanatçılar tarafından söylenmiştir.

10. Kar buz kamug erüştü (Kar buz tümü eridi)

Taglar suyu akıştı (Dağlar suyu akıştı)

Kökşin bulut örüştü (Mavi bulut yükseldi)

Kayguk bolup egrişür (Kayık gibi sallanır)

**Bu dizeler için aşağıdaki özelliklerden hangisi doğru değildir?**

- A) Nazım birimi dördlüktür.
- B) 7'li hece ölçüsü kullanılmıştır.
- C) Söyleyişi bellidir.
- D) Teması doğadur.

11. **Gılgamış destanı ile ilgili aşağıda verilen bilgilerden hangisi yanlıştır?**

- A) Uygur Türklerine ait bir destandır.
- B) Akad dilinde yazılmıştır.
- C) İÖ 3 binlerde Mezopotamya'da doğmuş ve bilinen en eski destandır.
- D) Ölümsüzlük otunu arayan Gılgamış ile arkadaşı Enkidu'nun öyküsü anlatılır.

12. Aşağıdakilerden hangisi **İslamiyet öncesi Türk boyları arasında eski Türk şairlerine verilen isimlerden değildir**?

- A) Ozan
- B) Şaman
- C) Kopuz
- D) Baksı

13. **Troya'nın (Truva) yıkılışından sonra yurduna dönmek için yola çıkan İthake kralının serüvenlerini anlatan destan aşağıdakilerden hangisidir?**

- A) Odysseia
- B) Su
- C) Gılgamış
- D) Siyenpi

14. Aşağıdakilerden hangisi **Destan Dönemi Türk edebiyatının özelliklerinden sayılamaz**?

- A) Yabancı etkilerden uzak, yerli bir edebiyattır.
- B) Nazım birimi dördlüktür.
- C) Sade bir dili olan eserlerde hece ölçüsü kullanılmıştır.
- D) Eserlerde soyut ve dinsel konular işlenmiştir.

15. **İslamiyet Öncesi Türk Edebiyatı'yla ilgili olarak aşağıdaki bilgilerden hangisi yanlıştır**?

- A) Sözlü ve yazılı olmak üzere iki koldan gelişmiştir.
- B) Orta Asya coğrafyasındaki bir dönemdir.
- C) Başlangıcı kesin tarihlerle belirlenememektedir.
- D) 13. yüzyıla kadar sürmüştür.

16. Eski Türkler - - - isimli sazla şiirler söylemişlerdir.

**Bu cümledeki boşluğa aşağıdakilerden hangisi gelirse cümlede verilen bilgi doğru olur?**

- A) cura
- B) kopuz
- C) tar
- D) bağlama

17. **Orhun Yazıtları'yla ilgili aşağıdakilerden hangisi söylenmez?**

- A) Tarihte "Türk" sözcüğünün geçtiği ilk metinlerdir.
- B) Bilge Kağan'ın hükümdarlığı sırasında dikilmiş yazıtlardır.
- C) Yazıtlarda Türkçe söz dizimi günümüzdeki şekliyle "özne - tümleç - yüklem" biçimindedir.
- D) Uygur alfabesiyle yazılan üç anıttan oluşmaktadır.

18. **Türkler, Uygur alfabesinden sonra aşağıdaki alfabelerden hangisini kullanmaya başlamışlardır?**

- A) Latin
- B) Arap
- C) Göktürk
- D) Kiril

## EK SINAV

19. Türkçenin zenginliğini ve benzersiz anlatım gücünü ortaya koyan eserlerden biri olan Göktürk (Orhun) Yazıtları'nın metnini çözerek okuyan ilk bilim adamı aşağıdakilerden hangisidir?

- A) W. Thomsen
- B) Homeros
- C) W. Banq
- D) G. Doerfer

20. Aşağıdakilerden hangisi Türk edebiyatının dönemlere ayrılmasında göz önünde bulundu bulunmamıştır?

- A) Toplum psikolojisi
- B) Kültür farklılaşması
- C) Dil anlayışı
- D) Dinî hayat

### (414) TÜRK EDEBİYATI – 4

1. İlahi türü ile ilgili aşağıdaki verilen bilgilerden hangisi yanlıştır?

- A) Hece ölçüsünün 7'li, 8'li kalıpları kullanılır.
- B) Allah, peygamber, din sevgisi anlatılır.
- C) Ezgili bir söyleyişi vardır.
- D) Söyleyeni belli değildir.

2. Dede Korkut Hikâyeleri'nin özellikleri için aşağıdakilerden hangisi söylenemez?

- A) Eser, 12 hikâyeden oluşur.
- B) Eserin yazarı Dede Korkut adlı kişidir.
- C) Hikâyelerde Müslüman Oğuzların iç ve dış savaşları anlatılır.
- D) Hikâyeler düz yazı ve şiir karışık olarak yazılmıştır.

3. "Danışmendname" ile ilgili olarak aşağıdakilerden hangisi söylenemez?

- A) Halkın kolay anlayabileceği bir dille yazılmıştır.
- B) Aruz ölçüsünün kalıplarıyla yazıya geçirilmiştir.
- C) Eser, Çağatay Türkçesiyle yazıya geçirilmiştir.
- D) Danışmend Gazi'nin İslamiyet uğruna verdiği mücadeleler anlatılmaktadır.

4. Aşağıdakilerden hangisi mesnevi türünün özelliklerinden biri değildir?

- A) Nazım birimi beyittir
- B) En az 33, en fazla 99 beyitten oluşur
- C) Uyak düzeni aa/bb/cc ... biçimindedir.
- D) En uzun nazım biçimidir.

5. XIII. ve XIV. yy. da Anadolu'da siyasi gelişmelerin, çalkantıların çok olması insanları daha çok dinî alana yöneltmiştir.

**Bu durum aşağıdaki edebi gelişmelerden hangisinin oluşmasına neden olmuştur?**

- A) Destan dönemi Türk edebiyatının oluşumuna
- B) Modern Türk edebiyatının oluşumuna
- C) Divan edebiyatının oluşumuna
- D) Tasavvufi Türk edebiyatının oluşumuna

6. Dede Korkut Hikâyeleri'nin dil özellikleri ile ilgili aşağıdakilerden hangisi söylenemez?

- A) Türkçe cümle özellikleri taşımaktadır.
- B) Benzetme ve tekrarlamaların hiç kullanılmadığı görülür.
- C) Anlatımda bir destansılık görülür.
- D) İslamiyet etkisiyle Arapça sözcüklerin kullanıldığı görülmektedir.

7. Aşağıdakilerden hangisi Türk edebiyatının İslami dönemdeki ayrımlarından biri değildir?

- A) Anonim halk edebiyatı
- B) Âşık edebiyatı
- C) Tekke edebiyatı
- D) Destan Dönemi Türk Edebiyatı

8. Aşağıdakilerin hangisinde Kutadgu Bilig'te yer alan kahramanlarla onların simgelediği kavramlar eşleştirilirken yanlışlık yapılmıştır?

- A) Ögdilmiş - akıl
- B) Kün Toğdı - adalet
- C) Ay Toldı - mutluluk
- D) Bilge Kağan - cesaret

9. Aşağıdakilerden hangisi dinî-tasavvufi edebiyat anlayışının dışında kalan bir şairdir?

- A) Hacı Bektaş Veli
- B) Kaygusuz Abdal
- C) Âşık Ömer
- D) Ahmet Yesevi

10. Türk edebiyatında gezi türündeki en önemli eser ona aittir. "Seyahatname" adlı büyük ve eşsiz eserinde bize 17. yüzyıl Türkiye'sinin sanatını, coğrafyasını, geleneklerini, göreneklerini, tarihini, folklorunu ayrıntılarıyla tanıtır.

**Bu parçada tanıtılan kişi aşağıdakilerden hangisidir?**

- A) Mercimek Ahmet
- B) Seydi Ali Reis
- C) Evliya Çelebi
- D) Naima

11. Kerem ile Aslı hikâyesi için aşağıdakilerden hangisi söylenemez?

- A) Kahramanlık hikâyesidir.
- B) Kimin tarafından düzenlendiği belli değildir.
- C) Nazım ve nesir karışık olarak düzenlenmiştir.
- D) 1850 yılından bu yana pek çok kez yayımlanmıştır.

12. "Tezkire" için aşağıdaki tanımlardan hangisi doğrudur?

- A) Divan edebiyatında çeşitli devirlerde yaşayan şairlerin kısaca hayatlarından ve eserlerinden söz eden kitaplardır.
- B) Yazarın gezip gördüğü yerlerin tarihini, medeniyetini anlatan yazıdır.
- C) Sünnet, düğün, şenlik gibi sevinçli olayları anlatan eserlerdir.
- D) Bir şehrin güzelliklerinden söz eden manzum eserdir.

## EK SINAV

13. • Sözlü olarak yaşayan bir edebiyattır.  
• Nazım birimi dördlüktür.  
• Dili, halkın konuşma dili gibi yalındır.  
• Aşk, ölüm, hasret, yiğitlik, gurbet gibi insanların her zaman ilgisini çekecek konular işlenmiştir.

**Bu özellikler aşağıdaki şiir geleneklerinden hangisine aittir?**

- A) Divan şiiri  
B) Anonim halk şiiri  
C) Dinî şiirler  
D) Tasavvufî Türk şiiri

14. Türkülerin her bendinin sonunda tekrarlanan nakarat dizelerine verilen ad aşağıdakilerden hangisidir?

- A) Bozlak B) Bağlama  
C) Mânî D) Durak

15. Aşağıdaki yazar-eser eşleştirmelerinden hangisi yanlıştır?

- A) Leyla ve Mecnun - Fuzulî  
B) Çarhnâme - Ahmet Fakih  
C) Mesnevî - Mevlânâ  
Celâleddin-i Rumî  
D) Hüsn ü Aşk- Nâbî

16. 15. yüzyılda yazıya geçirilen eser destan-hikâye özelliği gösterir. Kahramanları olağanüstü özellikler taşır. Bu kahramanlardan bazıları şunlardır: Deli Dumrul, Salur Kazan, Tepegöz...

**Bu parçada tanıtılan eser aşağıdakilerden hangisidir?**

- A) Dede Korkut Hikâyeleri  
B) Alp Er Tunga Destanı  
C) Babürnâme  
D) Göç Destanı

17. Aşağıda kasideyle ilgili verilen bilgilerden hangisi yanlıştır?

- A) Beyit sayısı 33-99 arasında değişir.  
B) En güzel beytine beytülkasid denir.  
C) İlk beytine makta adı verilir.  
D) Bir kişiyi ya da yeri öven şiirlerdir.

18. Karahanlı dönemi şairlerinden biridir. 12. yüzyıl sonu ile 13. yüzyıl başlarında yaşadığı sanılmaktadır. Atabetü'l Hakâyık adlı ahlaki, öğretici tarzda bir eser meydana getirmiştir.

**Bu parçada tanıtılan sanatçı aşağıdakilerden hangisidir?**

- A) Edip Ahmet Yükneki  
B) Ahmet Yesevî  
C) Yusuf Has Hacı  
D) Kaşgarlı Mahmut

19. Aşağıdakilerden hangisi "ilahi"nin diğer isimlerinden biri değildir?

- A) Nefes B) Gazel  
C) Tapuç D) Âyin

20. RUBAİ

Esrârını dil zaman zaman söyler imiş  
Hengâme-i gamda dâstan söyler imiş  
Aşk ehli olup da, mihnet-i hicrâna  
Ben sabr ederim diyen yalan söyler imiş

Haletî

**Bu dördlüğün uyak düzeni aşağıdakilerden hangisidir?**

- A) abab B) aaab  
C) aaba D) aaaa

### (415) TÜRK EDEBİYATI – 5

1. Yenileşme Dönemi Türk Edebiyatı'nın başlangıcı sayılan siyasi gelişme aşağıdakilerden hangisidir?

- A) Tanzimat Fermanı'nın ilanı  
B) Yeniçeri Ocağı'nın kaldırılması  
C) Islahat Fermanı'nın ilanı  
D) II. Mahmut'un padişah olması

2. Aşağıdakilerden hangisi edebiyatın amacıdır?

- A) Siyasi olayları incelemek  
B) Duygu ve düşünceleri etkili biçimde ortaya koymak  
C) Toplumsal olayları inceleyip analizler yapmak  
D) Her türlü bilgiyi öğretmek

3. "Şair Evlenmesi" adlı eser ile ilgili aşağıdakilerden hangisi doğrudur?

- A) Şinasi tarafından yazılmıştır.  
B) 2 perdelik bir trajedidir.  
C) Sahnelenen ilk oyundur.  
D) Yanlış Batılılaşma konusu işlenmiştir.

4. Aşağıdakilerden hangi Tanzimat Dönemi'nde Türk edebiyatındaki ilklerden biri değildir?

- A) İlk makalenin yazılması  
B) Aruz ölçüsü ile ilk şiirin yazılması  
C) İlk noktalama işaretlerinin kullanılması  
D) İlk romanın yazılması

5. Aşağıdakilerden hangisi Tanzimat Edebiyatı I. Dönem sanatçılarından biri değildir?

- A) Şinasi  
B) Samipaşazade Sezai  
C) Namık Kemal  
D) Ziya Paşa

6. İlk özel gazete aşağıdakilerden hangisidir?

- A) Takvim-i Vekâyi  
B) Ceride-i Havadis  
C) Tercümân-ı Ahvâl  
D) Tasvir-i Efkâr

7. Aşağıdakilerden hangisi Tanzimat Edebiyatı I. Dönemi için söylenemez?

- A) Sanat toplum içindir, anlayışı benimsenmiştir.  
B) Sade bir dil anlayışı savunulmuştur.  
C) Vatan, millet, özgürlük, adalet gibi konular şiire girmiştir.  
D) Dönem sanatçıları, yalnızca sanatçı kimliği ile öne çıkmıştır.

## EK SINAV

8. I. Eserde Doğulu-Batılı çekişmesi işlenir.  
II. Ahmet Mithat Efendi tarafından yazılmıştır.  
III. Türünün ilk örneklerinden olması nedeniyle anlatım ve teknik özellikleri bakımından zayıftır.

**Numaralanmış cümlelerde tanıtilen edebi eser aşağıdakilerden hangisidir?**

- A) Felatun Bey'le Rakım Efendi  
B) Zehra  
C) İntibah  
D) Ömer'in Çocukluğu

9. Aşağıdaki sanatçı - eser eşleştirmelerinden hangisi **yanlıştır**?

- A) Ziya Paşa - Zafername  
B) Şemsettin Sami - Taaşuk-ı Talat ve Fitnat  
C) Recaizade Mahmut Ekrem - Talim-i Edebiyat  
D) Namık Kemal - Makber

10. Tanzimat Edebiyatı I. Dönem sanatçısıdır. Romantik özellikleri ağır basan bir sanatçıdır. Divan edebiyatını eleştirmiş, onun yerine Batılı tarz edebiyatı savunmuştur. Tiyatro, roman, şiir, eleştiri gibi geniş bir yelpazede ürün vermiştir.

**Bu parçada hakkında bilgi verilen sanatçı aşağıdakilerden hangisidir?**

- A) Ziya Paşa  
B) Namık Kemal  
C) Ahmet Mithat Efendi  
D) Şemsettin Sami

11. Aşağıdakilerden hangisi edebiyatımızdaki ilk realist roman olarak kabul edilir?

- A) Cezmi  
B) Şipsevidi  
C) Araba Sevdası  
D) Zavallı Çocuk

12. Vatan, millet, özgürlük, adalet gibi kavramlar edebiyatımıza hangi dönemde girmiştir?

- A) Servetifünun  
B) Cumhuriyet  
C) Tanzimat  
D) Fecriâtî

13. "Şerare, Fûruzan, Demdeme" adlı eserler aşağıdaki sanatçılardan hangisine aittir?

- A) Ahmet Mithat Efendi  
B) Yusuf Kâmil Paşa  
C) Ağâh Efendi  
D) Muallim Naci

14. Aşağıdakilerden hangisi Tanzimat edebiyatının genel özelliklerinden **değildir**?

- A) Genel olarak hece ölçüsü kullanılmıştır.  
B) Hikâye ve romanlarda temalar günlük hayattan, tarihten alınmıştır.  
C) Fransız edebiyatı örnek alınmıştır.  
D) Divan edebiyatında bulunmayan hikâye, roman, makale, eleştiri gibi yeni türler edebiyatımıza girmiştir.

15. Tanzimat edebiyatının ilklerinden biri olan "Tercüman-ı Ahval Mukaddimesi" adlı eserin türü aşağıdakilerden hangisidir?

- A) Makale B) Hikâye  
C) Roman D) Tiyatro

16. Aşağıdakilerden hangisi Tanzimat edebiyatında dil ve sözlük çalışmalarıyla önem kazanmış sanatçımızdır?

- A) Namık Kemal  
B) Şemsettin Sami  
C) Ziya Paşa  
D) Ziya Gökalp

17. Abdülhak Hamit Tarhan hakkında verilen aşağıdaki bilgilerden hangisi **yanlıştır**?

- A) Ağâh Efendi ile ilk özel gazeteyi çıkardı.  
B) Şiirlerinde lirik ve epik duyguları işledi.  
C) Türk şiirini geleneklerden kurtararak ona kimlik kazandırdı.  
D) Şiir - düz yazı ya da düz yazı - şiir biçiminde tiyatro eserleri yazdı.

18. 18. yüzyılda başlayıp 19. yüzyılın sonuna kadar süren, hayaller duygular ve coşkuların ağır bastığı ve Victor Hugo'nun öncülük ettiği edebî akım aşağıdakilerden hangisidir?

- A) Sembolizm B) Realizm  
C) Romantizm D) Klasisizm

19. Tanzimat Edebiyatı I. Döneminde gazeteciliğin başlamasıyla yeni yazı türleri ortaya çıkmıştır.

**Aşağıdakilerden hangisi gazete ile edebiyatımıza giren türlerden değildir?**

- A) Fıkra B) Makale  
C) Günlük D) Eleştiri

20. Türk edebiyatında yeniliklerin öncüsüdür. 1860'ta Tercüman-ı Ahval'i, 1862'de Tasvir-i Efkâr'ı çıkardı. İlk makaleyi, ilk piyesi o yazdı. Noktalama işaretlerini de ilk defa o kullandı.

**Bu paragrafta tanıtilen edebiyatçı aşağıdakilerden hangisidir?**

- A) Namık Kemal  
B) Ziya Gökalp  
C) Şinasi  
D) Şemsettin Sami

### (416) TÜRK EDEBİYATI – 6

1. Aşağıdakilerden hangisi Servetifünun şiirinin özelliklerinden biridir?

- A) Toplumsal temalar işlenir.  
B) Dilde sadeleşme çabaları görülür.  
C) Parça güzelliğine önem verilir.  
D) Divan edebiyatından tamamen uzaklaşılr.

2. Aşağıdakilerden hangisi Servetifünun Dönemi edebiyatı romanının özelliklerinden biridir?

- A) Kişiler, İstanbul'da yaşayan köklü ailelerdir.  
B) Teknik yönden zayıftır.  
C) Doğa betimlemeleri tamamen hayalidir.  
D) Romantizm akımının etkisindedir.

3. Aşağıdakilerden hangisi Servetifünun Dönemi sanatçılarından biri **değildir**?

- A) Tevfik Fikret  
B) Muallim Naci  
C) Cenap Şahabettin  
D) Halit Ziya Uşaklıgil

## EK SINAV

4. Servet-i Fünun dergisinin eleştiri türünde yazan sanatçılarından-  
dır. Dergi, onun Fransızcadan  
çevirip yazdığı bir makale dola-  
yısıyla kapatılmıştır. Eleştiri yazı-  
larını "Kavgalarım" adlı eserinde  
toplamıştır.

**Bu parçada sözü edilen sanatçı  
aşağıdakilerden hangisidir?**

- A) Mehmet Rauf
- B) Ali Canip Yöntem
- C) Ahmet Vefik Paşa
- D) Hüseyin Cahit Yalçın

5. Servet-i Fünun dergisinin ka-  
panmasına neden olan makale  
aşağıdakilerden hangisidir?

- A) Edebiyat ve Hukuk
- B) Şiir ve İnşa
- C) Dekadanlar
- D) Şiir Hakkında Bazı  
Mülahazalar

6. Servetifünun Dönemi sanat an-  
layışının Tanzimat Edebiyatı I.  
Dönemi'nden çok farklı bir an-  
layışta gelişmesinde aşağıdaki-  
lerden hangisi daha etkilidir?

- A) Sanatçıların eğitimi
- B) Halkın dil anlayışı
- C) Siyasi ortam
- D) Teknolojik olanaklar

7. Servet-i Fünun'un bilim dergisi  
olmaktan çıkıp edebiyat dergi-  
si olmasında aşağıdakilerden  
hangisi etkili olmuştur?

- A) Muallim Naci'nin vefat etmesi
- B) Tevfik Fikret'in derginin yayın  
yönetmenliğine getirilmesi
- C) Osmanlı - Rus Savaşı'nın baş-  
laması
- D) I. Meşrutiyet'in ilan edilmesi

8. Servetifünun Dönemi edebi-  
yatının etkili olmasıyla aşağıdaki  
düşünceyi savunanlardan han-  
gisi güç kazanmıştır?

- A) Batılı düşünceyi savunanlar
- B) Divan edebiyatını savunanlar
- C) Halk edebiyatını savunanlar
- D) Toplumcu anlayışı savunanlar

9. Aşağıdakilerden hangisi  
Servetifünun Dönemi Edebiyatı  
için söylenemez?

- A) "Estetik zevk" öne çıkarılmıştır.
- B) Sanatta fayda anlayışına karşı  
çıkılmıştır.
- C) Edebiyatın sonraki dönemine  
etkisi olmuştur.
- D) Otuz yıllık süreci kapsayan bir  
dönemdir.

10. Cenap Şahabettin aşağıdaki  
türlerin hangisinde eser ver-  
memiştir?

- A) Şiir
- B) Roman
- C) Gezi Yazısı
- D) Makale

11. Fecriâtî, aşağıdaki edebî dö-  
nemlerden hangisinin devamı  
niteliğindedir?

- A) Divan
- B) Tanzimat
- C) Millî Edebiyat
- D) Servetifünun

12. Millî Edebiyat, Selanik'te çıkarılan  
- - - - dergisi etrafında toplanan  
gençlerin oluşturduğu edebiyattır.

**Bu cümlede boş bırakılan yere  
aşağıdakilerden hangisi getiril-  
melidir?**

- A) Türk Derneği
- B) Servet-i Fünun
- C) Genç Kalemler
- D) Musavver Malumât

13. Mehmet Rauf'un yazdığı "Siyah  
İnciler" adlı eserin türü, aşağı-  
dakilerden hangisidir?

- A) Roman
- B) Hikâye
- C) Tiyatro
- D) Mensur şiir

14. Aşağıdakilerden hangisi Ömer  
Seyfettin'e ait bir eser değildir?

- A) Yüksek Ökçeler
- B) Kiralık Konak
- C) Yalnız Efe
- D) Bomba

15. Aşağıdaki hareketlerden hangi-  
si Millî Edebiyat akımının oluş-  
masında daha etkili olmuştur?

- A) İslamcılık
- B) Türkçülük
- C) Batıcılık
- D) Osmanlıcılık

16. Realizm akımının şiirdeki yansı-  
ması aşağıdakilerden hangisidir?

- A) Romantizm
- B) Sembolizm
- C) Parnasizm
- D) Klasisizm

17. Servetifünun şairlerinden Ali  
Ekrem Bolayır'ın edebî görüş-  
lerini ifade ettiği uzun makalesi  
aşağıdakilerden hangisidir?

- A) Şiirimiz
- B) Viyana
- C) Fürûzan
- D) Nemide

18. "Mauppassant tarzı" öykücülüğü-  
nün Türk edebiyatındaki temsil-  
cisi aşağıdakilerden hangisidir?

- A) Ömer Seyfettin
- B) Memduh Şevket Esendal
- C) Sait Faik Abasıyanık
- D) Ali Canip Yöntem

19. Aşağıdakilerin hangisinde  
eser-yazar eşleştirmesi yanlış  
yapılmıştır?

- A) Kızıl Elma-Ziya Gökalp
- B) Handan-Mehmet Rauf
- C) Eğil Dağlar-Yahya Kemal  
Beyatlı
- D) Aşk-ı Memnu-Halit Ziya  
Uşaklıgil

20. Hikâye, roman ve anı türünde  
eserler verdi. İlk aşk teması  
üzerinde durdu. Bireysel tutkuları,  
kadın psikolojisini ve duyarlılığını  
işledi. Kurtuluş Savaşı yıllarında  
kendini ulusal temalara verdi. "Mor  
Salkımlı Ev", "Sonsuz Panayır"  
eserlerinden bazılarıdır.

**Bu parçada tanıtılan yazar aşağı-  
dakilerden hangisidir?**

- A) Falih Rıfkı Atay
- B) Mehmet Akif Ersoy
- C) Halide Edip Adıvar
- D) Reşat Nuri Güntekin

1. Cumhuriyet Dönemi Türk Edebiyatı'nın başlangıcı için ölçü alınan siyasi gelişme aşağıdakilerden hangisidir?

- A) I. Dünya Savaşı'nın bitmesi  
B) Türk Dil Kurumunun açılması  
C) Kurtuluş Savaşı'nın kazanılması  
D) Cumhuriyet'in ilan edilmesi

2. Cumhuriyet Dönemi Türk Edebiyatı'nın başlangıcı için ölçü alınan siyasi gelişme aşağıdakilerden hangisidir?

- A) I. Dünya Savaşı'nın bitmesi  
B) Türk Dil Kurumu'nun açılması  
C) Kurtuluş Savaşı'nın kazanılması  
D) Cumhuriyet'in ilan edilmesi

3. "19. Asır Türk Edebiyatı Tarihi" adlı eser aşağıdaki araştırmacılarımızdan hangisine aittir?

- A) Ahmet Hamdi Tanpınar  
B) İsmail Habib Sevük  
C) Ağâh Sırrı Levent  
D) Ahmet Kabaklı

4. Aşağıdakilerden hangisi Cumhuriyet Dönemi Türk Edebiyatı'nın genel özelliklerinden biri değildir?

- A) Yazı ve konuşma dili ayrımı kaldırılmıştır.  
B) Konu ve mekan olarak Anadolu işlenmiştir.  
C) Köy yaşamı eserlerde işlenmiştir.  
D) Divan edebiyatının dil özellikleri benimsenmiştir.

5. Aşağıdakilerden hangisi Cumhuriyet Dönemi'nde romancılığı ile öne çıkan sanatçılardan biridir?

- A) Yahya Kemal Beyatlı  
B) Yakup Kadri Karaosmanoğlu  
C) Ziya Osman Saba  
D) Faruk Nafiz Çamlıbel

6. Aşağıdakilerden hangisi gazeteciliğin yaygınlaşmasıyla gelişen edebi türlerden biri değildir?

- A) Şiir B) Makale  
C) Gezi Yazısı D) Anı

7. Edebiyatımızda ilk örneği "Tercüman-ı Ahval Mukaddimesi" olarak bilinen edebi tür aşağıdakilerden hangisidir?

- A) Deneme B) Eleştiri  
C) Makale D) Gezi Yazısı

8. Aşağıdakilerden hangisinde makale türünün özelliklerinden biri yanlış verilmiştir?

- A) Genellikle bilim, sanat konularında yazılır.  
B) Kolay anlaşılabilir, senli benli anlatımı vardır.  
C) Bilgi vermek amacı taşır.  
D) Bir düşünceyi savunmak amacıyla yazılır.

9. Aşağıdakilerden hangisi deneme türünün özelliklerinden biri değildir?

- A) Konu sınırı yoktur.  
B) Konu ile ilgili deliller ortaya konur.  
C) Okuyucuya düşüncesini kabul ettirme kaygısı yoktur.  
D) İçten ve doğal bir anlatım kullanılır.

10. I. Güncel konular işlenir.  
II. Okuyucular, yazıları sıcağı sıcağına okur.  
III. Kısa, gazete ve dergi yazılarıdır.

Yukarıda özellikleri verilen edebi tür aşağıdakilerden hangisidir?

- A) Makale B) Deneme  
C) Fıkra D) Gezi Yazısı

11. Aşağıdakilerden hangisi fıkra (köşe yazısı) türünün özelliklerinden biri değildir?

- A) Gazete ve dergi yazısıdır.  
B) Güncel konularda yazılır.  
C) Samimi bir dille yazılır.  
D) Anlatılanlar kanıtlanmalıdır.

12. Aşağıdakilerin hangisinde fıkra ile makale karşılaştırmasında yanlışlık yapılmıştır?

- A) İkisi de bilimsel gerçekleri ortaya koyar.  
B) İkisi de dergi ve gazete yazısıdır.  
C) Fıkra makaleye göre daha kısa bir yazı türüdür.  
D) Fıkra makaleye göre daha samimi bir dille yazılır.

13. Aşağıdakilerden hangisi iyi bir makalenin özelliklerinden değildir?

- A) Anlatım yalın olmalıdır.  
B) Söz oyunlarına başvurulmalıdır.  
C) Öne sürülen düşünce kanıtlanmalıdır.  
D) Okuyucu kitlesinin eğitim düzeyine dikkat edilmelidir.

14. Aşağıdaki yazın türlerinden hangisinin oluşumunda anı türünden en az yararlanılmıştır?

- A) Gezi yazısı B) Günlük  
C) Otobiyografi D) Deneme

15. Aşağıdakilerden hangisi Hal-dun Taner'in oyunlarından biri değildir?

- A) Zilli Zarife  
B) Bekçi Murtaza  
C) Keşanlı Ali Destanı  
D) Fazilet Eczanesi

16. Aşağıdakilerin hangisinde yanlış bilgi verilmiştir?

- A) Kemal Tahir'in özelliği sosyal konuları tarihî plan içinde ele almasıdır.  
B) Tarık Buğra, insanı kendi bireyselliği ve kişiliği içinde yer alır.  
C) Haldun Taner, Anadolu köy ve kasaba hayatının acıklı hallerini gerçekçi bir şekilde yazdı.  
D) Aziz Nesin, toplum hayatının aksayan yönlerini, olayları, tipleri gülünç gösteren bir mizah üslubuyla anlattı.

## (418) TÜRK EDEBİYATI – 8

17. 1950'den sonra yeni arayışlara yönelen Cemal Süreya, Edip Cansever, Turgut Uyar gibi şairlerin başlattığı bir akımdır. Anlamda kapalılık, değişik çağrışımlarla imgeci bir şiir anlayışı savunuldu ve 1965'e kadar sürdü.

**Bu parçada sözü edilen akım aşağıdakilerden hangisidir?**

- A) İkinci Yeni B) Sembolistler  
C) Toplumcular D) Mavi Akımcılar

18. Cumhuriyet Dönemi'nde Türk şiirinde büyük değişiklikler görüldü.

**Buna göre aşağıdaki bilgilerden hangisi yanlıştır?**

- A) Ömer Bedrettin Uşaklı şiirlerinde en çok deniz temasını işledi.  
B) Cahit Sıtkı Tarancı iyimser umut dolu, mücadelecî şiirleri edebiyatımıza armağan etti.  
C) Necip Fazıl Kısakürek içe dönük, maneviyatçı, bireyci şiirin başarılı örneklerini verdi.  
D) Ahmet Hamdi Tanpınar ölüm, sonsuzluk, zaman, rüya, hülya gibi konuları şiirlerinde işledi.

19. Aşağıdakilerden hangisi Garip akımının özelliklerinden biri değildir?

- A) Yalın bir dil kullanmak  
B) Günlük konuları ele almak  
C) Süsten uzak bir anlatımı tercih etmek  
D) Ölçülü, uyaklı bir şiir oluşturmak

20. Eserlerinde köy gerçeğini değişik boyutlarıyla ele alan iki yazar aşağıdakilerin hangisinde birlikte verilmiştir?

- A) Oğuz Atay - Yusuf Atılgan  
B) Orhan Pamuk - Attila İlhan  
C) Yaşar Kemal - Kemal Tahir  
D) Peyami Safa - Ahmet Hamdi Tanpınar

1. Aşağıdakilerden hangisi “öz şiir” anlayışının özelliklerinden biri değildir?

- A) Sanat, sanat için yapılmalıdır.  
B) Sanat, hiçbir ideolojinin egemenliğinde olmamalıdır.  
C) Sanat, topluma yön verme ödevine sahiptir.  
D) Şiir anlaşılaktan çok duyulmak, hissedilmek için yazılır.

2. Cumhuriyet Dönemi şiirinin öncü şairlerinden biridir. Şiirlerinde yaşama sevinci, ölüm korkusu, yalnızlık, aşk gibi temaları işlemiştir. Şiirlerinde Baudelaire, Verlaine gibi Fransız şairlerin etkisinde kalmıştır. “Otuz Beş Yaş, Ömrümde Sükut” eserlerinden bazılarıdır.

**Bu parçada tanıtılan şair aşağıdakilerden hangisidir.**

- A) Orhan Veli Kanık  
B) Cahit Sıtkı Tarancı  
C) Ahmet Muhip Dıranas  
D) Yahya Kemal Beyatlı

3. Aşağıdakilerden hangisi Cumhuriyet Dönemi'nde etkili olan edebî gruplardan biri değildir?

- A) Garipçiler  
B) Yeni Lisancılar  
C) Beş Hececiler  
D) Yedi Meşaleciler

4. Aşağıdakilerden hangisi “Yedi Meşaleciler” grubunun özelliklerinden biridir?

- A) Anadolu ve Anadolu insanı şiirlerde anlatılır.  
B) Yurdun güzellikleri, yurdu kurtarmak için verilen mücadele konu olarak işlenir.  
C) Uyak ve ölçüye karşı çıkılır.  
D) Edebiyatta; samimilik, içtenlik ve yenilik hâkim olmalı ilkesi savunulur.

5. Şiirlerinde evler, odalar, sokak, doğa konularını işlemiştir. Ev konusunu çok işlemesi nedeniyle “evler şairi” olarak anılmıştır. Bir anlayışın egemenliğine girmeden kendine özgü bir şiir dünyası kurmuştur. Halk kültüründen aldığı unsurları Batı şiiri ile birleştirmiştir. Radyo oyunu da yazmıştır. Kapalı Çarşı, Evler, Eski Toprak eserlerinden bazılarıdır.

**Bu parçada tanıtılan sanatçı aşağıdakilerden hangisidir?**

- A) Cahit Külebi  
B) Sezai Karakoç  
C) Behçet Necatigil  
D) Asaf Halet Çelebi

6. Aşağıdakilerden hangisi “Yedi Meşaleciler” topluluğunda yer alan sanatçılardan biridir?

- A) Ahmet Hamdi Tanpınar  
B) Ziya Osman Saba  
C) Fazıl Hüsnü Dağlarca  
D) Necip Fazıl Kısakürek

7. Aşağıda verilen bilgilerden hangisi doğrudur?

- A) Ahmet Hamdi Tanpınar, yalnızca şiir yazmış, toplumcu şiirin öncü sanatçılarındandır.  
B) Sembolist şairler toplumsal sorunları ön planda tutmuşlardır.  
C) Öz şiir anlayışındaki Türk şairleri imge yüklü bir dil kullanmışlardır.  
D) Necip Fazıl Kısakürek, bayrak şairi olarak tanınmıştır.

8. Aşağıdaki sanatçı-eser eşleştirmelerinden hangisi yanlıştır?

- A) Cahit Külebi - Hikâye  
B) Ahmet Haşim - Merdiven  
C) Necip Fazıl Kısakürek - Çile  
D) Yahya Kemal Beyatlı - Bursa'da Zaman

## EK SINAV

9. Yedi tepeye kurulmuş  
Pul pul  
Gümüş gümüş balıkları  
Pul pul  
Işıktan sudan örülmüş  
Canım İstanbul

**Bu şiirde işlenen tema aşağıdakilerden hangisidir?**

- A) İstanbul'un güzellikleri  
B) İstanbul'un tarihi  
C) İstanbul'un önemi  
D) İstanbul'un kalabalıklığı

10. Aşağıdakilerden hangisi toplumcu gerçekçi şiir için söylenebilir?

- A) En önemli temsilcisi Sezai Karakoç'tur.  
B) Sembolizm akımından etkilenmişlerdir.  
C) Sanatın sosyal sorunlara çözüm getirmesi gerektiğini savunmuşlardır.  
D) İ. Yeni şiirinden etkilenmişlerdir.

11. Aşağıdaki eser-yazar eşleştirmelerinden hangisi yanlıştır?

- A) Divan - Turgut Uyar  
B) Türkiye Şarkısı - İlhan Berk  
C) Uçurumda Açan - Cemal Süreyya  
D) Kendi Gök Kubbe - Ece Ayhan

12. Aşağıdakilerden hangisi 1940'larda gelişen yeni şiirin temsilcilerinden biri değildir?

- A) Mehmet Akif Ersoy  
B) Behçet Necatigil  
C) Asaf Halet Çelebi  
D) Fazıl Hüsnü Dağlarca

13. Aşağıdakilerden hangisi 1980 sonrası şiirinin özelliklerinden biri değildir?

- A) Şiirin düz yazıya yaklaştırılması  
B) Şehirli kimliğinin ön planda olması  
C) Yapı ve söyleyişe içerikten fazla önem verilmesi  
D) Millî Edebiyat akımının etkisiyle sadece hece ölçüsünün kullanılması

14. Aşağıdaki eserlerden hangisi Cahit Sıtkı Tarancı'ya aittir?

- A) Mutlu Olmak Varken  
B) Otuz Beş Yaş  
C) Han Duvarları  
D) Yeşil Çağ

15. Halk şiiri geleneğine sıkı sıkıya bağlı şairin şiirlerinin çoğu bestelenmiş ve "Dostlar Beni Hatırlasın" adlı kitapta toplanmıştır.

**Bu parçada sözü edilen halk şairimiz aşağıdakilerden hangisidir?**

- A) Şeref Taşlıova  
B) Aşık Veysel  
C) Karacaoğlu  
D) Yaşar Reyhani

16. Aşağıdakilerden hangisi "Yedi Meşaleciler" topluluğunun bir üyesi değildir?

- A) Orhan Seyfi Orhon  
B) Yaşar Nabi Nayır  
C) Ziya Osman Saba  
D) Kenan Hulusi Koray

17. Aşağıdaki eserlerden hangisinin türü diğerlerinden farklıdır?

- A) Kuyucaklı Yusuf  
B) Kara Kitap  
C) Tutunamayanlar  
D) Kocaoğlu

18. 1923-1940 yıllarında kişiliğini bulan şairlerin önemli bir bölümü eserlerinde yurdu sevmeyi, tanıtma ve kalkınmaya yönelik "memleketçi" bir çaba içindedirler.

**Aşağıdaki şairlerden hangisi böyle bir çaba gösterilerek yazılmamıştır?**

- A) Kar (Ahmet Muhip Dıranas)  
B) Bingöl Çobanları (Kemalettin Kamu)  
C) Çoban Çeşmesi (Faruk Nafiz Çamlıbel)  
D) Halay Çeken Kızlar (Ahmet Kutsi Tecer)

19. Millî Edebiyat Dönemi'nde hikâye türünün gelişip yaygınlaşmasını sağlayan yazar aşağıdakilerden hangisidir?

- A) Tomris Uyar  
B) Nezihe Meriç  
C) Ömer Seyfettin  
D) Sait Faik Abasıyanık

20. Aşağıdakilerden hangisi "Memleket Hikâyeleri" adlı eserin yazarıdır?

- A) Ömer Seyfettin  
B) Refik Halit Karay  
C) Sait Faik Abasıyanık  
D) Memduh Şevket Esendal

### (421) FİZİK – 1

1. Doğayı anlama doğal olayların neden ve sonuçlarını öğrenme ve bunları matematiksel metotlarla ifade etme işi aşağıdaki hangi bilim dalı tarafından incelenir?

- A) Matematik B) Fizik  
C) Biyoloji D) Felsefe

2. Aşağıdakilerden hangisi Fizikte Türetilmiş Büyüklük olarak adlandırılır?

- A) Işık şiddeti B) Uzunluk  
C) Sıcaklık D) Hacim

3. Sarkan elektrik tellerinin sarkmasının nedenini inceleyen Fiziğin alt alanı hangisidir?

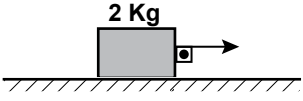
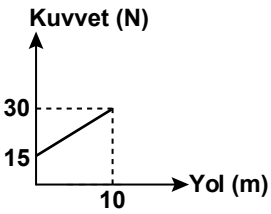
- A) Elektrik  
B) Mekanik  
C) Manyetizma  
D) Termodinamik

4. Bir öğrencinin okula giderken taşıdığı resim dosyası 450 g'dır. Buna göre, bu dosya kaç kg'dır?

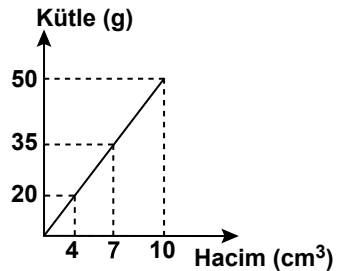
- A) 45 B) 4,5  
C) 0,45 D) 0,045



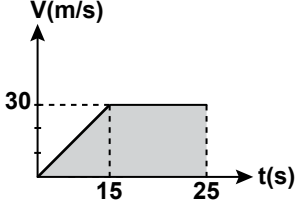
## EK SINAV

5. Aşağıdaki ifadelerden hangisi nitel gözleme örnek olabilir?
- A) Ankara simidi 1 lira  
B) Kışın soğuk havalarda insanlar üşür.  
C) Sınıfın alanı  $20 \text{ m}^2$  ölçülüyor.  
D) 4 Adet elma 1 kg geliyor.
6. Kemal,  $2,5 \text{ kg}$ 'lık demir kutuyu  $80 \text{ cm}$  yükseklikteki raftan alıp yere koyduğunda kaç J'lük iş yapmış olur? ( $g=10 \text{ m/s}^2$ )
- A) 10 B) 15 C) 20 D) 25
7. Birim zamanda yapılan işe güç denir. Aşağıdaki seçeneklerden hangisi güç tanımına ait bağıntı verir?
- A) Yol/Zaman  
B) Kuvvet x Zaman  
C) Yapılan İş/Zaman  
D) Kütle x Zaman
8. Şekildeki  $2 \text{ kg}$ 'lık K cisminde  $40 \text{ N}$ 'luk kuvvet yatay doğrultuda uygulandığında zemin tarafından cisme  $8 \text{ N}$ 'luk sürtünme kuvveti etki ediyor.
- 
- K cismi  $4 \text{ metre}$  yol aldığına göre, net kuvvetin yaptığı iş kaç J'dür?
- A) 128 B) 256 C) 340 D) 400
9. Sürtünmesiz yatay bir düzlemde cismin üzerine etki eden net kuvvetin yola bağlı değişim grafiği şekilde gibidir
- 
- Buna göre, cisme etki eden net kuvvetin  $10 \text{ m}$ 'lik yol boyunca yaptığı iş kaç J'dür?
- A) 450 B) 300 C) 250 D) 225

10. Kütleli  $10 \text{ kg}$  olan tavşan  $8 \text{ m/s}$ 'lik sabit hızla hareket ederken sahip olduğu kinetik enerji kaç J'dür?
- A) 150 B) 320 C) 460 D) 512
11.  $250 \text{ J}$ 'lük enerji harcayan bir tost makinesi,  $200 \text{ J}$ 'lük iş yapıyorsa verimi % kaçtır?
- A) 80 B) 75 C) 50 D) 25
12. Aşağıdaki enerji kaynaklarının hangisinde suyun potansiyel enerjisi kinetik enerjiye, kinetik enerjide elektrik enerjisine dönüşmüştür?
- A) Rüzgar enerjisi  
B) Jeotermal enerji  
C) Biyo-Kütle enerjisi  
D) Hidroelektrik enerji
13. Aşağıdaki büyüklüklerden hangisi vektörel büyüklüktür?
- A) Ağırlık B) Kütle  
C) Zaman D) Enerji
14. Aşağıdakilerden hangisi yenilenebilir enerji kaynaklarındandır?
- A) Jeotermal enerji  
B) Rüzgar enerjisi  
C) Güneş enerjisi  
D) Nükleer enerji
15. Aşağıdakilerin hangisinde ısı yalnızca ışıma yoluyla yayılmıştır?
- A) Güneşin dünyamızı ısıtması  
B) Kaloriferin odamızı ısıtması  
C) Sobaya eli değen çocuğun elinin yanması  
D) Sıcak yemek içindeki kaşığı eline alan kişinin elinin yanması
16. Hafif iki atom çekirdeğin yüksek sıcaklık ve basınç altında ağır çekirdek oluşturmaya ne ad verilir?
- A) Fiziksel değişim  
B) Füzyon  
C) Fisyon  
D) Element

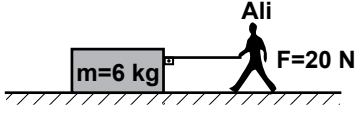
17. Aşağıdakilerden hangisi, fiziksel değişime örnektir?
- A) Ekmeyin küflenmesi  
B) Kömürün yanması  
C) Suyun kaynaması  
D) Gümüşün kararması
18. Sülfürik asit bileşiğinin formülü aşağıdakilerden hangisidir?
- A)  $\text{H}_2\text{SO}_4$  B)  $\text{NaOH}$   
C)  $\text{CO}_2$  D)  $\text{HCl}$
19. Küp şeklindeki katı bir maddenin kütle-hacim grafiği şekilde gibidir.
- 
- Buna göre, küpün  $625 \text{ g}$ 'lık kütlelerinin bir kenarının uzunluğu kaç  $\text{cm}$ 'dir?
- A) 7 B) 5 C) 4 D) 2
20. Yarıçapı  $1 \text{ m}$  yüksekliği  $2 \text{ m}$  olan silindir şeklindeki kaba kaç  $\text{m}^3$  süt doldurulabilir? ( $\pi = 3$  alın.)
- A) 6 B) 4 C) 3 D) 2

### (422) FİZİK – 2

1. Bir bisikletlinin hız zaman grafiği şekilde gibidir.
- 
- Buna göre (0-25) saniye arasındaki bisikletin ortalama hızı kaç  $\text{m/s}$ 'dir?
- A) 20 B) 21  
C) 25,4 D) 28

## EK SINAV

2. Ali, sürtünme katsayısı 0,2 olan bir yüzeyde durmakta olan 6 kg kütleli bir cismi şekildeki gibi 20 N'luk kuvvetle çekiyor.



Buna göre, Ali'nin cisme uyguladığı net kuvvet kaç N'dur? ( $g=10 \text{ N/kg}$ )

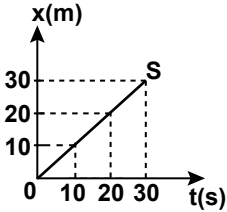
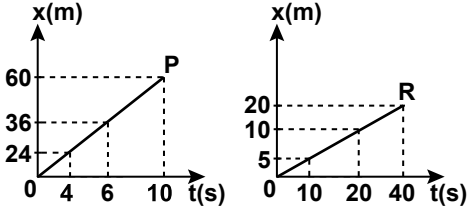
- A) 2 B) 4 C) 6 D) 8

3. Bir otobüs önce batı yönünde 60 km sonra güney yönünde 80 km yol alıyor.

Buna göre otobüsün yer değiştirmesi kaç km'dir?

- A) 100 B) 120 C) 140 D) 160

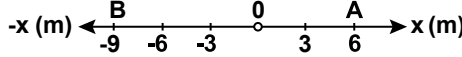
4. Doğrusal bir yolda hareket etmekte olan P, R, S araçlarının konum-zaman grafikleri şekildeki gibidir.



Buna göre araçların hızlarının büyüklükleri  $V_P$ ,  $V_R$ ,  $V_S$  arasındaki ilişki nasıldır?

- A)  $V_R < V_P < V_S$   
B)  $V_P < V_S < V_R$   
C)  $V_R < V_S < V_P$   
D)  $V_P = V_R < V_S$

5. Şekildeki doğrusal yolda O noktasından harekete başlayan karınca önce A noktasına, sonra B noktasına gelerek hareketini 90 saniyede tamamlıyor.



Buna göre karıncanın hızı kaç m/s'dir?

- A) 2 B) 0,2  
C) 0,01 D) 0,1

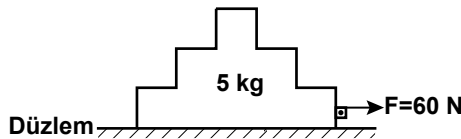
6. Aşağıdakilerden hangisinde sürtünme kuvvetinin özellikleri ile ilgili ifade doğrudur?

- A) Sürtünme kuvvetinin hareket ettirici özelliği vardır.  
B) Sürtünme kuvveti sürtünen yüzeylerin alanına bağlıdır.  
C) Sürtünme kuvveti cisimlerin hareketine karşı koyan bir kuvvettir.  
D) Sürtünme kuvveti sürtünen yüzeylerin cinsine bağlı değildir.

7. Dünya üzerinde duran bir X cismine 160 N'luk çekim kuvveti uygulanmaktadır. Dünyanın kütleli yarıya indirilip yarıçapı iki katına çıkarılırsa X cismine kaç N'luk çekim kuvveti uygulanırdı?

- A) 20 B) 40 C) 160 D) 180

8. Sürtünmesiz bir düzlemde durmakta olan 5 kg'lık cisim şekildeki gibi 60N'luk kuvvetle çekilmektedir.



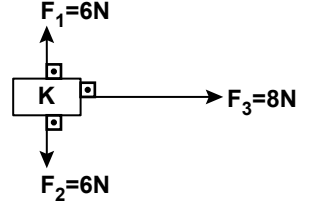
Buna göre cismin ivmesi kaç m/s<sup>2</sup>'dir?

- A) 10 B) 12 C) 20 D) 34

9. Sürat ile ilgili aşağıdaki ifadelerden hangisi doğrudur?

- A) Sürat vektörel bir büyüklüktür.  
B) Hareketin süratini hesaplamak için zamanın bilinmesine gerek yoktur.  
C) Hareketlinin birim zamandaki aldığı yola sürat denir.  
D) Hareketlinin birim zamanda yer değiştirmesine sürat denir.

10. Şekildeki K cismine  $F_1$ ,  $F_2$ ,  $F_3$  kuvvetleri etki etmektedir.



Bu kuvvetlerin etkisinde kalan K cismi hangi yönde kaç N'luk net kuvvet ile hareket eder?

- A)  $F_1$  yönünde 6N  
B)  $F_2$  yönünde 6N  
C)  $F_3$  yönünde 20N  
D)  $F_3$  yönünde 8N

11. Bir iletken telin uzunluğu 3 katına çıkarılıp kesitinin alanı yarıya indirilirse direnci ilk direncinin kaç katı olur?

- A) 4 B) 6 C) 12 D) 24

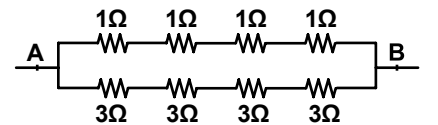
12. Aşağıdakilerden hangisi manyetik kuvvetten yararlanılarak yapılan elektromıknatıslara örnek verilir?

- A) Porselen çaydanlık  
B) Telefon  
C) Plastik bardak  
D) Cam tepsi

13. Mıknatıs aşağıdakilerden hangisini çekmez?

- A) Demir levha parçası  
B) Nikel levha parçası  
C) Tahta parçası  
D) Kobalt levha parçası

14. Şekildeki elektrik devresi dirençleri üzerinde yazılı elemanlardan oluşmaktadır.

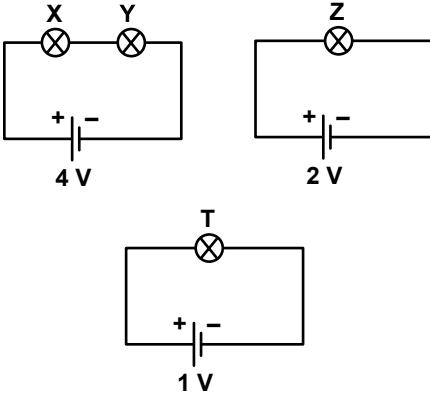


Buna göre A-B noktaları arasındaki eşdeğer direnç kaç ohm'dur?

- A) 1 B) 2 C) 3 D) 4

## EK SINAV

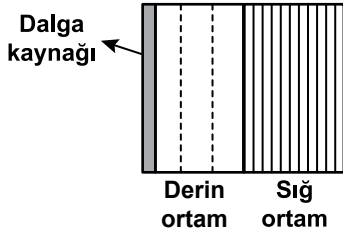
15. Özdeş X, Y, Z, T lambalarından kurulmuş elektrik devreleri şekil-deki gibidir.



Buna göre lambaların parlaklıkları arasındaki ilişki aşağıdakilerden hangisinde doğru verilmiştir?

- A)  $X = Z > Y > T$   
 B)  $X = Y > Z > T$   
 C)  $X > Y > Z > T$   
 D)  $X = Y = Z > T$

16. İçi su dolu bir dalga leğeninde oluşturulan doğrusal dalgaların üstten görünüşü aşağıdaki gibidir.



Buna göre dalgaların sığ ve derin ortamlardaki dalga boyları ile hızlarının büyüklükleri sıralaması aşağıdakilerden hangisinde doğru verilmiştir?

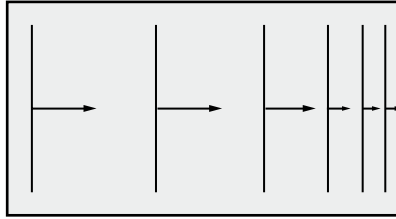
( $\lambda_d$ =Derin ortamdaki dalga boyu,  
 $\lambda_s$ =Sığ ortamdaki dalga boyu,  
 $V_d$ =Derin ortamdaki dalga hızı,  
 $V_s$ =Sığ ortamdaki dalga hızı)

- A)  $V_d > V_s$        $\lambda_d > \lambda_s$   
 B)  $V_d < V_s$        $\lambda_d > \lambda_s$   
 C)  $V_d = V_s$        $\lambda_d > \lambda_s$   
 D)  $V_d > V_s$        $\lambda_d = \lambda_s$

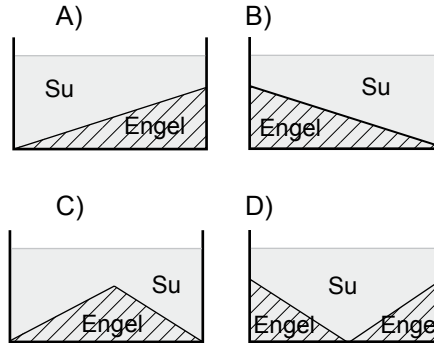
17. Elektrik akımının sembolü ve birimi aşağıdakilerin hangisinde doğru olarak verilmiştir?

|    | SEMBOL | BİRİM   |
|----|--------|---------|
| A) | i      | Amper   |
| B) | R      | ohm     |
| C) | V      | Volt    |
| D) | q      | Coulomb |

18. İçi su dolu bir dalga leğeninde oluşturulan doğrusal dalgaların üstten görünüşü şekil-deki gibidir.



Dalgalar ok yönünde ilerlediğine göre dalga leğeninin yandan görünüşü aşağıdakilerden hangisi olabilir?



19. Aşağıdakilerden hangisi boyuna dalgadır?

- A) Ses dalgaları  
 B) Işık dalgaları  
 C) Mikrodalgalar  
 D) Radyo dalgaları

20. Deprem olduktan sonra açığa çıkan enerji cisim dalgaları ve yüzey dalgaları aracılığıyla ortama yayılır. Cisim dalgaları ile ilgili;

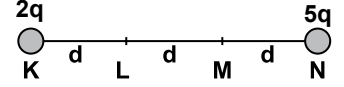
- I- P ve S dalgası olarak yayılır.  
 II- Boyuna dalgalardır.  
 III- Yıkım etkisi büyüktür.

yargılarından hangileri doğrudur?

- A) Yalnız I      B) I ve III  
 C) Yalnız III      D) I, II ve III

## (423) FİZİK – 3

1. Şekildeki sistemde K ve N noktalarına  $2q$  ve  $5q$  yükleri konulmuştur.



Noktalar arası uzaklık eşit olduğuna göre M'deki potansiyel kaç  $\frac{kq}{d}$ 'dir?

- A)  $6 \frac{kq}{d}$       B)  $12 \frac{kq}{d}$   
 C)  $10 \frac{kq}{d}$       D)  $14 \frac{kq}{d}$

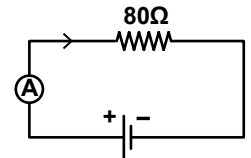
2.  $q=6 \cdot 10^{-6} \text{ C}$  yükü 0,2 m uzaklıktaki L noktasında

Şekildeki  $6 \cdot 10^{-6} \text{ C}$ 'luk yükün 0,2 m uzaklıktaki L noktasında oluşan elektrik alan şiddeti kaç N/C olarak bulunur.

( $k=9 \cdot 10^9 \text{ N} \frac{\text{m}^2}{\text{C}^2}$ )?

- A)  $18 \cdot 10^{-12}$       B)  $\frac{16}{3} 10^8$   
 C)  $\frac{27}{2} 10^5$       D)  $20 \cdot 10^{-5}$

3. Şekildeki devrede direncin değeri  $80 \Omega$ 'dur.



Bu dirençte 2000 joule/s güç harcadığına göre akım şiddeti kaç amperdir?

- A) 30      B) 25      C) 8      D) 5

4. Elektrik yükleri ile ilgili;

- I. İletken bir cisimde (+) yük sayısı (-) yük sayısından fazla ise cisim (-) yüklüdür.  
 II. İletken bir cisimde (+) yük sayısı (-) yük sayısına eşit ise cisim nötr olur.  
 III. Farklı cins elektrik yükleri birbirini çeker.

İfadelerinden hangileri doğrudur?

- A) Yalnız I      B) I ve II  
 C) I ve III      D) II ve III

## EK SINAV

5. Yüklü bir cisim iletken bir telle toprağa bağlanırsa cisim nötr hale gelir.

**Fizikteki bu olaya ne ad verilir?**

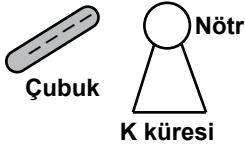
- A) İletkenlik B) Topraklama  
C) Yalıtkanlık D) Elektrostatik

6. Aşağıdaki gruplandırmaların hangisinde iletken ve yalıtkan maddeler doğru verilmiştir?

İLETKEN      YALITKAN

- A) Altın      Gümüş  
B) Bakır      Nikel  
C) Tahta      Cam  
D) Demir      Plastik

7. (-) Yüklü iletken bir çubuk şekildeki gibi yalıtkan ayaklar üzerinde duran nötr K küresine yaklaştırılıyor.



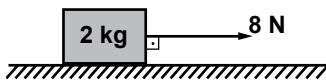
**Buna göre kürenin yük dağılımı aşağıdakilerden hangisi olur?**

- A) B)   
C) D)

8. Aşağıdakilerden hangisi plazmalara örnek verilemez?

- A) Güneş B) Yıldızlar  
C) Ay D) Şimşek

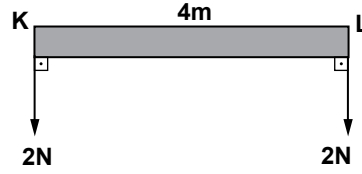
9. Yatay sürtünmesiz düzlemde duran 2 kg kütleli cisme şekildeki kuvvet uygulanıyor.



**Buna göre, cismin kazanacağı ivme kaç  $m/s^2$  olur?**

- A) 1 B) 2 C) 4 D) 8

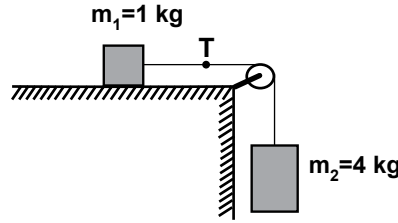
10. Şekildeki kuvvetler, ağırlığı önemsiz 4 metre uzunluğundaki çubuğun K ve L noktalarından uygulanmaktadır.



**Buna göre çubuğun yatay dengede kalabilmesi için K noktasından kaç metre uzaktan asılması gerekir?**

- A) 3 B) 2 C) 1,5 D) 1

11. Sürtünmesi önemsiz şekildeki sistem serbest bırakılıyor.



**Buna göre, ipteki gerilme kuvveti (T) kaç N olur? ( $g = 10 m/s^2$ )**

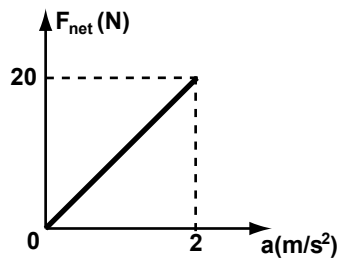
- A) 8 B) 10 C) 12 D) 18

12. Havanın sürtünmesinin önemsenmediği bir yerde 45 metre yükseklikten bir cisim serbest bırakılıyor.

**Buna göre, cisim yere kaç saniyede düşer? ( $g = 10 m/s^2$ )**

- A) 12 B) 9 C) 6 D) 3

13. Hareket eden bir oyuncak arabaya ait net kuvvet, ivme grafiği şekildeki gibidir.



**Buna göre, arabanın kütlesi kaç kg'dır?**

- A) 20 B) 15 C) 10 D) 5

14. Aşağıdakilerden hangisi kuvvet birimi olarak kullanılır?

- A)  $kg \cdot m/s$  B)  $kg \cdot m/s^2$   
C)  $kg \cdot m^2/s$  D)  $kg \cdot s/m$

15. Maddeler üzerinde oluşan elektrikleşme;

- I- sürtünme  
II- dokunma  
III- etki

**olaylarından hangileri ile gerçekleşir?**

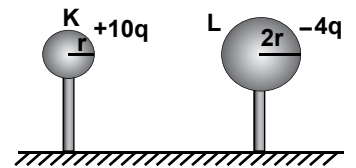
- A) Yalnız I B) I, II ve III  
C) II ve III D) I ve II

16. Cam çubuk ipek kumaşa sürtüldüğünde ikiside elektrikleşmiş olur.

**Buna göre, cam çubuk ve kumaşın elektriksel yük cinsi aşağıdakilerden hangisi olur?**

|    | Çubuk | Kumaş |
|----|-------|-------|
| A) | +     | -     |
| B) | -     | +     |
| C) | +     | +     |
| D) | -     | -     |

17. Şekildeki elektrik yüklü K ve L küreleri yalıtkan saplarından tutularak birbirlerine dokundurulup ayrılıyor.



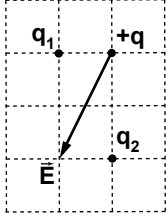
**Buna göre, kürelerden K'nın son yükü kaç q olur?**

- A) 1 B) 2 C) 3 D) 4

## EK SINAV

### (424) FİZİK – 4

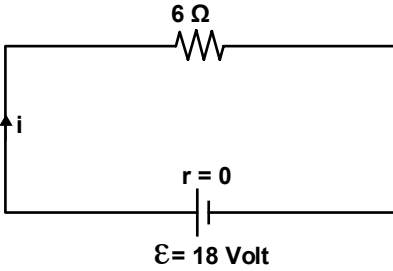
18. Eşit karelere bölünmüş şekildeki yatay düzlemde bulunan  $q_1$  ve  $q_2$  yüklerinin  $+q$  yüküne uyguladığı bileşke elektrik alanı  $\vec{E}$  dir.



$q_2 = -16q$  olduğuna göre,  $q_1$  yükünün değeri aşağıdaki-lerden hangisidir?

- A)  $-2q$       B)  $-4q$   
C)  $-8q$       D)  $-16q$

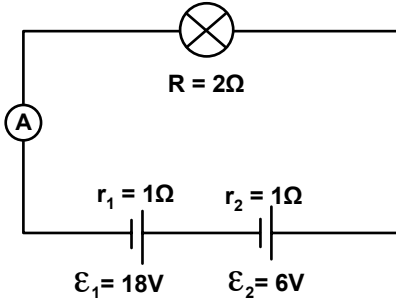
19. Şekildeki elektrik devresinde ana koldan  $i$  akımı geçmektedir.



Buna göre, devre 10 saniye çalıştırılırsa  $6\Omega$  direnç üzerinde açığa çıkan ısı enerjisi kaç J'dür?

- A) 648    B) 600    C) 540    D) 510

20. Elektromotor kuvveti 6 V ve 18 V olan pillerin herbirinin iç direnci  $1\Omega$  dur. Direnci  $2\Omega$  olan lamba devreye şekildeki gibi bağlanıyor.



Buna göre, ampermetre kaç amperi gösterir?

- A) 2    B) 3    C) 4    D) 6

#### 1. Fiziğin alt alanlarından ;

- I. Mekanik  
II. Isı  
III. Elektromanyetizma  
IV. Kuantum teorisi

Hangileri klasik fiziğin alt alanıdır?

- A) I ve II      B) I, II ve III  
C) II, III ve IV    D) I, III ve IV

2. I. Işık fotonlardan oluşmuştur.  
II. Fotonlar ışık hızı ile hareket eder.  
III. Işık yayılırken hem dalga hem de tanecik özelliği gösterir.

Işığın yapısı ile ilgili yukarıdaki ifadelerden hangileri doğrudur?

- A) Yalnız I      B) Yalnız II  
C) I ve II      D) I, II ve III

3. Işığın havadaki hızı yaklaşık olarak aşağıdakilerden hangisidir?

- A)  $3 \cdot 10^5$  km/s    B)  $3 \cdot 10^8$  km/s  
C)  $3 \cdot 10^{10}$  km/s    D)  $3 \cdot 10^{12}$  km/s

4. Tarihte atomun yapısı ile ilgili ilk görüşleri ortaya koyan bilim insanı aşağıdakilerden hangisidir?

- A) Democritus  
B) John Dalton  
C) J. Joseph Thomson  
D) Ernest Rutherford

#### 5. Atomla ilgili;

- I. Atom çekirdeği hacim olarak küçük kütle olarak büyüktür.  
II. Atomun çekirdeğinde proton ve nötronlar bulunur.  
III. Atomda elektronlar çekirdek çevresindeki katmanlarda bulunur.

İfadelerinden hangileri doğrudur?

- A) I ve II      B) II ve III  
C) I, II ve III    D) I ve III

6. Aşağıdakilerden hangisi elektromanyetik ışımanın özelliklerinden biridir?

- A) Elektromanyetik ışıma dalga ve tanecik özelliği göstermez.  
B) Elektromanyetik ışıma en güzel örnek güneş ışığıdır.  
C) Elektromanyetik ışıma enerji yoktur.  
D) Elektromanyetik ışıma kırınım olayı gerçekleşmez.

7. Dalga boyu  $3,31 \cdot 10^{-10}$  m olan dalganın enerjisi kaç J'dür ( $h \cdot c = 19,86 \cdot 10^{-26}$  j.m)

- A)  $10^{-14}$       B)  $2 \cdot 10^{-16}$   
C)  $3 \cdot 10^{-14}$     D)  $6 \cdot 10^{-16}$

8. Bir olayı gözleyen hareketsiz gözlemcinin zaman ölçümü 60 saniyedir.

Zaman genişleme katsayısı 2 olduğuna göre hareketli bir gözlemci bu olayı kaç dakika olarak ölçer?

- A) 2    B) 4    C) 6    D) 8

9. Kütleli m olan X çekirdeği parçalandığında  $0,01$  kg'lık kütle kaybediyor. Bu kütle enerjiye dönüştüğüne göre ortaya çıkan enerji kaç J'dür? ( $C = 3 \cdot 10^8$  m/s)

- A)  $10^{14}$       B)  $3 \cdot 10^{14}$   
C)  $6 \cdot 10^{14}$     D)  $9 \cdot 10^{14}$

10. Elektromanyetik ışıma ile bir metal yüzeyden elektron koparılması olayına ne ad verilir?

- A) Manyetik alan  
B) Fotoelektrik olay  
C) Görelilik  
D) Foto elektron

11. Yay üzerinde oluşturulan bir dalganın frekansı  $5 \text{ sn}^{-1}$  olduğuna göre bu dalganın periyodu kaç saniyedir?

- A) 2,5    B) 2    C) 1    D) 0,2

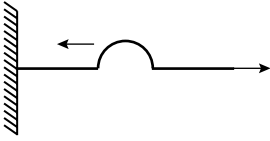
## EK SINAV

12. Derinliği her yerde aynı olan bir dalga leğeninde periyodik dalgalar üretiliyor. Ardı ardına gelen 6 dalga tepesi arasındaki uzaklık 50 cm'dir.

**Kaynağın frekansı  $\frac{1}{2} \text{ s}^{-1}$  olduğuna göre dalgaların yayılma hızı kaç cm/s'dir?**

A) 2 B) 4 C) 5 D) 10

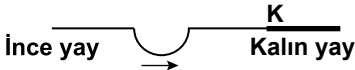
13. Bir yay 50 N'luk kuvvet ile gerilip bırakıldığında şekildeki gibi bir dalga oluşturuluyor.



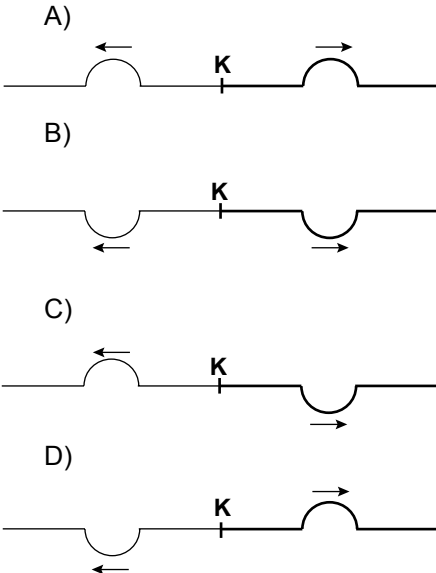
**Yayın birim uzunluğunun kütlesi 0,5 kg/m olduğuna göre dalga yayılma hızı kaç m/s olur?**

A) 5 B) 10 C) 25 D) 250

14. İnce yaydan kalın yaya ilerleyen bir atmanın anlık görüntüsü şekildeki gibidir.



**Buna göre K noktasında kalın yaya iletilen ve ince yaydan yansıyan atmaların görünümü aşağıdakilerden hangisi gibi olur?**



15. Boyu 14 m olan tel üzerinde dalga boyu 2 m olan dalgalar üretiliyor.

**Buna göre, tel üzerinde kaç harmonik oluşur?**

A) 14 B) 12 C) 10 D) 8

16. Bir dalga leğeninde dalga oluşturan kaynağın periyodu düzgün olarak arttırılırsa aşağıdakilerden hangisi azalır?

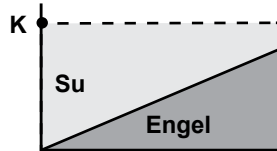
A) Dalgaların dalga boyu  
B) Dalgaların genliği  
C) Dalgaların frekansı  
D) Dalgaların hızı

17. Durgun kütlesi m olan bir parçacık  $V=0,6 c$  hızı ile hareket ediyor.

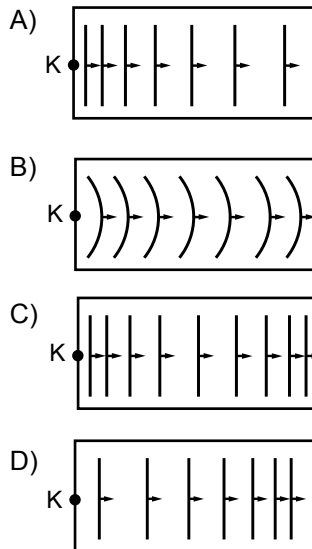
**Buna göre hareket eden parçacığın kinetik enerjisi kaç  $mc^2$ 'dir?**

A) 0,25 B) 0,50  
C) 0,75 D) 1

18. Şekildeki su dolu dalga leğeninin K noktasındaki kaynaktan doğru sal dalgalar gönderiliyor.



**Buna göre K'den yayılan dalgaların üstten görünüşü aşağıdakilerden hangisi gibi olabilir?**



19. Sığ ortamdaki 37°'lik gelme açısıyla gelen su dalgaları, derin ortama 53°'lik kırılma açısıyla geçiyor.

**Bu dalgaların sığ ortamdaki hızı 3 m/s olduğuna göre derin ortamdaki hızı kaç m/s'dir? (sin 53°= 0,8, sin 37°= 0,6)**

A) 4 B) 3 C) 2 D) 1

20. Derinliği her yerde aynı olan bir dalga leğeninde aynı fazda çalışan  $K_1$  ve  $K_2$  dalga kaynakları 7 cm dalga boylu dalgalar yayıyor. Bu dalgaların girişim desenindeki bir P noktasının kaynaklara olan uzaklığı  $PK_1 = 28 \text{ cm}$  ve  $PK_2 = 42 \text{ cm}$ 'dir.

**Buna göre, bu P noktası hangi girişim çizgisi üzerindedir?**

A) 2. düğüm çizgisi  
B) 2. dalga katarı  
C) 3. dalga katarı  
D) 3. düğüm çizgisi

### (431) KİMYA – 1

#### 1. Simya, genel olarak;

- I. Atom altı tanecikleri bulma,
- II. Sonsuz hayat iksirini üretme,
- III. Değersiz madenlerden altın elde etme

**çalışmalarından hangileri ile uğraşır?**

A) Yalnız I B) Yalnız III  
C) I ve II D) II ve III

#### 2. Bir elementin atomlarıyla ilgili aşağıdakilerden hangisi kesinlikle doğrudur?

- A) Nötron sayıları aynıdır.
- B) Proton sayıları aynıdır.
- C) Atom numaraları farklıdır.
- D) Elektron sayıları farklıdır.



## EK SINAV

3. "X ve Y maddelerinden, XY bileşiği oluşuyor. Oluşan bileşiğin kütlesi, başlangıçtaki X ve Y'nin kütlelerinin toplamına eşittir."

**Verilen bilgi, aşağıdaki kanunlardan hangisinin açıklamasında örnek olarak kullanılır?**

- A) Katlı oranlar kanunu  
B) Sabit oranlar kanunu  
C) Kütle korunumu kanunu  
D) Sabit hacim oranları kanunu

4.  $N_2$  ve  $O_2$  elementlerinden 120 gram NO bileşiği elde ediliyor. NO'nun 64 gramı oksijen olduğuna göre, bileşikteki N/O kütlece birleşme oranı kaçtır?

- A)  $\frac{7}{8}$  B) 1 C)  $\frac{8}{7}$  D)  $\frac{15}{8}$

5. Öğrenci özdeş cam kaplarda bulunan aynı miktardaki K, L, M sıvılarından M'nin önce, L'nin ise en son buharlaştığını gözlemliyor.

**Bu maddelerin tanecikleri arasındaki bağların sağlamlıklarına göre sıralanışı hangisidir?**

- A)  $M < L < K$  B)  $M < K < L$   
C)  $L < M < K$  D)  $L < K < M$

6.  $CO_2$  bileşiğindeki  $\frac{C}{O_2}$  kütlece birleşme oranı  $\frac{3}{8}$ 'dir.

**Buna göre 12 gram C'un yeterince  $O_2$  ile tepkimesinden kaç gram  $CO_2$  elde edilir?**

- A) 24 B) 36 C) 44 D) 56

7.  $CH_3 - OH$  bileşiği aşağıdakilerden hangisi ile aynı organik bileşik grubundandır?

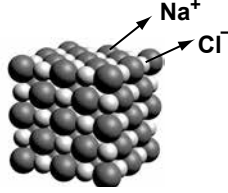
- A)  $CH_2 = CH_2$   
B)  $CH_3CH_2 - OH$   
C)  $CH_2 - COOH$   
|  
 $NH_2$   
D)  $CH_3CH_2 - COOH$

8. Lewis formülleri  $\cdot\ddot{O}\cdot$  ve  $H\cdot$  şeklinde olan atomlar,  $H_2O$  bileşiğini oluşturuyor.

**Bu bileşikle ilgili aşağıdakilerden hangisi doğrudur?**

- A) Merkez atom H'dir.  
B)  $H_2O$  molekülü apolardır.  
C)  $H - O$  bağı polar kovalenttir.  
D)  $H_2O$  molekülü çizgisel bir geometriye sahiptir.

9.



**Yukarıda kristal örgü yapısı verilen bileşik ile ilgili,**

- I. İyonik yapılı bir bileşiktir.  
II. Yapısında  $Na^+$  ve  $Cl^-$  olmak üzere iki farklı iyon vardır.  
III. Sulu çözeltisi elektrik akımını iletir.

**yargılarından hangileri doğrudur? ( $_{11}Na$ ,  $_{17}Cl$ )**

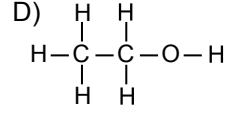
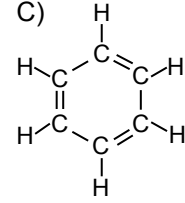
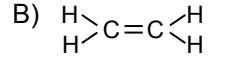
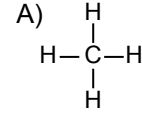
- A) Yalnız I B) I ve II  
C) II ve III D) I, II ve III

10. Bir atom bileşik oluştururken elektron dizilimini  $_{10}Ne$  atomunun elektron dizilimine benzetiyor.

**Bu değişim sırasında, atomda aşağıdakilerden hangisi gerçekleşmiştir?**

- A) Oktet kuralına uymuştur.  
B) Dublet kuralına uymuştur.  
C) Son katmanındaki elektron sayısı 2 olmuştur.  
D) Son katmanındaki elektron sayısı 10 olmuştur.

11. Su polar bir çözücüdür. Buna göre, aşağıda açık formülü verilen bileşiklerden hangisi suda çözünür?



12. H, O ve N atomlarının Lewis yapıları verilmiştir:



**Buna göre, hangi atom üçlü kovalent bağ oluşturabilir?**

- A) Yalnız H B) Yalnız N  
C) H ve O D) O ve N

13. Modeli şeklinde olan molekül için aşağıdakilerden hangisi doğrudur?

- A) Apolar maddelerde çözünür.  
B) Tek tür atom içerir.  
C) İyonik bağ içerir.  
D) Polar yapıdadır.

14. Yarı açık formülleri verilen aşağıdaki bileşiklerden hangisi organik bileşik değildir?

- A)  $O = C = O$  B)  $CH_2 = CH_2$   
C)  $CH \equiv CH$  D)  $CH_3 - OH$

15. Bir tane küp şekere aşağıdaki işlemlerin hangisi uygulandığında, şeker kimyasal değişim geçirir?

- A) Su içine atılarak karıştırılırsa  
B) Kırılarak iki parçaya bölünürse  
C) Ezilerek toz hâline getirilirse  
D) Bir ısı kaynağı ile yakılırsa

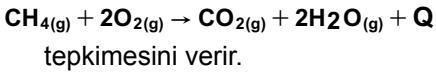
## EK SINAV

16.  $N_2$  gazı normal sıcaklıkta  $O_2$  gazı ile tepkime vermez. Oysa yüksek sıcaklıklarda bu tepkime gerçekleşir.

**Verilen ifadede, maddelerin kimyasal özelliği ile ilgili aşağıdaki sonuçlardan hangisine ulaşılabılır?**

- A) Maddeler her koşulda tepkimeye girebilir.  
B) Her maddenin kendine has kimyasal özelliği vardır.  
C) Bir maddenin kimyasal özelliği koşullara bağlıdır.  
D) Maddelerin tepkimeye girme isteği farklıdır.

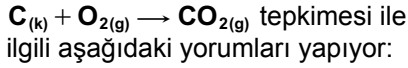
17. Metan gazı, oksijen gazı ile



**Bu tepkime ile ilgili aşağıdakilerden hangisi yanlıştır?**

- A) Endotermik tepkimedir.  
B) Ekzotermik tepkimedir.  
C) Yanma tepkimesidir.  
D) Isı açığa çıkar.

18. Bir öğrenci,

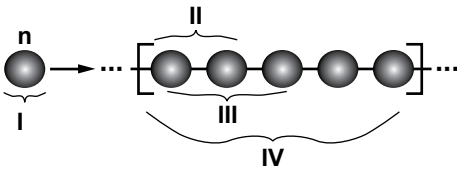


- I-  $CO_2$  çökmüştür.  
II- Yük toplamı sıfırdır.  
III- Yanma tepkimesidir.  
IV- Yükseltgenme - indirgenme tepkimesidir.

**Bu yorumlardan hangileri doğrudur?**

- A) I ve II  
B) III ve IV  
C) I, II ve III  
D) II, III ve IV

19. Polimerleşme tepkimesi ile ilgili şema aşağıda verilmiştir.



**Bu şemadaki numaralandırılmış kısımlar ile ilgili aşağıdaki açıklamalardan hangisi doğrudur?**

- A) I, dimerdir.  
B) II, trimerdir.  
C) IV, polimerdir.  
D) III, monomerdir.

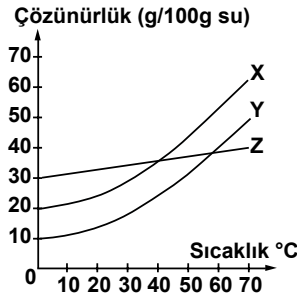
20. "Besinler aracılığı ile vücuda alınan nişasta ve protein gibi maddeler polimerdir. Bu maddeler sindirim sırasında ? tepkimesi ile daha küçük moleküllere parçalanır."

**Metinde, soru işareti (?) yerine aşağıdakilerden hangisi yazılırsa verilen bilgi doğru olur?**

- A) Plastik  
B) Hidroliz  
C) Polimerleşme  
D) Fiziksel değişme

### (432) KİMYA – 2

1. X, Y, Z maddelerine ait çözünürlük - sıcaklık grafiği verilmiştir.

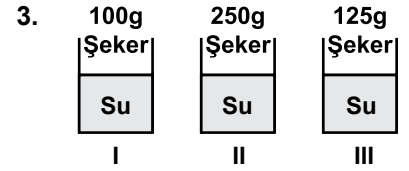


**Grafiğe göre, bu maddelerin çözünürlükleriyle ilgili aşağıdakilerden hangisi doğrudur?**

- A) 0 °C'ta Y'nin çözünürlüğü en fazladır.  
B) X ve Y ısı alarak, Z ısı vererek çözünür.  
C) 50 °C'ta çözünürlüğü en fazla olan X'tir.  
D) X, Y ve Z kesinlikle gaz maddelerdir.

2. Sulu çözelti kullanılarak hazırlanan bir elektrik devresi çalışıyorsa, bu devrede elektrolit olarak kullanılan madde aşağıdakilerden hangisi olabilir?

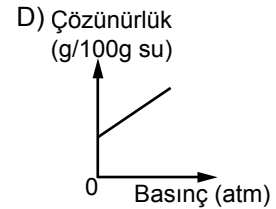
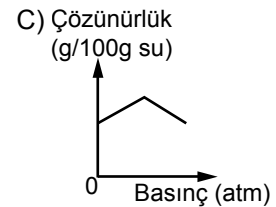
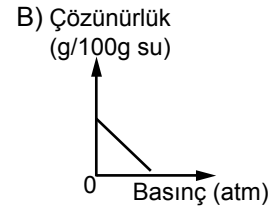
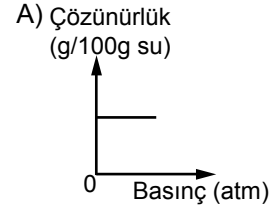
- A) Karbon dioksit  
B) Etil alkol  
C) Şeker  
D) Yemek tuzu



**Aynı miktarda su kullanılarak hazırlanan yukarıdaki çözeltilerin, seyreltikten derişğe doğru sıralaması hangisinde doğru verilmiştir?**

- A) I - II - III  
B) I - III - II  
C) II - III - I  
D) II - I - III

4.  $H_2$  gazının 20 °C'ta, sudaki çözünürlüğünün basınçla değişimini gösteren grafik aşağıdakilerden hangisi olabilir?



5. Aşağıdakilerden hangisi, tane-cik boyutu farkından yararlanarak karışımları ayırmada kullanılan yöntemlerden biridir?

- A) Eleme  
B) Yüzdürme  
C) Aktarma  
D) Damıtma



## EK SINAV

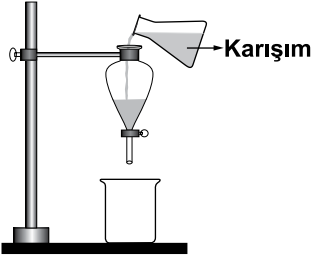
6. Bir katının sıvı içinde dağılmasıyla oluşan karışım, süzme işlemi ile bileşenlerine ayrılıyor. Buna göre, karışım ile ilgili aşağıdakilerden hangisi doğrudur?

- A) Homojendir.
- B) Heterojendir.
- C) Saf maddedir.
- D) Katı, sıvıda çözünmüştür.

7. Aşağıdaki karışımlardan hangisi eleme yöntemi uygulanarak ayrılır?

- A) Su - Tuz
- B) Tuz - Pirinç
- C) Su - Demir tozu
- D) Tuz - Zeytinyağı

8. X ve Y maddelerinden oluşan bir sıvı karışım, şekildeki gibi ayırma hunisine konuluyor.



Bir süre bekletildikten sonra ayırma hunisinin musluğu açılıyor ve Y maddesi ayrılıyor.

Buna göre, X ve Y maddeleri ile ilgili aşağıdakilerden hangisi kesinlikle söylenebilir?

- A) Y sıvısı çözücü, X sıvısı çözünenidir.
- B) Y'nin kaynama sıcaklığı X'inkinden küçüktür.
- C) Y'nin yoğunluğu X'in yoğunluğundan büyüktür.
- D) Y ve X sıvısının miktarları eşittir.

9. Suda pişirilen makarna hangi ayırma yöntemi ile sudan ayrılır?

- A) Ayıklama
- B) Damıtma
- C) Eleme
- D) Süzme

10. Buharlaştırma işlemi, aşağıdaki hangi karışımları ayırmada kullanılır?

- A) Homojen sıvı - sıvı
- B) Homojen sıvı - katı
- C) Heterojen katı - katı
- D) Heterojen sıvı - sıvı

11. Sabunun formülü aşağıdakilerden hangisidir?

- A) NaOH
- B) NaClO
- C)  $C_{17}H_{35}COO^-Na^+$
- D)  $Na_2CO_3$

12. Sabunun yapısında bulunan kısımlar aşağıdakilerin hangisinde doğru verilmiştir?

- A) Hidrofil, hidrofob
- B) Hidrofil, polar
- C) Hidrofob, apolar
- D) Polar, polar

13. Oksidasyon tepkimesi (yükseltgenme) yoluyla bir maddeyi beyazlatan veya ağartan, onun rengini çıkartan kimyasal madde aşağıdakilerden hangisidir?

- A) Çamaşır suyu
- B) Beyaz sabun
- C) Arap sabunu
- D) Deterjan

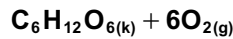
14.  $CaCO_{3(k)} + ısı \rightarrow CaO_{(k)} + CO_{2(g)}$  tepkimesi aşağıdaki hangi olaya aittir?

- A) Seramik eldesi
- B) Harcın sertleşmesi
- C) Sönmüş kireç eldesi
- D) Sönmemiş kireç eldesi

15. Kumun, soda ve kireçle yüksek sıcaklıkta karıştırılıp eritilmesiyle oluşturulan madde aşağıdakilerden hangisidir?

- A) Cam
- B) Beton
- C) Sabun
- D) Deterjan

16.  $6CO_{2(g)} + 6H_2O_{(s)} \xrightarrow[\text{klorofil}]{\text{ışık enerjisi}}$



tepkimesi aşağıdaki olaylardan hangisine aittir?

- A) Sindirim
- B) Solunum
- C) Fotosentez
- D) Çözünme

17. Karbonhidratlar için aşağıdakilerden hangisi söylenemez?

- A) Karbonhidratlar bitkiler tarafından fotosentez yolu ile üretilir.
- B) Moleküllerinde C, H ve O atomları bulunur.
- C) Sindirimi midede tamamlanır.
- D) En temel bileşiği glikozdur.

18. Aşağıdaki karbonhidratlardan hangisi sindirim sistemimizde sindirilmeden doğrudan kana geçer?

- A) Maltoz
- B) Glikoz
- C) Nişasta
- D) Selüloz

19. Havada bulunan  $CO_2$  miktarı her yıl artmaktadır.

Bu durum aşağıdakilerden hangisinin gerçekleştiğini gösterir?

- A) Fosil yakıt kullanımının arttığını
- B) Doğadaki yeşil bitkilerin arttığını
- C)  $O_2$  ve  $CO_2$  dengesinin korun-duğunu
- D) Bitkilerin daha fazla fotosentez yaptığını

20. Aşağıda verilenlerden hangisi çevreye zararlı maddelerden değildir?

- A) Ağır metaller
- B) Tarım ilaçları
- C) Sanayi atıkları
- D) Çürümüş sebze ve meyveler

(433) KİMYA – 3

1. Aşağıdakilerden hangisi M. Faraday'ın elektroliz deneylerinden elde ettiği sonuçlardan biri değildir?

- A) Elektrik, taneciklerden oluşur.
- B) Elektrik yükleri manyetik alanda sapar.
- C) Elektrik yükü miktarı arttıkça elde edilen maddenin kütlesi artar.
- D) Elektrik yükleri, maddenin yapısındaki tanecikler tarafından taşınır.

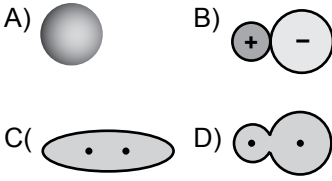


## EK SINAV

19.  $C_{(k)} + O_{2(g)} \rightarrow CO_{2(g)} + 394 \text{ kJ/mol}$  tepkimesinde atomlar arasında oluşan bağ ile ilgili aşağıdaki-lerden hangisi doğrudur?

A) Zayıf etkileşimdir.  
B) Güçlü etkileşimdir.  
C) Hidrojen bağıdır.  
D) Metalik bağıdır.

20. Apolar kovalent karakterli kimyasal bağ içeren bir molekülün elektron yoğunluğunu gösteren model aşağıdakilerin hangisinin- deki gibi olabilir?



### (434) KİMYA – 4

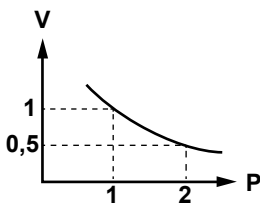
1. Aşağıdakilerden hangisi mad- denin gaz halinin bir özelliği değildir?

A) Bulunduğu kabın tamamını doldurması  
B) Tanecikleri arasında büyük boşluklar bulunması  
C) Bulunduğu ortamda yayılması  
D) Düzenli yapıda olması

2. Aynı sıcaklıktaki X gazının ya- yılma hızı,  $SO_2$  gazının yayılma hızının 4 katıdır. Buna göre, X gazının mol kütlesi aşağı- dakilerden hangisidir? ( $O=16, S=32 \text{ g/mol}$ )

A) 64 B) 32 C) 16 D) 4

3. Boyle kanununa göre, gazlarda basınç-hacim ilişkisini gösteren grafik aşağıdaki gibidir.



Bu grafik elde edilirken gazlarla ilgili hangi nicelikler sabit tutul- muştur?

A) V, n B) T, n  
C) P, V D) P, n

4. “Sabit basınç ve sıcaklıkta bütün gazların eşit hacimlerinde eşit sa- yıda molekül (gaz tek atomlu ise atom) vardır.”

ifadesi aşağıdaki kanunlardan hangisine aittir?

A) Boyle Kanunu  
B) Charles Kanunu  
C) Avogadro Kanunu  
D) Kısmi Basınçlar Kanunu

5. Gerçek gazlar aşağıdaki hangi durumda ideallikten saparlar?

A) Düşük basınçta  
B) Yüksek sıcaklıkta  
C) Molekül hacimleri arttıkça  
D) Moleküller arası çekim kuvvet- leri azaldıkça

6. Bir gaz karışımında 0,4 mol  $CH_4$  ve 0,8 mol  $C_2H_6$  gazı bulunmak- tadır. Gazların yaptığı toplam basınç 6 atm olduğuna göre,  $CH_4$  ve  $C_2H_6$  gazlarının kısmi basınçları kaç atmosferdir?

|    | $CH_4$ | $C_2H_6$ |
|----|--------|----------|
| A) | 2      | 4        |
| B) | 4      | 2        |
| C) | 3      | 3        |
| D) | 6      | 6        |

7. Kuru havada aşağıdaki gazlar- dan hangisi bulunmaz?

A) Su buharı B) Oksijen  
C) Argon D) Azot

8. Tabloda bazı gazların yoğuşma sıcaklığı verilmiştir.

| Gazlar | Yoğuşma Sıcaklığı ( $^{\circ}C$ ) |
|--------|-----------------------------------|
| $H_2O$ | 100                               |
| $SO_2$ | -10                               |
| $CO_2$ | -78                               |
| $O_2$  | -183                              |

Yoğuşma sıcaklıklarına bakıla- rak hangi gazın molekülleri ara- sındaki etkileşim kuvvetlerinin en güçlü olduğu söylenebilir?

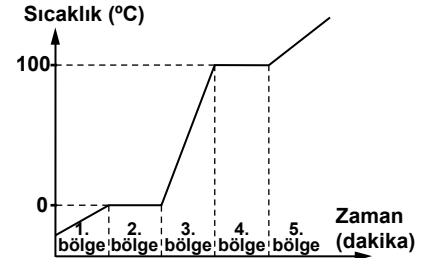
A)  $SO_2$  B)  $CO_2$   
C)  $H_2O$  D)  $O_2$

9. Sıvı molekülleri ile bir yüzeyin molekülleri arasındaki kuvvetlere adhezyon kuvvetler; sıvıyı oluşturan moleküller arasındaki kuvvet- lere kohezyon kuvvetler denir.

Buna göre, aşağıda verilen olayların hangisinde sıvının kohezyon kuvvetleri adhezyon kuvvetlerinden daha büyüktür?

A) Otomobil üzerine dökülen suyun yayılmadan damlalar halinde kalması  
B) Kağıt peçetenin sıvı maddeyi çekmesi  
C) Ağaçların köklerinden yaprak- larına kadar suyun taşınması  
D) Çikolatanın bisküvi üzerinde yayılması

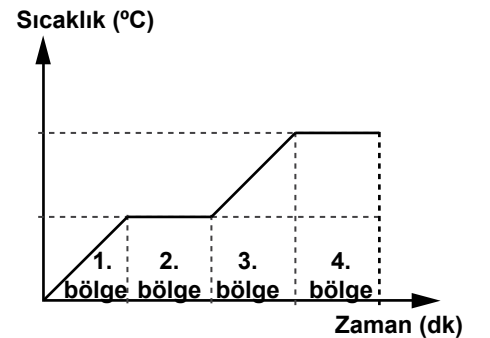
10. Saf bir katı maddenin ısıtılmasına ait sıcaklık - zaman grafiği verilmiştir.



Grafiğe göre, aşağıdakilerden hangisi yanlıştır?

A) 1. bölgede maddenin tamamı katı hâldedir.  
B) 2. bölgede maddenin tamamı sıvı hâldedir.  
C) 2. ve 4. bölgelerde maddenin sıcaklığı sabit kalır.  
D) 3. ve 5. bölgelerde maddenin sıcaklığı artar.

11. Saf bir katı maddenin ısıtılmasına ait sıcaklık-zaman grafiği veril- miştir:



Grafiğe göre, maddenin tamamı hangi bölgede sıvı hâldedir?

A) 4. B) 3. C) 2. D) 1.

## EK SINAV

12. Aşağıdaki hangi kristal katının tanecikleri arasında zayıf etkileşim türleri bulunur?

- A) İyonik B) Metalik  
C) Kovalent D) Moleküler

13. 120 g suda 30 g tuzun çözünmesiyle hazırlanan çözelti kütlece yüzde kaçlıktır?

- A) 33 B) 30 C) 20 D) 15

14. Molarite: ...I... çözünen maddenin mol sayısıdır.

Molalite: ...II... çözünen maddenin mol sayısıdır.

Molarite ve molalitenin tanımına göre I ve II nolu yere aşağıdakilerden hangisi gelmelidir?

- | I                   | II               |
|---------------------|------------------|
| A) 100 mL çözeltide | 1 kg çözücüde    |
| B) 1 L çözeltide    | 1 kg çözücüde    |
| C) 100 g çözücüde   | 100 mL çözeltide |
| D) 1 L çözeltide    | 1 kg çözeltide   |

15. Aşağıdakilerden hangisi bir gaz maddenin sudaki çözünürlüğünü artırır?

- A) Maddeyi toz hâline getirmek  
B) Çözücü eklemek  
C) Sıcaklığı düşürmek  
D) Karıştırmak

16. Çözeltilerde bazı fiziksel özellikler çözünen taneciklerin sayısına bağlıdır.

Buna göre, aşağıdaki özelliklerden hangisi tanecik sayısına bağlı değildir?

- A) Çözünürlük  
B) Osmotik basınç  
C) Buhar basıncı düşmesi  
D) Donma sıcaklığı düşmesi

17. Çözeltilerdeki koligatif özellikler aşağıdakilerden hangisine bağlıdır?

- A) Derişime  
B) Taneciğin türüne  
C) Kimyasal özelliğe  
D) Taneciğin büyüklüğüne

18. Kışın yollarda buzlanmayı önlemek için tuzlama çalışması yapılır. Bu çalışma aşağıdaki hangi koligatif özellik ile ilgilidir?

- A) Osmotik basınç  
B) Buhar basıncı düşmesi  
C) Donma sıcaklığı düşmesi  
D) Kaynama sıcaklığı yükselmesi

19. Aşağıdakilerden hangisi homojen karışımdır?

- A) Koloit B) Süspansiyon  
C) Aerosol D) Çözelti

20. I- Işığı saçar. Bileşenleri süzülerek ayrılır.  
II- Işığı saçmaz. Bileşenleri süzülerek ayrılmaz.

Özellikleri verilen karışımların türleri aşağıdakilerin hangisinde doğru verilmiştir?

- | I              | II          |
|----------------|-------------|
| A) Koloit      | Çözelti     |
| B) Koloit      | Süspansiyon |
| C) Süspansiyon | Koloit      |
| D) Süspansiyon | Çözelti     |

### (441) BİYOLOJİ – 1

1. Aşağıdakilerden hangisi nitel bir gözlemdir?

- A) Ahmet'in vücut sıcaklığı 37 °C olarak ölçüldü.  
B) Çorba çok sıcaktı ağızım yandı.  
C) Bizim ev 140 m<sup>2</sup>, 3 oda 1 salon.  
D) Günde 1.5 km yürüyüş yapıyorum.

2. I. Deneylerin kurulması ve kontrolü  
II. Hipotezin ortaya konması  
III. Problemin tanımlanması

Yukarıda verilen bilimsel süreçte yapılacak işlerin öncelik sıralaması hangisidir?

- A) I - II - III B) II - III - I  
C) III - II - I D) III - I - II

3. Aşağıdakilerden hangisi biyolojinin alt bilim dallarından olan restorasyon ekolojisi çalışmasıdır?

- A) Şehirlere parklar ve bahçeler kurma  
B) Bozulmuş ekosistemleri doğal koşullarına geri döndürme  
C) Hidroelektrik santraller kurma  
D) Canlılar arasında gen aktarımı

4. Hayvanlarda metabolizma sonucu oluşan zararlı atıkların seyreltilerek vücuttan atılması, suyun hangi özelliği ile gerçekleştirilir?

- A) Molekülleri arasında çekim kuvveti olması  
B) Buharlaşıma ve yoğunlaşma özelliği  
C) Öz ısının yüksek olması  
D) Çözücü özelliği

5. Aşağıdakilerden hangisi mineraller için yanlış bir bilgidir?

- A) Enerji kaynağı olarak kullanılırlar.  
B) 70 kg'lık bir insanda ortalama 3 kg mineral bulunur.  
C) Suda çözünmüş olarak veya yiyeceklerle vücudumuza alınırlar.  
D) Enzimlerin yapısına kofaktör olarak katılıp, düzenleyici olarak kullanılırlar.

6. Aşağıdakilerden hangisinin pH'ı diğerlerine göre en yüksektir?

- A) Deniz suyu B) Şampuan  
C) Amonyak D) Mide özsu

7. Aşağıdaki karbonhidratlardan hangisi monosakkaritler grubunda yer alır?

- A) Maltoz B) Glikojen  
C) Galaktoz D) Sakkaroz

8. Canlılarda hemoglobin ve bazı pigmentlerin yapısına katılan mineral hangisidir?

- A) Kalsiyum (Ca)  
B) Demir (Fe)  
C) Fosfor (P)  
D) İyot (I)

## EK SINAV

(442) BİYOLOJİ – 2

9. Bitkilerin hücre çeperini oluşturan polisakkarit aşağıdakilerden hangisidir?

- A) Kitin                      B) Nişasta  
C) Glikojen                  D) Selüloz

10. Bitkisel kaynaklı doymamış yağların hidrojenle doyurulup katılaştırılmasıyla oluşan yağ aşağıdakilerden hangisidir?

- A) Zeytinyağı              B) İç yağ  
C) Margarin                D) Tereyağı

11. Vücutta kalsiyum ile fosforun emilmesini ve kemiklerde depo edilmesini sağlayan, eksikliğinde dişlerde ve kemiklerde bozukluklar görülen vitamin aşağıdakilerden hangisidir?

- A) A      B) B      C) C      D) D

12. Aşağıda enzimlerle ilgili verilen bilgilerden hangisi yanlıştır?

- A) Bir enzim her çeşit reaksiyona etki eder.  
B) Bazı enzimler tersinir ( çift yönlü) çalışırlar.  
C) Enzim-substrat ilişkisi anahtar kilit uyumuna benzer.  
D) Enzim, substrata geçici olarak aktif bölgesinden bağlanır.

13. Aşağıdaki azotlu organik bazlardan hangisi sadece DNA'nın yapısında bulunur?

- A) Adenin                      B) Timin  
C) Urasil                        D) Guanin

14. Aşağıdaki hücre bölümlerinin hangisinde DNA bulunmaz?

- A) Ribozom                      B) Mitokondri  
C) Kloroplast                  D) Çekirdek

15. ATP sentezi yapılan ortamda;

- I- Su  
II- ADP  
III- Fosfat

moleküllerinden hangilerinin miktarında artış görülür?

- A) Yalnız I                      B) I ve II  
C) II ve III                      D) I, II ve III

16. Hücre teorisine göre aşağıdakilerden hangisi yanlıştır?

- A) Canlılarda hayatsal olaylar hücre içinde gerçekleşir.  
B) Bütün organizmaların temel yapı ve görev birimi hücredir.  
C) Bütün organizmalar birden fazla hücreden meydana gelir.  
D) Her hücre kendinden önceki hücrenin bölünmesi ile meydana gelir.

17. Ökaryot hücrenin zarı ile çekirdeğinin zarı arasında uzanan tek kat zarlı ve bazılarının üzerinde ribozom bulunan kanalcıklar sistemine ne ad verilir?

- A) Ribozom  
B) Sentrozom  
C) Golgi aygıtı  
D) Endoplazmik retikulum

18. Aşağıdakilerden hangisi hücre zarındaki pasif geçiş olaylarından değildir?

- A) Ozmos  
B) Difüzyon  
C) Fagositoz  
D) Kolaylaştırılmış difüzyon

19. Aşağıdakilerden hangisi bitki hücrelerinde bulunup, hayvan hücrelerinde bulunmayan yapı-lardandır?

- A) Koful                      B) Sitoplazma  
C) Hücre zarı                D) Hücre çeperi

20. Aşağıdaki canlı gruplarından hangisinin hücre yapısında çekirdek zarı ve zarlı organel bulunmaz?

- A) Bitkiler                      B) Bakteriler  
C) Mantarlar                  D) Hayvanlar

1. Biyolojinin alt bilim dalı olan taksonominin uygulama alanı aşağıdakilerden hangisidir?

- A) Canlıları benzer özelliklerine göre sınıflandırmak.  
B) Çevre kirliliğine sebep olan etkenleri belirlemek.  
C) Yaban hayatına göre orman işletme esaslarını belirlemek.  
D) Hormonların ve kimyasalların insan sağlığı üzerine etkisini araştırmak.

2. I. Fizyolojik benzerlikleri  
II. Embriyolojik gelişmeleri  
III. Yaşadıkları ortamlar ( karada-suda)

Canlıların filogenetik (doğal) sınıflandırması yapılırken yukarıdakilerden hangileri dikkate alınır?

- A) Yalnız I                      B) I ve II  
C) II ve III                      D) I, II ve III

3. Aşağıdaki tür adlarından hangisi canlıların sınıflandırılmasında kullanılan ikili adlandırma kurallarına uygun yazılmıştır?

- A) Felis Leo  
B) *Canis lupus*  
C) *Felis Domesticus*  
D) Capra domesticus

4. Canlıların sınıflandırma basamaklarına göre Kurt aşağıdaki hangi canlı ile aynı cins içinde yer alır?

- A) Ayı                              B) İnsan  
C) Aslan                          D) Köpek

5. Bazı bakteriler uygun olmayan ortam şartlarında su kaybederek ve kalın bir örtü oluşturarak kendilerini koruma altına alırlar.

Bakterilerin bu şekilde oluşturdukları yapıya ne ad verilir?

- A) Fungi                              B) Domain  
C) Endospor                          D) Plantae

## EK SINAV

6. Aşağıdakilerden hangisi sporlular grubunda yer alan protistadır?

- A) Alg
- B) Bakteri
- C) Plazmodyum
- D) Tripanosoma

7. I. Heterotrof beslenme  
II. Çok hücreli ökaryot yapıda olma  
III. Ayırıştırıcı özelliğe sahip olma

Yukarıda verilenlerden hangileri tüm mantarlarda görülen bir özelliktir?

- A) Yalnız I
- B) I ve II
- C) II ve III
- D) I, II ve III

8. Aşağıdakilerden hangisi açık tohumlu bitkilerden değildir?

- A) Ardiç
- B) Armut
- C) Ladin
- D) Köknar

9. • Kökleri saçak kök şeklindedir.  
• Embriyolarında tek çenek yaprağı bulunur.  
• Yaprakları şerit şeklinde ince uzun olup paralel damarlıdır.

Verilen özellikler aşağıdaki bitkilerden hangisine aittir?

- A) Çam
- B) Buğday
- C) Domates
- D) Elma

10. Yapısında hif adı verilen ipliksi yapı bulunmayan mantar hangisidir?

- A) Şapkali mantar
- B) Kültür mantarı
- C) Küf mantarı
- D) Maya mantarı

11. Aşağıdakilerden hangisi damarsız tohumlu bitkilerdendir?

- A) Kara yosunları
- B) Eğrelti otu
- C) Kibrit otu
- D) Atkuyruğu

12. • Daha çok ılık ve nemli bölgelerde yaşarlar.  
• Rizom adı verilen toprak altı gövdeye sahiptirler.  
• İletim demetleri bulunur ve sporla çoğalırlar.

Yukarıda bazı özellikleri verilen bitki grubu hangisidir?

- A) Damarsız tohumlu bitkiler
- B) Damarlı tohumlu bitkiler
- C) Açık tohumlu bitkiler
- D) Kapalı tohumlu bitkiler

13. I. Domates  
II. Orkide  
III. Lale

Yukarıdakilerden hangileri çift çenekli (dikotiledon) bitkilerdendir?

- A) Yalnız I
- B) I ve II
- C) II ve III
- D) I, II ve III

14. Aşağıdakilerden hangisi yuvarlak solucanlara örnektir?

- A) Tenya
- B) Planarya
- C) Kıl kurdu
- D) Karaciğer kelebeği

15. Eklem bacaklılar grubundaki canlılarda aşağıdaki solunum sistemlerinden hangisine rastlanmaz?

- A) Kitapsı akciğer
- B) Solungaç
- C) Trake
- D) Akciğer

16. I. Gençler  
II. Çocuklar  
III. Yaşlılar

Kükürt dioksit (SO<sub>2</sub>) gazının etkilerine karşı en hassas olan kişiler yukarıdakilerden hangileridir?

- A) Yalnız I
- B) I ve II
- C) II ve III
- D) I, II ve III

17. Gürültü Kontrol Yönetmeliğine göre hastanelerde gürültü en fazla kaç desibel (dB) olmalıdır?

- A) 25
- B) 35
- C) 70
- D) 100

18. Aşağıdakilerden hangisi gıdalarda bulunmaması gereken ve gıda güvenliğini tehdit eden kimyasal tehlikelerdendir?

- A) Tarım ilaçları
- B) Cam kırıkları
- C) Metal parçaları
- D) Plastik

19. Aşağıdakilerden hangisi yapay radyasyon kaynaklarındandır?

- A) Radon
- B) Kozmik ışınlar
- C) Vücut içi ışınlama
- D) Nükleer güç santralleri

20. Ülkemizdeki orman yangınlarının en büyük nedeni aşağıdakilerden hangisidir?

- A) Yıldırımlar
- B) Trafik kazaları
- C) Enerji nakil hatları
- D) İnsanların ihmali ve dikkatsizlikleri

### (443) BİYOLOJİ – 3

1. Aşağıdakilerden hangisi bilim adamının özelliklerinden biri değildir?

- A) Meraklı ve iyi bir gözlemcidir.
- B) Yeniliklere açık ve aydın bir kişiliğe sahiptir.
- C) Daha önce yapılan gözlem ve deneylerden etkilenir.
- D) Yaptığı çalışmalarda dikkatli, kararlı, şüpheli ve sabırlıdır.

2. Doğadaki olayları duyu organları ya da ölçü aletleri kullanarak algılamaya ne ad verilir?

- A) Problem
- B) Gerçek
- C) Veri
- D) Gözlem

3. Bilimsel bir problemin çözümü olarak kurulan hipotez, gözlem ve deneylerle doğrulanmamışsa, bir sonraki aşamada bilim adamı aşağıdakilerden hangisini yapmalıdır?

- A) Başka bir hipotez kurmalı
- B) Yeni bir problem belirlemeli
- C) Teorisini bilim dünyasına duyurmalı
- D) Hipotezi ile ilgili nitel ve nicel gözlemlerle kontrollü deneyler yapmalı

## EK SINAV

4. Yaptığı çalışmalarla kuduz aşısını ve mikroskopik canlıların fermentasyona neden olduğunu bulan bilim adamı aşağıdakilerden hangisidir?

- A) Galileo
- B) Pasteur
- C) Charles Darwin
- D) Gregor Mendel

5. Canlı dokularının yapısını en ince ayrıntısına kadar inceleyen biyolojinin alt bilim dalı aşağıdakilerden hangisidir?

- A) Anatomi
- B) Histoloji
- C) Embriyoloji
- D) Fizyoloji

6. Bir araştırmacı hipotezi ile ilgili deneylerinde;

- I- Boyama
- II- Fiksasyon
- III- Vital inceleme

gibi yöntemlerden hangilerini kullanabilir?

- A) Yalnız I
- B) I ve II
- C) II ve III
- D) I, II ve III

7. Aşağıdakilerden hangisi laboratuvarında uyulması gereken kurallardan biri değildir?

- A) Yapacağınız çalışma hakkında önceden gerekli bilgileri edinmelisiniz.
- B) Çalışma sırasında öğretmen tarafından yapılan uyarılara uymalısınız.
- C) Asit, baz gibi tehlikeli maddeler döküldüğünde bol alkole yıkamalısınız.
- D) Laboratuvara yiyecek içecek getirmemelisiniz.

8. Aşağıda verilen canlı gruplarının hangisinde ototrof beslenme görülür?

- A) Algler
- B) Böcekler
- C) Mantarlar
- D) Hayvanlar

9. İki farklı türün karşılıklı olarak birbirinden yararlandığı simbiyotik yaşam birliğine ne ad verilir?

- A) Karnivor
- B) Mutualizm
- C) Kommensalizm
- D) Parazit yaşam

- 10. • Tilki
- Tavşan
- Havuç
- Kurt

Yukarıda verilen canlılardan, bir besin zinciri oluşturmak istersek, ilk basamağa hangisi yazılmalıdır?

- A) Tilki
- B) Tavşan
- C) Kurt
- D) Havuç

11. Bitkisel besinlerdeki karbonun kaynağı aşağıdakilerden hangisidir?

- A) Havadaki karbon dioksit
- B) Petroldeki karbonlu bileşikler
- C) Yağmur suları
- D) Topraktaki azotlu bileşikler

12. Bir popülasyonda yaşlı bireyler genç bireylerden fazla ise, bu popülasyonun zamana bağlı durumunu aşağıdakilerden hangisi açıklar?

- A) Büyümektedir.
- B) Küçülmetedir.
- C) Dengededir.
- D) Önce büyüyüp sonra dengeye gelecektir.

13. Bir çam ormanında, zamanla çamların yerine çalılıklar baskın tür haline gelmişse, bu duruma ne ad verilir?

- A) Süksesyon
- B) Popülasyon
- C) Komünite
- D) Erozyon

- 14. I. Fiziksel
- II. Kimyasal
- III. Biyolojik

İnsanların etkisi sonucu ortaya çıkan ve sulara karışan maddeler, suyun yukarıda verilen özelliklerinden hangilerinde değişikliği neden olur?

- A) Yalnız I
- B) I ve II
- C) II ve III
- D) I, II ve III

15. Aşırı artan karbondioksit, atmosferin üst katmanlarında birikerek ısının atmosferin dışına çıkmasını engeller.

Buna bağlı olarak dünya yüzeyinde sıcaklığın artmasına ne denir?

- A) Sera etkisi
- B) Süksesyon
- C) Ötirikasyon
- D) Çevrenin taşıma kapasitesi

16. Aşağıdakilerden hangisi ses kirliliğinin insan üzerindeki fizyolojik etkilerindendir?

- A) Stres
- B) Sinirlilik
- C) Geçici işitme kaybı
- D) İş veriminin düşmesi

17. Bitki yapraklarının ışığa yönelmesi hareketine ne ad verilir?

- A) Jeotropizma
- B) Fototropizma
- C) Kemotropizma
- D) Hidotropizma

18. I. İçgüdüsel davranışlar öğrenme ile değişip farklılaşabilir.  
II. İçgüdü şeklindeki davranışlarda organizma belirli bir uyarıya karşı daima aynı şekilde tepki oluşturur.

Yukarıda içgüdüsel davranışlarla ilgili verilenler için ne söylenebilir

- A) Yalnız I doğru
- B) Yalnız II doğru
- C) Her ikisi de doğru
- D) Her ikisi de yanlış

19. Aşağıdaki hayvanların hangisinin sosyal yaşamlarında grup lideri yoktur?

- A) Kurt
- B) Aslan
- C) Maymun
- D) Kral penguen

20. Canlıların kendiliğinden var olduğu, yani cansız maddelerden kendiliğinden meydana geldiğini savunan, hayatın başlangıcı ile ilgili görüş aşağıdakilerden hangisidir?

- A) Biyogenez
- B) Abiyogenez
- C) Heterotrof
- D) Panspermia

## (444) BİYOLOJİ – 4

1. I- Eşeysiz üreme, dişi ve erkek gibi iki farklı eşey olmadan gerçekleşir.  
II- Eşeysiz üremede, oluşan yavru hücrelerin genetik yapısı ile ata hücrenin genetik yapısı farklıdır.

**Eşeysiz üreme ile ilgili olarak verilen bilgiler için ne söylenebilir?**

- A) Yalnız I doğru  
B) Yalnız II doğru  
C) Her ikisi de doğru  
D) Her ikisi de yanlış

2. İnsanda aşağıda verilen hücrelerden hangisi haploittir?

- A) Deri hücresi  
B) Sperm hücresi  
C) Karaciğer hücresi  
D) Yumurta ana hücresi

3. Bakterilerde antibiyotiklere karşı direnç kazanma, aşağıdakilerden hangisi ile olur?

- A) İzogami  
B) Heterogami  
C) Partenogenez  
D) Konjugasyon

4. I- Hermafrodit canlılar kendi kendini dölleyebilir.  
II- Hermafroditizm ayrı eşeyliliğe göre ilkel sayılır.

**Hermafroditizm ile ilgili olarak yukarıda verilenler için ne söylenebilir?**

- A) Yalnız I doğru  
B) Yalnız II doğru  
C) Her ikisi de doğru  
D) Her ikisi de yanlış

5. Aşağıdaki canlıların hangisinde metagenez (döl değişimi) görülür?

- A) Plazmodyum  
B) Paramesyum  
C) Bakteri  
D) Arı

6. I. Anter  
II. Tepecik  
III. Filament

**Yukarıdakilerden hangileri tam bir çiçekteki erkek organın bölümlerindendir?**

- A) I ve II  
B) I ve III  
C) II ve III  
D) I, II ve III

7. I. Su  
II. Rüzgar  
III. Hayvanlar

**Çiçekli bitkilerin tozlaşmasında yukarıda verilenlerden hangileri etkili olur?**

- A) I ve II  
B) I ve III  
C) II ve III  
D) I, II ve III

8. Aşağıdakilerden hangisi bitkilerde tohumu oluşturan yapılarından biri değildir?

- A) Embriyo  
B) Endosperm  
C) Taç yaprak  
D) Tohum kabuğu

9. I. Yumurtaları çok sayıda ve birarada olup kabuksuzdur.  
II. Yumurtaların döllenme şansı çok fazladır.

**Dış döllenme görülen canlıların yumurtaları ile ilgili olarak verilen bilgiler için ne söylenebilir?**

- A) Yalnız I doğru  
B) Yalnız II doğru  
C) Her ikisi de doğru  
D) Her ikisi de yanlış

10. Folikül kesesinde olgunlaşan yumurtanın folikülün çatlaması ile yumurtalıktan atılarak fallop borusuna geçmesine ne denir?

- A) Ovulasyon  
B) İç denge  
C) Geri besleme  
D) Menstruasyon

11. I- Röntgen ışınları  
II- Aşırı alkol tüketimi  
III- Erbezlerinin sıcaklığının yüksek olması

**Yukarıda verilenlerden hangileri erkeklerde kısırlığa sebep olabilir?**

- A) Yalnız I  
B) I ve II  
C) II ve III  
D) I, II ve III

12. • Mısır  
• Badem  
• Buğday  
• Fasulye  
• Orkide

**Yukarıda verilen bitkilerden kaç tanesi tek çeneklidir?**

- A) 1  
B) 2  
C) 3  
D) 4

13. I- Yaprakları genellikle ağsı damarlıdır.  
II- Bu bitkiler genellikle otsu yapıdadır.  
III- Gövdede iletim demetleri dağınık olup kambiyum bulunmaz.

**Yukarıda verilenlerden hangileri çift çenekli bitkilerin özelliklerindendir?**

- A) Yalnız I  
B) I ve II  
C) II ve III  
D) I, II ve III

14. Bitki tohumlarının çimlenmesi için aşağıdakilerden hangisine ihtiyaç yoktur?

- A) Uygun sıcaklık  
B) Yeterli toprak  
C) Yeterli oksijen  
D) Uygun nem

15. I- Büyüme  
II- Farklılaşma  
III- Oluşan yaraların onarımı  
**Bitkilerdeki hormonlar yukarıda verilen olayların hangilerinde etkilidir?**

- A) Yalnız I  
B) I ve II  
C) II ve III  
D) I, II ve III



## EK SINAV

16. Kurbağalar ile sürüngenlerin döllenmiş yumurtalarında embriyonun beslenmesini sağlayan embriyonik tabaka hangisidir?

- A) Allantoyis  
B) Koryon  
C) Vitellüs kesesi  
D) Amniyon kesesi

17. Embriyonal gelişmede canlının türüne göre iki veya üç tabakalı embriyonun oluştuğu evreye ne ad verilir?

- A) Bölünme B) Gastrulasyon  
C) Farklılaşma D) Organogenez

18. Kuş ve memeli embriyolarında, gelişmenin ileri aşamalarında sindirim borusu halini alan yapı aşağıdakilerden hangisidir?

- A) Morula B) Blâstomer  
C) Blâstula D) Gastrosöl

19. Tek yumurta ikizlerinde aşağıda verilen özelliklerden hangisi farklı olabilir?

- A) Cinsiyetleri  
B) Kan grupları  
C) Parmak izleri  
D) Protein yapıları

20. Aşağıdaki canlıların hangisinde, yenilenme (rejenerasyon) aynı zamanda bir üreme şeklidir?

- A) Kuş B) İnsan  
C) Kertenkele D) Deniz yıldızı

### (451) ÇAĞ.TÜRK DÜN.TAR. – 1

1. Aşağıdakilerden hangisi Üçlü İtilaf Devletleri arasında yer almaz?

- A) İngiltere B) Rusya  
C) Almanya D) Fransa

2. Osmanlı Devleti'nin I. Dünya Savaşı sonrasında imzaladığı barış antlaşması, aşağıdakilerden hangisidir?

- A) Sevr B) Versay  
C) Nöyyi D) Triyanon

3. - - - Restorasyonu sonrasında Japonya büyük bir güç olarak dünya sahnesine çıkmıştır.

Verilen cümlede boş bırakılan yere aşağıdakilerden hangisi gelmelidir?

- A) Meiji B) Reform  
C) Rönesans D) Aydınlanma

4. "Kara Perşembe" olarak bilinen 1929 Dünya Ekonomik Krizi ilk olarak hangi ülkede başlamıştır?

- A) İngiltere B) ABD  
C) İspanya D) Fransa

5. 2 Eylül 1938'de kurulan Hatay Devleti'nin ilk ve tek cumhurbaşkanı, aşağıdakilerden hangisidir?

- A) Abdülgani Türkmen  
B) Abdurrahman Melek  
C) Cevdet Sunay  
D) Tayfur Sökmen

6. Uluslararası Para Fonunun (IMF) merkezi olan şehir, aşağıdakilerden hangisidir?

- A) Washington B) Londra  
C) Paris D) New York

7. Aşağıdakilerden hangisi Atatürk Dönemi dış politika gelişmelerinden değildir?

- A) Balkan Antantı'nın imzalanması  
B) Sadabat Pakti'nin kurulması  
C) Milletler Cemiyetine girilmesi  
D) NATO'ya üye olunması

8. II. Dünya Savaşı öncesinde yayılmacı politika izleyerek Mançurya'yı işgal eden devlet, aşağıdakilerden hangisidir?

- A) İtalya B) Almanya  
C) Japonya D) Fransa

9. II. Dünya Savaşı sırasında SSCB üzerine "Barbarossa" harekâtını düzenleyen ülke, aşağıdakilerden hangisidir?

- A) İtalya B) Almanya  
C) Japonya D) Romanya

10. Japonların Pearl Harlbour Baskını hangi devletin II. Dünya Savaşı'na girmesine neden olmuştur?

- A) ABD B) SSCB  
C) Fransa D) Polonya

11. "II. Dünya Savaşı sonrası NATO'nun etkinliğini artırması üzerine, SSCB önderliğindeki ülkeler - - - Pakti'ni kurmuşlardır."

Verilen cümlede boş bırakılan yere aşağıdakilerden hangisi getirilmelidir?

- A) Sadabat B) Bağdat  
C) Varşova D) Balkan

12. 1948 yılından itibaren Filistin topraklarında kurulan ve yayılmacı bir politika izleyen devlet, aşağıdakilerden hangisidir?

- A) Mısır B) İsrail  
C) Irak D) İran

13. Pakistan Devleti'nin kurucusu aşağıdakilerden hangisidir?

- A) Mahatma Gandhi  
B) Jawaharlal Nehru  
C) Saad Zaglul  
D) Muhammed Ali Cinnah

14. Dünya Siyonist Örgütü Başkanı Theodor Herzl'in Filistin'den toprak alma talebini "Bu vatan bana değil, milletime aittir." diyerek geri çeviren Osmanlı padişahı, aşağıdakilerden hangisidir?

- A) I. Mehmet B) II. Abdülhamid  
C) II. Mustafa D) III. Selim

## EK SINAV

(452) ÇAĞ. TÜRK DÜN. TAR. – 2

15. Türkiye, aşağıdaki hangi savaş sonrasında NATO'ya üye olmuştur?

- A) Kore                      B) Vietnam  
C) I. Dünya                D) 93 Harbi

16. Aşağıdakilerden hangisi Batı Bloku'nun kuruluş süreci ile ilgili bir gelişme değildir?

- A) Marshall Planı  
B) Truman Doktrini  
C) NATO'nun kuruluşu  
D) Varşova Paktının kuruluşu

17. Aşağıdakilerden hangisi Roma Antlaşması ile kurulmuştur?

- A) Avrupa Konseyi  
B) Balkan Pakti  
C) Avrupa Ekonomik Topluluğu  
D) Kuzey Atlantik Pakti

18. I. Güneydoğu Asya Milletleri Birliği  
II. Afrika Birliği Teşkilatı  
III. Kuzey Atlantik İttifakı  
IV. Avrupa Konseyi

Türkiye yukarıdaki kuruluşlardan hangilerine üyedir?

- A) I ve II                      B) II ve III  
C) I ve IV                    D) III ve IV

19. II. Dünya Savaşı sonrasında Türkiye'de kurulan ilk muhalefet partisi, aşağıdakilerden hangisidir?

- A) Adalet Partisi  
B) Millî Kalkınma Partisi  
C) Demokrat Parti  
D) Millet Partisi

20. 1950 seçimleri sonucunda iktidarı sona eren parti, aşağıdakilerden hangisidir?

- A) Cumhuriyet Halk Partisi  
B) Millî Kalkınma Partisi  
C) Demokrat Parti  
D) Millet Partisi

1. Yakın tarihte ABD ve SSCB'nin başını çektiği bloklar arasında gerginliğin azaltılması amacıyla karşılıklı görüşmelerin yapıldığı döneme verilen isim, aşağıdakilerden hangisidir?

- A) Soğuk Savaş  
B) Sıcak Savaş  
C) Yumuşama  
D) Nükleer Teknoloji

2. ABD'nin Domuzlar Körfezi Operasyonu ile yönetimine son vermek istediği Küba'lı lider, aşağıdakilerden hangisidir?

- A) Fidel Castro  
B) Batista  
C) John Kennedy  
D) Nikolay Kruşçev

3. Keşmir Meselesi, aşağıdaki devletlerden hangilerinin karşılıklı problem yaşamasına yol açmıştır?

- A) Pakistan - Hindistan  
B) Türkiye - Yunanistan  
C) Vietnam - ABD  
D) Güney Kore - Kuzey Kore

4. SSCB'nin Afganistan'ı işgali sonrası, Afgan mücahitlerine aşağıdaki devletlerden hangisi destek vermiştir?

- A) İngiltere                B) Fransa  
C) İtalya                    D) ABD

5. Kuzey Kıbrıs Türk Cumhuriyeti'nin ilk cumhurbaşkanı, aşağıdakilerden hangisidir?

- A) Fazıl Küçük  
B) Rauf Denktaş  
C) Mehmet Ali Talat  
D) Derviş Eroğlu

6. İsrail ile Mısır arasında Camp David Antlaşmalarının imzalanmasında aktif rol oynayan devlet, aşağıdakilerden hangisidir?

- A) ABD                      B) SSCB  
C) İtalya                    D) Almanya

7. Petrol üreticisi ülkeler OPEC'i kurmakla aşağıdakilerden hangisini amaçlamışlardır?

- A) Petrol üretimini artırmak  
B) Petrol fiyatlarını belirlemek  
C) Petrol araştırmak  
D) Petrolü siyasi silah olarak kullanmak

8. Camp David Antlaşması'yla Orta Doğu'da Mısır'ın etkinliğini kaybetmesi sonucunda ortaya çıkan otorite boşluğundan yararlanarak Arap liderliği için çalışma başlatan ülke, aşağıdakilerden hangisidir?

- A) İran                      B) Ürdün  
C) Irak                      D) Suriye

9. Türkiye, günümüzde de devam eden Ege Adaları Meselesi'ni aşağıdaki devletlerden hangisiyle yaşamaktadır?

- A) Bulgaristan            B) İran  
C) Rusya                   D) Yunanistan

10. Berlin Antlaşması'nda arabuluculuk görevi yapan İngiltere'ye geçici olarak bırakılmış olan toprağımız, aşağıdakilerden hangisidir?

- A) Girit                      B) Rodos  
C) Mora                    D) Kıbrıs

11. Aşağıdaki hangi gelişme sonrasında Batı ve Doğu Almanya tek çatı altında birleşmiştir?

- A) Alsace-Loren'in ele geçirilmesi  
B) Berlin Duvarı'nın yıkılması  
C) Kara yolu ağının geliştirilmesi  
D) Elbe Nehri üzerine kurulan köprü

12. 1995 yılında Sırp General Ratko Mladić'in etnik soykırım uygulayarak binlerce Bosnalı Müslüman'ı katlettiği şehir, aşağıdakilerden hangisidir?

- A) Tuzla                      B) Mostar  
C) Srebrenika            D) Saraybosna

## EK SINAV

13. I. ve II. Körfez Savaşları sonrasında ülkede otoritesini kaybedip; 2006 yılında asılan Irak eski devlet adamı, aşağıdakilerden hangisidir?

- A) Saddam Hüseyin
- B) Celal Talabani
- C) Mesut Barzani
- D) Tarık Haşimi

14. ABD'nin, 11 Eylül 2001 tarihinde gerçekleşen İkiz Kuleler saldırısı sonrasında saldırıyı bahane ederek müdahale ettiği ülke, aşağıdakilerden hangisidir?

- A) Pakistan B) Hindistan
- C) Afganistan D) Ermenistan

15. Uzaya ilk uyduyu fırlatan devlet, aşağıdakilerden hangisidir?

- A) İngiltere B) Fransa
- C) İtalya D) SSCB

16. Vietnam Savaşı'nda Güney Vietnam'a aşağıdaki devletlerden hangisi yardım etmiştir?

- A) SSCB B) Çin
- C) ABD D) Fransa

17. Dayton Antlaşması ile aşağıdaki savaşlardan hangisi sona ermiştir?

- A) I. Körfez Savaşı
- B) Bosna Savaşı
- C) I. Dünya Savaşı
- D) II. Dünya Savaşı

18. Aşağıdaki devletlerden hangisinin Kuveyt'i işgal etmesi I. Körfez Savaşı'na neden olmuştur?

- A) Irak B) İran
- C) Suriye D) Afganistan

19. Nil Nehri suyunun kullanımı konusunda sorun yaşayan devletler arasında aşağıdakilerden hangisi yoktur?

- A) Ürdün B) Mısır
- C) Sudan D) Etiyopya

20. Türkiye'de sarılık olarak tanınan karaciğer hastalığı aşağıdakilerden hangisidir?

- A) AIDS B) Sıtma
- C) Hepatit D) Kuş Gribi

### (455) DEMOK. ve İNSAN HAK. – 1

1. Belli bir hukuk düzeni içerisinde, hukuk kurallarının kişilere belli yönde davranmaya izin vermesi, belli şeyleri istemeye yetkili kılması hangi kavramla ifade edilir?

- A) Hak B) Eşitlik
- C) Özgürlük D) Kamuoyu

2. "Kişileri, devlete ve topluma karşı koruyan hak ve özgürlüklere koruyucu haklar denir."

**Aşağıdakilerden hangisi, T.C. Anayasası'nın "Kişinin Hak ve Ödevleri" başlığı altında sayılmış olan koruyucu haklardandır?**

- A) Dinlenme hakkı
- B) Vatandaşlık hakkı
- C) Eğitim ve öğrenim hakkı
- D) Konut dokunulmazlığı hakkı

3. "Sosyal devlet" olmanın gerekleri hangisinde verilmiştir?

- A) Ekonomik büyüme ve kalkınma
- B) İdarenin hukuka bağlılığı
- C) Kanun önünde eşitlik
- D) Kuvvetler ayrımı

4. Aşağıdakilerden hangisi devletin varlığı için zorunlu öğelerden değildir?

- A) Halk B) Ülke
- C) Eşitlik D) Egemenlik

5. Ülkemizde kanunların anayasa uygunluğunu denetleyen yüksek mahkeme aşağıdakilerden hangisidir?

- A) Anayasa Mahkemesi
- B) Askeri Yargıtay
- C) Sayıştay
- D) Yargıtay

6. Ülkemizde "İnsan haklarına saygılı devlet" anlayışı aşağıdaki anayasalardan hangisinde yer almıştır?

- A) 1921 B) 1924
- C) 1961 D) 1982

7. "Toplumsal sözleşme" anlayışını savunarak demokrasi fikrinin gelişmesine katkı sağlayan 18. yüzyılda yaşamış Fransız düşünürü aşağıdakilerden hangisidir?

- A) M. Luther
- B) G. Bruno
- C) J. Bodin
- D) J. J. Rousseau

8. Seçimlerle ilgili aşağıdaki uygulamalardan hangisi demokratik toplum düzeninin gelişmesine katkı sağlayan bir unsur değildir?

- A) Genel oy B) Kısıtlı oy
- C) Gizli oy D) Açık sayım

9. Anayasanın 68. maddesine göre kurulan siyasi partiler kanununa göre siyasi partilere katılma ile ilgili aşağıdakilerden hangisi söylenemez?

- A) Siyasi partinin kurulabilmesi için üye olma yeterliliğine sahip en az otuz Türk vatandaşı gereklidir.
- B) Bireyler usulüne göre partiye girme ve ayrılma hakkına sahiptir.
- C) Siyasi parti üyesi olmak için 18 yaşını doldurmuş olmak gerekir.
- D) Siyasi partiler önceden izin alarak kurulur.

10. Batılı devletlerin baskı ve dayatmaları sonucunda 1856'da, gayrimüslimlerle Müslümanlar arasındaki bazı farklılıkları ortadan kaldırmak üzere yapılan düzenleme aşağıdakilerden hangisidir?

- A) Islahat Fermanı
- B) Sened-i ittifak
- C) Nizam-ı Cedit
- D) Birinci Meşrutiyet

11. Kuvvetler ayrılığı ilkesi Türkiye Cumhuriyeti'nin hangi Anayasasında ilk defa kabul edilmiştir?

- A) 1921 B) 1924  
C) 1961 D) 1982

12. Aşağıdakilerden hangisi demokrasi ve insan haklarının gerçekleştirilmesinde karşılaşılan sorunlardandır?

- A) Halkın eğitim seviyesinin artması  
B) Gelenek ve göreneklere aşırı bağlılık  
C) Hoşgörü ortamının elverişli hale gelmesi  
D) Sivil toplum örgütlerinin güçlenmesi

13. Dünyada barışın sağlanması ve insan hakları ihlallerinin önlenmesi amacıyla 1945'te kurulmuş uluslararası örgüt aşağıdakilerden hangisidir?

- A) Avrupa Birliği  
B) Uluslararası Af Örgütü  
C) Birleşmiş Milletler Örgütü  
D) Avrupa Güvenlik ve İşbirliği Teşkilatı

14. Aşağıdakilerden hangisi uluslararası insan hakları örgütlerinin, insan hakları ihlallerinin önlenmesindeki katkılarından değildir?

- A) İnsan hakları eğitiminin önemi ön plana çıkmıştır.  
B) Taraf devletlerde demokratikleşme süreci hızlanmıştır.  
C) İnsan hakları ihlalleri sadece ulusal hukuk tarafından korumaya alınmıştır.  
D) Taraf devletleri, insan hakları ihlallerinin önlenmesi konusunda dikkatli davranmaya zorlanmıştır.

15. Aşağıdakilerden hangisi insan haklarını korumak için faaliyet gösteren sivil toplum kuruluşudur?

- A) Green Peace  
B) Birleşmiş Milletler  
C) Avrupa Konseyi  
D) Avrupa Güvenlik ve İşbirliği Teşkilatı

16. Günümüzde insan haklarının korunması konusunda bazı sorunlar yaşanmaktadır.

Aşağıda verilenlerden hangisi bu sorunların sebeplerindendir?

- A) Sivil toplum örgütlerinin gelişimi  
B) Bölgeler arası kalkınmışlık farkları  
C) Irk ayrımcılığının ortadan kalkması  
D) Uluslararası koruma mekanizmalarının oluşması

17. Bir toplumda toplumsal yapının bütününe dokunmaksızın, eskiyen, güncelliğini kaybeden, toplumun ihtiyaçlarına cevap veremeyen kurum ve kuralların düzeltilmesine ne denir?

- A) Devrim B) Gelişme  
C) Reform D) Aydınlanma

18. İzmir İktisat Kongresinde özel teşebbüsün önemi vurgulanmış, özel teşebbüse her alanda destek olunacağı belirtilmiş ama özel teşebbüs gerekli atılımları başaramayınca Türkiye Cumhuriyeti hangi ilke ile planlı ekonomiye geçiş yapmıştır?

- A) Cumhuriyetçilik  
B) Halkçılık  
C) İnkılapçılık  
D) Devletçilik

19. Halk iradesinin yönetime yansması için aşağıdakilerden hangisi gereklidir?

- A) Çoğulcu ve katılımcı bir demokrasi  
B) Özel teşebbüsün sınırlarının daraltılması  
C) Yöneticilerin güçlerini artırmak istemeleri  
D) Kuvvetler birliği

20. "Çağdaş topluma ayak uyduramayan bir millet yok olmaya mahkumdur." sözü Atatürk ilkelerinden öncelikle hangisi ile bağlantılıdır?

- A) Laiklik  
B) İnkılapçılık  
C) Milliyetçilik  
D) Cumhuriyetçilik

1. Pirinç fiyatlarının aşırı yükselmesiyle tüketicilerin bulgura olan taleplerinin artması ihtiyaçların hangi özelliğine örnek olur?

- A) Biyolojik ihtiyaçların kapsam bakımından sınırlı olmasına  
B) İhtiyaçların kişiden kişiye değişiklik göstermesine  
C) İhtiyaçların birbirinin yerine geçmesine  
D) İhtiyaçların sınırsız olmasına

2. Aşağıdakilerden hangisi malın özelliklerinden değildir?

- A) Emek harcanarak elde edilmesi  
B) Doğada bol miktarda bulunması  
C) Üretiminin mümkün olması  
D) İhtiyaçları karşılamaya elverişli olması

3. Daha çok zihinsel faaliyet gerektiren emek türü aşağıdakilerden hangisidir?

- A) Objektif emek  
B) Yönetici emek  
C) Uygulayıcı emek  
D) Subjektif emek

4. Enerjinin kaynağını hangi üretim faktörü oluşturmaktadır?

- A) Tabiat B) Emek  
C) Sermaye D) Girişimci

5. Paranın ödünç verilerek gelir sağlama amacıyla kullanılması hangi sermayeye örnek olur?

- A) Mali yönden sermayeye  
B) Ekonomik anlamda sermayeye  
C) Hukuksal anlamda sermayeye  
D) Muhasebe tekniği açısından sermayeye

6. Üretim faktörlerini sağlayarak kâr amacı ile mal ve hizmet üretim faaliyetinde bulunan kişilere ne ad verilir?

- A) Müdür B) Yönetici  
C) Lider D) Girişimci

## EK SINAV

7. Ekonominin temel konusu aşağıdakilerden hangisidir?

- A) İnsan ihtiyaçları
- B) Memur maaşları
- C) Bütçe giderleri
- D) Vergi gelirleri

8. Aşağıdakilerden hangisi sanayi üretimine örnek olur?

- A) Toprağın işlenerek pamuk üretilmesi
- B) Termik santralinde elektrik üretilmesi
- C) Koyunlardan yünün elde edilmesi
- D) Otelde konaklama hizmeti verilmesi

9. Aşağıdakilerden hangisi Atatürk'ün devletçilik anlayışına uygun değildir?

- A) Kalkınmada devletin kaynaklarından yararlanılır.
- B) Kişisel girişimler desteklenir.
- C) Özel girişimler yönlendirilir.
- D) Özel mülkiyete yer verilmez.

10. Aşağıdakilerden hangisi tekel piyasasının özelliklerinden değildir?

- A) Tek satıcının olması
- B) Çok sayıda alıcının olması
- C) Çok sayıda satıcının bulunması
- D) Fiyatı tekelleri firmanın belirlemesi

11. Aşağıdakilerden hangisi rekabetin olumsuz yönlerinden biridir?

- A) İşletmelerin gelişmesine katkı sağlaması
- B) Bazen kalitenin düşmesine neden olması
- C) Yeni üretim yöntemlerini geliştirilmesi
- D) Fiyatların düşmesine neden olması

12. I- Faiz  
II- Bağış  
III- Rant  
IV- Miras  
V- Ücret

Gelirin özelliklerine göre yukarıdakilerden hangisi/hangileri ekonomide gelir kabul edilir?

- A) Yalnız V
- B) II - IV
- C) I - II - IV
- D) I - III - V

13. Bir madenin değişik alanlarda farklı maliyetle çıkarılıp aynı fiyatla satılması hangi rantı meydana getirmiştir?

- A) Şehir rantını
- B) Mevki rantını
- C) Maden rantını
- D) Toprak rantını

14. Aşağıdakilerden hangisi ekonomik büyümenin göstergelerinden biridir?

- A) Millî gelirin artması
- B) Kamu giderlerinin artması
- C) Vergi gelirlerinin artması
- D) İthalat giderlerinin artması

15. Üretim miktarına göre belirlenen ücrete ne denir?

- A) Zamana göre ücret
- B) Parça başına ücret
- C) Gerçek ücret
- D) Aynı ücret

16. Girişimcinin üretim faaliyetine katılmasının karşılığı olarak elde ettiği gelire ne ad verilir?

- A) Kâr
- B) Ücret
- C) Faiz
- D) Maaş

17. Aşağıdaki tanımlardan hangisi mübadeleyi ifade etmektedir?

- A) Üretim faaliyeti sonucu elde edilen gelirin dağıtımıdır.
- B) Malların insanlar arasında el değiştirmesidir.
- C) Mal ve hizmetlerin elde edilmesi faaliyetidir.
- D) İhtiyaçların karşılanması için malların tüketilmesidir.

18. Aşağıdakilerden hangisi enflasyonun nedenlerinden biridir?

- A) Faiz oranlarının düşmesi
- B) Ürün maliyetlerinin azalması
- C) Dolaşımdaki para miktarının artması
- D) Mal ve hizmet üretiminin artması

19. Türkiye'de aşağıdaki bankalardan hangisi kâğıt para basma yetkisine sahiptir?

- A) Halk Bankası
- B) Ziraat Bankası
- C) Vakıflar Bankası
- D) Merkez Bankası

20. Çalışmak isteyen herkese iş alanı sağlanmasıyla aşağıdakilerden hangisi gerçekleştirilmiş olur?

- A) Tam istihdam
- B) Ekonomik denge
- C) Ekonomik büyüme
- D) Gelir dağılımında eşitlik

### (462) EKONOMİ – 2

1. Gelirin özelliklerine göre aşağıdakilerden hangisi gelir çeşitlerinden biridir?

- A) Miras
- B) Bağış
- C) Ücret
- D) Sadaka

2. Üretim faktörlerinden toprağın geliri aşağıdakilerden hangisidir?

- A) Kâr
- B) Faiz
- C) Ücret
- D) Rant

3. Et fiyatlarının aşırı ölçüde artmasıyla insanların tavuk ve balığa olan taleplerinin yükselmesi, hangi ekonomi yasasına örnek olur?

- A) Enflasyon yasasına
- B) İkame yasasına
- C) Talep yasasına
- D) Arz yasasına

4. Aşağıdakilerden hangisi reel ücretin tanımıdır?

- A) Alınan ücretin satın alma gücü
- B) Parça başına hesaplanan ücret
- C) Zaman birimine göre hesaplanan ücret
- D) İşçinin çalışmasına karşılık aldığı para miktarı

## EK SINAV

5. Banka mevduat hesabındaki paranın geri alınması ile sağlanan para ekonomide gelir kabul edilmez.

**Bu durum, gelirin hangi özelliğine örnek olur?**

- A) Gelirin para ile ifade edilmesine  
B) Gelirin sürekli ve düzenli olmasına  
C) Gelirin kişilerin ekonomik güçlerini artırmasına  
D) Gelirin üretime katılmanın karşılığı olmasına

6. Malların doğrudan doğruya bir ihtiyacı karşılamak için kullanılmasına ne denir?

- A) Üretim  
B) Dağıtım  
C) Dolaylı tüketim  
D) Dolaysız tüketim

7. Doğa ve emeğin birleşmesiyle üretilmiş olan, mal veya hizmet üretiminde kullanılan her türlü maddi araçlara sermaye denir.

**Bu tanıma göre, aşağıdakilerden hangisi sermayenin özelliklerinden değildir?**

- A) Doğa ve emeğin birleşmesiyle meydana gelmişlerdir.  
B) Önceden üretilmiş olan maddi araçlardır.  
C) Doğada sınırsız miktarda bulunurlar.  
D) Yeni bir üretimde kullanılırlar.

8. Hazırlık evresi ya da eğitim gerektiren işlerde çalışanların emeğine ne denir?

- A) Vasıflı emek  
B) Objektif emek  
C) Vasıfsız emek  
D) Subjektif emek

9. Üretim faaliyetine katılan aşağıdaki elemanlardan hangisi üretim sonucunda değişikliğe uğrar?

- A) Ulaşım araçları  
B) Ham maddeler  
C) Makineler  
D) Araziler

10. Tasarruf aşağıdakilerden hangisinin oluşumunu sağlar?

- A) Sermayenin B) Üretimin  
C) Gelirin D) Giderin

11. Aşağıdakilerden hangisi ekonomik büyümenin göstergelerinden biridir?

- A) Ulusal gelirin artması  
B) Ulusal gelirin düşmesi  
C) İhracat ve ithalatın düşmesi  
D) Kamu harcamalarının artması

12. Malların insanlar arasında el değiştirmesine ne denir?

- A) Üretim B) Mübadele  
C) Tüketim D) İnkısam

13. Türkiye’de kâğıt para basma yetkisine sahip olan banka aşağıdakilerden hangisidir?

- A) İş Bankası  
B) Ziraat Bankası  
C) Vakıflar Bankası  
D) Merkez Bankası

14. Aşağıdakilerden hangisi çevre kirliliğine neden olan etkenlerdendir?

- A) Çevre eğitiminin yaygınlaştırılması  
B) Altyapı işlerinin yapılması  
C) Nüfusun aşırı artması  
D) Yeşil alanların artması

15. “Türkiye’nin asıl sahibi ve efendisi, gerçek üretici olan köylüdür. O hâlde herkesten daha çok refah, mutluluk ve servete hak kazanan ve layık olan da köylüdür...”

**Atatürk, 1 Mart 1922’de TBMM’yi açış konuşmasında söylediği yukarıdaki sözleri ile aşağıdaki sektörlerden hangisinin önemini vurgulamıştır?**

- A) Hizmet B) Tarım  
C) Sanayi D) Ulaşım

16. • Ekonomik bir ünitedir.  
• Karar alma merkezidir.  
• Mal ve hizmet üreten ve satan bir ünitedir.  
• Üretim faktörlerini sağlayan ve kullanan bir ünitedir.

**Bu özellikler aşağıdakilerden hangisine aittir?**

- A) Üretime B) Girişime  
C) Kişilere D) Sermayeye

17. Aşağıdakilerden hangisi rekabetin özelliklerinden değildir?

- A) Piyasada tek el oluşturmaları  
B) İşletmeleri daha aktif hâle getirmesi  
C) Yeni üretim yöntemlerini kullanılması  
D) Genel olarak fiyatların düşmesini sağlaması

18. Üretim yöntemi ile millî gelirin hesaplanması için hangi değerler toplanır?

- A) Devletin bir yıl içinde topladığı vergiler  
B) Bir yıl içinde mal ve hizmete yapılan harcamalar  
C) Üretim faktörlerinin bir yıl içinde elde ettiği gelirler  
D) Tarım, sanayi ve hizmet sektörlerinin bir yıl içinde ürettiği mal ve hizmet miktarları

19. Maden rantının ortaya çıkış nedeni aşağıdakilerden hangisidir?

- A) Maden üretiminde farklı teknolojiler kullanılması  
B) Tarım yapılan toprakların verimliliğinin farklı olması  
C) Bir madenin değişik alanlarda farklı maliyetlerde üretilmesi  
D) Şehrin değişik yerlerindeki konut ve iş yerleri kiralalarının farklı olması

20. Millî gelirin üretim faktörlerinin üretimden aldıkları paylara göre dağılımına ..... dağılımı denir.

**Boş bırakılan yere aşağıdakilerden hangisi yazılmalıdır?**

- A) kişisel B) mesleksi  
C) sektörel D) fonksiyonel

### (465) TEMEL DİNİ BİLGİLER – 1

1. Kelime olarak itaat, hüküm, örf, âdet, ceza ve mükâfat gibi anlamlara gelen kavram aşağıdakilerden hangisidir?

- A) Din B) İman  
C) İbadet D) Amel

## EK SINAV

2. Tanrı'nın varlığını inkar ettiği gibi tüm dinlere ve dinlerin tanrı tasavvurlarına karşı çıkan inanç sistemi aşağıdakilerden hangisidir?

- A) Ateizm B) Politeizm  
C) Monoteizm D) Gnostisizm

3. Kast sistemi aşağıdaki dinlerin hangisinde vardır?

- A) Caynizm B) Budizm  
C) Sihizm D) Hinduizm

4. Aşağıdakilerden hangisi Hristiyan mezheplerinden biri değildir?

- A) Katolik B) Ortodoks  
C) Protestan D) Reformist

5. Aşağıdaki dinlerden hangisi Nasranilik olarak da anılır?

- A) Musevilik B) Hristiyanlık  
C) Budizm D) Sihizm

6. Mekke'nin fethinde, Peygamberimiz: "Her kim o kişinin evine girerse emniyettedir." diye ilan etti.

**Bu kişi aşağıdakilerden hangisidir?**

- A) Erkam b. Erkam  
B) Selman-ı Farisi  
C) Ebu Süfyan  
D) Ebu Cehil

7. I. Daha sağlıklı büyümesi  
II. Saf bir dil öğrenmesi  
III. Ahlaklı yetişmesi  
IV. Putlardan uzak tutulması

**Hiz. Muhammed'in süt anneye verilmesinin sebepleri hangi seçenekte bir arada verilmiştir?**

- A) I ve II B) I ve III  
C) III ve IV D) II ve IV

8. Aşağıdakilerden hangisi namazın hazırlık şartlarından biridir?

- A) Secde B) Kıraat  
C) Setr-i Avret D) Kıyam

9. Hz. Peygamber; "Kim Ebu Sufyân'ın evine girerse emniyettedir. Kim kendi evinde kalırsa emniyettedir. Kim Harem-i Şerife girerse emniyettedir." sözünü ne zaman söylemiştir?

- A) Mekke'nin fethinde  
B) Medine'ye hicrette  
C) Veda Hutbesinde  
D) İlk vahiy geldiğinde

10. Sözlükte "kulluk" olarak tarif edilen, belli kuralları olan hareketleri ve buyrukları yapmaya ne ad verilir?

- A) Temizlik B) İbadet  
C) İman D) Dua

11. "Kıyamet günü için adalet terazilerini kurarız. Hiç kimseye haksızlık edilmez. (İnsanın yaptığı iş) bir hardal tanesi ağırlığında olsa da onu getiririz. Hesap görücü olarak biz yeteriz"

(Enbiya Suresi, 47. ayet)

**Bu ayetten aşağıdakilerden hangisi çıkarılamaz?**

- A) Yapılanların hesabının verileceği  
B) Ahirette kimseye haksızlık yapılmayacağı  
C) Allah'ın küçük günahları affedeceği  
D) Dünya hayatının sona ereceği

12. Yahudilerin önem verdikleri ibadet yerlerinin başında Kudüs'teki mabet gelmektedir. Yahudiler, saldırılar sonucu yıkılan bu mabetten geriye kalan batı duvarı önünde dua ederler. Bu duvara ağlama duvarı denir.

**Yukarıda bahsedilen mabet hangi peygamber tarafından yaptırılmıştır?**

- A) Hz. Süleyman  
B) Hz. İbrahim  
C) Hz. Davut  
D) Hz. Yakup

13. "Melekler ve Ruh (Cebrail), oraya miktarı (dünya senesi ile) elli bin yıl olan bir günde yükselip çıkar." (Mearic Suresi, 4. ayet)

**Verilen ayette meleklerin hangi özelliğine işaret edilmektedir?**

- A) Nurdan yaratıldıklarına  
B) Cinsiyetlerinin olmadığına  
C) Kanatlı olduklarına  
D) Hızlı hareket ettiklerine

14. İnsanları belalardan koruyan melek aşağıdakilerden hangisidir?

- A) Hafaza Melekleri  
B) Kiramen Katibin  
C) Rıdvan Meleği  
D) Münker-Nekir Melekleri

15. Hastalıkta ve yolculukta ibadetleri yerine getirmede Müslümanlara bazı kolaylıklar tanınmıştır. Örneğin yolcuya cuma namazı ve oruç farz değildir.

**Aşağıdaki ayetlerden hangisi bu konuya örnek verilebilir?**

- A) "... Namaz, insanı kötülüklerden ve hayasızlıktan alıkoyar." (Ankebut Suresi, 45. ayet)  
B) "...Allah kimseye taşıyamaya-cağı yükü yüklemes..." (Bakara Suresi, 286. ayet)  
C) "Ey Resulum... sen dini Allah'a has kılarak kulluk et." (Zümer Suresi, 2. ayet)  
D) "Namazı önemsemeyen, gösteriş yapmak için kılanlara yazıklar olsun." (Maun Suresi, 4 - 6. ayetler)

16. Teravih namazının hükmü aşağıdakilerden hangisidir?

- A) Farz  
B) Vacip  
C) Müstehap  
D) Sünnet-i Müekkede

17. Ettihyyatü - Allahümmealli - Allahümmebarik, duaları aşağıdaki namazların hangisinin ilk oturuşunda okunur?

- A) Öğle namazının ilk sünneti  
B) Öğle namazının farzı  
C) Yatsı namazının farzı  
D) İkinci namazının sünneti

## EK SINAV

18. Amentü esasları aşağıdakilerden hangisini ifade eder?

- A) İslam'ın şartlarını
- B) İmanın şartlarını
- C) Ahlak esaslarını
- D) Namazın farzlarını

19. • Sözlükte; temizlik, bereket, çoğalmak anlamına gelir.  
• İslam'ın beş temel esasından biridir.  
• Medine döneminde farz kılınmıştır.

**Hakkında bilgi verilen ibadet aşağıdakilerden hangisidir?**

- A) Namaz
- B) Oruç
- C) Zekat
- D) Hac

20. “De ki: Ben de sizin gibi bir beşerim ancak bana vahyolunuyor...”  
(Kehf suresi, 110. ayet)

**Bu ayette Hz. Muhammed (sav.)'in hangi özelliği dile getirilmektedir?**

- A) Peygamber olduğu
- B) Güvenilir olduğu
- C) Merhametli olduğu
- D) Güzel ahlaklı olduğu

### (466) TEMEL DİNİ BİLGİLER – 2

1. • Kanun Kitabı  
• Nebiler Kitabı  
• Yazılar Kitabı

**Bu verilenler aşağıdakilerden hangisinin bölümleridir?**

- A) İncil
- B) Zebur
- C) Tevrat
- D) Suhuf

2. Bütün peygamberin akıllı ve zeki olmaları aşağıdakilerden hangisiyle ifade edilir?

- A) Sıdk
- B) İsmet
- C) Fetanet
- D) Emanet

3. Aşağıdakilerden hangisi Kur'an-ı Kerim'i diğer ilahi kitaplardan ayıran temel niteliklerden biri değildir?

- A) Son ilahi kitap olması.
- B) Tüm insanlığa gönderilmiş olması.
- C) Günümüze kadar bozulmadan gelmesi.
- D) Allah tarafından gönderilmiş olması.

4. Hz. Ebubekir'in emriyle Kur'an ayetlerini iki kapak arasına toplamakla görevlendirilen komisyonun başkanı aşağıdakilerden hangisidir?

- A) Abdullah b. Ömer
- B) Zeyd b. Sabit
- C) Hz. Ömer
- D) Hz. Ali

5. Vahyin indiriliş sürecinin 23 yıl sürmesi aşağıdakilerden hangisini kolaylaştırdığı söylenmez?

- A) Yazılıp ezberlenmesini
- B) Ortaya çıkan problemlerin çözülmesini
- C) Hükümlerinin benimsenmesini
- D) Müslümanlara yapılan baskı ve işkencelerin durmasını

6. Fetretü'l-Vahiy'in anlamı aşağıdakilerden hangisidir?

- A) Hz. Muhammed'e ilk vahiy geldikten sonra vahyin bir süre kesilmesi
- B) Hz. Muhammed'e vahyin yoğun olarak gelmesi
- C) Hz. Muhammed'e ilk vahyin gelmeye başlaması
- D) Hz. Muhammed'in vefatıyla vahyin kesilmesi

7. “... Kur'an-ı güzel bir şekilde tane tane oku.”

(Müzzemmil Suresi, 4. ayet)

**Bu ayette aşağıdakilerden hangilerine vurgu yapılmıştır?**

- A) Hatim - Hafızlık
- B) Aşır - Mukabele
- C) Tecvit - Tertil
- D) Meal - Tefsir

8. Hz. Muhammed (sav.)'in hicretten önce, mesajını ulaştırmak için gittiği ve hoş karşılanmadığı yer aşağıdakilerden hangisidir?

- A) Taif
- B) Tebuk
- C) Medine
- D) Habeşistan

9. Aşağıdakilerden hangisi kendisine suhuf verilen peygamberlerdendir?

- A) Hz. İbrahim
- B) Hz. İsmail
- C) Hz. Yakup
- D) Hz. Yusuf

10. Hz. Muhammed (sav.) Medine'ye hicret ettiğinde Medineli Yahudiler, Müslümanlar ve diğer gruplar arasında toplumsal barışa yönelik yaptığı antlaşma aşağıdakilerden hangisidir?

- A) I. Akabe Biati
- B) Medine Vesikası
- C) Hudeybiye Sözleşesi
- D) Kardeşlik Antlaşması

11. Aşağıdakilerden hangisi Hz. Muhammed'in Mekke'de yaşadığı olaylardan biri değildir?

- A) Boykot hadisesi
- B) Mescidi Nebi'nin inşası
- C) Kâbe hakemliği
- D) Taif ziyareti

12. Aşağıdakilerden hangisi İslam tarihinde “Hüzün Yılı” olarak bilinen senede vefat etmiştir?

- A) Abdülmuttalip
- B) Hz. Hamza
- C) Ebu Talip
- D) Hz. Aişe

13. “... İnsanlara doğru yolu gösteren, hidayeti açıklayan, hakkı ve batılı birbirinden ayırt eden Kur'an, Ramazan ayında indirilmiştir...”  
(Bakara Suresi, 185. ayet)

**Aşağıdakilerden hangisi bu ayetten çıkarılamaz?**

- A) Kur'an insanlara rehberdir.
- B) Kur'an doğru ve yanlış ayırt etmiştir.
- C) Kur'an doğru yolu bulmaya yardımcı olmuştur.
- D) Kur'an Kadir gecesinde indirilmiştir.



## EK SINAV

14. İblis, Hz. Adem'e secde etmesi emredildiğinde: "O, *topraktan yaratıldı. Ben ise ateşten yaratıldım. Ateş, topraktan üstündür.*" demiş ve emri yerine getirmemiştir.
- Aşağıdakilerden hangisi İblis'in bu tutumunu ifade eder?**

A) Sui Zan  
B) Hüsnü Zan  
C) Kin ve Düşmanlık  
D) Kibir ve Hasetlik

15. **Aşağıdaki sözlerden hangisi konusu itibariyle diğerlerinden farklıdır?**

A) İnsanların en hayırlısı ahlakı güzel olandır.  
(Hz. Muhammed)  
B) Ben nasıl namaz kılıyorsam siz de öyle kılın.  
(Hz. Muhammed)  
C) Siz hiç Kur'an okumuyor musunuz? Onun ahlakı Kur'an'dı.  
(Hz. Ayşe)  
D) Ben güzel ahlakı tamamlamak için gönderildim.  
(Hz. Muhammed)

16. **Kur'an-ı Kerim'in en uzun sure-si kaç ayettir?**

A) 286  
B) 200  
C) 114  
D) 99

17. "Ey inananlar, mallarınız ve çocuklarınız sizi Allah'ı anmaktan alıkoymasın. Kim bunu yaparsa ziyana uğrayanlardandır."  
(Münafikun Suresi, 9. ayet)

**Bu ayette verilmek istenen asıl mesaj aşağıdakilerden hangisidir?**

A) Mal sahibi olmak dinden uzaklaştırır.  
B) Çocuklara sevgi ve merhamet gösterilmelidir.  
C) Mal ve çocuk sahipleri ziyana uğrarlar.  
D) Sahip olduklarımız Allah'ı anmaya engel olmamalıdır.

18. **Mekkeli müşriklerin Müslümanlara uyguladığı boykot kaç yıl sürmüştür?**

A) 4  
B) 3  
C) 2  
D) 1

19. **Kur'an-ı Kerim'in ayetlerini açıklayan ve yorumlayan bilim dalı aşağıdakilerden hangisidir?**

A) Tecvid  
B) Tefsir  
C) Kıraat  
D) Tasavvuf

20. **Hendek savaşında hendek kazılması fikrini ortaya atan sahabe aşağıdakilerden hangisidir?**

A) Hz. Ali  
B) Hz. Ömer  
C) Bilal-i Habeşî  
D) Selman-ı Farisî

### (476) İŞLETME – 1

1. **"Mal ve hizmetlerin insan gereksinimlerini karşılama özelliğine denir." ifadesi, aşağıdakilerden hangisinin tanımıdır?**

A) Hizmet  
B) Mal  
C) Fayda  
D) İhtiyaç

2. **Ticari işletmelerin öncelikli amacı aşağıdakilerden hangisidir?**

A) Hizmet etmek  
B) Mal üretmek  
C) İşsizliği azaltmak  
D) Kâr elde etmek

3. **Aşağıdakilerden hangisi işletmelerin amaçlarına uygun değildir?**

A) Kâr elde etme  
B) Tekel oluşturma  
C) Mal ve hizmet üretme  
D) Sosyal fayda yaratma

4. **Aşağıdakilerden hangisi kamu işletmelerinin kurulma amaçlarından?**

A) Varolan ulusal kaynakların etkin kullanımını sağlamak  
B) Rekabet yaparak her alanda tekel piyasası oluşturmak  
C) Özel işletmelerin yatırım yapmalarını engellemek  
D) Olabildiğince yüksek kâr elde etmek

5. **Sermaye şirketlerinde ortakların borçlarından dolayı sorumlulukları ne ile sınırlanmıştır?**

A) Şirketin toplam borcu ile  
B) Şirketin toplam sermayesi ile  
C) Ortakların tüm mal varlıkları ile  
D) Ortakların sermaye payları ile

6. **İnsanların çeşitli ihtiyaçlarını karşılayacak mal ve hizmetlerin elde edilmesi faaliyetlerine ne denir?**

A) Üretim  
B) Tüketim  
C) İhtiyaç  
D) Girişim

7. I- Doğal kaynak  
II- Sermaye  
III- Ticaret  
IV- İhtiyaç  
V- Emek

**Mal veya hizmet üretmek için yukarıdakilerden hangisi/hangileri işletmelerde bir araya getirilir?**

A) Yalnız I  
B) III ve IV  
C) I, II ve V  
D) II, III, IV ve V

8. **Aşağıdakilerden hangisi dayanıklı mallara örnek olur?**

A) Kâğıt  
B) Otomobil  
C) Konserve  
D) Peynir

9. **Aşağıdakilerden hangisi işletme yöneticilerinin görevlerindendir?**

A) İşletmenin yapacağı yeni yatırımlarda en son kararı vermek  
B) İşletme kârının ortaklara hangi oranlarda dağıtılacağına karar vermek  
C) Astlarının üstlenmiş oldukları işleri yapmak  
D) İşletme çalışanlarının görevlerini belirlemek

10. **Otel işletmelerinin ana faaliyet konusunu oluşturan hizmet aşağıdakilerden hangisidir?**

A) İletişim  
B) Konaklama  
C) Ulaşım  
D) Finans

## EK SINAV

11. İşletmelerde amaçların belirlenmesi ve bunlara ulaşmayı sağlayacak araçların belirlenmesi hangi yönetim fonksiyonu ile sağlanır?

- A) Denetim
- B) Planlama
- C) Koordinasyon
- D) Organizasyon

12. Aşağıdakilerden hangisi işletmenin başlıca işlevlerindendir?

- A) Finansman B) Planlama
- C) Denetim D) Organizasyon

13. Aşağıdakilerden hangisi personel yönetimi kapsamında değildir?

- A) İşletme çalışanlarının izin işlemleri
- B) İşletme çalışanları ile sendika ilişkileri
- C) İşletmeye gerekli krediyi sağlama
- D) İşletmeye yeni personel alma

14. İşletmenin amaçlarına ulaşabilmesi için, işletme çalışanlarının ortak amaçlar çerçevesinde düzenli çalışmalarının sağlanması işlevi aşağıdakilerden hangisidir?

- A) Muhasebe B) Üretim
- C) Pazarlama D) Yönetim

15. İşletmeyi değişen koşullara göre yeniden düzenlemek için, aşağıdakilerden hangisi yapılır?

- A) Aşırı örgütlenme
- B) Eksik örgütlenme
- C) Yeniden örgütlenme
- D) Hiyerarşik örgütlenme

16. Aşağıdaki işletme türlerinden hangisi üretim araçlarının mülkiyetine göre işletmeler sınıflandırması içinde yer alır?

- A) Özel işletmeler
- B) Hizmet işletmeleri
- C) Endüstri işletmeleri
- D) Tarım sektöründeki işletmeler

- 17. • Üretim faktörleri bir kişide toplanır.
- İşletmenin sahibi ve yöneticisi aynı kişidir.
- En basit, en eski ve çok görülen bir işletme biçimidir.

**Yukarıda özellikleri verilen işletme türü hangisidir?**

- A) Kamu işletmesi
- B) Hizmet işletmesi
- C) Tek sahipli işletme
- D) Dayanıksız mal üreten işletme

18. Aşağıdakilerden hangisi hizmet işletmelerine örnek olmaz?

- A) Hastaneler B) Fabrikalar
- C) Bankalar D) Okullar

- 19. • Müşterilerin mal ve hizmet alımını sürdürmelerini sağlamak
- İşletmenin mal veya hizmetlerinin tanıtımını yapmak
- Yeni müşteriler kazanmak

**Yukarıdaki faaliyetler hangi işletme işlevi ile yerine getirilir?**

- A) Pazarlama B) Üretim
- C) Yönetim D) Finansman

20. Aşağıdakilerden hangisi, işletmelerde organizasyon aşamasında gerçekleştirilmez?

- A) İşleri yapacak personelin görev ve atanması
- B) Yapılacak işlerin belirlenmesi ve gruplandırılması
- C) Göreve atanan kişilerin yetki ve sorumluluklarının belirlenmesi
- D) Planlamada belirlenen hedeflere hangi ölçüde ulaşıldığının araştırılması

2. Aşağıdakilerden hangisi kamu işletmelerinin özelliklerinden değildir?

- A) Sermayelerinin devlete ait olması
- B) Asıl amaçlarının tekel oluşturmak olması
- C) Kamu yönetimine doğrudan ya da dolaylı olarak bağlı olması
- D) Özel yasalarla kurulup özel hukuk kurallarına göre işletiliyor olması

3. Aşağıdakilerden hangisi üretim yapan bir endüstri işletmesidir?

- A) Demir çelik fabrikası
- B) Ticaret işletmesi
- C) Banka
- D) Okul

4. Bir işletmedeki başlıca birimleri, bunlar arasındaki karşılıklı ilişkileri ve işi yürütmekle görevli olanları aşağıdakilerden hangisi gösterir?

- A) İşletme bütçesi
- B) Teşkilat şeması
- C) Kâr/zarar tablosu
- D) İşletme bilançosu

5. Aşağıdakilerden hangisi sermaye şirketlerinin şahıs işletmelerine göre olumlu yönlerindendir?

- A) Faaliyetlerin gizli olması
- B) Kurulmasının kolay olması
- C) Yetkilerin bir kişide toplanmış olması
- D) Yönetimin belli bir sisteme bağlı olması

6. İnsan ihtiyaçlarını karşılamak üzere, ekonomik mal ve hizmet üretmek için faaliyette bulunan kuruluşlara ne denir?

- A) Fabrika B) İşletme
- C) Dükkân D) Büro

### (477) İŞLETME – 2

1. Özel işletmelerin kamu işletmelerinden farklı olan amacı aşağıdakilerden hangisidir?

- A) Verimli olmak
- B) Kâr elde etmek
- C) İstihdamı sürekli kılmak
- D) Mal veya hizmet üretmek

## EK SINAV

7.

| İşletme     | Hizmet    |
|-------------|-----------|
| I- Banka    | Finans    |
| II- Okul    | Konaklama |
| III- Otel   | Eğitim    |
| IV- Hastane | Sağlık    |

**Yukarıdaki işletme hizmet eşleştirmelerinden hangisi/hangileri doğrudur?**

- A) Yalnız I      B) II ve III  
C) I ve IV      D) II, III ve IV

8. **Aşağıdakilerden hangisi dayanıklı mallara örnek olur?**

- A) Fırın      B) Konserve  
C) Makarna      D) Kâğıt

9. **Aşağıdakilerden hangisi işletme yöneticilerinde olması gereken özelliklere göre yanlıştır?**

- A) Personelinin çalışmalarından haberdar olması  
B) Çalışanlarının işle ilgili görüşlerini almalı  
C) Sorumluluk almaya hazır olmalı  
D) Yetki almaktan kaçınmalı

10. **Kamu kuruluşları bünyesinde faaliyette bulunan kreşlerin kurulma amaçları, işletmelerin hangi amacına örnek olur?**

- A) Kâr elde etmek  
B) İşsizliği azaltmak  
C) Mal ve hizmet üretmek  
D) Topluma hizmet etmek

11. **İşletme yönetiminin organizasyon işlevinde son olarak aşağıdakilerden hangisi yapılır?**

- A) Yapılacak işlerin belirlenmesi  
B) Yetki ve sorumlulukların belirlenmesi  
C) İşleri yapacak kişilerin göreve atanması  
D) Çalışma yerleri, kullanılacak araç ve yöntemlerin seçilmesi

12. **İşletmelerin çalışanlarını memnun etmek ve onların daha verimli olmalarını sağlamak için aşağıdakilerden hangisini yapmaları etkili olur?**

- A) Topluma hizmet etmek  
B) Çalışanlarına iyi ücret ödemek  
C) Kaliteli mal ve hizmet üretmek  
D) Tüketicileri doğru bilgilendirmek

13. **Aşağıdakilerden hangisi işletmelerin çalışanlarına karşı olan sorumluluklarından biridir?**

- A) Vergi ödeme  
B) Çevreyi kirletmeme  
C) İş güvenliğini sağlama  
D) Kaliteli mal ve hizmet üretme

14. **Bir işletmenin kurulması ve işletilmesi için gerekli paranın sağlanması hangi işletme fonksiyonu ile yerine getirilir?**

- A) Finansman      B) Pazarlama  
C) Üretim      D) Yönetim

15. **Hiyerarşik denetimde işletme yöneticisi aşağıdaki kişilerden hangisini denetleyebilir?**

- A) İşletme ortaklarını  
B) Üst kademe yöneticisini  
C) İşletmenin genel müdürünü  
D) Alt kademesinde çalışanlarını

16. **Aşağıdakilerden hangisi şahıs işletmelerinin özelliklerinden biridir?**

- A) Büyüme yeteneği sonsuzdur.  
B) Yönetim belli bir sisteme bağlıdır.  
C) İşletmede yetkiler bir kişide toplanır.  
D) İşletmeden alacaklı olanlara karşı sorumlulukları sınırlıdır.

17. I- Gerekli kredileri sağlama  
II- Mal ve hizmetleri üretme  
III- Ticari faaliyetleri kaydetme  
IV- Satışları artırmak için reklam yapma

**Yukarıdakilerden hangisi/hangileri işletmenin pazarlama fonksiyonu kapsamında yerine getirilir?**

- A) Yalnız I      B) Yalnız IV  
C) II ve III      D) III ve IV

18. **Yönetimin planlamadan sonra gelen işlevi aşağıdakilerden hangisidir?**

- A) Denetim  
B) Sevk ve idare  
C) Organizasyon  
D) Koordinasyon

19. **İşletmelerde bilinen organizasyon kurallarının uygulanmaması veya gözden kaçırılması sonucu aşağıdakilerden hangisi oluşur?**

- A) Tam örgütlenme  
B) Aşırı örgütlenme  
C) Eksik örgütlenme  
D) Yeniden örgütlenme

20. **Aşağıdakilerden hangisi işletmelerin başlıca işlevlerinden biri değildir?**

- A) Tüketim      B) Üretim  
C) Pazarlama      D) Finansman

(478) MANTIK – 1

1. **Aşağıdakilerden hangisi mantık ilkelerinden değildir?**

- A) Özdeşlik  
B) Çelişmezlik  
C) Tümevarım  
D) Üçüncü halin imkansızlığı

2. **“Kar yağıyor mu?” sorusuna “Kar hem yağıyor hem de yağmıyor” diye cevap veren bir kişi mantık ilkelerinden hangisine aykırı bir cevap vermiştir?**

- A) Özdeşlik  
B) Çelişmezlik  
C) Yeter - Neden ilkesi  
D) Üçüncü halin imkansızlığı

3. **Aşağıdakilerden hangisi mantığın inceleme konuları arasında gösterilemez?**

- A) Doğru düşünmenin kuralları  
B) Akıl yürütmenin ilkeleri  
C) İnsan aklının işleyiş yolları  
D) Doğadaki olay ve olgular

## EK SINAV

### 4. Aşağıdaki ifadelerden hangisi yanlıştır?

- A) Aristoteles'in mantık üzerine yazdığı altı kitap, kendisinden sonra "Organon" adı altında toplanmıştır.
- B) Mantık, doğru düşünmenin kurallarını inceleyen bir disiplindir.
- C) Tümdengelim; özelden genele, tikelden tümele uzanan düşünme biçimidir.
- D) Bilgi doğrusu, yargının nesne- siyle olan uygunluğudur.

### 5. Aşağıdakilerden hangisi tümel kavramdır?

- A) Ayşe
- B) Bazı insanlar
- C) Kimi insanlar
- D) Tüm insanlar

### 6. Aşağıdakilerden hangisi olumsuz kavramdır?

- A) Görgüsüz
- B) Yürüyen
- C) Gayretli
- D) Tembel

### 7. Varlık → Canlı → Bitki → Ağaç Verilenlerden hangisinin içlemi en fazladır?

- A) Varlık
- B) Canlı
- C) Bitki
- D) Ağaç

- 8. I. Yiğit
- II. İnsanlık
- III. Güzellik
- IV. Kitap

### Yukarıda verilenlerden hangile- ri soyut kavramdır?

- A) I ve II
- B) II ve III
- C) I ve IV
- D) II ve IV

### 9. Hiçbir kedi köpek değildir. Hiçbir köpek kedi değildir.

### Yukarıda verilen önermelerde kedi ve köpek kavramları ara- sındaki ilişki türü hangisidir?

- A) Ayrıklık ilişkisi
- B) Eşitlik ilişkisi
- C) Tam girişimlilik ilişkisi
- D) Eksik girişimlilik ilişkisi

### 10. Aşağıdaki kavramlardan hangi- si sadece insana özgü bir özel- liği ifade eder?

- A) Üremek
- B) Uyumak
- C) Okumak
- D) Dinlenmek

### 11. Aşağıdakilerden hangisi bir önermedir?

- A) Kapalı alanlarda sigara içilmemeli.
- B) Sen neden burada değilsin?
- C) Çabuk buraya gel.
- D) Çalışırsa sınavı kazanır.

### 12. "Her insan geleceğini düşünür" Önermesinin türü aşağıdakiler- den hangisidir?

- A) Tikel olumlu
- B) Tikel olumsuz
- C) Tümel olumlu
- D) Tümel olumsuz

### 13. İçerisinde birden fazla yargı bu- lunduran önermelere bileşik öner- me denir.

### Buna göre aşağıdakilerden hangisi bileşik önerme değildir?

- A) Hava yağmurlu ise caddeler ıslaktır.
- B) Herkes düşünce özgürlüğüne sahiptir.
- C) Berat ve Selman arkadaşlırlar.
- D) Sayı tektir veya çifttir.

### 14. Aşağıdakilerden hangisi bileşik önermedir?

- A) Çocuklar sevimlidir.
- B) Gökhan çalışkandır.
- C) Bazı işçiler grevdedir.
- D) Ayşe çalışır ise başarılı olur.

### 15. • Bütün çiçekler güzeldir. • Bazı çiçekler güzeldir.

### Karşı olum karesine göre yuka- rıda verilen önermeler arasın- daki ilişki biçimi aşağıdakiler- den hangisidir?

- A) Altık
- B) Çelişik
- C) Alt karşıt
- D) Üst karşıt

### 16. Bir önermenin niteliğini değiştir- meden, öznenin olumsuz halini yüklem, yüklem olumsuz halini özne yapmaya "ters döndürme" denir.

### Buna göre "Her bitki canlıdır." önermesinin ters döndürmesi aşağıdakilerden hangisidir?

- A) Bütün canlılar bitkidir.
- B) Bazı bitkiler canlı değildir.
- C) Her canlı olmayan bitki olma- yandır.
- D) Bazı bitki olmayanlar canlı ol- mayan değildir.

### 17. Verilen en az iki önermeden zihnin zorunlu olarak bir sonuç çıkarma işlemi aşağıdakilerden hangisiyle ifade edilir?

- A) Kıyas
- B) Kavram
- C) Terim
- D) Tümevarım

### 18. • Çocuk ana-babasına itaat eder- se yaşam sınavını kazanır. • Çocuk yaşam sınavını kazan- mıştır. • - - - - .

### Yukarıda öncülleri verilen kıya- sın sonucu hangisi olur?

- A) O halde, öğrenci yaşam sına- vını kazanır.
- B) O halde, çocuk ana-babasına itaat etmiştir.
- C) O halde, çocuk ana-babasına itaat etmemiştir.
- D) O halde, çocuk ana-babasına itaat edecektir.

### 19. Aşağıdakilerden hangisi geçerli bir kıyasın kurallarından değildir?

- A) İki tikel öncülden bir sonuç çıkmaz.
- B) Orta terim sonuç önermesinde yer almaz.
- C) İki olumlu öncülden çıkan so- nuç olumludur.
- D) İki olumsuz öncülden olumlu sonuç çıkar.

## EK SINAV

20. 1. Öncül: Rüzgar ekersen fırtına biçersin.  
2. Öncül: Rüzgar ekmedin.  
O halde - - - -.

**Yukarıda verilen öncüllerden zorunlu olarak çıkarılacak sonuç hangisidir?**

- A) Fırtına biçeceksin.  
B) Fırtına biçmeyeceksin.  
C) Rüzgar ekmeyeceksin.  
D) Rüzgar ekeceksin.

### (479) MANTIK – 2

1. Aşağıdakilerden hangisi sembolik mantığın bölümlerinden biri değildir?

- A) Kiplik mantığı  
B) Klasik mantık  
C) Özdeşlik mantığı  
D) İki değerli mantık

2. “ $\sim(p \wedge q) \Rightarrow (p \vee r)$ ” önermesinin ana eklemi hangisidir?

- A)  $\sim$                       B)  $\wedge$   
C)  $\Rightarrow$                     D)  $\vee$

3. “ $(p \vee q) \Rightarrow \sim(p \wedge r)$ ” önermesinin ana bileşenleri hangisinde birlikte verilmiştir?

- A)  $(p \vee q)$   
B)  $(p \vee q), \sim(p \wedge r)$   
C)  $(p \vee q), (p \wedge r)$   
D)  $\Rightarrow, \sim$

4. Aşağıdaki sembolleştirilmiş önermelerden “ $\sim$ ” değilleme eklemi hangisinde ana eklem olarak kullanılmıştır?

- A)  $\sim(p \vee q)$   
B)  $\sim p \vee \sim q$   
C)  $\sim p \Rightarrow q$   
D)  $(\sim p \wedge \sim q) \Leftrightarrow \sim r$

5. “Öğrenci, öğretmen ve veli birbirini tamamlar.”  
**Önermesi kaç yüklemli bir önermedir?**

- A) Birli                      B) İkili  
C) Üçlü                      D) Dörtlü

6. “İnsan çalışır ve gayret ederse mutlu olur.”

**Önermesinin önermeler mantığındaki sembolleştirilmiş biçimi aşağıdakilerden hangisidir?**

- A)  $p \wedge q \Leftrightarrow r$                       B)  $p \vee q \Rightarrow r$   
C)  $p \wedge q \Rightarrow r$                       D)  $p \Rightarrow q$

7.

| I                 | II                         | III                   | IV                                  |
|-------------------|----------------------------|-----------------------|-------------------------------------|
| $p \Rightarrow q$ | $\sim p \Leftrightarrow q$ | $(p \vee q) \wedge p$ | $(p \vee q) \vee (p \Rightarrow q)$ |
| D                 | Y                          | D                     | D                                   |
| Y                 | D                          | D                     | D                                   |
| D                 | D                          | Y                     | D                                   |
| D                 | Y                          | Y                     | D                                   |

**Yukarıda doğruluk değerleri verilen numaralandırılmış önermelerden hangisi geçerlidir?**

- A) I numaralı önerme  
B) II numaralı önerme  
C) III numaralı önerme  
D) IV numaralı önerme

8. Çözümleyici çizelge kurallarına göre “ $p \wedge q \wedge r$ ” önermesinin çözümlemesi aşağıdakilerden hangisidir?

- A)   
B)   
C)   
D)

9. Nicleme mantığında iki tür niceleyici vardır.  
**Bunlar hangisinde birlikte verilmiştir?**

- A) zorunlu ( $\square$ ), mümkün ( $\diamond$ )  
B) tümel ( $\forall$ ), tikel ( $\exists$ )  
C) tikel ( $\exists$ ), mümkün ( $\diamond$ )  
D) tümel ( $\forall$ ), zorunlu ( $\square$ )

10. Açık önerme, içinde değişken bulunan önermedir.

**Aşağıdakilerden hangisi açık önermedir?**

- A) Sokrates, filozoftur.  
B) Ali, öğretmendir.  
C) 1, tek sayıdır.  
D) x, öğrencidir.

11. “ $\forall x (x \text{ hayvandır.})$ ” önermesinin doğruluk değeri aşağıda verilen evrenlerin hangisinde doğru olur?

- I- E= {kedi, aslan, yılan}  
II- E= {taş, demir, kuş}  
III- E= {taş, demir, altın}

- A) Yalnız I                      B) Yalnız II  
C) Yalnız III                      D) II ve III

12. Nicleme mantığında “ $\exists$ ” sembolü hangisiyle adlandırılır?

- A) Tikel niceleyici  
B) Tümel niceleyici  
C) Zorunlu önerme  
D) Mümkün önerme

13. “Ayşe çirkin değildir.” önermesinin nicleme mantığındaki ifadesi hangisidir?

- A)  $p \vee q$                       B)  $\sim Fa$   
C)  $p \wedge q$                       D)  $Fa \wedge Gb$

14. Tümel niceleyici değilleme kuralına göre “ $\sim \forall x Fx$ ” önermesinin dengi olan tikel önerme hangisidir?

- A)  $\forall x Fx$                       B)  $\forall x \sim Fx$   
C)  $\sim \forall x \sim Fx$                       D)  $\exists x \sim Fx$

## EK SINAV

### (481) SANAT TARİHİ – 1

15. “x filozoftur.” açık önermesinin evreni  $E = \{ \text{Sokrates, Ali, Banu} \}$

**Buna göre “sokrates filozoftur” yargısı verilen evrende aşağıdakilerden hangisini ifade eder?**

- A) Değilleme  
B) Özelleme  
C) Geçerlilik  
D) Sembolleştirme

16. Aşağıdaki önermelerden hangisinin özne ve yüklemi birbirine özdeş ya da eşittir?

- A)  $a \vee b$       B)  $a \wedge b$   
C)  $a \equiv b$       D)  $a \Rightarrow b$

17. I. Matematik  
II. Bilgisayar teknolojisi  
III. Eleştirel düşünme

**Yukarıda verilenlerden hangileri mantığın uygulandığı alanlardandır?**

- A) I ve II      B) I ve III  
C) II ve III      D) I, II ve III

18. İspatlanmaya gerek olmayan, doğruluğu açıkça belli olan önermeler aşağıdakilerden hangisiyle ifade edilir?

- A) Tanım      B) Varsayım  
C) Aksiyom      D) Tümevarım

19. Aşağıdakilerden hangisi mantık felsefesinin ele aldığı sorunlardan değildir?

- A) Doğa bilimlerinin konusu nedir?  
B) Mantık ilkelerinin temel kaynağı nedir?  
C) Mantık ilkeleri varlığın temel ilkeleri de sayılabilir mi?  
D) Mantık ilkeleri her yer ve zaman için geçerli midir?

20. Aşağıdakilerden hangisi mantıklı bir insanda görülen bir özellik olamaz?

- A) Akılcı bir tartışmayı sürdürebilme  
B) Eleştirel bir düşünme biçimine sahip olma  
C) Yeterince ispatlanmamış bilgilere inanmama  
D) Zihninde birbiriyle çelişik düşüncelere yer verme

1. Aşağıdakilerden hangisi, dramatik ve ritmik sanatlar içerisinde yer almaz?

- A) Bale      B) Dans  
C) Müzik      D) Opera

2. Dağlar, ovalar, ağaçlar, nehirler ve ormanları içeren manzara betimlerine ne ad verilir?

- A) Büst      B) Peyzaj  
C) Portre      D) Soyut Resim

3. Avrupa’da 17. yüzyıldan sonra gelişen sanat tarihi bilimi ülkemizde, aşağıdaki dönemlerin hangisinde önem kazanmaya başlamıştır?

- A) Millî Mücadele Dönemi  
B) Cumhuriyet Dönemi  
C) Meşrutiyet Dönemi  
D) Tanzimat Dönemi

4. Aşağıdakilerden hangisi, mimarinin kullanılış amacına göre yapılan bir gruplandırma?

- A) Ev - Saray - Cami  
B) Taş - Ahşap - Tuğla  
C) Türk - Arap - İtalyan  
D) Rönesans - Roman - Gotik

5. I- Rölyef  
II- Gravür  
III- Kabartma

**Verilenlerden hangileri anlamdaştır?**

- A) I ve II      B) I ve III  
C) II ve III      D) I, II ve III

6. Roma sanatının en güzel örneklerini aşağıdakilerin hangisinde izleriz?

- A) Kabartmalarda  
B) Gravürlerde  
C) Resimlerde  
D) Mimaride

7. Çayönü ve Catalhöyük antik kentleri, aşağıdaki hangi devirle tarihlenirler?

- A) Paleolitik      B) Mezolitik  
C) Neolitik      D) Kalkolitik

8. Günümüzde Sümer uygarlığına ait izlere aşağıdaki hangi ülkelerde rastlarız?

- A) Çin      B) Yemen  
C) Mısır      D) Irak

9. Aşağıdakilerden hangisi antik mimaride giriş görevi yapar?

- A) Arşitrav      B) Aplike  
C) Andron      D) Arena

10. Aşağıdakilerden hangisi “şehir devletleri” şeklinde örgütlenmiştir?

- A) Hititler      B) Lidyalılar  
C) Urartular      D) Sümerler

11. Arkaik Dönemde yapılan “iri yapılı, kuvvetli ve adaleli çıplak erkek” heykellerine ne ad verilir?

- A) Kore      B) Kuros  
C) Kanon      D) Karum

12. Bizans sanatının, aşağıdaki dönemlerinden hangisinde konulu ve figürlü resimler yasaklanmıştır?

- A) Son Bizans Dönemi  
B) Orta Bizans Dönemi  
C) Erken Bizans Dönemi  
D) İkonoklazma Dönemi

13. “Rönesans mimarisinde malzeme olarak - - - - ve - - - - kullanılmıştır.”

**Verilen cümlede boş bırakılan yerlere, aşağıdakilerden hangisi getirilmelidir?**

- A) ahşap ve taş  
B) taş ve mermer  
C) mermer ve tuğla  
D) tuğla ve ahşap

## EK SINAV

### (482) SANAT TARİHİ – 2

14. Roman mimarisi ile yapılmış katedral ve kiliselerde, aşağıdakilerden hangisi görülmez?

- A) Sivri kemerler
- B) Yuvarlak kemerler
- C) Kubbe ve tonozların ağırlığını taşıyan kalın duvarlar
- D) Koro bölümünün altına yapılan yer altı mezarları

15. Aşağıdakilerden hangisi “Baş Kilise” olarak adlandırılır?

- A) Kilise
- B) Manastır
- C) Katedral
- D) Sinagog

16. Aşağıdakilerden hangisi Neoklasik mimarlardan değildir?

- A) Borromini
- B) Langhans
- C) Winckelmann
- D) Andrea Palladio

17. Orta Çağ'ın katı kural ve şekilciliğinden uzaklaşan sanatçıların ilk defa kendi sanat görüşlerini özgürce çalışmalarına yansıttığı sanat akımı, aşağıdakilerden hangisidir?

- A) Fovizm
- B) Kübizm
- C) Rönesans
- D) Empresyonizm

18. Gotik sanatı tüm sanatlara yayıldığı halde en önemli başarılarını, aşağıdaki hangi alanda ortaya koymuştur?

- A) Mimarlık
- B) Müzik
- C) Resim
- D) Tiyatro

19. Aşağıdaki yapılardan hangisi, Rönesans mimarlarından Filippo Brunelleschi'ye ait değildir?

- A) Pazzi Şapeli
- B) Pitti Sarayı
- C) Tempietto Kilisesi
- D) Floransa Öksüzler Yurdu

20. Manzara resminin diğer adı, aşağıdakilerden hangisidir?

- A) Nü
- B) Rölyef
- C) Portre
- D) Peyzaj

1. Türklerin ilk ana yurdu olan Orta Asya'nın kuzeyinde bulunan coğrafi bölge, aşağıdakilerden hangisidir?

- A) Sibiry
- B) Karadeniz
- C) Kingan Dağları
- D) Hazar Denizi

2. Üzerleri toprakla örtülü Orta Asya mezar yapısına ne ad verilir?

- A) Kubbe
- B) Kurgan
- C) Balbal
- D) Külâh

3. Orhun Anıtları'nın yazımında kullanılan alfabe, aşağıdakilerden hangisidir?

- A) Çin
- B) Uygur
- C) Arap
- D) Göktürk

4. Uygurlar;  
I- alçı  
II- ahşap  
III- taş

**gibi malzemelerden hangileri ile heykeller yapmışlardır?**

- A) Yalnız I
- B) Yalnız II
- C) Yalnız III
- D) I, II ve III

5. İslam mimarisinin ilk örneklerine, aşağıdaki şehirlerin hangisinde rastlanır?

- A) Mekke
- B) Kudüs
- C) Medine
- D) İstanbul

6. • Halife Abdülmelik tarafından 702 yılında Kudüs'te yaptırılmıştır.  
• Yapı bazilikal planlıdır.  
• Mihrap (güney) duvarına dik olarak uzanan 15 sahnın, mihraba paralel bir sahnla kesilmiş, ayrıca mihrap önü kubbe ile örtülmüştür.  
• Yapıda malzeme olarak kesme taş kullanılmıştır.

**Mimari özellikleri verilen yapı, aşağıdakilerden hangisidir?**

- A) Kubbetü's Sahra Camisi
- B) Mescid-i Aksa Camisi
- C) Şam Emeviye Camisi
- D) Kordoba Camisi

7. Fatimî Dönemi mimarisinin en önemli özelliği, aşağıdakilerden hangisidir?

- A) Çoklu kubbe
- B) Uzun, ince minareler
- C) Taş cephe düzenlemesi
- D) Son cemaat yeri

8. Sultan Alparslan'ın kızı Ayşe Bibi Hanım için inşa edilmiş olan kare planlı, kubbe ile örtülü türbe, günümüzde hangi şehirdedir?

- A) Talas
- B) Gazne
- C) Merv
- D) Tim

9. “İslam Devleti'ndeki bazı camilerin mihrabının yanında “maksure” denilen, halifeler için yapılmış parmaklık veya kafesle ayrılmış bir ibadet bölümü bulunurdu ki bu bölüme Osmanlılar - - - - adını vererek cami mimarisinde kullanmayı sürdürmüşlerdir.”

**Verilen bilgi cümlesinin doğru olabilmesi için boş bırakılan yere, aşağıdakilerden hangisi yazılmalıdır?**

- A) Sahn
- B) Harem
- C) Şerefe
- D) Hünkâr mahfili

10. Kare planlı bir avlu çevresinde dört eyvanlı olarak yaptırılan Rey Medresesi, aşağıdaki hangi Büyük Selçuklu hükümdarı döneminde inşa edilmiştir?

- A) Alparslan
- B) Melikşah
- C) Berkjaruk
- D) Sultan Sencer

11. “Anadolu'daki Selçuklu medreseleri, - - - - açık ya da kapalı olmasına göre iki plan tipinde inşa edilmişlerdir.”

**Verilen bilgi cümlesinin doğru olabilmesi için boş bırakılan yere, aşağıdakilerden hangisi getirilmelidir?**

- A) şadırvanın
- B) mihrabın
- C) kubbenin
- D) avlunun

## EK SINAV

12. Kubadabad Sarayı'nı, 1236 yılında Selçuklu hükümdarı Alaeddin Keykubat, aşağıdaki göllerden hangisinin kıyısına yaptırmıştır?

- A) Beyşehir Gölü
- B) Sapanca Gölü
- C) Eğirdir Gölü
- D) Van Gölü

13. Büyük Selçuklu mimarisine ait aşağıdaki yapılardan hangisinin yapılış tarihi, diğerlerine göre daha eskidir?

- A) İsfahan Mescid-i Cuması
- B) Sultan Sencer Türbesi
- C) Gülpâyegan Camisi
- D) Kümbet-i Surkh

14. Aşağıdaki medreselerden hangisi, başlangıçta rasathane olarak yapılmış fakat daha sonra medreseye dönüştürülmüştür?

- A) Sivas - Gök Medrese
- B) Tokat - Yağbasan Medresesi
- C) Kırşehir - Caca Bey Medresesi
- D) Konya - İnce Minareli Medrese

15. Genelde binanın duvarlarını yağmurdan korumak amacıyla kullanılan ve çatının, yapının dışına taşan kısmına verilen mimari isim, aşağıdakilerden hangisidir?

- A) Revak
- B) Saçak
- C) Çanak
- D) Şallak

16. Bursa'da bulunan Yeşil Türbe, aşağıdaki hangi Osmanlı padişahı adına yapılmıştır?

- A) Orhan Bey
- B) Osman Bey
- C) I. Murat
- D) Çelebi Mehmet

17. Aşağıdakilerden hangisi, Türk mimarisinde 1900 – 1930'lu yılları arasında görülen Neoklasik Dönemin ünlü mimarlarından biridir?

- A) Serkis Balyan
- B) İbrahim Çallı
- C) Kemalettin Bey
- D) Mustafa Rakım Efendi

18. Aşağıdaki eserlerden hangisi soyut ressam Yüksel Arslan'a ait değildir?

- A) "Üç Güzeller"
- B) "Arture"
- C) "Kapital"
- D) "Yabancılaşma"

19. • Ressam, bakır oymacı ve heykeltıraş olan Avusturyalı sanatçı, ilk cumhuriyet anıtlarını yapması için Türk hükûmetince ülkemize davet edilmiştir.  
• 1926 tarihli İstanbul Sarayburnu Atatürk heykeli, sanatçının ilk yapıtıdır.  
• Konya Atatürk Anıtı, Ankara Ulus Meydanı Atatürk Anıtı, Samsun Atlı Atatürk Anıtı, sanatçının diğer önemli eserleridir.

Hakkında kısa bilgi verilerek tanıtılmaya çalışılan Avusturyalı sanatçı, aşağıdakilerden hangisidir?

- A) Pietro Canonica
- B) Heinrich Krippel
- C) Rudolp Belling
- D) Clemens Holzmeister

20. İznik, 17. yüzyıldan itibaren çini ve keramik üretim merkezi olma özelliğini kaybedince, yerini aşağıdaki şehirlerden hangisi almıştır?

- A) İstanbul
- B) Bursa
- C) Kütahya
- D) Erzurum

### (483) SAĞLIK BİLGİSİ – 1

1. Bir yıldaki canlı doğum sayısından, o yıl içindeki ölüm sayısının çıkarılarak, o toplumun yıl ortası nüfusuna bölünüp bin ile çarpımı ile bulunan sağlık ölçütü aşağıdakilerden hangisidir?

- A) Kaba doğum hızı
- B) Bebek ölüm hızı
- C) Nüfus artış hızı
- D) Kaba ölüm hızı

2. Aşağıdakilerden hangisi kalıtsal hastalıklardandır?

- A) Kızamık
- B) Menenjit
- C) Kabakulak
- D) Altıparmaklılık

3. Aşağıdakilerden hangisi, sağlığı tehdit eden kimyasal etmenlerdendir?

- A) Zehirler
- B) Vektörler
- C) Ruhsal gerginlikler
- D) Mikroorganizmalar

4. Ülkemizde unlu gıdalara ağırlık verilen beslenme tarzı ve bebeklerin kundaklanması gibi durumlar, sağlığa etki eden hangi etmenlerin içerisinde değerlendirilir?

- A) Biyolojik
- B) Kimyasal
- C) Psikolojik
- D) Sosyal, kültürel ve ekonomik

5. İçme sularına karıştığında zehirlenmelere yol açan inorganik madde, aşağıdakilerden hangisidir?

- A) Virüs
- B) Arsenik
- C) Parazit
- D) Bakteri

6. Aşağıdakilerden hangisi, koruyucu sağlık hizmetlerinden biri değildir?

- A) Rehabilitasyon
- B) Sağlık eğitimi
- C) İyi beslenme
- D) Erken tanı

7. Aşağıdakilerden hangisi, tırnak temizliği için yapılması gereken uygulamalardan biri değildir?

- A) Banyo yaparken tırnak fırçası kullanılması
- B) El tırnaklarının düz olarak kesilmesi
- C) Varsa, ojelerin eskimemiş olması
- D) Tırnakların düzenli kesilmesi



## EK SINAV

8. I. Saçların yumuşak bir havlu ile kurulanması  
II. Elektrikli kurutucuların saçta çok yakın tutulması  
III. Normal bir saçın, haftada en az bir ya da iki kez yıkanması

**Yukarıdakilerden hangileri, saç temizliği ve bakımı için yapılan doğru uygulamalardandır?**

- A) Yalnız I      B) I ve II  
C) I ve III      D) I, II ve III

9. Diş özü bölgesinde ve çene kemiği içerisinde, cerahat oluşmasına ne ad verilir?

- A) Plak      B) Diş apsesi  
C) Diş minesini      D) Diş çürüğü

10. I. Sinüzit  
II. Diş çürüğü  
III. Şeker hastalığı

**Yukarıda verilenlerden hangileri, ağız kokusuna neden olur?**

- A) Yalnız I      B) I ve II  
C) II ve III      D) I, II ve III

11. Sağlıklı, yeterli ve dengeli beslenmek için, aşağıdakilerden hangisinin yapılması doğrudur?

- A) Besin öğelerinden yeterli miktarda almalıyız.  
B) Bütün besin öğelerinden fazla miktarda almalıyız.  
C) Sadece protein ve karbonhidratlarla beslenmeliyiz.  
D) Vitamin ve mineralleri ihtiyacımızdan fazla almalıyız.

12. Öğrenciler için en önemli öğün kahvaltıdır.

**Buna göre aşağıdakilerden hangisi, kahvaltı yapılmadığı takdirde ortaya çıkabilecek problemlerden biri değildir?**

- A) Baş ağrısı  
B) Yorgunluk  
C) Dikkat dağınıklığı  
D) Zihinsel performansta artma

13. Çocukların aileden uzaklaşmaya başlayıp, arkadaşlık ilişkileri kurarak, gerçek anlamda ilk kez sosyalleşmeye başladıkları yaş aralığı aşağıdakilerden hangisidir?

- A) 0 - 3      B) 3 - 6  
C) 6 - 12      D) 12 - 18

14. Aşağıdakilerden hangisi, ergenlik döneminde görülen sorunlardandır?

- A) Genel ilkeleri soyut durumlara uygulayabilmesi  
B) Küçük kas gelişimine dayalı işlerde başarılı olması  
C) Semboller yoluyla kavrayabilme yeteneğinin gelişmesi  
D) Ana-babanın uyarılarına birden tepki gösterip ters yanıtlar vermesi

15. I. Sınıf öğretmeni  
II. Rehber öğretmeni  
III. Okulun kantin görevlisi

**Öğrenci, okul yaşamında karşılaştığı psikolojik sorunlarda, yukarıdaki kişilerin hangilerinden yardım istemelidir?**

- A) Yalnız I      B) I ve II  
C) II ve III      D) I, II ve III

16. Aşağıdakilerden hangisi, ruh sağlığını etkileyen kişisel faktörlerden biri değildir?

- A) Aile  
B) Cinsiyet  
C) Beden sağlığı  
D) Medeni durum

17. Aşağıdakilerden hangisi, ruh sağlığının korunmasında birincil koruma ilkelerindendir?

- A) İlaç kullanımının takibi  
B) Tanı konmuş hasta ve yakınlarının eğitimi  
C) Kişisel gelişim programlarının uygulanması  
D) Klinikte yatan hastanın bakım ve tedavisinin sağlanması

18. I. İçerisinde alkol olan içeceklerin kullanımı, bağımlılık yapabilir.  
II. Az miktarda sürekli ve zaman içerisinde artan dozda alkol alımı, bir süre sonra bağımlılığa dönüşebilir.

**Yukarıda alkol bağımlılığı ile ilgili olarak verilenler için ne söylenir?**

- A) Yalnız I doğru  
B) Yalnız II doğru  
C) Her ikisi de doğru  
D) Her ikisi de yanlış

19. Aşağıdakilerden hangisi, uyuşturucu maddelerin sosyal ve maddi etkilerindendir?

- A) Toplumdan kopma  
B) Kan zehirlenmesi  
C) Gece körlüğü  
D) Nefes darlığı

20. Aşağıdakilerden hangisi, uyuşturucu madde bağımlılarına rehabilitasyon aşamasında yapılan uygulamalardandır?

- A) Yoksunluk belirtileriyle savaşılması  
B) Hastanede gözlem altında tutulması  
C) Olumlu hobiler kazanmasının sağlanması  
D) Organlarında meydana gelmiş hasarların tedavi edilmesi

### (484) SAĞLIK BİLGİSİ – 2

1. Aşağıdakilerden hangisi, aile planlamasının çocuk sağlığı açısından yararlıdır?

- A) Anne ölümlerinin azalması  
B) Bebek ölüm oranlarının düşmesi  
C) Annenin üreme organlarına ait sağlık sorunlarının azalması  
D) İstenmeyen gebelik, düşük ve kürtaj sorunlarının ortadan kalkması

2. Gebeliğin kaçınıcı ayına kadar düşüğün ortaya çıkma olasılığı daha yüksektir?

- A) 3.      B) 5.      C) 7.      D) 9.

## EK SINAV

3. I. Kan hacminin artması  
II. Artan demir gereksinmesinin karşılanamaması

**Yukarıda, gebelik döneminde görülen kansızlığın nedenleri ile ilgili olarak verilenler için ne söylenebilir?**

- A) Yalnız I doğru  
B) Yalnız II doğru  
C) Her ikisi de doğru  
D) Her ikisi de yanlış

4. Gebelikte, bazı besinlere karşı şiddetli bir istek veya aşırı bir isteksizliğin görüldüğü duruma ne ad verilir?

- A) Ödem B) Aşerme  
C) Kabızlık D) Osteomalasia

5. Aşağıdakilerden hangisi, 6 aylık bebeğin bedensel ve zihinsel gelişim özelliklerinden biri değildir?

- A) Destekle oturabilir.  
B) Elinden tutulunca yürür.  
C) Alt çenede ilk kesici dişleri çıkar.  
D) Yabancıları, tanıdıklarından ayırabilir.

6. Emzirmeye ilgili verilen bilgilerden hangisi doğrudur?

- A) Geceleri emzirmeye ara vermek  
B) 1 yaşına kadar sadece anne sütü vermek  
C) Çocuk ishal olduğunda emzirmeyi kesmek  
D) Doğumdan sonra ilk 1/2 saat içinde emzirmek

7. Yenidoğan bebeklerde, çeşitli nedenlere bağlı olarak bilirubin denilen maddenin atılamayıp ciltte birikmesi sonucu ortaya çıkan hastalığa ne ad verilir?

- A) İshal B) Zatürre  
C) Sarılık D) Kızamık

8. Birkaç ülkeyi etkisi altına alan büyük salgın durumu, aşağıdakilerden hangisi ile ifade edilir?

- A) Pandemi  
B) Pandemi  
C) Endemik hastalık  
D) Hiper endemik hastalık

9. I. Et ve yumurtaları az pişirmek  
II. Kişisel temizliğe özen göstermek  
III. Gıdaları olabildiğince taze tüketmek

**Verilenlerden hangileri, bulaşıcı hastalıklardan korunma yollarındandır?**

- A) Yalnız I B) I ve II  
C) II ve III D) I, II ve III

10. Aşağıdakilerden hangisi, bulaşıcı hastalıklardan korunmak için sağlam kişiye yönelik olarak alınan önlemlerdendir?

- A) Kesin tanı konulması  
B) İhbarı zorunlu hastalıkların bildirilmesi  
C) Portörlerin saptanması ve tedavi edilmesi  
D) Temiz içme ve kullanma suyu temin edilmesi

11. Nabız ile ilgili olarak verilenlerden, hangisi yanlıştır?

- A) Nabız hızı her yaşta aynıdır.  
B) Efor sarfettikten sonra nabız artar.  
C) Nabız, kalp hızı ve ritminin göstergesidir.  
D) Kalbin bir dakikadaki vuruş sayısına nabız denir.

12. Akciğer dokusunun bakteri, virüs, mantar ve diğer mikroorganizmalar tarafından meydana gelen iltihabına ne ad verilir?

- A) Kızıl B) Difteri  
C) Zatürre D) Boğmaca

13. I. Kan ve kan ürünleri  
II. Korunmasız cinsel ilişki  
III. Gözyaşı, ter ve tükürük

**Yukarıdakilerden hangileri AIDS'in bulaşma yollarındandır?**

- A) Yalnız I B) I ve II  
C) II ve III D) I, II ve III

14. Aşağıdakilerden hangisi, ilk yardımın öncelikli amaçları arasında yer almaz?

- A) İlaçla tedavinin yapılması  
B) Hayati tehlikenin ortadan kaldırılması  
C) Yaralının durumunun kötüleşmesinin önlenmesi  
D) Yaşamsal fonksiyonların sürdürülmesinin sağlanması

15. Kalp durmasına, kısa süre içerisinde müdahale edilmezse dokuların oksijenlenmesi bozulur.

**Bu durum, öncelikle hangi organda hasara yol açar?**

- A) Mide B) Beyin  
C) Karaciğer D) Kalın bağırsak

16. Taş, yumruk ya da sopa gibi etkenlerin şiddetli olarak çarpması ile oluşan yaralara ne ad verilir?

- A) Ezikli yaralar  
B) Kesik yaralar  
C) Delici yaralar  
D) Parçalı yaralar

17. Aşağıdakilerden hangisi kimyasal yanık çeşitlerindendir?

- A) Isı ile oluşan yanık  
B) Elektrik ile oluşan yanık  
C) Sürtünme ile oluşan yanık  
D) Asit alkali madde ile oluşan yanık

18. Aşağıdakilerden hangisi, sıcak çarpmasında risk grupları içerisindedir?

- A) Mevsime uygun giyinenler  
B) Bol miktarda sıvı tüketenler  
C) Direkt güneş ışığına maruz kalanlar  
D) Sürekli ve bilinçsiz diyet uygulayanlar

19. Aşağıdakilerden hangisi, sindirim yoluyla zehirlenmeye sebep olur?

- A) Gaz sobaları  
B) Tüp kaçakları  
C) Zehirli mantarlar  
D) Böcek sokmaları

## EK SINAV

20. Aşağıdakilerden hangisi, zehirlenmelerde dolaşım sisteminin etkilendiğini gösteren belirtiler-dendir?

- A) Bulantı
- B) Bilinç kaybı
- C) Nefes darlığı
- D) Nabız bozukluğu

### (491) TRAF. ve İLK YARD. – 1

1. I. Taşıt yolu üzerinde bulunur.  
II. Trafik işaretleri ile belirlenmiş alandır.  
III. Yayaaların güvenli geçebilecekleri alandır.

**Yaya geçidi için yukarıda verilenlerden hangileri söylenebilir?**

- A) Yalnız I
- B) I ve II
- C) II ve III
- D) I, II ve III

2. Aşağıdakilerden hangisinin tek yönlü yollarda yapılması yasaktır?

- A) Ters yönden yola girilmesi
- B) Hız azaltmak için frene basılması
- C) Park manevrası yaparken geri gidilmesi
- D) Yol eğimliyse çıkışta kullanılan vitesle inilmesi

3. Aşağıdakilerden hangisinin şehir içindeki araçlarda kullanılması yasaktır?

- A) Stepne
- B) Havalı korna
- C) Güneş gözlüğü
- D) Emniyet kemeri

4. Aşağıdakilerden hangisi, tedbirsiz ve saygısız araç sürmeye örnek değildir?

- A) Elinde cep telefonu ile araç kullanılması
- B) Diğer sürücülerin korkutulması
- C) Hız kurallarına uyulması
- D) Yayaalara su sıçratılması

5. Benzinli ve dizel motorların - - - - hava kirliliğine neden olan kaynakların başında gelmektedir.

**Verilen ifadede noktalarla belirtilen yere aşağıdakilerden hangisi yazılmalıdır?**

- A) egzoz gazları
- B) egzoz boruları
- C) partikül tutucuları
- D) egzoz susturucuları

6. Aşağıdakilerden hangisi, araç kusurlarından kaynaklanan trafik kazalarının azaltmasına olumlu katkı sağlar?

- A) Kalitesiz yedek parça kullanılması
- B) Araç bakımlarının zamanında yaptırılması
- C) Araçların kazalara karşı sigortalanması
- D) Araç muayene süresinin geciktirilmesi

7.



**Trafik polisinin verdiği işarete göre aşağıdakilerden hangisi doğrudur?**

- A) Yol bütün yönlerdeki trafiğe açıktır.
- B) Yol bütün yönlerdeki trafiğe kapalıdır.
- C) Yol kolların gösterdiği yöndeki trafiğe açıktır.
- D) Yol görevlinin ön ve arka tarafındaki trafiğe açıktır.

8. Aşağıdakilerin hangisinde durulur ve yol kontrol edildikten sonra geçilir?

- A) Sarı ışıkta
- B) Kırmızı ışıkta
- C) Aralıklı yanıp sönen sarı ışıkta
- D) Aralıklı yanıp sönen kırmızı ışıkta

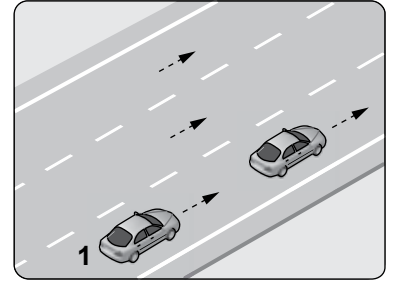
9. Koşulların uygun olması hâlinde sürücü, kesik yol çizgileri boyunca aşağıdakilerden hangisini yapabilir?

- A) Diğer şeride geçemez.
- B) Önündeki aracı geçebilir.
- C) Takip mesafesini azaltabilir.
- D) Sol şeritte sürekli seyredebilir.

10. Yolcu taşımada kullanılan minibüs ve otobüslerde seyahat eden üç ve üzeri yaşta çocukların, aşağıdakilerden hangisini kullanması zorunludur?

- A) Boyun korsesi
- B) Emniyet kemeri sembolü
- C) Işıklı acil durum uyarı sistemi
- D) Emniyet kemeri ya da çocuk bağlama sistemi

11.



**Şekildeki 1 numaralı araç sürücüsünün, önündeki aracı geçmesi sırasında aşağıdakilerden hangisini yapması yasaktır?**

- A) Uygun zaman ve mesafede dönüş ışıklarını yakması
- B) İşaret vermeden önce iç ve dış aynalardan trafiği kontrol etmesi
- C) Önündeki aracı, sağından veya banketten yararlanmak suretiyle geçmesi
- D) Geçiş yapacağı araç sürücüsünü korna veya selektör yaparak uyarması

12. Aşağıdaki durumların hangisinde refleksler zayıflamış olacağından, sürüş esnasında direksiyon başındaki tepkiler de çok daha yavaş gerçekleşecektir?

- A) Sürüş öncesi alkollü içki içilmişse
- B) Sürüş öncesi düzenli ve yeterli uyku uyumuşsa
- C) Molalarda kan dolaşımını artıran hareketler yapılmışsa
- D) Temiz hava için aracın camları kısa süreliğine açılmışsa

## EK SINAV

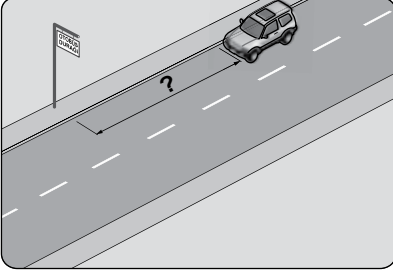
13. Aksine bir işaret bulunmadıkça yerleşim yeri içinde, otomobiller için azami hız sınırı saatte kaç kilometredir?

- A) 20 B) 30 C) 40 D) 50

14. Aşağıdakilerden hangisi, sola dönüş yapan araç sürücülerinin uymak mecburiyetinde olduğu kurallardan biri değildir?

- A) Dönüşe başlamadan önce sağdan gelen taşıtlara ilk geçiş hakkını vermek  
B) Dönüşü dar bir kavisle yapmak  
C) Dönüş işareti vermek  
D) Hızını azaltmak

15. Şekildeki araç sürücüsü, kamu hizmeti yapan yolcu taşıtı duvarının en az kaç metre mesafe dışına aracını park edebilir?



- A) 5 B) 10 C) 15 D) 20

16. Sürücüler, geceleri yakın ilerisi görülmeyen kavşak, dönemeç ve tepe üstlerine yaklaşırken gelişlerini nasıl haber vermek zorundadır?

- A) Dönüş ışıklarını yakarak  
B) Birkaç defa korna çalarak  
C) Acil uyarı ışıklarını yakarak  
D) Yakın ve uzağı gösteren ışıkları art arda ve sıra ile yakarak

17. Yayaların sürücüler tarafından görülmeleri, olası trafik kazalarını önler.

**Buna göre yayalar, alacakaranlık ve gece karanlığında görünürlüklerini sağlamak için aşağıdaki önlemlerden hangisini almak zorundadır?**

- A) Trafik yoğunluğu az olan şeritten yürümek  
B) Uyarıcı açık renk elbise giymek veya ışık taşımak  
C) Koyu renk giysiler giymek  
D) Hayat sigortası yaptırmak

18. I. Yaya yollarında sürülmesi yasaktır.  
II. Sürülmeleri sırasında; elde bagaj, paket ve benzerleri taşıyabilir.

**Yukarıda bisiklet, motorlu bisiklet ve motosikletlerin güvenli kullanımıyla ilgili olarak verilenler için ne söylenebilir?**

- A) Yalnız I doğru  
B) Yalnız II doğru  
C) Her ikisi de doğru  
D) Her ikisi de yanlış

19. Trafik kazasına karışan veya olay yerinden geçmekte olanlar, aşağıdakilerden hangisini yapmakla yükümlüdür?

- A) Olay yerinden uzaklaşmak  
B) Kaza yerindeki iz ve delilleri yok etmek  
C) Yetkililerin isteği hâlinde yaralıları en yakın sağlık kuruluşuna götürmek  
D) Kazaya karışan araçların yerini değiştirmek

20. Üzerinde renk ve teknik değişiklik yapılan veya kullanım amacı değiştirilen araçlara ait tescil belgeleri, sahiplerinin gerekli uygunluğu sağlamaları bakımından kaç gün süre ile geçerliliğini korur?

- A) 30 B) 40 C) 50 D) 60

### (492) TRAF. ve İLK YARD. – 2

1. Aşağıdakilerden hangisi ilk yardımın öncelikli amaçlarındandır?

- A) Trafik kazalarının önlenmesi  
B) Mesleki başarının artırılması  
C) Hayati tehlikenin ortadan kaldırılması  
D) Ülkedeki sağlık sisteminin iyileştirilmesi

2. Ülkemizde 112 acil telefon hattı, hangi hizmetler için kullanılmaktadır?

- A) İtfaiye  
B) Ambulans  
C) Polis imdat  
D) Jandarma imdat

3. İlk yardımın ABC'si olarak kabul edilen uygulamalardan "B" neyi ifade etmektedir?

- A) Hava yolu açıklığının değerlendirilmesi  
B) Kan dolaşımının değerlendirilmesini  
C) Vücut ısısının düşürülmesini  
D) Solunumun değerlendirilmesini

4. Aşağıdakilerin hangisinde, ilk yardım çantasının bulundurulması zorunludur?

- A) Otomobil  
B) Motosiklet  
C) Motorlu bisiklet  
D) Lastik tekerlekli traktör

5. Kalp atımlarının atardamar duvarına yaptığı basıncın, damar duvarında parmak uçlarıyla hissedilmesine ne denir?

- A) Solunum B) Nabız  
C) Vücut ısısı D) Kan şekeri

6. • Yaralı sayısının ve türlerinin belirlenmesi  
• Tekrar kaza olma riskinin ortadan kaldırılması

**Verilenler aşağıdakilerden hangisinin amacını oluşturur?**

- A) Olay yerini değerlendirmenin  
B) Sağlık personeli niteliği kazanmanın  
C) Kazazedelerin özel yaşamıyla ilgilenmenin  
D) Kaza yapmış araçların cins ve modelini tespit etmenin

7. Kalbin yeniden çalışması için yapılan girişime ne ad verilir?

- A) Havale  
B) Turnike  
C) Kalp masajı  
D) Atelle tespit

8. Bağışlanan organların nakledilmesi işlemi, hangi bakanlığın denetim, gözetim ve bilgisi dahilinde gerçekleştirilir?

- A) Sağlık Bakanlığı  
B) Milli Eğitim Bakanlığı  
C) Çevre ve Şehircilik Bakanlığı  
D) Bilim, Sanayi ve Teknoloji Bakanlığı

## EK SINAV

9. I. Solunum sesinin olması  
II. Göğüs hareketlerinin kaybolması  
III. Dudaklar, burun ve parmak uçlarında morarma görülmesi

**Verilenlerden hangileri solunum durmasının belirtilerindendir?**

- A) Yalnız I      B) I ve II  
C) II ve III      D) I, II ve III

10. Aşağıdakilerden hangisi atardamar kanamalarına ait bir özelliktir?

- A) Sızıntı şeklinde kanama olması  
B) Küçük kabarcıklar şeklinde kanama olması  
C) Koyu renkteki kanın az basınçla devamlı akması  
D) Açık renkli kanın kalp atımları ile uyumlu olarak kesik kesik akması

11. Uzun kopması durumunda aşağıdaki uygulamalardan hangisinin yapılması doğrudur?

- A) Kopan parçaya tentürdiyot sürülmesi  
B) Kopan parçanın buzla doğru-  
dan temas ettirilmesi  
C) Kopan parçanın 1 gün sonra  
sağlık kuruluşuna ulaştırılması  
D) Kopan parçanın en geç 6 saat  
içinde sağlık kuruluşuna ulaştırılması

12. İlk yardım yapacak olan kişi, kazazedeyi sırtüstü yatırmış, yakasını açmış, bacaklarını 30 cm kadar yükseltmiş ve sıcak tutulmasını sağlamıştır.

**İlk yardımcı, yapmış olduğu bu uygulamalarla öncelikli olarak aşağıdakilerden hangisini amaçlamıştır?**

- A) Şokun engellenmesini  
B) Kanamanın durdurulmasını  
C) Zihinsel aktivitenin korunmasını  
D) Sindirim işlevinin rahat olmasını

13. Aşağıdakilerden hangisi, delici göğüs yaralanmalarında kazazedeye yapılan doğru bir ilk yardım uygulamasıdır?

- A) Batan cismin çıkarılması  
B) Ağızdan ılık içecekler verilmesi  
C) Bilinci açık ise yarı oturur duruma getirilmesi  
D) Ayaklarının yüksekte tutulup sırtüstü yatırılması

14. Yanık vakalarında uygulanan ilk yardımda, aşağıdakilerden hangisinin yapılması yanlıştır?

- A) 1. derece yanıkların basınçsız soğuk suya tutulması  
B) Yanık bölgeye yoğurt, yağ gibi maddelerin sürülmesi  
C) Yanığa bağlı oluşan su dolu kabarcıkların patlatılmaması  
D) Yanık eklem bölgesinde ise sabitlenerek eklem hareketinin önlenmesi

15. Aşağıdakilerden hangisi, sabitlenen ve bandajlanan burkulan bölgenin şişmesini önlemek amacıyla yapılır?

- A) Burkulan bölgeye masaj yapılması  
B) Burkulan bölgeye turnike uygulanması  
C) Burkulan bölgenin sürekli hareket ettirilmesi  
D) Burkulan bölgenin kalp seviyesinden yüksekte tutulması

16. Bayılan kişiye aşağıdaki ilk yardım uygulamalarından hangisi yapılmaz?

- A) Sıkran giysilerinin gevşetilmesi  
B) Solunumunun kontrol edilmesi  
C) Kusması varsa sırtüstü pozisyonunda tutulması  
D) Sırtüstü yatırılıp, ayaklarının 30 cm kaldırılması

17. Genellikle göğüs ortasından başlayıp, kollara, boyuna, sırtta ve çeneye doğru ilerleyen ağrı hissi, kişide aşağıdaki durumların hangisinin olduğunu gösterir?

- A) Kalp spazmı  
B) Renk körlüğü  
C) Kalp durması  
D) Solunum durması

18. I. Boğucu etki yapması  
II. Fiziksel aktivitenin artması  
III. Kanın, oksijen taşımamasının engellenmesi

**Karbonmonoksit zehirlenmelerinde, yukarıdakilerden hangilerinin olması beklenir?**

- A) I ve II      B) I ve III  
C) II ve III      D) I, II ve III

19. Aşağıdakilerden hangisi, yılan ısırmaları durumunda yapılması gereken ilk yardım uygulamalarındandır?

- A) Yaranın emilmesi  
B) Turnike uygulanması  
C) Sıcak uygulama yapılması  
D) Yara baş ve boyunda ise yara çevresine baskı uygulanması

20. • Ayaklarının pedala sıkışmadığından emin olunur.  
• Yan tarafından yaklaşılar ve bir elle kolu, diğer elle çenesi kavranarak hafif hareketlerle boynu tespit edilir.  
• Baş-boyun-gövde hizasını bozmadan araçtan dışarı çekilir.

**Kazazedenin araçtan çıkarılması için uygulama basamakları verilen teknik, aşağıdakilerden hangisidir?**

- A) İtfaiyeci yöntemi  
B) Rentek manevrası  
C) Heimlich manevrası  
D) Ayak bileklerinden sürükleme yöntemi

**(500) İNGİLİZCE – 6**

**1 - 20. sorularda boş bırakılan yere uygun gelen kelime ya da ifadeyi işaretleyiniz.**

1. Turgay was able to read and write - - - he was only five years old.

- A) whether      B) if  
C) unless      D) when

2. The classroom is very noisy. I can't hear - - - the teacher is talking about.

- A) when      B) where  
C) what      D) if

3. I want to see İstanbul - - - are lots of historical buildings.

- A) when      B) where  
C) how      D) why

4. I will call you - - - I arrive in New York.

- A) as soon as      B) because  
C) while      D) where

## EK SINAV

5. My father went to work - - - - we woke up this morning.

- A) even if      B) although  
C) before      D) if

6. - - - - Ali was only six years old, he was able to ride his bike himself.

- A) If      B) After  
C) Before      D) Although

7. You should take your coat on. It is - - - - cold today.

- A) quite      B) many  
C) that      D) what

8. The film was - - - - boring - - - - I didn't watch it.

- A) such / that      B) so / that  
C) as / as      D) so / as

9. Mustafa has bought his ticket. He will be flying to Paris - - - - .

- A) last year  
B) since Friday  
C) two days ago  
D) next weekend

10. She is playing the piano excellently - - - - .

- A) a week ago      B) yesterday  
C) at present      D) tomorrow

11. Please listen - - - - . The teacher is giving very important knowledge about the matter.

- A) pretty      B) simply  
C) excellent      D) carefully

12. Many African countries - - - - from Ebola virus for more than six months.

- A) have been suffering  
B) had suffered  
C) is suffering  
D) suffered

13. This time next week, I - - - - on the beach in Hawaii.

- A) have been sunbathing  
B) will be sunbathing  
C) had sunbathed  
D) to sunbathe

14. If I - - - - you, I would start looking for another job.

- A) am      B) was  
C) were      D) had been

15. If anyone calls, - - - - them I'm not at home.

- A) would tell      B) will tell  
C) had told      D) tell

16. If you mix yellow and blue, - - - - .

- A) they would melt  
B) you get green  
C) they had sunk  
D) it could fly

17. If you throw that glass vase, it - - - - .

- A) would become steam  
B) will break into pieces  
C) becomes ice  
D) is getting hot

18. If I were a witch, I - - - - .

- A) would fly on my broomstick  
B) had done magic with a wand  
C) will buy a new expensive car  
D) can see everything with a magic ball

19. If they had called the firefighters, they - - - - .

- A) can work as firemen  
B) would make a huge fire  
C) will show their fireplace  
D) would have extinguished the fire

20. A: - - - - I have the bill, please?  
B: Sure.

- A) Did      B) Would  
C) Could      D) Should

(500) ALMANCA – 6

1 - 18. sorularda boş bırakılan yere uygun gelen kelime ya da ifadeyi işaretleyiniz.

1. Man - - - - (kaufen) ein Kuchen und Getränke. (Konjunktiv I)

- A) kaufen      B) kaufe  
C) gekauft      D) kaufst

2. Hallo Ahmet! Bist du wieder zurück?

Ich dachte du - - - - noch in Istanbul. (Konjunktiv II)

- A) wärest      B) bist  
C) hättest      D) warst

3. A: Hallo Susanne! - - - - .  
B: Ein Buch.

- A) Was isst du?  
B) Was liest du?  
C) Was trinkst du?  
D) Was machst du?

4. Dienstag, Mittwoch, - - - -

- A) Montag      B) Freitag  
C) Donnerstag      D) Samstag

5. Die Frau, - - - - ein rotes Kleid trägt, ist meine Tante.

- A) der      B) das  
C) dem      D) die

6. Thomas: Warum gehst du heute nicht in die Schule?

Daniel : - - - - ich krank bin.

- A) Als      B) Weil  
C) Denn      D) Damit

7. A: Wie spät ist es?  
B: Es ist - - - - .



- A) halb acht      B) halb neun  
C) halb zehn      D) halb elf



## EK SINAV

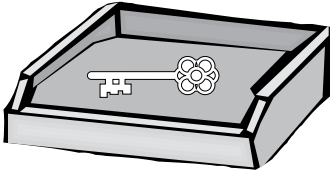
### 8. Herbst, - - - -, Frühling

- A) Winter      B) Sommer  
C) Woche      D) Monat

### 9. Audi ist genau - - - - teuer - - - - BMW.

- A) wie / so      B) so / als  
C) so / wie      D) als / wie

10.



Bettina : Wo liegt der Schlüssel?

Monika : Der Schlüssel ist - - - - der Schublade.

- A) in      B) über  
C) neben      D) unter

### 11. Das Haus, - - - - du dort siehst, gehört mir.

- A) der      B) die  
C) dem      D) das

### 12. Die Dame, - - - - aus Griechenland kommt, spricht gut Türkisch.

- A) der      B) das  
C) die      D) um

### 13. Sie will Deutsch lernen, - - - - es ihr Spaß macht.

- A) damit      B) weil  
C) als      D) denn

### 14. - - - - ich jung wäre, würde ich eine Weltreise machen.

- A) Wenn      B) Wo  
C) Wann      D) Wie

### 15. A: Was - - - - Sie - - - - Beruf? B: Schriftsteller.

- A) aus / von      B) ist / aus  
C) sei / von      D) sind / von

### 16. Wir werden in der 11. Klasse eine Reise nach Deutschland - - - - .

- A) gehen      B) machen  
C) fahren      D) fliegen

### 17. Der Mann, - - - - dieses Auto gehört, kommt aus Istanbul.

- A) dem      B) dessen  
C) denn      D) den

### 18. Ich bin nicht - - - - stark - - - - Hasan.

- A) als / wie      B) so / als  
C) so / wie      D) wie / so

### 19. Was macht der Junge?



- A) Behaupten      B) Schwimmen  
C) Angeln      D) Segeln

### 20. Hangi cümlede fiilin çekimi yanlıştır?

- A) Die Kinder wäre so gern am Meer.  
B) Würdest du mich bitte informieren!  
C) Ich dachte, sie würde gerne einkaufen gehen.  
D) Ihr würdet gern fernsehen.

(500) FRANSIZCA – 6

1 – 18. sorularda boş bırakılan yere uygun gelen kelime ya da ifadeyi işaretleyiniz.

### 1. La sœur de ma mère est ma - - - - .

- A) oncle      B) grand-mère  
C) nièce      D) tante

### 2. - - - - boivent deux litres d'eau par jour.

- A) Elle      B) Nous  
C) Vous      D) Elles

### 3. Yasemin est la sœur de Taner et Taner est - - - - de Yasemin.

- A) la belle-fille      B) l'oncle  
C) le frère      D) le cousin

### 4. Hier soir, nous - - - - sortis du cinéma à 22 h.

- A) êtes      B) sont  
C) vont      D) sommes

### 5. A: Tu es veuf?

B: Oui, je suis - - - - . Ma femme est morte il y a trois mois.

- A) mariée      B) fiancée  
C) célibataire      D) veuf

### 6. L'école est - - - - .

- A) un lieu de travail  
B) un lieu de repos  
C) un lieu de vacances  
D) un lieu pour le mariage

### 7. Quand tu fais du vélo, - - - - ton casque.

- A) a mis      B) mettre  
C) mets      D) met

### 8. Ayşegül, nous traversons l'avenue - - - - -moi la main.

- A) donné      B) donne  
C) donner      D) ayant donné

### 9. En juin, mes parents sont allés - - - - une semaine à la montagne.

- A) sortir      B) passer  
C) écouter      D) finir

### 10. Il pleut, - - - - votre parapluie.

- A) ouvrez      B) mangez  
C) fais      D) soyez

### 11. Demet fait de la peinture en - - - - du café.

- A) manges      B) boire  
C) manger      D) buvant

## EK SINAV

12. En venant, - - - - un litre de lait.

- A) achète B) acheter  
C) a acheté D) acheté

13. Bora aime - - - - avec son chien au bord du lac.

- A) se promener  
B) comprendre  
C) s'appeler  
D) connaître

14. - - - - Turquie, les élèves ne vont pas - - - - l'école le samedi et le dimanche.

- A) Au / en B) Aux / au  
C) À / en D) En / à

15. Nous passons à table, - - - - -vous les mains.

- A) laver B) lavez  
C) travaillez D) regarde

16. Ne mange pas avec - - - - .

- A) les pieds B) le chapeau  
C) les doigts D) les fleurs

17. Ne - - - - couche pas sur les fauteuils.

- A) se B) te C) moi D) toi

18. Le gâteau au chocolat est préparé - - - - ma fille.

- A) de B) des C) par D) en

19. Verilen cümlelerin Fransızca dengini işaretleyiniz.

**Cette voiture bleue a été achetée par mon père.**

- A) Şu kırmızı arabayı babam satın alacak.  
B) Bu mavi araba babam tarafından satın alındı.  
C) Bu mavi spor arabayı babam kullanacak.  
D) Karşıdaki kırmızı araba amcamındır.

20. Verilen cümlelerin Türkçe dengini işaretleyiniz.

**Allez donc jouer au basket demain.**

- A) Yarın akşam basketbol oynamaya gideceğiz.  
B) Yarın sabah basketbol oynayalım.  
C) Yarın basketbol oynamaya gitsenize.  
D) Yarın sabah basketbol oynamayacağız.

### (501) İNGİLİZCE – 7

**1 - 20. sorularda boş bırakılan yere uygun gelen kelime ya da ifadeyi işaretleyiniz.**

1. Yunus has bought a new mobile phone. He is very pleased - - - - it.

- A) from B) at  
C) for D) with

2. My new car is very different - - - - my old car.

- A) on B) for  
C) from D) with

3. Rize is famous - - - - its tea.

- A) of B) for  
C) in D) at

4. When I was young, I was afraid - - - - dogs.

- A) in B) for  
C) with D) of

5. I haven't tasted Italian food - - - - .

- A) yet B) ever  
C) never D) already

6. When my friends came to help me, I had - - - - finished all work.

- A) ever B) yet  
C) already D) never

7. Aylin studied her lesson - - - - she had washed the dishes.

- A) before B) after  
C) while D) when

8. Murat had finished his project - - - - he went out.

- A) before B) after  
C) while D) as soon as

9. We need to learn English - - - - have a good job.

- A) nor B) because  
C) for D) in order to

10. I couldn't see Deniz anywhere. Where - - - - she - - - -?

- A) has/being B) have/being  
C) has/being D) have/being

11. The secretary - - - - typing the letters yet.

- A) is going to finish  
B) hasn't finished  
C) had finished  
D) won't finish

12. I - - - - such a huge whale before I went on a round-the world cruise.

- A) haven't seen  
B) couldn't see  
C) hadn't seen  
D) won't see

13. I moved to Seattle after I - - - - from university.

- A) had graduated  
B) have graduated  
C) will be graduating  
D) had been graduating

14. Berzan wanted to know - - - - I had finished my report.

- A) said B) told  
C) asked D) whether

15. Teacher: "Stand up" Teacher - - - - us to stand up.

- A) told B) said  
C) asked D) called



16. Çağlar: "I missed you."  
Çağlar said that she ---- me.

- A) will miss B) is missing  
C) had missed D) have missed

17. Hülya: "I will call the police."  
Hülya said she ---- call the police.

- A) could B) would  
C) might D) had to

18. Ercan: "I am going to be in London next week."  
Ercan said he was going to be in London ----.

- A) tomorrow  
B) the next day  
C) the previous week  
D) the following week

19. When they arrived at the cinema, ----.

- A) the film had started  
B) the movie will finish  
C) the players went out  
D) the teacher is coming

20. A: ---- you ever ---- why we need to learn English?  
B: No, I haven't.

- A) Have / wondered  
B) Had / wondered  
C) Are / wondering  
D) Will / wonder

(501) ALMANCA – 7

1 - 16. sorularda boş bırakılan yere uygun gelen kelime ya da ifadeyi işaretleyiniz.

1. Tomaten und Kartoffeln sind ----.

- A) Gemüse B) Obst  
C) Salat D) Suppe

2. ---- Sprache wird in Amerika gesprochen?

- A) Wann B) Was  
C) Welches D) Welche

3. Sie sagt, ---- sie jeden Tag fleißig lernt.

- A) dass B) denn  
C) weil D) aber


4. ---- Kamel, ---- Hund, ---- Katze.

- A) der / die / das  
B) die / der / das  
C) der / das / die  
D) das / der / die

5. Der Löwe ist sehr ----.

- A) leicht B) stark  
C) schwach D) klein

6.



Das Auto ist ---- dem Haus.

- A) hinter B) neben  
C) vor D) unter

7. Er hat ---- Brille geputzt.

- A) sein B) seine  
C) dir D) ihren

8. Gegenteil von "dick" ist ----.

- A) dünn B) groß  
C) klein D) fett

9. ---- wird in Spanien gesprochen.

- A) Türkisch B) Deutsch  
C) Französisch D) Spanisch

10. ---- Bär, ---- Löwe, ---- Krokodil

- A) das / der / die  
B) die / der / das  
C) der / der / das  
D) die / das / der

11. Ein Krokodil kann ----.

- A) schwimmen B) klettern  
C) fliegen D) springen

12. Gegenteil von schwer ist ----.

- A) klein B) leicht  
C) kräftig D) schnell

13. Jugendliche können glücklich werden, ---- ihre Eltern sie lieben.

- A) dass B) dann  
C) aber D) wenn

14. Sie möchte ins Kino gehen, ---- sie den Film sehen will.

- A) wenn B) dann  
C) weil D) dass

15. Arda: Ich werde morgen zu euch kommen.

Esra: Arda sagt, dass er morgen zu ---- kommen wird.

- A) ihr B) ihm  
C) ihn D) uns

16.



A: Wo ist das Kind?  
B: Das Kind ist ----.

- A) auf dem Baum  
B) hinter dem Baum  
C) vor dem Baum  
D) neben dem Baum

17. Welches Körperteil ist das?

- A) Arm  
B) Fuß  
C) Bein  
D) Finger



## EK SINAV

18. Was hat sie?

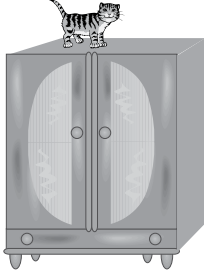
- A) Bauchschmerzen
- B) Kopfschmerzen
- C) Halsschmerzen
- D) Ohrenschmerzen



19. “Das Haus” kelimesinin çoğulu aşağıdakilerden hangisidir? (Pluralform)

- A) die Haus
- B) die Hause
- C) die Häuser
- D) das Hause

20.



Wo ist die Katze?

- A) Im Schrank
- B) Auf dem Schrank
- C) Unter dem Schrank
- D) Neben dem Schrank

### (501) FRANSIZCA – 7

1 – 18. sorularda boş bırakılan yere uygun gelen kelime ya da ifadeyi işaretleyiniz.

1. - - - - attend le bus avec des amis.

- A) Nous
- B) Il
- C) Tu
- D) Vous

2. Il pleut, - - - - le taxi.

- A) prenez
- B) pris
- C) descends
- D) descendu

3. A: Pourquoi est-ce qu'elle n'est pas venue au cinéma?

B : - - - - elle est allée chez le dentiste.

- A) Quand
- B) Combien
- C) Parce que (qu')
- D) Comment

4. Le supermarché - - - - à 22h.

- A) mange
- B) cherche
- C) traverse
- D) ferme

5. - - - - du sport pour être en bonne santé.

- A) Allez
- B) Donne
- C) Nage
- D) Faites

6. Tolga ne prend - - - - le train, il préfère le car.

- A) jamais
- B) rien
- C) souvent
- D) personne

7. A: Mehmet écrit souvent à ses frères?

B: Non, il - - - - écrit parfois.

- A) la
- B) leur
- C) lui
- D) le

8. A: Tu connais le célèbre acteur Zeki Alasya?

B: Oui, je - - - - connais. Il est mort à l'âge de 72 ans.

- A) la
- B) lui
- C) le
- D) les

9. M. Durand - - - - le verre sur sa veste noire.

- A) est versé
- B) a été versé
- C) a versé
- D) as versé

10. Je vais - - - - quand je veux me baigner.

- A) à la gare
- B) au théâtre
- C) au marché
- D) à la piscine

11. J'ai rencontré tes frères au café et je - - - - ai parlé.

- A) les
- B) leur
- C) lui
- D) le

12. Nous - - - - de bonnes vacances à Alanya.

- A) avons passé
- B) sont passées
- C) ont passé
- D) sommes passés

13. Paul adore le football. Il va souvent - - - - .

- A) au marché
- B) à la charcuterie
- C) au stade
- D) à l'épicerie

14. Quand il aura dix-huit ans, il devra suivre des cours dans - - - - .

- A) une auto-école
- B) une école maternelle
- C) une école primaire
- D) un défilé de mode

15. Je connais un restaurant chinois - - - - tu aimeras beaucoup.

- A) que
- B) où
- C) qui
- D) dont

16. Elle n'a pas fait ses devoirs, car - - - - un bon film à la télé.

- A) il pleuvait
- B) il faisait froid
- C) il y avait
- D) c'était

17. A: Je cherche un CD de Nilüfer. B: Pardon, qu'est-ce que tu dis?

A: Je dis que (qu') - - - - .

- A) je cherche un CD de Nilüfer
- B) il cherche son CD
- C) j'ai cherché un CD de Nilüfer
- D) elle va chercher son CD

18. Colette : J'ai vingt ans. Monique: Pardon, qu'est-ce qu'elle dit?

Isabelle : Elle dit que (qu') - - - - .

- A) il avait vingt ans
- B) elle a vingt ans
- C) il aura vingt ans
- D) elle aura vingt ans

## EK SINAV

**19 – 20. sorularda verilen resme göre doğru ifadenin bulunduğu seçeneği işaretleyiniz.**

19.



Il est - - - - .

- A) énervé      B) sérieuse  
C) pessimiste      D) gai

20.



Il a - - - - et il porte - - - - .

- A) de la barbe / des lunettes de soleil  
B) une moustache / une casquette  
C) les cheveux longs / des boucles d'oreilles  
D) de belles dents / des colliers

(502) İNGİLİZCE – 8

**1 - 20. sorularda boş bırakılan yere uygun gelen kelime ya da ifadeyi işaretleyiniz.**

1. - - - - the end of this year, we will have started the project.

- A) In      B) On  
C) Of      D) By

2. Aydın must study as hard - - - - he can in order to pass the exam.

- A) if      B) so  
C) as      D) on

3. Take a map with you - - - - you can find your way easily.

- A) because      B) so that  
C) whenever      D) after

4. She failed the exam - - - - that she didn't study regularly.

- A) due to the fact  
B) although  
C) in order to  
D) wherever

5. Don't worry! You will be walking - - - - .

- A) yet      B) after  
C) before      D) soon

6. This time - - - - , we will be celebrating our 25<sup>th</sup> wedding anniversary.

- A) yesterday      B) next month  
C) last year      D) a week ago

7. If I miss the class, the teacher - - - - angry with me.

- A) will get      B) is getting  
C) had got      D) would get

8. The conference - - - - in Glasgow.

- A) is holding      B) had held  
C) will be held      D) used to hold

9. Bora - - - - by a stranger yesterday.

- A) called      B) will be calling  
C) is called      D) was called

10. By the time Snow White comes home, the Seven Dwarves - - - - to the cave.

- A) had been going  
B) are going to go  
C) will have gone  
D) will be going

11. The students - - - - the exam by 10 o'clock.

- A) were finished  
B) were finishing  
C) will be finishing  
D) will have finished

12. I - - - - the e-mails when you go home.

- A) send  
B) am sending  
C) will have sent  
D) had been sending

13. The lock - - - - and the cameras had been switched off.

- A) has broken  
B) is being broken  
C) will be broken  
D) had been broken

14. İstanbul - - - - by Fatih Sultan Mehmet in 1453.

- A) was conquered  
B) will be conquered  
C) has been conquered  
D) is going to be conquered

15. If you - - - - me more money, I - - - - here.

- A) offered / stay  
B) offer / will stay  
C) offers / could stay  
D) offered / had stayed

16. If you - - - - your writing skills, you - - - - that job easily.

- A) improved / will get  
B) improve / could get  
C) improved / would get  
D) improve / might get

17. - - - - , you can stay for the weekend.

- A) If you like  
B) If you went  
C) If you finished  
D) If you had done

18. If you see him, - - - - .

- A) I had sawn him  
B) give him this note  
C) he would call me  
D) you could tell him

19. If you had kept it secret, - - - - .

- A) you can feel better  
B) they would come early  
C) she will help you to do it  
D) I would have been grateful

## EK SINAV

20. If - - - -, Anıl would have been here by now.

- A) she could tell her name
- B) he had caught the early train
- C) I have a new mobile phone
- D) they are travelling abroad together

### (502) ALMANCA – 8

1 - 19. sorularda boş bırakılan yere uygun gelen kelime ya da ifadeyi işaretleyiniz.

1. In einem Restaurant - - - - man essen.

- A) kann                      B) können
- C) gekonnt                D) könnt

2. - - - - ich Zeit habe, werde ich dich besuchen.

- A) Dass                      B) Denn
- C) Das                       D) Wenn

3. A: - - - - willst du später wohnen?

B: Ich möchte in Antalya wohnen.

- A) Was                       B) Wo
- C) Wer                       D) Wann

4. Ich kann kein neues Auto kaufen, - - - - ich kein Geld habe.

- A) als                        B) dass
- C) denn                      D) weil

5. Ihr - - - - morgen ins Theater gehen.

- A) werde                    B) wirst
- C) werdet                  D) werden

6. Die Frau, - - - - dort sitzt, ist eine Französin.

- A) die                        B) das
- C) der                       D) sie

7. "Kızılırmak" ist ein - - - - in der Türkei.

- A) Stadt                      B) Berg
- C) Dorf                       D) Fluss

8. Wir - - - - in der Schule.

- A) lernt                      B) lernen
- C) gelernt                  D) lernte

9. Der Berg Uludağ ist der - - - - Berg der Türkei.

- A) tiefste                    B) länger
- C) schönste                D) kleine

10. - - - - Maschinenbau studiert.

- A) Ich habe                B) Ich werde
- C) Ich möchte            D) Ich will

11. - - - - ich ein Kind hätte, - - - - ich glücklich sein.

- A) Weil / dann
- B) Dann / wenn
- C) Wenn / würde
- D) Wann / dann

12. Das ist das Kleid, - - - - ich mir wünsche.

- A) das    B) der    C) die    D) den

13. Wir finden, - - - - das neue Auto sehr günstig ist.

- A) wenn                      B) weil
- C) denn                       D) dass

14. Meine Schwester - - - - am Samstag nach Ankara fliegen.

- A) werde                    B) wirst
- C) wird                      D) werden

15. Nächstes Jahr - - - - wir nach Spanien - - - - .

- A) werde / fahren
- B) werden / fahren
- C) war / gefahren
- D) werden / fahren

16. Mein Onkel - - - - seit 20 Jahren bei einer Autofirma.

- A) arbeiten                B) arbeitet
- C) gearbeitet            D) arbeiteten

17. A: - - - - ist Eskişehir von Ankara entfernt?

B: Es ist 250 km entfernt.

- A) Wo                        B) Wie lange
- C) Wie weit                D) Wie viel

18. Wie kann ich - - - - Post gehen?

- A) in                         B) um
- C) von                      D) zur

19. Kannst du mir ein Gedicht - - - - .

- A) liest                      B) vorlesen
- C) besuchen               D) haben

20. Aşağıdakilerden hangisi sıfattır? (Adjektiv)

- A) bunt                       B) verstecken
- C) reparieren              D) entwickeln

### (502) FRANZIZCA – 8

1 - 18. sorularda boş bırakılan yere uygun gelen kelime ya da ifadeyi işaretleyiniz.

1. - - - - n'a rien mangé.

- A) Tu                        B) Elle
- C) Nous                    D) Vous

2. - - - - -toi chaudement car il fait froid.

- A) Lavez                    B) Levez
- C) Tais                      D) Habille

3. Ce soir, on va au cinéma. N'oublie pas de (d') - - - - quatre tickets.

- A) acheter                B) habiter
- C) voir                     D) respecter

## EK SINAV

4. Dépêche-toi! Le musée - - - - à midi le dimanche.

- A) fait B) veut  
C) dort D) ferme

5. J'ai vu deux fois le film Titanic - - - - je trouve super.

- A) qui B) dont  
C) où D) que

6. A : Qu'est-ce que tu prends comme boisson?

B : Je prends - - - - .

- A) de la salade  
B) de l'eau gazeuse  
C) de la tarte aux fraises  
D) des frites

7. A: Deniz téléphone à - - - -?

B: Oui, elle lui téléphone souvent.

- A) son père B) tes cousins  
C) ses parents D) leurs enfants

8. A: Et toi, tu ne manges pas de poisson?

B: Si, mais je peux - - - - manger une fois par semaine.

- A) les B) en C) leur D) y

9. Les chinois mangent 53 kilos de riz - - - - personne - - - - ans.

- A) en / dans B) par / par  
C) dans / en D) en / en

10. Jean n'est jamais allé au Brésil mais son oncle - - - - habite.

- A) par B) en C) y D) le

11. Quand un animal est malade, ce n'est pas le médecin qui s'en occupe, c'est moi. Je suis - - - - .

- A) coiffeur B) photographe  
C) pompier D) vétérinaire

12. Elle a cassé les verres - - - - sa maladresse.

- A) à cause de B) grâce à  
C) parce que D) pourquoi

13. Pour maigrir, il faut - - - - .

- A) prendre des kilos  
B) manger des gâteaux  
C) faire du sport  
D) manger beaucoup

14. - - - - nous irons en Egypte.

- A) Avant-hier  
B) L'année prochaine  
C) Le mois dernier  
D) Hier

15. A : Tu viens à ma petite fête?

B : - - - - .

- A) Si je vais mieux, je veux venir  
B) Si j'ai faim, je mange du chocolat  
C) Si j'ai soif, je veux boire du lait  
D) S'il y a un bon film, je veux aller

16. Zeynep n'a pas fait ses devoirs, car - - - - un dessin animé à la télé.

- A) il faisait chaud  
B) c'était  
C) il pleuvait  
D) il y avait

17. Sophie : Marc, je n'ai plus de fromage blanc, tu peux aller - - - -?

Marc : D'accord, il faut autre chose?

Sophie : Oui, du sucre pour le gâteau.

- A) au supermarché  
B) à la pharmacie  
C) au centre culturel  
D) à la mairie

18. Tu peux conduire mais il faut être - - - - .

- A) gras B) distraite  
C) attentif D) marron

19 – 20. sorularda verilen resme göre cümlede boş bırakılan kısmı tamamlayan sözcük ya da ifadenin bulunduğu seçeneği işaretleyiniz.

19.



M.Dupont est - - - - qui a cinq petits fils.

- A) un vieil homme  
B) une jeune femme  
C) une vieille femme  
D) un jeune homme

20.



Quand il fait beau, - - - - .

- A) ils vont à la chasse avec des chats  
B) elle promène son chien dans le parc  
C) il va à la chasse avec son chien  
D) ils se promènent toujours dans le parc

(503) SEÇMELİ TARİH – 3

1. Aşağıdakilerden hangisi XIV. yüzyılda Yakın Doğu'da kurulmuş devletlerden biri değildir?

- A) İlhanlı  
B) Altın Orda  
C) Türkiye Selçuklu  
D) Alanya

2. XIV. yüzyıl başlarında birçok Avrupa ülkesinde - - - - rejimi vardı.

Verilen cümlede boş bırakılan yere aşağıdakilerden hangisi gelmelidir?

- A) Ekonomi B) Feodalite  
C) Siyasi D) Teokrazi

## EK SINAV

3. Aşağıdakilerden hangisi, Bizans'ın içinde bulunduğu siyasi durumla ilgilidir?

- A) Taht kavgaları
- B) Ekonomik sıkıntılar
- C) Kültürel baskı
- D) Dinî problemler

4. Aşağıdaki savaşların hangisinin Osmanlı Devleti ilk kez top kullanmıştır?

- A) I. Kosova B) Çirmen
- C) II. Kosova D) Niğbolu

5. Aşağıdaki yapılardan hangisi, İstanbul'un fethini kolaylaştırmak amacıyla Yıldırım Bayezit Dönemi'nde inşa edilmiştir?

- A) Anadolu Hisarı
- B) Çimpe Kalesi
- C) Rumeli Hisarı
- D) Topkapı Sarayı

6. Fetret Dönemi'ne son vererek Anadolu'da Türk siyasi birliğini yeniden sağlamaya çalışan Osmanlı padişahı, aşağıdakilerden hangisidir?

- A) Osman Bey
- B) II. Murat
- C) III. Selim
- D) Mehmet Çelebi

7. Osmanlı Devleti'nin ilk daimi ve düzenli ordusu aşağıdakilerden hangisidir?

- A) Yaya ve Müsellemler
- B) Gulam Ordusu
- C) Hassa Ordusu
- D) Nizamıcedit

8. Akdeniz'de Türk üstünlüğünü sağlayan gelişme aşağıdakilerden hangisidir?

- A) Cerbe Deniz Savaşı
- B) Sakız Adası'nın Fethi
- C) Preveze Deniz Savaşı
- D) Kırım'ın fethi

9. Osmanlı Devleti'nde gelirleri sınır boylarındaki askerlere verilen topraklar aşağıdakilerden hangisidir?

- A) Paşmaklık B) Ocaklık
- C) Malikane D) Yurtluk

10. İstanbul'un fethiyle aşağıdaki devletlerden hangisi sona ermiştir?

- A) Memlük Devleti
- B) Bizans İmparatorluğu
- C) İlhanlı Devleti
- D) Venedik

11. Orhan Bey zamanında oluşturulan divanihümayun, aşağıdaki hangi padişah döneminde tam olarak teşkilatlanmıştır?

- A) I. Murat
- B) Osman Bey
- C) II. Murat
- D) I. Ahmet

12. Aşağıdaki hangi iki ülke coğrafi keşiflere öncülük etmiştir?

- A) Rusya - İngiltere
- B) ABD - Rusya
- C) Fransa - İngiltere
- D) Portekiz - İspanya

13. Yavuz Sultan Selim, Mercidabık ve Ridaniye Savaşlarında hangi devleti yenilgiye uğratmıştır?

- A) Safevi B) Memluk
- C) Venedik D) Fransa

14. Osmanlı Devleti'nde havan topları ve el bombalarının yapıldığı yer, aşağıdakilerden hangisidir?

- A) Tüfekhane B) Kılıçhane
- C) Mehterhane D) Humbarahane

15. Osmanlı şehirlerinde günlük hayat aşağıdakilerden hangisiyle başlardı?

- A) Sabah kahvaltısıyla
- B) Sabah sporuyla
- C) Sabah ezanıyla
- D) Güneşin doğuşuyla

16. Kendisine özgü bir üslup geliştirerek üç yüzün üzerinde eser veren ve Türk mimarisini doruk noktasına ulaştıran mimar aşağıdakilerden hangisidir?

- A) Mimar Sinan
- B) Mimar Hayrettin
- C) Mimar Kemalettin
- D) Sedefkâr Mehmet Ağa

17. Aşağıdakilerden hangisi 1535'te Fransa ile imzalanan kapitülasyon anlaşmalarının amaçlarından biridir?

- A) Osmanlı esnafını güçlendirmek
- B) Hristiyan birliğini oluşturmak
- C) Akdeniz ticaretini canlandırmak
- D) Yabancı tüccarların sayısını artırmak

18. Mısır seferi sonucunda Baharat Yolu'nun Osmanlı'nın kontrolüne geçmesi, Osmanlı Devleti'ne en çok hangi alanda katkı sağlamıştır?

- A) Eğitim B) Askeri
- C) Ekonomik D) Sanat

19. Kanuni Sultan Süleyman zamanında aşağıdaki devletlerden hangisi üzerine sefer düzenlendiği söylenemez?

- A) Almanya B) Memlükler
- C) Macaristan D) Avusturya

20. Aşağıdakilerden hangisi Osmanlı Devleti'nde eğitim ve öğretimle ilgili değildir?

- A) İltizam B) Medrese
- C) Enderun D) Müderris

(504) SEÇMELİ TARİH – 4

1. Fransa'nın 1798 yılında Mısır'ı işgal etmesi sonrasında Osmanlı Devleti aşağıdaki dış politikalarından hangisini izlemiştir?

- A) Denge B) Saldırı
- C) Savunma D) Ticari

## EK SINAV

2. Osmanlı Devleti'nde Lale Devri'nin en önemli devlet adamı, aşağıdakilerden hangisidir?

- A) Çandarlı Halil Paşa
- B) Merzifonlu Kara Mustafa Paşa
- C) Koca Ragıp Paşa
- D) Nevşehirli Damat İbrahim Paşa

3. Aşağıdaki antlaşmalardan hangisi sonrasında Karadeniz'in "Türk Gölü" olma özelliği sona ermiştir?

- A) Karlofça
- B) Küçük Kaynarca
- C) Belgrad
- D) Bükreş

4. Aşağıdaki hangi olay Yakın Çağ'ın başlangıcı olarak kabul edilir?

- A) Reform
- B) Rönesans
- C) Fransız İhtilali
- D) Sanayi İnkılabı

5. Aşağıdaki antlaşmalardan hangisiyle Osmanlı Devleti, Kırım'ın Rusya'ya ait olduğunu kabul etmiştir?

- A) Zıstovi
- B) Yaş
- C) Prut
- D) Edirne

6. Osmanlı Devleti'nin 18. yüzyılın başlarında izlediği dış politika, aşağıdakilerden hangisidir?

- A) Yeni topraklar fethetmek
- B) Kaybettiği toprakları geri almak
- C) İslam birliğini sağlamak
- D) Amerika'dan yardım almak

7. Osmanlı Devleti'nde başkanlığını Ahmet Cevdet Paşa'nın yaptığı bir komisyon tarafından hazırlanan medeni kanun, aşağıdakilerden hangisidir?

- A) Mecelle
- B) Tanzimat Fermanı
- C) Islahat Fermanı
- D) Senediittifak

8. Osmanlı Devleti'nin I. Dünya Savaşı'nda Doğu'da ilerleyen Rusları durdurmak ve Orta Asya Türk dünyası ile doğru-bağlantı kurmak amacıyla açtığı cephe, aşağıdakilerden hangisidir?

- A) Hicaz ve Yemen
- B) Irak
- C) Suriye ve Filistin
- D) Kafkasya

9. Osmanlı Devleti'nde anayasal düzene geçişin ilk aşaması olarak kabul edilen gelişme, aşağıdakilerden hangisidir?

- A) Islahat Fermanı
- B) Senedi İttifak
- C) Tanzimat Fermanı
- D) Teşkilatı Esasiye

10. Osmanlı sınırları içinde yaşayan azınlıklar birçok okul açmıştır. Bu okullar TBMM'nin çıkardığı aşağıdaki hangi kanun ile Millî Eğitim Bakanlığına bağlanmıştır?

- A) Teşkilâtıesasiye
- B) Tevhidi Tedrisat Kanunu
- C) Mecelle
- D) Tekâlif-i Millîye Emirleri

11. II. Mahmut Dönemi'nde Avrupa'ya ilk defa öğrencilerin gönderilmesi ile aşağıdakilerden hangisi amaçlanmıştır?

- A) Avrupa'nın coğrafik yapısını incelemek
- B) Avrupa'daki bilimsel ve teknolojik gelişmeleri takip etmek
- C) Avrupa'daki yer altı kaynaklarını tespit etmek
- D) Avrupa'daki kiliselerin mimari yapısını incelemek

12. Aşağıda yer alan fikir akımlarından hangileri yeni Türk devletinin kurulmasında etkili olmuştur.

- A) Türkçülük - Batıcılık
- B) Osmanlıcılık - Batıcılık
- C) İslamcılık - Batıcılık
- D) Turancılık - Batıcılık

13. Rus Çarı I. Nikola'nın "hasta adam" diye adlandırdığı devlet, aşağıdakilerden hangisidir?

- A) İngiltere
- B) Fransa
- C) İtalya
- D) Osmanlı

14. 1877 - 1878 Osmanlı - Rus Savaşı (93 Harbi) sırasında Plevne'yi Ruslara karşı savunan ünlü Türk komutanı, aşağıdakilerden hangisidir?

- A) Gazi Ahmet Muhtar Paşa
- B) Mithat Paşa
- C) Gazi Osman Paşa
- D) Enver Paşa

15. Osmanlı Devleti'nde çok partili hayata aşağıdaki hangi olay sonrasında geçilmiştir?

- A) II. Meşrutiyet'in ilanı
- B) Tanzimat Fermanı'nın ilanı
- C) Paris Barış Konferansı
- D) Islahat Fermanı'nın ilanı

16. Osmanlı Devleti'nde 18. yüzyılda dış ilişkilerin önem kazanması ve diplomasi faaliyetlerinin öne çıkması, aşağıdaki görevlilerden hangisinin önemini artırmıştır?

- A) Nişancı
- B) Reisülküttap
- C) Emir-i Silah
- D) Kazasker

17. Osmanlı Devleti Kuzey Afrika'daki son toprağını aşağıdaki hangi savaş sonucunda kaybetmiştir?

- A) Trablusgarp Savaşı
- B) II. Balkan Savaşı
- C) Kırım Savaşı
- D) Çanakkale Savaşı

18. Aşağıdakilerden hangisi I. Dünya Savaşı sonucunda yenilen devletlerle imzalanan barış antlaşmalarından biri değildir?

- A) Paris Antlaşması
- B) Sevr Antlaşması
- C) Trianon Antlaşması
- D) Versay Antlaşması

## EK SINAV

19. 1841 Londra Sözleşmesi ile aşağıdaki devletlerden hangisi boğazlarla ilgili ayrıcalıklı konumunu kaybetmiştir?

- A) Avusturya B) Rusya  
C) Almanya D) İtalya

20. Osmanlı Devleti I. Dünya Savaşı'ndan aşağıdaki hangi antlaşmayı imzalayarak ayrılmıştır?

- A) Lozan B) Prut  
C) Mondros D) Bükreş

### (505) SEÇ. COĞRAFYA – 3

1. I- Deprem  
II- Çığ  
III- Erozyon  
IV- Volkanizma

Levha sınırında bulunan bir yerde yukarıdaki doğal olaylardan hangilerinin görülme olasılığı daha yüksektir?

- A) I. ve II. B) II. ve IV.  
C) I. ve III. D) I. ve IV.

2. • Hindistan'da bulunan Taç Mahal'in yapımında kullanılmıştır.  
• İnce dokulu olduğu için düzleştirilebilir.  
• Yapı malzemesi olarak kullanılmaktadır.  
• Kolay parlatılabilir.

Yukarıda özellikleri verilen kayaç aşağıdakilerden hangisidir?

- A) Granit B) Mermer  
C) Gnays D) Diorit

3. Aşağıdakilerden hangisi tortul kayaçların özellikleri arasında gösterilemez?

- A) Oluşumlarında dış kuvvetler etkilidir.  
B) İçlerinde fosil bulundurlar.  
C) Ufalanma ve taşınma sonucu oluşmuşlardır.  
D) Yerkabuğunun derinliklerinde bulunurlar.

4.



- A horizonu → Bitkilerin tutunduğu katmandır.  
B horizonu → Mineral madde bakımından zengindir.  
C horizonu → Yıkınma bu katmanda gerçekleşir.  
D horizonu → Anakaya bu katmandadır.

Yukarıda toprak horizonlarından hangisi hakkında verilen bilgi yanlıştır?

- A) A horizonu B) B horizonu  
C) C horizonu D) D horizonu

5. • Karasal iklimin yarı nemli alanlarında görülürler.  
• Çayır örtüsü altında gelişirler.  
• Humus oranı yüksektir.

Yukarıda özellikleri verilen toprak türü aşağıdakilerden hangisidir?

- A) Çernezyom B) Tundra  
C) Alüvyon D) Terra rossa

6. I- Suları kireçlidir.  
II- Ülkemizde göller yöresinde yaygındır.  
III- Obruk ve polye gibi erime çanaklarında görülür.

Yukarıda özellikleri verilen göl çeşidi aşağıdakilerden hangisidir?

- A) Buzul gölü B) Tektonik göl  
C) Karstik göl D) Volkanik göl

7. I- İklim çeşitliliği fazladır.  
II- Ortalama yükseltisi fazladır.  
III- Mevsimler belirgin olarak görülür.  
IV- Kışın cephesel yağışlar fazladır.

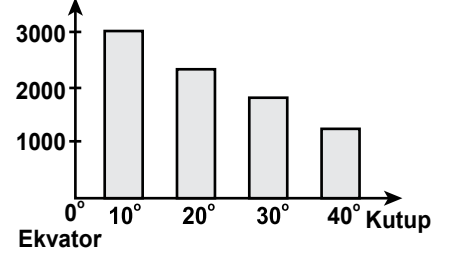
Yukarıda ülkemize ait olarak verilen özelliklerden hangileri ülkemizin matematik konumun sonucudur?

- A) I. ve II. B) II. ve III.  
C) I. ve IV. D) III. ve IV.

8. Aşağıdakilerden hangisi Kuzey Anadolu Dağları içerisinde değildir?

- A) Menteşe Dağları  
B) Canik Dağları  
C) Kaçkar Dağları  
D) Köroğlu Dağları

9. Yükselti (m)



Grafikte orman üst sınırının enlem değerine göre değişimi gösterilmiştir.

Bu durum üzerinde aşağıdakilerden hangisi etkili olmuştur?

- A) Yağış B) Sıcaklık  
C) Basınç D) Rüzgar

10. Ege bölgesindeki akarsularımız sağa-sola bükümler yaparak akar.

Bu durumun sebebi nedir?

- A) Akarsuyun uzunluğunun fazla olması  
B) Buharlaşıma miktarının fazla olması  
C) Akarsuyun yatak eğiminin azalması  
D) Bitki örtüsünün zayıf olması

11. İçerisinde yer altı suyu bulunan tabakaya ne ad verilir?

- A) Gayzer B) Aretezyen  
C) Akifer D) Kaynak

12. Dünya nüfusunun büyük çoğunluğu Kuzey Yarımküre'dedir.

Bu durum Kuzey Yarımküre'nin hangi özelliğinden kaynaklanmaktadır?

- A) Karaların geniş yer tutması  
B) Yaz mevsiminin daha uzun sürmesi  
C) Petrol rezervlerinin fazla olması  
D) Ulaşım ağının daha gelişmiş olması



## EK SINAV

13. Aşağıdakilerden hangisi, bitki kalıntılarının birikip taşlaması sonucu oluşmuş bir kayadır?

- A) Kömür B) Andezit  
C) Tebeşir D) Mercan

14. Kıtaların kıyıları iç kısımlarına oranla daha yoğun nüfusludur.

Aşağıdakilerden hangisi bu durumun sebeplerinden değildir?

- A) İklimin uygun olması  
B) Yeraltı kaynaklarının zengin olması  
C) Tarıma elverişli olması  
D) Ulaşım koşullarının uygun olması

15. I- Ekonomik krizler  
II- 2. Dünya Savaşı'nın sona ermesi  
III- Sağlık ve beslenme alanındaki gelişmeler

Yukarıdakilerden hangileri 1960 yılından sonra dünyada nüfus artış hızının yükselmesinde etkili olmuştur?

- A) Yalnız I. B) Yalnız III.  
C) I. ve II. D) II. ve III.

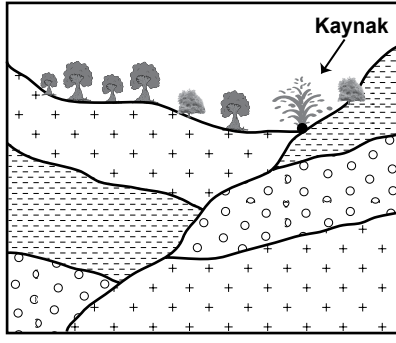
16. Aşağıdakilerden hangisi göçlerin nedenleri arasında gösterilemez?

- A) İşsizlik  
B) Gecekondulaşma  
C) Tarımda makineleşme  
D) Eğitim hizmetlerinin yetersizliği

17. Gelişmiş ülkelerde nüfus artış hızı genel olarak düşüktür. Bu durumun sebepleri arasında aşağıdakilerden hangisi gösterilemez?

- A) İş gücü ihtiyacının fazla olması  
B) Nüfus planlamasının yapılması  
C) Kadınların çalışma hayatına girmesi  
D) Ekonomik kalkınmanın gerçekleşmesi

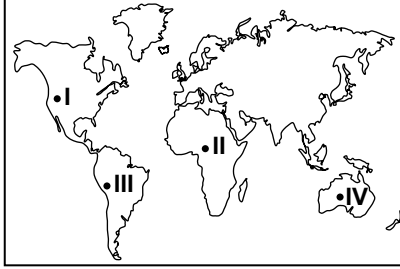
18.



Şekilde gösterilen kaynak türü aşağıdakilerden hangisidir?

- A) Artezyen B) Gayzer  
C) Fay kaynağı D) Karstik kaynak

19.



Yukarıdaki Dünya haritasında gösterilen işaretli alanların hangilerinde yer şekillerinin nüfus miktarı üzerindeki olumsuz etkisi daha fazladır?

- A) I ve II B) I ve III  
C) II ve IV D) I ve IV

20. Günümüzde insanların göç etmesine neden olan en önemli faktör aşağıdakilerden hangisidir?

- A) İşsizlik  
B) Kuraklık  
C) Volkanik patlamalar  
D) Nüfus mübadelesi

## (506) SEÇ. COĞRAFYA – 4

1. Okyanus ve denizlerde meydana gelen depremlerin oluşturduğu dev dalgalara ne denir?

- A) Tsunami B) Gidegen  
C) Formasyon D) Podzol

2. Aşağıdakilerden hangisi köy ve şehir yerleşmelerini birbirinden ayırt eden bir özellik değildir?

- A) Nüfus miktarı  
B) Ulaşım imkânları  
C) Coğrafi konumu  
D) Geçim kaynakları

3. Aşağıdaki şehirlerden hangisinin gelişmesinde yeraltı kaynaklarının etkisi daha fazladır?

- A) Ankara B) Batman  
C) Çanakkale D) Denizli

4. Irmak adaları aşağıdaki akarsulardan hangisinin üzerinde daha çok görülür?

- A) Çoruh  
B) Göksu  
C) Dalaman  
D) Büyük Menderes

5. Dağ ve oluşum şekli arasında aşağıda yapılan eşleştirmelerden hangisi yanlıştır?

- | Dağ             | Oluşum şekli |
|-----------------|--------------|
| A) Küre dağları | Kıvrım dağ   |
| B) Ağrı Dağı    | Kıvrım dağ   |
| C) Bozdağlar    | Kırıklı dağ  |
| D) Erciyes Dağı | Volkanik dağ |

6. Aşağıda verilen delta ovalarından hangisi Ege Denizi kıyısındadır?

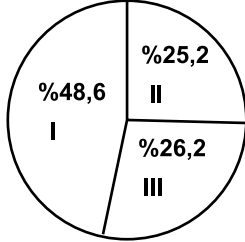
- A) Bafra B) Sakarya  
C) Bakırçay D) Çukurova

## EK SINAV

7. Aşağıdakilerden hangisi nüfus ve yerleşmenin dağılımını etkileyen beşeri faktördür?

- A) Sanayi
- B) Sıcaklık
- C) Bitki örtüsü
- D) Dağların uzanışı

8. Aşağıda Türkiye’de aktif nüfusun ekonomik faaliyet kollarına göre dağılımı gösterilmiştir.



(TÜİK - 2011)

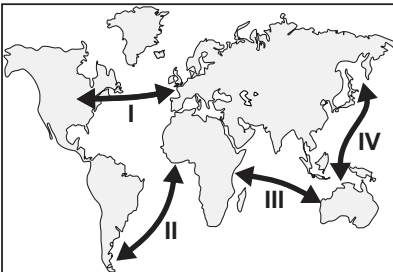
Buna göre I, II ve III numaralı sektörler aşağıdakilerden hangisinde doğru olarak verilmiştir?

|    | I      | II     | III    |
|----|--------|--------|--------|
| A) | Sanayi | Hizmet | Tarım  |
| B) | Tarım  | Hizmet | Sanayi |
| C) | Hizmet | Sanayi | Tarım  |
| D) | Hizmet | Tarım  | Sanayi |

9. Rüzgâr aşındırma ve biriktirme şekillerinin iç bölgelerimizde daha çok görülmesinin en önemli nedeni aşağıdakilerden hangisidir?

- A) Arazinin düz olması
- B) Bitki örtüsünün zayıf olması
- C) Yanlış arazi kullanımı
- D) Toplu yerleşmelerin görülmesi

10.



Dünya haritasında numaralanarak verilen hatlardan hangisinde deniz yolu ile taşınan mal miktarı daha çoktur?

- A) I
- B) II
- C) III
- D) IV

11. Ülkemizde genel olarak akarsuların akış hızlarının fazla olmasının nedeni aşağıdakilerden hangisidir?

- A) Yatak eğimlerinin fazla olması
- B) Akarsu boylarının kısa olması
- C) Rejimlerin düzensiz olması
- D) Beslenme kaynaklarının çeşitli olması

12. İlkbaharda yeşerip yaz boyunca yeşil kalan ot topluluğuna ne denir?

- A) Tundra
- B) Çayır
- C) Psödomaki
- D) Antropojen bozkır

13. Türkiye’nin zengin sıcak su kaynaklarına sahip olmasının nedeni aşağıdakilerden hangisidir?

- A) Üç tarafının denizlerle çevrili olması
- B) Ortalama yükseltisinin fazla olması
- C) Aktif bir tektonik yapıya sahip olması
- D) Geniş bir akarsu ağına sahip olması

14. Türkiye’de toprak çeşitliliğinin fazla olmasında aşağıdakilerden hangisinin etkisi yoktur?

- A) Farklı iklimlerin görülmesinin
- B) Çiğ olaylarının yaşanmasının
- C) Arazinin farklı kayalardan oluşmasının
- D) Bitki örtüsünün çeşitlilik göstermesinin

15. Kurak ve yarı kurak bölgelerde su ve rüzgâr erozyonunun etkili olmasının temel nedeni aşağıdakilerden hangisidir?

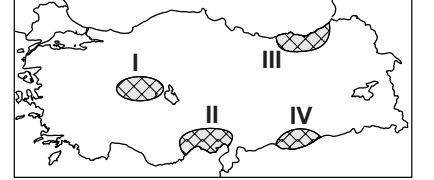
- A) Bitki örtüsünün zayıf olması
- B) Tarımsal faaliyetlerin yoğun yapılması
- C) Volkanik olayların görülmesi
- D) Arazinin yanlış kullanılması

16. Ülkemizde 1985 yılından sonra nüfus artış hızında azalma görülmektedir.

Aşağıdakilerden hangisi bu durumun nedenleri arasında gösterilemez?

- A) Eğitim düzeyinin yükselmesi
- B) Aile planlaması uygulamaları
- C) İç göçlerin yoğun yaşanması
- D) Kadının iş hayatında yer alması

17.



Haritada verilen taralı alanların hangisinde heyelan olaylarının daha sık görüldüğü söylenebilir?

- A) I
- B) II
- C) III
- D) IV

18. Aşağıdakilerden hangisi kırdan kente göçü önlemede etkili olmaz?

- A) Tarımda makineleşmenin artırılması
- B) Besi ve ahır hayvancılığının geliştirilmesi
- C) Kırsal alanlarda tarıma dayalı sanayinin kurulması
- D) Kırsalda eğitim ve sağlık hizmetlerinin yaygınlaştırılması

19. Aşağıdakilerden hangisi volkanizmanın olumsuz etkilerinden biridir?

- A) Asit yağmurlarını oluşturmaları
- B) Bazı volkanik arazilerin turistik değer taşıması
- C) Volkanik taşların inşaat sektöründe kullanılması
- D) Volkanik toprakların mineral bakımından zengin olması

20. Aşağıdaki şehirlerden hangisinde çığ olayı daha sık görülür?

- A) Eskişehir
- B) Samsun
- C) Şanlıurfa
- D) Bingöl

1. Aşağıdakilerden hangisi fıkıh ilminin amaçlarından biri değildir?

- A) İnsanlar arası ilişkilerin olumlu yönde ilerlemesini sağlamak.
- B) İnsanların kendi yararına ve zararına olan şeyleri bilmek.
- C) İnsanın Allah'a karşı görevlerini bilinçli bir şekilde yerine getirmesini sağlamak.
- D) İnsanların itikadi meseleleri delilleriyle öğrenmelerini sağlamak.

2. Peygamberimizin "Müellefe-i Kulûb'a" zekâtta tahsis ettiği fon aşağıdaki halifelerden hangisinin görüşü ve müdahalesiyle kaldırılmıştır?

- A) Hz. Ebu Bekir
- B) Hz. Osman
- C) Hz. Ömer
- D) Hz. Ali

3. Miras ve vasiyet ile ilgili konular fıkıh ilminin hangi başlığı altında ele alınır?

- A) Feraiz
- B) Ukubat
- C) Muamelat
- D) Münakehat

4. Kişinin bir takım haklara sahip olmaya elverişli bulunması ve sorumlulukları yerine getirebilme yeteneğine fıkıhta ne ad verilir?

- A) Ehliyet
- B) Emanet
- C) Edille-i Şerriyye
- D) Ef'al-i Mükellefin

5. Dinî hükümlerin, bir anda ve topluca değil de zaman içerisinde ihtiyaçlara göre konulması fıkıh usulünün hangi temel amacı ile ilgilidir?

- A) Haramda sınırlılık
- B) Helallerde genişlik
- C) Hükümlerde tedricilik
- D) Kamu yararının gözetilmesi

6. Fıkıh ilminde "Avarızu'l ehliyye" kavramı ile aşağıdakilerden hangisi kastedilir?

- A) Ehliyet Engelleri
- B) Ehliyet Şartları
- C) Vücub Ehliyeti
- D) Eda Ehliyeti

7. Fıkıh ilmi ile ilgili eserler hangi dönemde yazılmaya başlanmıştır?

- A) Tabiin dönemi
- B) Sahabe dönemi
- C) Hz. Peygamber dönemi
- D) Mezheplerin ortaya çıktığı dönem

8. Kötülüğe neden olan kapının kapatılması anlamına gelen şer'î delil aşağıdakilerden hangisidir?

- A) Mesalih-i Mürsele
- B) Sedd-i Zeraî
- C) İstihsan
- D) İstihsab

9. Aşağıdakilerden hangisi İslam düşüncesinde ortaya çıkan fikhî bir mezhep değildir?

- A) Caferilik
- B) Eşarilik
- C) Malikilik
- D) Hanbelilik

10. Şer'î bir problemin çözümü noktasında, hangi kaynaklara başvurulacağını ve hangi temel ilkeler çerçevesinde çözüleceğini konu edinen ilim dalı aşağıdakilerden hangisidir?

- A) İslam Felsefesi
- B) Hadis Usulü
- C) Tefsir Usulü
- D) Fıkıh Usulü

11. Aşağıdakilerden hangisinin vücub ehliyeti eksiktir?

- A) Anne karnındaki ceninin
- B) Yedi yaşına gelmemiş çocukların
- C) Yedi yaşından buluş çağına kadar olan dönemdeki çocukların
- D) Buluş çağından sonraki dönemdeki kişilerin

12. Şarabın haram kılınmasından yola çıkarak tüm alkollü içecekler de haram kabul edilmiştir.

Bu hüküm aşağıdakilerden hangisine örneklik oluşturur?

- A) Sünnet
- B) Kitap
- C) Kıyas
- D) İcma

13. Aşağıdakilerden hangisi ehliyeti ortadan kaldıran müktesep arızalara örnektir?

- A) Çocukluk
- B) Unutkanlık
- C) Bayılmak
- D) Sarhoşluk

14. Aşağıdakilerden hangisi fıkıhın ukûbât bölümünün konusudur?

- A) Vasiyet ve Miras
- B) Suçlar ve Cezalar
- C) Akitler ve Borçlar
- D) Nikâh ve Boşanma

15. Aşağıdaki eşleştirmelerden hangisi yanlıştır?

- A) Mutlak farz → Zekât
- B) Mukayyed farz → Hac
- C) Farz-ı ayn → Beş vakit namaz
- D) Farz-ı kifaye → Ramazan orucu

16. Aşağıdakilerden hangisi fıkıh ilminin konusudur?

- A) Meleklerin özellikleri
- B) Kur'an'ın yorumlanması
- C) Hadislerin sıhhat derecesi
- D) Dini hükümlerin kaynakları

17. Yapılması dinen hoş karşılanmayan, kesin ve açık delillerle yasaklanmayan fiillere ne denir?

- A) Haram
- B) Mekruh
- C) Müfsit
- D) Mübah

18. Aşağıdakilerden hangisi Hanefi mezhebinin önde gelen imamlarından değildir?

- A) İmam Yusuf
- B) İmam Züfer
- C) İmam Nevevi
- D) İmam Muhammed

## EK SINAV

19. Aşağıdakilerden hangisi icma'nın gerçekleşmesi için gerekli olan şartlardan biri değildir?

- A) İcma şer-i bir konuda olmalıdır.
- B) Müçtehidlerin tamamı fikir birliği etmelidir.
- C) İcma eden alimlerin müçtehid olmaları gerekir.
- D) İcma Hz. Peygamber hayatta iken meydana gelmiş olmalıdır.

20. İctihat ile ilgili olarak aşağıdakilerden hangisini söylemek doğru değildir?

- A) Fıkıh tarihinde bir zenginliktir.
- B) Dinin yaşanmasını zorlaştırır.
- C) Yeni çıkan sorunlara çözümler üretir.
- D) Fıkıhın, hayatla paralel gitmesini sağlar.

### (512) FIKIH – 2

1. Aşağıdakilerden hangisi namazın içindeki farzlardan (kılınıp şartlarından) biridir?

- A) Niyet
- B) Setri avret
- C) İstikbali kıble
- D) İftitah tekbiri

2. Aşağıdakilerden hangisi abdes-tin farzlarındandır?

- A) Başa meshetmek
- B) Boynu mesh etmek
- C) Besmele ile başlamak
- D) Her uzvu üç kere yıkamak

3. Aşağıdakilerden hangisi tavaf çeşitlerinden biri değildir?

- A) Veda
- B) Mikat
- C) Kudüm
- D) Ziyaret

4. Aşağıdakilerden hangisi imam olacak kişide bulunması gereken özelliklerden değildir?

- A) Ergenlik çağına girmiş olmak
- B) Akıl sağlığı yerinde olmak
- C) Müslüman olmak
- D) Mukim olmak

5. Dört rekatlık farz bir namazın ilk oturunda aşağıdakilerden hangisi okunur?

- A) Tahiyat
- B) Zammı sure
- C) Salli - Barik
- D) Rabben duaları

6. Orucun başlama zamanı (imsak) aşağıdakilerden hangisidir?

- A) Tanyerinin ağarmasından otuz dakika sonra
- B) Güneşin doğmasından otuz dakika önce
- C) Tan yerinin ağarması ile
- D) Güneşin doğması ile

7. Ramazan orucu ne zaman farz kılınmıştır?

- A) Hicretten iki yıl sonra
- B) Hicretten altı ay önce
- C) Miraç esnasında
- D) Mekke'nin fethinden sonra

8. Tilavet secdesi hakkında aşağıda verilen bilgilerden hangisi yanlıştır?

- A) Secde ayeti okunduğunda veya duyulduğunda en kısa zamanda tilavet secdesi yapılmalıdır.
- B) Kur'an'da on dört yerde secde ayeti vardır.
- C) Tilavet secdesinde secde bir kez yapılır.
- D) Tilavet secdesini yapmak farzdır.

9. Aşağıdakilerden hangisi Ramazan ayı ile ilgili bir kavram değildir?

- A) Fitre
- B) Öşür
- C) İtikaf
- D) Mukabele

10. Tavafin başlama yeri olarak aşağıdakilerden hangisi esas alınır?

- A) Hz. İbrahim makamı
- B) Kâbe'nin kapısı
- C) Hacer'ül Esved
- D) Hatim

11. "Yalan konuşmayı bırakmayan, yanlış davranışlardan kaçınmayan kimsenin kendini aç ve susuz bırakmasına Allah'ın ihtiyacı yoktur."

(Hadis-i Şerif)

**Bu hadisten çıkarılabilecek en kapsamlı sonuç aşağıdakilerden hangisidir?**

- A) Oruç, Allah rızası için tutulmalıdır.
- B) Oruç tutan kişi yalan söylememelidir.
- C) Oruçlu müslüman güzel davranışlar sergilemelidir.
- D) Oruçlu kimse imkanlarını başkalarıyla paylaşmalıdır.

12. Aşağıdakilerden hangisi namazın her rekâtında yapılmaz?

- A) Kıraat
- B) Ka'de-i ahire
- C) Rûku
- D) Secde

13. Nisab kavramı aşağıdakilerden hangisinde doğru açıklanmıştır?

- A) Toprak ürünlerinden alınan zekat miktarıdır.
- B) Zekatı verilecek malın artma özelliğine sahip olmasıdır.
- C) Dinen zekat verebilmek için gerekli olan mali yeterlilik ölçüsüdür.
- D) Bir insanın kendisinin ve bakımına yükümlü olduğu kimselerin temel ihtiyaçlarıdır.

14. "Ey iman edenler! Allah'a karşı sorumluluğunuzun bilincine varasınız diye oruç, sizden öncekilere farz kılındığı gibi size de farz kılındı."

(Bakara suresi, 183. ayet)

**Oruç ile ilgili aşağıdakilerden hangisi bu ayetten çıkarılabilecek bir sonuç değildir?**

- A) Sevabı diğer ibadetlere göre daha fazladır.
- B) İslam'dan önceki milletlere de farz kılınmıştır.
- C) Sorumluluk bilincini geliştirir.
- D) Yerine getirilmesi farzdır.

## EK SINAV

15. Aşağıdakilerden hangisi namazı **bozmaz**?

- A) Farzlardan birini terk etmek.
- B) Birinci rekatta okuduğu sureyi ikinci rekatta tekrar okumak.
- C) Kur'an-ı, anlamı bozulacak şekilde okumak.
- D) Göğsü kıbleden başka yöne çevirmek.

16. Kişinin ölümünden sonra da sevap almasına vesile olacak kalıcı sadakalara ne ad verilir?

- A) Sadaka-i Cariye
- B) Fitr Sadakası
- C) Fidyeye
- D) Hibe

17. Aşağıdakilerden hangisi hem hacda hem de umrede yapılır?

- A) Sa'y
- B) Vakfe
- C) Kurban kesmek
- D) Müzdelife vakfesi

18. Hac ibadeti yapılaş şekli bakımından üçe ayrılır.

Aşağıdakilerden hangisi bunlardan biri **değildir**?

- A) İfrad Haccı
- B) Kıran Haccı
- C) Veda Haccı
- D) Temettü Haccı

19. "Deki; Hak, Rabbinizdendir. Öyle ise dileyen iman etsin, dileyen inkar etsin."

(Kehf Suresi, 29. ayet)

Bu ayet aşağıda verilen temel haklardan hangisiyle ilgilidir?

- A) Yaşama hakkı
- B) İnanç hürriyeti
- C) İbadet hürriyeti
- D) Düşünce hürriyeti

20. Bir ülkede evlenme oranlarının düşmesi ve boşanma oranlarının artması aşağıdakilerden hangisini olumsuz şekilde etkiler?

- A) Düşünce hürriyetini
- B) Neslin korunmasını
- C) Yaşama hakkını
- D) Yaşatma hakkını

(527) SEÇ. YAB. DİL İNG. – 7

**1 - 20. sorularda boş bırakılan yere uygun gelen kelime ya da ifadeyi işaretleyiniz.**

1. Prague is famous - - - - its bridges.

- A) about
- B) at
- C) on
- D) for

2. My grandmother was fond - - - - her grandchildren.

- A) an
- B) in
- C) of
- D) at

3. I am disappointed - - - - his bad behaviours.

- A) for
- B) with
- C) at
- D) on

4. Emre is - - - - on watching cartoons.

- A) keen
- B) interested
- C) ready
- D) different

5. He was - - - - about his son because he was late.

- A) worried
- B) famous
- C) good
- D) bad

6. Have you seen him - - - -?

- A) since
- B) never
- C) recently
- D) after

7. She - - - - watering the flowers in the garden since morning.

- A) had been
- B) has been
- C) will be
- D) was

8. Tuğçe wanted to know - - - - I was ill.

- A) recently
- B) since
- C) so for
- D) whether

9. The woman wearing red dress - - - - her mobile phone.

- A) is lost
- B) has lost
- C) have lost
- D) lose

10. I have never - - - - a snake so far.

- A) to touch
- B) touch
- C) touched
- D) touching

11. Mehmet asked me - - - - I had some time to drink coffee with him.

- A) of
- B) if
- C) to
- D) in

12. I have - - - - my hands before the dinner.

- A) washed
- B) washing
- C) to wash
- D) wash

13. I - - - - since four o'clock. I haven't arrived home yet.

- A) will have been drawn
- B) have been driving
- C) will be driving
- D) was driving

14. I - - - - my parents lately. I miss them a lot.

- A) visited
- B) am visiting
- C) will not visit
- D) haven't visited

15. Canan: "What are your hobbies? Canan asked me - - - - my hobbies were.

- A) if
- B) why
- C) what
- D) which

16. Serpil: "Did you buy a new bag?"

Serpil asked me - - - - I had bought a new bag.

- A) before
- B) when
- C) while
- D) if

## EK SINAV

17. She said: "I must go on time."  
She said me she ---- go on time.

A) had to      B) must  
C) can        D) may

18. Mother: "Wash your hands."  
Mother ---- me to wash my hands.

A) told        B) said  
C) asked      D) spoke

19. Beyza: "I was reading a book last night."

She said that she had been reading a book ----.

A) at night  
B) to night  
C) that night  
D) the previous night

20. How long ---- when I called you?

A) have you been sleeping  
B) had you been sleeping  
C) are you sleeping  
D) will you sleeping

### (527) SEÇ. YAB. DİL ALM. – 7

1 - 14. sorularda boş bırakılan yere uygun gelen kelime ya da ifadeyi işaretleyiniz.

1. Frank liebt ---- zu reisen.

A) alleine      B) fahren  
C) sich        D) fliegen

2.



Das Flugzeug ist ---- den Wolken.

A) unter        B) neben  
C) über        D) vor

3. Wir lernen ---- drei Jahren Deutsch in der Schule.

A) sind        B) seit  
C) bis         D) von

4. Hast du ---- angezogen?

A) mein        B) dein  
C) dir         D) dich

5. Ich gratuliere mein- ---- Freund zum Geburtstag.

A) -em        B) -e  
C) -en        D) -er

6. ---- Hund, ---- Vogel, ---- Pferd.

A) das / die / der  
B) der / der / das  
C) die / der / das  
D) das / der / das

7. Er hat ---- Brille verloren.

A) seine        B) sein  
C) dein        D) mein

8. Gegenteil von schwach ist ----.

A) laut        B) leise  
C) groß       D) stark

9. A: ---- Sprachen kannst du sprechen?

B: Deutsch und Englisch.

A) Welches    B) Welche  
C) Welchen    D) Welcher


10. Kanada ist ----.

A) ein Land  
B) ein Kontinent  
C) eine Stadt  
D) eine Sprache

11. Gegenteil von groß ist ----.

A) schwach    B) klein  
C) leicht       D) laut

12.



Der Löwe ist ---- der Giraffe und dem Elefanten.

A) auf        B) hinter  
C) zwischen    D) über

13. Menschen können glücklich werden, ---- sie gesund sind.

A) wenn        B) dann  
C) aber        D) dass

14. ---- Affe, ---- Zebra, ---- Giraffe

A) das / das / der  
B) die / das / der  
C) der / das / die  
D) die / der / das

15. Aşağıdakilerden hangisi ayrılabilir fiil değildir? (Trennbare Verben)

A) mitkommen    B) einpacken  
C) aufstehen      D) vergessen

16. "Das Computer" kelimesinin çoğulu aşağıdakilerden hangisidir? (Pluralform)

A) die Computers  
B) die Computern  
C) die Computer  
D) der Computer

17. Aşağıdakilerden hangisi fiildir? (Verb)

A) laut        B) leise  
C) süß        D) lachen

18. Aşağıdakilerden hangisi sıfattır? (Adjektiv)

A) träumen      B) malen  
C) schön        D) lesen

## EK SINAV

19.



**Was macht er?**

- A) schlafen      B) lesen  
C) schreiben      D) sprechen

20.



**Was hat er?**

- A) Halsschmerzen  
B) Bauchschmerzen  
C) Zahnschmerzen  
D) Ohrenschmerzen

(527) SEÇ. YAB. DİL FRAN. – 7

1 – 18. sorularda boş bırakılan yere uygun gelen kelime ya da ifadeyi işaretleyiniz.

1. **Regardez la grosse chatte!**  
----- est très mignonne.

- A) Il      B) Elle      C) Tu      D) Ils

2. **Si tu as faim, ----- un sandwich.**

- A) pris      B) prends  
C) prenant      D) prendre

3. **A: Pourquoi tu n'es pas venu au stade?**

**B: ----- je suis allé chez le dentiste.**

- A) Quand      B) Combien  
C) Parce que      D) Comment

4. **Le restaurant ----- à 10 heures.**

- A) ouvre      B) cherche  
C) traverse      D) mange

5. ----- à la piscine pour être en bonne santé.

- A) Nagez      B) Fait  
C) Nagé      D) Faites

6. **Mustafa ne prend ----- le car, il préfère l'avion.**

- A) personne      B) rien  
C) souvent      D) jamais

7. **A: Paul téléphone souvent à sa sœur?**

**B: Oui, il ----- téléphone souvent.**

- A) le      B) leur  
C) lui      D) la

8. **A: Tu connais ce musicien?**

**B: Oui, je ----- connais.**

- A) la      B) leur  
C) lui      D) le

9. **Mme Thibaud ----- le verre sur la jupe de sa fille.**

- A) est versé      B) a versé  
C) a été versé      D) as versé

10. **Je vais ----- quand je veux prendre un train.**

- A) à la gare      B) au théâtre  
C) au marché      D) à la piscine

11. **J'ai rencontré tes frères à la cantine et je ----- ai parlé.**

- A) les      B) le  
C) lui      D) leur

12. **Ils ----- de bonnes vacances à Ayvalık.**

- A) avons passé  
B) sont passées  
C) ont passé  
D) sommes passés

13. **Kerem adore le thé. Il va souvent -----.**

- A) chez le poissonnier  
B) à la faculté de pharmacie  
C) au café  
D) chez le boulanger

14. **Pour avoir un permis de conduire, Nilgün devra suivre des cours dans -----.**

- A) une auto-école  
B) une école maternelle  
C) une école primaire  
D) un bureau de poste

15. **Je vous présente Tarik ----- est mon ami d'enfance.**

- A) que      B) qui  
C) où      D) dont

16. **Il n'a pas fait ses devoirs, car ----- un match de basket à la télé.**

- A) il pleuvait  
B) c'était  
C) il faisait froid  
D) il y avait

17. **A: J'écoute la radio.**

**B: Pardon, qu'est-ce que tu dis?**

**A: Je dis que (qu') -----.**

- A) elle va écouter la radio  
B) il écoute la radio  
C) j'ai écouté la radio  
D) j'écoute la radio

18. **Paul: J'ai dix-neuf ans.**


**Elif : Pardon, qu'est-ce qu'il dit?**

**Jean: Il dit que (qu') -----.**

- A) il aura dix ans  
B) elle a dix-neuf ans  
C) il a dix-neuf ans  
D) elle aura neuf ans

19 – 20. sorularda verilen resme göre doğru ifadenin bulunduğu seçeneği işaretleyiniz.

19.



**Il est -----.**

- A) énervé      B) gai  
C) optimiste      D) souriant



## EK SINAV

20.



Elle a - - - - et elle porte - - - - .

- A) une moustache / des lunettes
- B) de la barbe / des lunettes
- C) les cheveux courts / des boucles d'oreilles
- D) de belles dents / une jupe

(528) SEÇ. Y. DİL İNG. – 8

1 - 20. sorularda boş bırakılan yere uygun gelen kelime ya da ifadeyi işaretleyiniz.

1. They will have been living here for six years - - - - next month.

- A) by                      B) on
- C) at                     D) then

2. The company - - - - closed by the government.

- A) had                    B) was
- C) has                    D) have

3. If I had wings, I - - - - fly.

- A) must                  B) will
- C) could                 D) may

4. - - - - you come here, I will have moved to Italy.

- A) Recently              B) Last week
- C) Yesterday            D) By the time

5. He wanted to know if Aslı was ill. - - - - he called her this morning.

- A) Although              B) Because
- C) Why                    D) So

6. She can't walk fast - - - - she is overweight.

- A) since                  B) while
- C) so far                  D) until

7. You will fail - - - - you don't study hard and regularly.

- A) although              B) after
- C) as long as            D) while

8. - - - - I talk to him, I feel quite happy.

- A) So far                  B) Whenever
- C) Recently              D) While

9. My mum - - - - a cake if we have a birthday party.

- A) is making              B) would make
- C) might make           D) makes

10. If you fill a balloon with hot air, it - - - - .

- A) is rising                B) rises
- C) would rise            D) could rise

11. This time next summer I will be - - - - on the beach.

- A) sunbathing           B) sunbathed
- C) to sunbathe          D) sunbathe

12. Ahmet is crazy about cultural holiday. He - - - - all the historical places by the end of the year.

- A) will have visited
- B) will visit
- C) visits
- D) visit

13. My father was very tired. He - - - - working all day.

- A) will be                  B) had been
- C) would be              D) will have

14. My mother will have - - - - the meal by the time we arrive home.

- A) cook                    B) to cook
- C) cooked                D) cooking

15. If I go to Trabzon, I - - - - Sumela Monastery.

- A) visit                    B) visiting
- C) visited                D) will visit

16. The letter - - - - by the secretary.

- A) was writing           B) is writing
- C) was written          D) wrote

17. If I - - - - you, I would come with you.

- A) met                    B) sat
- C) helped                D) watched

18. The pyramids were - - - - by the ancient Egyptians.

- A) drunk                  B) built
- C) caught                D) hidden

19. I would travel a lot - - - - .

- A) if I had a mobile phone
- B) if I had a big house
- C) if I stayed at home
- D) if I had a new car

20. - - - -, you would have waited for the train.

- A) If you had taken a taxi
- B) If you had studied more
- C) If you had missed the bus
- D) If you had cleaned the house

(528) SEÇ. Y. DİL ALM. – 8

1 - 17. sorularda boş bırakılan yere uygun gelen kelime ya da ifadeyi işaretleyiniz.

1. A: Was - - - - du essen?  
B: Ich möchte gerne Fisch essen.

- A) hast                    B) hätte
- C) möchtest            D) möchte



## EK SINAV

2. - Was glaubst du, welche Mannschaft - - - - heute gewinnen?  
- Ich glaube Deutschland.

A) werden      B) wird  
C) wurde      D) geworden

3. Berlin ist die - - - - von Deutschland.

A) Straße      B) Dorf  
C) Hauptstadt      D) Ort

4. Ich gehe zum Arzt, - - - - ich krank bin.

A) dass      B) das  
C) denn      D) wenn

5. - - - -, du mir etwas Geld leihen?

A) Kannst      B) Kann  
C) Könnte      D) Können

6. A: - - - - studiert man?  
B: An einer - - - - .

A) Wie / Gymnasium  
B) Wer / Universität  
C) Wo / Realschule  
D) Wo / Universität

7. In der Berufsschule erlernt man einen - - - - .

A) Abitur      B) Beruf  
C) Sport      D) Schule

8. - - - - ihr euer Zimmer aufgeräumt.

A) Habt      B) Habe  
C) Hat      D) Haben

9. Istanbul ist die - - - - Stadt der Türkei.

A) groß      B) großer  
C) am größten      D) größte

10. Wie - - - - ich Ihnen helfen?

A) können      B) kann  
C) bin      D) sind

11. Wir gehen einkaufen, - - - - uns zu entspannen.

A) denn      B) um  
C) weil      D) dass

12. Abitur - - - - / aufs Gymnasium - - - -

A) machen / gehen  
B) arbeiten / spielen  
C) gehen / studieren  
D) lernen / erlernen

13. Es ist schön, - - - - du kommst.

A) dass      B) oder  
C) aber      D) und

14. Er denkt, - - - - ich sehr faul bin.

A) wenn      B) weil  
C) dass      D) denn

15. A: - - - - Ankara?  
B: In der Mitte der Türkei.

A) Wo liegt      B) Was gibt  
C) Wo      D) Woher

16. Ich - - - - letztes Jahr in die 11. Klasse. (Präteritum)

A) gehen      B) gehe  
C) ging      D) gegangen

17. Ich gehe nicht ins Kino, - - - - es keinen schönen Film gibt.

A) denn      B) dass  
C) aber      D) weil

18. Aşağıdakilerden hangisi sıfattır? (Adjektiv)

A) besuchen      B) lustig  
C) gefallen      D) entwickeln

19. "Fleißig" kelimesinin karşıtı aşağıdakilerden hangisidir?

A) faul      B) lustig  
C) schnell      D) langsam

20. Aşağıdakilerden hangisi ayrılabilir fiildir? (Trennbare Verben)

A) verlieren      B) gewinnen  
C) ausgehen      D) entladen

(528) SEÇ. Y. DİL FRAN. – 8

1 - 18. sorularda boş bırakılan yere uygun gelen kelime ya da ifadeyi işaretleyiniz.

1. Hier soir, - - - - est rentrée à cinq heures du matin.

A) tu      B) elle  
C) je (j')      D) il

2. Avant de sortir, - - - - votre manteau.

A) éteindrez      B) croyons  
C) mettez      D) parlons

3. Ce soir, on va au cinéma. N'oublie pas de (d') - - - - cinq tickets.

A) venir      B) continuer  
C) porter      D) acheter

4. La boulangerie - - - - à 7 heures.

A) ouvre      B) cherche  
C) bois      D) mange

5. Mon père a vu le film Titanic - - - - il trouve super.

A) que (qu')      B) qui  
C) où      D) dont

6. A: Qu'est-ce que tu prends comme boisson?

B: Je prends - - - - .

A) un gâteau au chocolat  
B) des pommes de terre  
C) du jus de pomme  
D) du beurre

7. A: Aykut téléphone souvent à - - - - ?

B: Oui, il leur téléphone souvent.

A) sa fille      B) son cousin  
C) son père      D) ses parents

8. A: Et toi, tu ne prends pas d'omelette ?

B: Si, mais je peux - - - - manger deux fois par semaine.

A) les      B) en      C) lui      D) y

## EK SINAV

9. Les Turcs boivent 25 litres de lait - - - - personne - - - - ans.

- A) en / dans      B) en / en  
C) par / par      D) dans / en

10. Je ne suis jamais allé au Canada mais mon frère - - - - habite.

- A) en      B) y      C) par      D) le

11. Pierre a rendez-vous à 11 heures chez le médecin.

Il est 11 heures. Et il est chez le médecin.

Il est - - - - .

- A) à l'heure      B) en retard  
C) en avance      D) à midi

12. Il a cassé les verres - - - - sa maladresse.

- A) parce que      B) grâce à  
C) pourquoi      D) à cause de

13. Pour grossir, il faut - - - - .

- A) faire du sport  
B) manger beaucoup  
C) marcher  
D) perdre du kilo

14. - - - - ils iront en vacances en Italie.

- A) L'an prochain  
B) Lundi dernier  
C) Avant-hier  
D) Hier

15. A : Tu viens à mon anniversaire?  
B : - - - - .

- A) S'il a faim, il mange de la salade  
B) S'il y a un bon film, je veux aller  
C) Si je vais mieux, je veux venir  
D) S'il a soif, il veut boire du lait

16. Hakan n'a pas fait ses devoirs, car - - - - un film d'action à la télé.

- A) il faisait chaud  
B) il y avait  
C) il faisait froid  
D) c'était

17. Pierre : Sylvie, je n'ai plus de viande, tu peux aller - - - - ?

Charlotte : D'accord, il faut autre chose?

Pierre : Oui, du poulet pour demain.

- A) à la boulangerie  
B) à la librairie  
C) à la boucherie  
D) à l'hôtel

18. Tu peux conduire mais il faut être - - - - .

- A) longue      B) attentif  
C) nouveau      D) hypocrite

19 – 20. sorularda verilen resme göre cümlede boş bırakılan kısmı tamamlayan sözcük ya da ifadenin bulunduğu seçeneği işaretleyiniz.


19.



Mme Dupont qui est - - - - , a deux chats et un chien.

- A) une vieille femme  
B) un vieil homme  
C) une jeune fille  
D) une fausse amie

20.



Quand fait beau, - - - - .

- A) il répare son vélo  
B) il voyage en auto  
C) il lave sa moto  
D) il fait du vélo

(531) HZ. MUHAMMED'İN HAY. – 1

1. Ebu'l-Kasım aşağıdakilerden hangisinin künyesidir?

- A) Hz. Ali  
B) Hz. Ömer  
C) Hz. Osman  
D) Hz. Muhammed

2. İslam tarihinde "İfk olayı" ne anlama gelmektedir?

- A) Peygamberimizin İslamı öğretmek için Necid bölgesine gönderdiği öğretmenlerin öldürülmesi  
B) Münafıkların Müreysi Savaşı'ndan dönerken Hz. Aişe'ye iftira etmesi  
C) Bir ağacın altında Müslümanların herşeye rağmen Peygamberimizi koruyacaklarına söz vermesi  
D) Müslümanların müşrikler tarafından üç yıl muhasaraya alınması

3. "(Sadakalar) kendilerini Allah yoluna adayıp yeryüzünde dolaşmaya güç yetiremeyen fakirler içindir. İffetlerinden dolayı, bilmeyen onları zengin sanır. Sen onları yüzlerinden tanırsın. İnsanlardan arsızca istemezler. Siz hayır olarak ne verirsiniz, şüphesiz Allah onu bilir."

(Bakara suresi 273. ayet)

Bu ayette iffet sahibi fakir müslümanlar hakkında aşağıdakilerden hangisine değilmemiştir?

- A) İhtiyaçlarını gizlediklerine  
B) Yardıma muhtaç olduklarına  
C) Dilenmelerinin gerekliliğine  
D) Sadakaların bunlara verilmesi gerektiğine

4. Aşağıdaki olaylardan hangisi diğerlerine göre daha sonra gerçekleşmiştir?

- A) Veda Haccı      B) Rıdvan Biatı  
C) Tebuk seferi      D) Hayber savaşı

5. Tüm ibadet ve davranışlarımızda Allah'ı görüyormuş gibi davranmak aşağıdakilerden hangisiyle adlandırılır?

- A) İman      B) İbadet  
C) İhsan      D) Ahlak

## EK SINAV

6. Aşağıdakilerden hangisi Peygamberimizin bütün peygamberlerin sünnetlerinden olduğunu söylediği dört şeyden biri değildir?

- A) Örf ve adetleri korumak
- B) Güzel koku sürmek
- C) Dişleri temizlemek
- D) Utanmak

7. Aşağıdakilerden hangisi Hz. Peygamber'in öğütlediği davranışlar arasında yer almaz?

- A) Zorlaştırmak olmak
- B) Hoşgörülü olmak
- C) Gülyüzlü olmak
- D) Kolaylaştırıcı olmak

8. "Kim başkalarına muhtaç olmak istemezse Allah o kimseyi başkalarına muhtaç etmez. İffetli kalmak isteyen de Allah iffetli kılar. Kim ihtiyacına yetecek biçimde bir yaşantı isterse Allah da onu kimseye muhtaç etmez. Kırk dirhemi olduğu hâlde kim dilenirse o ihtiyacı olmadığı halde dilenmiş olur"

(Hadis-i şerif)

Bu hadiste aşağıdakilerden hangisine değinilmemiştir?

- A) Kanatkarlık
- B) İffetli olmak
- C) Dilenmemek
- D) Cömertlik

9. Hz. Peygamber mali durumu iyi olan bir sahabiye; "Allah sana mal mülk ihsan etmiş, onun nimetinin ve ikramının eseri üzerinde görün-sün." diye buyurmuştur.

Bu hadiste sahabiye aşağıdakilerden hangisi tavsiye edilmiştir?

- A) Daha çok ibadet etmesini
- B) Güzel elbiseler giyinmesini
- C) Güzel ahlaklı olmasını
- D) Verilen nimetleri israf etmemesini

10. Hz. Muhammed, Medine'ye hicret ettiğinde, Mescid-i Nebi yapılıncaya kadar kimin evinde misafir olarak kalmıştır?

- A) Ebu Eyyub el-Ensari
- B) Musab bin Umeyr
- C) Zeyd bin Harise
- D) Halid bin Velid

11. Hz. Muhammed, Adal ve Kare kabilelerine İslam'ı öğretmek için Asım b. Sabit önderliğinde on sahabi göndermiştir. Yolda Huzeyl kabilesinden yüz kişilik bir çete bu sahabilere saldırmış sekizi şehit edilmiş, ikisi de esir alınmıştır.

Bu olay İslam tarihinde hangi isimle anılmaktadır?

- A) Raci olayı
- B) Bir-i Ma'une olayı
- C) Beni Nadir savaşı
- D) Beni Müstalik savaşı

12. Mekkeli müşriklerin Müslümanlara uyguladıkları boykot hangi yıllar arasında gerçekleşmiştir?

- A) 610-615
- B) 617-619
- C) 622-625
- D) 630-632

13. Aşağıdakilerden hangisi İsrâ-Miraç olayından sonra gerçekleşmiştir?

- A) Medine'ye hicret edilmesi
- B) Ebu Talip ve Hz. Hatice'nin vefatı
- C) Hz. Muhammed'in Taif'e gitmesi
- D) Müslümanlara boykot uygulanması

14. "Sizler tek hurmanın yarısı ile bunu bulamazsanız güzel bir sözle de olsa ateşten korununuz!"

Bu hadis aşağıdakilerden hangisini vurgulamaktadır?

- A) Sabırlı olmanın gereği
- B) İyilik yapmanın önemi
- C) Sadakanın toplumsal yararı
- D) Kişinin davranışlarında serbest bırakılması

15. Mekkeli müşriklerin, Müslümanlara boykot uygulamak için yaptıkları sözleşmede aşağıdakilerden hangisi yer almaz?

- A) Selam verilmeyecek
- B) Alışveriş yapılmayacak
- C) Kız alınmayacak, verilmeyecek
- D) Kâbe'de put bulundurulmayacak.

16. İslam'a göre kılık kıyafet konusunda aşağıdakilerden hangisinden kaçınmak gerekir?

- A) Estetikten
- B) Tertipten
- C) Gösterişten
- D) Temizlikten

17. Aşağıdaki sahabilerden hangilerinin müslüman olmasıyla İslam'ın yayılması hız kazanmıştır?

- A) Hz. Ali - Hz. Ebubekir
- B) Hz. Hamza - Hz. Ömer
- C) Hz. Cafer - Hz. Osman
- D) Hz. Zeyd - Hz. Bilal

18. Aşağıdakilerden hangisi Hz. Muhammed'in Medinede'ki toplumsal barışı sağlamaya yönelik icraatlarından biridir?

- A) Mescid-i Nebi'nin inşa edilmesi
- B) Namaza çağrı için ezan okunmaya başlanması
- C) Medine sözleşmesinin imzalanması
- D) Hudeybiye antlaşmasının yapılması

19. İslam öncesinde Arapların yaptıkları savaşlardan bazılarının "Ficar Savaşı" olarak adlandırılmasının sebebi aşağıdakilerden hangisidir?

- A) Haram aylarda yapılması
- B) Hz. Muhammed'in de katılması
- C) Ticaret güvenliğini sağlamak için yapılması
- D) Kâbe'de Harem bölgesinde yapılması

20. Aşağıdakilerden hangisi Mekke'de gerçekleşmiştir?

- A) Mescid-i Nebi'nin yapılması
- B) Namaz için ezan okunmaya başlanması
- C) Muhacir ve ensarın kardeş ilan edilmesi
- D) Beş vakit namazın farz kılınması

## (532) HZ. MUHAMMED'İN HAY. – 2

1. Hz. Muhammed, ordunun başına yönetme, beceri ve kabiliyeti olan yetenekli kimseleri komutan olarak atamıştır. Nitekim bir sefer öncesinde de azatlı kölenin oğlu Usame'yi komutan olarak görevlendirmiştir.
- Bu parçada Hz. Muhammed'in hangi ilkeyi esas aldığı söyle-nebilir?**

A) Takva B) Liyakat  
C) Merhamet D) Cömertlik

2. "Mümin olarak, erkek veya kadın, her kim salih amel işlerse, işte onlar cennete girerler ve zerre kadar haksızlığa uğratılmazlar."
- (Nisa suresi, 124. ayet)

**Aşağıdakilerden hangisi bu ayetten çıkarılamaz?**

A) Kullukta müminlerin eşit olduğu  
B) Salih amel işleyenlerin cennete gideceği  
C) Kadın ve erkeklerin eşit haklara sahip olduğu  
D) Cennete müminlerin gidebileceği

3. Hz. Muhammed bir hadisinde; "Ey insanlar! Dikkat edin, sizin Rabb'iniz birdir, babanız da birdir, Adem'dir. Dikkat edin, hiçbir Arab'ın, yabancı üzerine, hiç bir yabancının Arap üzerine, siyahın kırmızı renkli üzerine, kırmızının siyah üzerine üstünlüğü yoktur. Fazilet ve üstünlük ancak takva ile dir." buyurmuştur.

**Bu hadiste vurgulanmak istenen ana düşünce aşağıdakilerden hangisidir?**

A) Adalet B) Hoşgörü  
C) Eşitlik D) Doğruluk

4. Aşağıdakilerden hangisi Mekke'den Medine'ye ilk hicret eden iki kişiden biridir?

A) Hz. Ömer  
B) Cafer b. Ebi Talib  
C) Hz. Ebubekir  
D) Abdullah b. Ümmi Mektum

5. Mekke'li kabileler Hacerü'l - Esved'in yerine konması hususunda, Hz. Muhammed'in hakem olmasına sevindiler.

**Mekke'liler Hz. Muhammed'in hangi özelliğinden dolayı sevinmişlerdir?**

A) Merhametli olmasından  
B) Sabırlı olmasından  
C) Adaletli olmasından  
D) Peygamber olmasından

6. "Ergenlik çağına erişinceye kadar - - - - malına onun iyiliği için olmadıkça dokunmayın."
- (En'am suresi, 152. ayet)

**Ayette boş bırakılan yere aşağıdakilerden hangisi gelmelidir?**

A) fakirlerin B) yetimlerin  
C) engellilerin D) kölelerin

7. Empati kavramı aşağıdakilerden hangisinin içinde değerlendirilebilir?

A) Diğerkamlık  
B) Merhamet  
C) Adalet  
D) Sabır

8. "Allah'a yemin ederim ki hiçbir kul kendisi için istediğini komşusu için yahut din kardeşi için de istemedikçe tam anlamı ile iman etmiş olmaz."

**Bu hadise göre sakınılması gereken davranış aşağıdakilerden hangisidir?**

A) Hile B) Kin ve nefret  
C) Haset D) Gıpta

9. Aşağıdakilerden hangisi İslam dininin sakınılmasını istediği davranışlardan biri değildir?

A) Kibir  
B) Cimrilik  
C) Kıskançlık  
D) Alçakgönüllülük

10. Peygamberimiz haya hakkında: "O sizin anladığınız utanma hissi değildir! Allah'tan gerektiği biçimde haya etmek demek; baş ve başta bulunan organlarla, karın ve karın için aldığı organları her türlü günah ve haramdan korumaktır. ... daima Allah'ı hatırlamaktır. Kim bu şekilde davranırsa Allah'tan gereği biçimde hayâ etmiş olur."

**Bu hadiste vurgulanan husus aşağıdakilerden hangisidir?**

A) Sabır - amel ilişkisi  
B) Haya - amel ilişkisi  
C) Merhamet - iman ilişkisi  
D) Hoşgörü - iman ilişkisi

11. Hz. Hatice Peygamberimiz'e "Korkma, Allah'a yemin ederim ki, O hiç bir zaman seni utandırmaz. Çünkü sen akraba hakkına riayet edersin, doğru konuşursun; aciz olanların işini yüklenirsin, fakiri doyurur, misafiri ağırlar halka yardım edersin." demiştir.

**Bu metinde Hz. Muhammed'in hangi özelliğine değinilmemiştir?**

A) Cesaret B) Yardımseverlik  
C) Cömertlik D) Doğruluk

12. Mûte savaşında şehit düşen İslam ordusunun komutanı aşağıdakilerden hangisidir?

A) Abdullah b. Ömer  
B) Cafer b. Ebi Talib  
C) Halit b. Velit  
D) Amr b. As

13. Aşağıdakilerden hangisi Peygamberimiz'in âmâ olan Abdullah b. Ümmi Mektum'a verdiği görevlerden biri değildir?

A) Kadılık  
B) İmamlık  
C) Müezzinlik  
D) Kur'an öğreticiliği

14. Aşağıdakilerden hangisi istişarenin yararlarından biri değildir?

A) Problemi ortadan kaldırır.  
B) En doğru kararı almaya katkı sağlar.  
C) Birlik ve beraberlik anlayışını güçlendirir.  
D) Hedefe kısa zamanda ve daha kolay ulaştırır.

## EK SINAV

15. Hz. Peygamber evlilik konusunda aşağıdakilerden hangisini öncelikli olarak tavsiye etmiştir?

- A) Soy                      B) Güzellik  
C) Ahlak                    D) Zenginlik

16. Aşağıdakilerden hangisi sahabe-nin toplumsal konularda yaptığı istişareye bir örnek değildir?

- A) İlk halifenin seçilmesi  
B) Kur'an'ın kitap haline getirilmesi  
C) Hudeybiye anlaşmasının yapılması  
D) Hz. Ömer'in halife seçilmesi

17. Hz. Peygamber aşağıdaki olayların hangisinde Sahabeyle istişare etmemiştir?

- A) Mescid-i Nebi'nin nereye yapılacağı  
B) Bedir Savaşı'nın nerede yapılacağı  
C) Bedir Savaşı'nda ele geçen esirlerin durumu  
D) Uhut Savaşı'nın nasıl yapılacağı

18. Hz. Muhammed'in bulunduğu mecliste aşağıdaki davranışlardan hangisi görülürdü?

- A) İnsanların mahremiyetinin konuşulması  
B) Yapılan hata ve yanlışların yüze vurulması  
C) Soylu ve zenginlere özel muamele yapılması  
D) Yaşlılara saygı ve merhamet gösterilmesi

19. Aşağıdaki ifadelerden hangisi istişarenin önemi ile ilgili değildir?

- A) "Her şeyi anlayan, idrak eden akıl bile, dostların ayrılığı ile yayı kırılmış okçu gibi şaşırır kalır." (Mevlana)  
B) "...Her ilim sahibinin üstünde daha iyi bir bilen vardır." (Yusuf Suresi, 76. ayet)  
C) Akıl akıldan üstündür. (Deyim)  
D) "İlim öğrenmek kadın - erkek her Müslümana farzdır." (Hadisi Şerif)

20. Hz. Muhammed'e "Muhammedü'l Emin" şeklinde hitap edilmeye ne zaman başlanmıştır?

- A) Medine döneminde  
B) İslam'dan önce Mekke'de  
C) Mekke'nin fethinden sonra  
D) İsra ve Miraç hadisesinden sonra

### (533) HZ. MUHAMMED'İN HAY. – 3

1. Aşağıdakilerden hangisi "Cahiliye Dönemi'nin" genel özelliklerinden biri değildir?

- A) Putperestlik inancı yaygındı.  
B) Kadın hakları ihlal edilirdi.  
C) Bireysel düşünceye önem verilirdi.  
D) Okur - yazarlık oranı oldukça düşüktü.

2. Aşağıdakilerden hangisinin Hz. Muhammed'in çocukluk döneminde O'na hizmeti olmamıştır?

- A) Hz. Halime  
B) Hz. Hatice  
C) Ümmü Eymen  
D) Amcasının eşi Fatıma

3. Hz. Muhammed'in babası aşağıdakilerden hangisidir?

- A) Abdulmuttalip  
B) Abdullah  
C) Ebu Talip  
D) Haşim

4. Hz. Muhammed'in "O ölünceye kadar Kureyş bana dokunamazdı." dediği yakını aşağıdakilerden hangisidir?

- A) Amcası Ebu Talip  
B) Hanımı Hz. Hatice  
C) Amcası Hz. Hamza  
D) Dedesi Abdulmuttalip

5. Aşağıdakilerden hangisi Hz. Muhammed'in çocuklarından biri değildir?

- A) Şeyma  
B) Rukiye  
C) Zeynep  
D) Ümmü Gülsüm

6. Aşağıdakilerden hangisi Müslümanların Bizanslı Hristiyanlarla yaptığı ilk savaştır?

- A) Hendek                      B) Huneyn  
C) Hayber                      D) Mute

7. Aşağıdakilerden hangisi Mekke dönemi olaylarındandır?

- A) Taif yolculuğu  
B) Hudeybiye Antlaşması  
C) Uhut Savaşı  
D) Hayber'in Fethi

8. "Ey insanlar! Güç yetireceğiniz işleri yapın. Zira siz ibadetten usanmadıkça Allah da sevap yazmaktan usanmaz. Allah'ın en çok hoşuna giden amel, az da olsa devamlı olanıdır."

Bu hadiste ibadetle ilgili aşağıdakilerin hangisine değinilmemiştir?

- A) Mükafatına  
B) Kapsamına  
C) Sürekli yapılmasına  
D) Dengeli yapılmasına

9. Aşağıdaki savaşların hangisi Yahudilerle yapılmıştır?

- A) Mute                      B) Huneyn  
C) Hayber                      D) Hendek

10. Aşağıdaki ayetlerden hangisinin konusu diğerlerinden farklıdır?

- A) "Yazık bana, keşke falancayı dost edinmeseydim" (Furkan Suresi, 28. ayet.)  
B) "... Keşke Karun'a verilen bizede verilseydi, O çok şanslı!..." (Kasas Suresi, 79. ayet.)  
C) "... O gün inkarcı kişi "Keşke toprak olsaydım!" diyecektir. (Nebe Suresi, 40 . ayet.)  
D) "... Onlar orada Rabbimiz! Bizi çıkar (önce) yaptığımızın yerine iyi işler yapalım diye feryad ederler ..." (Fatır Suresi 37. ayet.)

11. Aşağıdakilerden hangisi hasta ziyaretinde dikkat edilmesi gereken hususlardan biri değildir?

- A) Sabrı tavsiye etmek.  
B) Ziyareti uzun tutmak.  
C) Moral ve umut vermek.  
D) İyileşmesi için dua etmek.

## EK SINAV

12. Hz. Muhammed'in doğum günü olarak kutlanan kandil aşağıdakilerden hangisidir?

- A) Mevlit Kandili
- B) Berat Kandili
- C) Miraç Kandili
- D) Regaip Kandili

13. İslam dini hastalıklardan kurtulma konusunda aşağıdakilerden hangisini tavsiye etmiştir?

- A) İyileşmek için türbelere bez bağlamak.
- B) Şifayı verenin Allah olduğunu bilip, ilaç kullanmamak.
- C) Dayanılması zor hastalıklar da öldürülmeyi istemek.
- D) Hastalıklara sabredip, tedavi yolları aramak.

14. Hz. Muhammed Medinelilere İslam'ı öğretmek için aşağıdakilerden hangisini öğretmen olarak göndermiştir?

- A) Ebu Eyyub el-Ensari
- B) Üsame bin Zeyd
- C) Musab bin Umeyr
- D) Halid bin Velid

15. "Muhammed, ancak bir peygamberdir. Ondan önce de nice peygamberler gelip geçmiştir. Şimdi o, ölür ya da öldürülürse gerisin geriye (eski dininize) mi döneceksiniz? Kim geri dönerse Allah'a hiçbir şekilde zarar veremez. Allah, şükredenleri mükafatlandıracaktır." (Âl-i İmran Suresi, 144. ayet)

**Bu ayette vurgulanan konu aşağıdakilerden hangisidir?**

- A) Peygamberler ölümlü birer insandır.
- B) Sevgide aşırı gitmemek gerekir.
- C) Allah her topluma peygamber göndermiştir.
- D) İnkâr edenler ancak kendine zarar vermiş olur.

16. Mekke'den Medine'ye hicret edenlere - - - -, Medine'de onları karşılayıp yardım edenlere - - - - denir.

**Boş bırakılan yerlere aşağıdaki-lerden hangileri gelmelidir?**

- A) Sahabe - Ensar
- B) Sahabe - Suffa
- C) Muhacir - Suffa
- D) Muhacir - Ensar

17. Aşağıdakilerden hangisi hicret esnasında Peygamberimiz'e yol arkadaşlığı yapmıştır?

- A) Hz. Ali
- B) Hz. Ömer
- C) Hz. Ebu Bekir
- D) Hz. Osman

18. "Din kolaylıktır. Hiç kimse dini zorlaştırmaya kalkmasın, ona mağlup olur. O halde doğru yolu takip edin ve orta yolu elden bırakmayın. Müjdeleyin, imrendirin ve kolaylaştırın. Sabah erken kalkarak ve gece serinliğinden ve kuşluk vakitlerinden yararlanarak ibadetlerinizde devamlı olun."

**Bu hadiste aşağıdakilerden hangisi vurgulanmaktadır?**

- A) İnançta denge
- B) İbadetlerde denge
- C) Duygularla denge
- D) Davranışlarda denge

19. "Dostunu severken ölçülü sev, günün birinde senin düşmanın olabilir. Düşmanına da ölçülü davran çünkü günün birinde senin dostun olabilir."

(Hadisi Şerif)

**Bu hadistedeki ana düşünce aşağıdakilerden hangisidir?**

- A) Duygular zamanla değişebilir.
- B) Düşmanlıkta aşırılığa gidilmemelidir.
- C) Sevgi gönülden olmalıdır.
- D) Sevgi ve nefrette dengeli olunmalıdır.

20. I- Akabe Biatı  
II- Habeşistan'a Hicret  
III- Müslümanlara boykot uygulanması

**Yukarıdaki olayların kronolojik sırası hangi seçenekte doğru verilmiştir?**

- A) I - II - III
- B) II - I - III
- C) III - I - II
- D) II - III - I

(534) HZ. MUHAMMED'İN HAY. - 4

1. Hz. Muhammed'in tebliğ metodu-nda aşağıdakilerden hangisi yer almaz?

- A) Uyarma
- B) Zorlama
- C) Örnek olma
- D) Kolaylaştırma

2. "... Burada bulunan bulunmayan bütün Necranlı Hristiyanların canları, malları, inançları ve dini yaşayışları Allah'ın himayesi ve Hz. Muhammed'in koruması altındadır. ..."

(Necranlı Hristiyanlarla Yapılan Anlaşma Metninden)

**Hz. Muhammed'in Necranlı Hristiyanlarla yaptığı bu anlaşma metninde aşağıdakilerden hangisine yer verilmemiştir?**

- A) İnanç ve ibadet özgürlüğüne
- B) Düşünce ve kanaat özgürlüğüne
- C) Yaşam ve mülkiyet hakkına
- D) Seçme ve seçilme hakkına

3. Özgürlüklerin engellendiği bir toplumda aşağıdakilerden hangisi görülmez?

- A) Toplumsal hayat zorlaşır.
- B) Hoşgörü ortamı kaybolur.
- C) Taassup ortadan kalkar.
- D) İlimi ve kültürel gelişmeler azalır.

4. Huneyn Savaşı dönüşünde ganimet mallarını dağıtan Hz. Muhammed'e birisi "Adil ol!" deyince, Hz. Peygamber "Ben adil olmazsam kim adil olabilir?" diye buyurmuştur. Olaya şahit olan sahabe şahsın ifadesine öfkelenerek onun üzerine yürümek isteyince Peygamberimiz tarafından engellenmiştir.

**Hz. Muhammed'in bu tutumu onun hangi özelliğine örnek gösterilebilir?**

- A) İlimine
- B) Cesaretine
- C) Merhametine
- D) Hoşgörüsüne

## EK SINAV

5. Hz. Muhammed gönderdiği orduya; “*Yalnızca savaşçı olanlarla savaşmalarını, yaşlılara, çocuklara, kendilerini ibadete vermiş ruhbanlara ve hayvanlara dokunmamalarını, özellikle de ağaçları yakmamalarını*” emretmiştir.

**Bu metinde Hz. Muhammed aşağıdakilerden hangisine değinmemiştir?**

- A) Yaşama hakkına
- B) İbadet hürriyetine
- C) Doğayı korumaya
- D) Ekonomik özgürlüğe

6. Aşağıdakilerden hangisi Hz. Muhammed’in iştirake sonucu verdiği bir karar değildir?

- A) Kible olarak Kâbe’nin tayini
- B) Şavaştta hendek kazdırması
- C) Uhut’ta meydan savaşına karar verilmesi
- D) Bedir savaşında ordunun yerinin belirlenmesi

7. Aşağıdakilerden hangisi Hz. Muhammed’in, Müslümanların ekonomik özgürlüklerini elde etmesi amacıyla yaptığı faaliyetlerden biridir?

- A) Suffe’yi yaptırması.
- B) Medine pazarını kurması.
- C) Hılfu’l-Fudul’a katılması.
- D) Medine Sözleşmesi’ni imzalaması.

8. Kenarı-ı Dicle’de bir kurt aşırta bir koyunu, Gelir de adl-i ilahi sorar Ömer’den onu.

M. Akif Ersoy

**Bu dizelerde verilmek istenen asıl mesaj aşağıdakilerden hangisidir?**

- A) Yöneticiler Allah’a karşı sorumludur.
- B) Yöneticiler sadece halka karşı sorumludur.
- C) Yöneticiler Allah’tan başkasına hesap vermez.
- D) Yöneten ile yönetilen hukuk önünde eşittir.

9. Aşağıdakilerden hangisi aile içi anlaşmazlığın önlenmesinde etkilidir?

- A) Engel olma
- B) İhmal etme
- C) Değer verme
- D) Duyarsız davranma

10. Aşağıdakilerden hangisi düşünce ve ifade özgürlüğünün bireysel faydalarındandır?

- A) Toplumsal hayatı kolaylaştırır
- B) Kültür ve sanatın gelişmesine katkıda bulunur.
- C) Kişiyi kendini ifade etme imkanı sunar.
- D) İstisarenin yaygınlaşmasını sağlar.

11. İslam dini fakir ve kimsesizleri korumayı onların ihtiyaçlarını gidermeyi tavsiye etmiştir.

**Aşağıdakilerden hangisi bu tavsiyenin amaçlarından biri olamaz?**

- A) Sosyal adaletin sağlanması.
- B) Servetin belli kimselerde toplanması.
- C) Yardımlaşma ve dayanışmanın artması.
- D) Birlik ve beraberlik duygusunun geliştirilmesi.

12. Peygamberimizin Mescid-i Nebi’nin yanında inşa ettirdiği Suffa aşağıdakilerden hangisiyle ilişkilendirilebilir?

- A) Sağlık
- B) Devlet idaresi
- C) Eğitim - öğretim
- D) Devlet hazinesi

13. İnanç ve ibadet özgürlüğünü benimseyen bir kimseden aşağıdakilerden hangisi beklenir?

- A) İnanıcı sebebiyle başkasını kınaması
- B) Kişilerin ibadetine engel olması
- C) Başkalarını din seçmeye zorlaması
- D) Başkalarının kişisel tercihinin saygı duyması

14. “Bir Müslümanın izinsiz olarak bir başkasının evinin içini gözetlemesi helal değildir. Böyle yapan günah işlemiş olur.”

**Bu hadis aşağıdaki haklardan hangisini korumaya yöneliktir?**

- A) Eğitim hakkı
- B) Özel yaşamın gizliliği hakkı
- C) Ekonomik hak
- D) Mülkiyet hakkı

15. Temel hak ve özgürlüklerle ilgili aşağıdakilerden hangisi yanlıştır?

- A) İslam dini, temel hak ve özgürlükleri korur.
- B) Dinimiz, başkalarının haklarına müdahale etmeyi hoş karşılamaz.
- C) Peygamberimiz farklı inanç gruplarının ibadet özgürlüğüne saygı göstermiştir.
- D) İslam dini özgürlükler konusunda herhangi bir kısıtlama getirmemiştir.

16. Aşağıdakilerden hangisi İslam’ın yönetim anlayışını yanıtsıtmaz?

- A) Görev verirken yaşça büyük olanı tercih etmek
- B) İş ehil olan kimselere vermek
- C) Danışarak iş yapmak
- D) Adaletli davranmak

17. “Eğer inanmayıp yüz çevirirlerse bilsinler ki biz seni onların üzerine bekçi olarak göndermedik. Sana düşen sadece tebliğdir.”  
(Şûra Suresi, 48. ayet)

**Bu ayette Hz. Muhammed’in hangi yönüne işaret edilmektedir?**

- A) Uyarma
- B) Sabır
- C) Cesaret
- D) Merhamet

18. “Size kendi aranızdan öyle bir peygamber geldi ki zahmete uğramanız ona ağır gelir. Kalbi üstünüze titrer...”  
(Tevbe suresi, 128. ayet)

**Bu ayette peygamberimizin hangi özelliği vurgulanmaktadır?**

- A) Adalet
- B) Cesaret
- C) Hoşgörü
- D) Şefkat

19. Hz. Muhammed pazarda malın kusurunu gizleyen satıcıya “Bizi aldatan bizden değildir.” buyurmuştur.

**Bu hadis, aşağıdakilerden hangisi ile ilgilidir?**

- A) Ekonomik hak
- B) İbadet hakkı
- C) Eğitim hakkı
- D) İnanç özgürlüğü

## EK SINAV

20. Aşağıdakilerden hangisi Hz. Muhammed'in tavsiye ettiği ticari ahlak kurallarından değildir?

- A) Kolaylık B) Şeffaflık  
C) Dürüstlük D) Belirsizlik

### (608) DEMOK. ve İNSAN HAK. – 2

1. "Din, mezhep, etnik köken, asalet, servet, makam vb. gözetilmeksizin kişilerin yasalar karşısında eşit muamele görmesidir."

**Tanımı verilen kavram aşağıdakilerden hangisidir?**

- A) Hak B) Eşitlik  
C) Ödev D) Özgürlük

2. T.C. Anayasası'nda yer alan

"Herkes, yaşama, maddi ve manevi varlığını koruma ve geliştirme hakkına sahiptir." ifadesiyle hangi hak anayasal güvenceye kavuşturulmuştur?

- A) Seçme ve seçilme hakkı  
B) Mülkiyet edinme hakkı  
C) Dilekçe hakkı  
D) Yaşama hakkı

3. • Kanun önünde eşitlik  
• İdarenin yargısal denetimi  
• Mahkemelerin bağımsızlığı  
• İdarenin hukuka bağlılığı

**Verilenler aşağıdakilerden öncelikli hangisinin gereğidir?**

- A) Laik Devlet  
B) Hukuk Devleti  
C) Sosyal Devlet  
D) Polis Devleti

4. Aşağıdakilerden hangisi öncelikli sosyal devlet olmanın gereklerindendir?

- A) Demokratik rejim  
B) Seçme ve seçilme hakkı  
C) Mahkemelerin bağımsızlığı  
D) Sosyal denge ve barışı sağlamak

5. Toplum ve devlet faaliyetlerini ilgilendiren belli bir konunun TBMM genel kurulunda görüşülmesi aşağıdakilerden hangisidir?

- A) Soru  
B) Gensoru  
C) Genel görüşme  
D) Meclis araştırması

6. "İnsan haklarına dayalı devlet" anlayışına hangi anayasada yer verilmiştir?

- A) 1921 B) 1924  
C) 1961 D) 1982

7. Aşağıdakilerden hangisi demokrasinin temel ilkelerinden değildir?

- A) Demokrasi temsil esasına dayanır.  
B) Demokrasi bireysel özgürlüğü geliştirir ve korur.  
C) Demokrasi çoğunluğun yönetimine dayanır.  
D) Demokrasi bireyin sosyal gerçekliğinden yalıtılarak oluşturulan bir hükümet biçimidir.

8. Nüfus sayıları çok fazla olan günümüz toplumlarında halkın doğrudan ülke yönetimine katılması mümkün olmadığından, vatandaşların, seçimler yoluyla ve kendisini temsil edecek milletvekilleri aracılığıyla yönetime katılması aşağıdaki kavramlardan hangisi ile açıklanır?

- A) Temsili demokrasi  
B) Hukukun üstünlüğü  
C) Kuvvetler ayrımı  
D) Çoğulculuk

9. • Bir devlette yasaların yasama, yürütme ve yargı organlarını bağlaması  
• Yasaların anayasa ve insan haklarına uygun olması  
• Kişilerin hukuk önünde eşit olmaları

**Verilenler aşağıdakilerden hangisi ile ilgilidir?**

- A) Hukukun üstünlüğü  
B) Çoğunluğun hakimiyeti  
C) Kuvvetler birliği  
D) Çoğulculuk

10. Ülkemizde çok partili ilk seçim hangi yılda yapılmıştır?

- A) 1928 B) 1942  
C) 1946 D) 1955

11. Ülkemizde yasaların Anayasa'ya uygunluğu için yargısal denetim aşağıdaki anayasalardan hangisinde ilk kez getirilmiştir?

- A) 1921 B) 1924  
C) 1961 D) 1982

12. Osmanlı devletinde padişahın yetkilerini sınırlayan, padişahı belli yönde davranmaya zorlayan ilk belge aşağıdakilerden hangisidir?

- A) Nizam-ı Cedit  
B) Sened-i İttifak  
C) Islahat Fermanı  
D) Tanzimat Fermanı

13. Birleşmiş Milletler Örgütü hangi yıl kurulmuştur?

- A) 1942 B) 1945  
C) 1955 D) 1960

14. Aşağıdakilerden hangisi Birleşmiş Milletler Örgütü bünyesinde yer almaz?

- A) Avrupa Güvenlik ve İşbirliği Teşkilatı  
B) İnsan Hakları Komitesi  
C) Kadınlara Karşı Ayrımcılığın Kaldırılması Komitesi  
D) İşkenceye Karşı Komite

15. Aşağıdakilerden hangisi uluslararası sivil toplum kuruluşlarından değildir?

- A) Türk Demokrasi Vakfı  
B) Uluslararası Af Örgütü  
C) Uluslararası PEN Kulübü  
D) Uluslararası Hukuk Komisyonu



(611) KARŞ. DİN. TAR. – 1

16. Aşağıdakilerden hangisi insan haklarının korunması konusunda demokrasilerde karşılaşılan sorunlardan değildir?

- A) Savaşlar
- B) Uluslararası terör
- C) Hızlı toplumsal değişme
- D) Bölgeler arası kalkınmışlık farklarının giderilmesi

17. Bir ülkede belli bir dönemde geçerli olan kuralların zorla ve köklü bir değişikliğe tabi tutularak yerine yenilerinin getirilmesine ne ad verilir?

- A) Reform
- B) Aydınlanma
- C) İnkılap
- D) Çağdaşlık

18. Aşağıdakilerden hangisi siyasal alanda yapılmış Atatürk inkılaplarından biridir?

- A) Soyadı Kanunu'nun kabul edilmesi
- B) Saltanatın kaldırılması
- C) Medeni Kanun'un kabulü
- D) Harf inkılabı

19. "Halkçılık" ilkesi aşağıdakilerden öncelikle hangisini ifade eder?

- A) Toplumda hiçbir kişiye ya da gruba ayrıcalık tanınmaması
- B) Çağdaş medeniyet seviyesinin yakalanması
- C) Egemenlik hakkının tek bir kişiye ait olması
- D) Din ve devlet işlerinin birbirinden ayrılması

20. Çağın ihtiyaçlarına cevap verebilen sürekli gelişmeye ve değişmeye elverişli bir toplum yapısının oluşturulabilmesini öngören Atatürk ilkesi aşağıdakilerden hangisidir?

- A) Halkçılık
- B) Milliyetçilik
- C) İnkılapçılık
- D) Cumhuriyetçilik

1. Dinler tarihinin konusu aşağıdakilerden hangisinde tam olarak verilmiştir?

- A) İslam dini
- B) İlahi dinler
- C) Geçmişte yaşamış dinler
- D) Geçmişte ve günümüzde var olan tüm dinler

2. Karşılaştırmalı Dinler Tarihi hakkında aşağıdakilerden hangisi yanlış bir bilgidir?

- A) Temel İslam Bilimleri ile ilişkilidir.
- B) Tüm dinleri inceleme konusu yapar.
- C) Dinleri doğruluk ve yanlışlık bakımından değerlendirir.
- D) Dinlerin tarihi gelişimini inceleyen, tarihi karşılaştırmalı metoda başvurur.

3. Dinler tarihi ile ilgili aşağıdakilerden hangisi yanlıştır?

- A) İslam dininin savunmasını yapar.
- B) Kur'an-ı Kerim'in bazı ayetlerini kendisine konu oluşturur.
- C) Bu alanda ilk çalışmalar İslam dünyasında başlamıştır.
- D) Ülkemizde ders olarak Osmanlı'nın son dönemlerinde okutulmaya başlanmıştır.

4. Yahudilikte "Arz-ı Mevud"un anlamı aşağıdakilerden hangisidir?

- A) Seçilmiş özel millet
- B) Kudüs'te bulunan Süleyman Mabedi
- C) Olağanüstü güçlere sahip kuratıcı
- D) Yahudilere vaat edilmiş kutsal topraklar

5. Din ve mitoloji ile ilgili verilen bilgilerden hangisi yanlıştır?

- A) Dinin kaynağı Tanrı, mitolojinin ki ise insandır.
- B) Dinin hukuki bağlayıcılığı vardır. Mitolojinin yoktur.
- C) Dinin Tanrısı somut, mitolojinin ki ise soyuttur.
- D) Mitoloji inanç ve tapınma noktasına geldiğinde dine zarar verir.

6. Aşağıdakilerden hangisi Hristiyan inançlarından olan "Vaftiz"i ifade eder?

- A) Evlenen çiftler için kilisede yapılan törendir.
- B) Şükretmek anlamına gelen bir ayinin adıdır.
- C) Hristiyanlığa giren kişinin suyla günahattan arındırılmasıdır.
- D) Hastalıkta ve özellikle ölüm anında kişiyi rahatlatmak için yapılan bir ayindir.

7. Yahudi inancına göre "İlk Yahudi" aşağıdakilerden hangisidir?

- A) İshak
- B) İbrahim
- C) Yakup
- D) İsmail

8. Zerdüştlük dini aşağıdaki ülkelerin hangisinde doğmuştur?

- A) İran
- B) Hindistan
- C) Filistin
- D) Arabistan

9. Aşağıdakilerden hangisi Reformist Yahudiler'in görüşlerindendir?

- A) Yaşanılan her yer kutsaldır.
- B) Yahudiler her ülkede kendi kültürünü yaşamalıdır.
- C) Sinagoglarda kadın ve erkek beraber oturmamalıdır.
- D) Kadınlar haham olarak görev alamazlar.

10. "İsrail" aşağıdaki peygamberlerden hangisinin lakabıdır?

- A) Hz. Musa
- B) Hz. Yahya
- C) Hz. Davud
- D) Hz. Yakup

11. Aşağıdakilerden hangisi Hristiyan mezheplerinden biri değildir?

- A) Katolik
- B) Ortodoks
- C) Reformist
- D) Protestan

12. Yahudi isyanları nedeniyle 70 yılında Kudüs'ü işgal edip, Yahudilerin inşa ettikleri mabedi yıkan devlet aşağıdakilerden hangisidir?

- A) İran
- B) Mısır
- C) Babil
- D) Roma

## EK SINAV

13. Hristiyanların, ekmek ve şarapla yaptıkları ayin aşağıdakilerden hangisidir?

- A) Vaftiz
- B) Evharistiya
- C) Son Yağlama
- D) Günah İtirafı

14. Protestanlık, hangi mezhebin dini uygulamalarına tepki olarak ortaya çıkmıştır?

- A) Metodist
- B) Baptist
- C) Ortodoks
- D) Katolik

15. İslam dinine göre aşağıdakilerden hangisi yanlıştır?

- A) Peygamberler insanüstü varlıklardır.
- B) Allah'ın birliği dinin temelidir.
- C) Allah ile kul arasında herhangi bir aracı kabul edilmez.
- D) Suçun bireyselliği esastır.

16. Aşağıdakilerden hangisi yaşayan kabile dinlerinin genel özelliklerindendir?

- A) Yüce tanrı inancına sahiptirler.
- B) Evrensel özelliğe sahiptirler.
- C) Kutsal kitapları vardır.
- D) Dinlerinin kurucusu vardır.

17. • Kurucusu Siddharta Gautama'dır.  
• Hinduizmin, Brahman şekilciliği ve kast taassubuna karşı bir harekettir.  
• İzdırabın kaynağı olan arzu ve ihtiraslardan kurtulmak "Sekiz dilimli yol'u" izlemekle mümkündür.

Hakkında bilgi verilen din hangisidir?

- A) Sihizm
- B) Budizm
- C) Caynizm
- D) Taoizm

18. Türkiye Yahudilerinin yasal temsilcisi kimdir?

- A) Papa
- B) Patrik
- C) Haham
- D) Hahambaşı

19. • Getirdiği din tek tanrı inancına dayanır.  
• Ahura Mazdah'a ibadet, Feriştelerle hürmet, şeytanlara lanet O'nun öğretilerindendir.  
• Gathalar diye adlandırılan kutsal metinler kendisine atfedilir.

Hakkında bilgi verilen din kurucusu kimdir?

- A) Guru Nanak
- B) Lao - Tzu
- C) Zerdüş
- D) Konfüçyüs

20. Peygamberimiz, ilk vahyi aldıktan sonra başından geçenleri Hz. Hatice'ye anlatınca, o peygamberimizi kimin yanına götürmüştür?

- A) Varaka b. Nevfel
- B) Hz. Ebu Bekir
- C) Ebu Talip
- D) Bahira

### (612) KARŞ. DİN. TAR. – 2

1. Aşağıdaki dinlerin hangisi monoteist (tek tanrıcı) bir dindir?

- A) Sihizm
- B) Hinduizm
- C) Budizm
- D) Şintoizm

2. Aşağıdakilerden hangisi teslisin unsurlarından biri değildir?

- A) Kutsal ruh
- B) Oğul tanrı
- C) Baba tanrı
- D) Hz. Meryem

3. • M.Ö. 551 - 478 yılları arasında Çin'de yaşamıştır.  
• Toplumsal barışı tesis etmenin eğitimden geçtiğine inanmıştır.  
• Amacı erdemli insanlardan oluşan bir toplum oluşturmaktır.

Hakkında bilgi verilen din kurucusu aşağıdakilerden hangisidir?

- A) Buda
- B) Guru Nanak
- C) Zerdüş
- D) Konfüçyüs

4. • Çocukluğu ve gençliğinin bir dönemi Firavun'un sarayında geçti.  
• Sina Dağı'nda Rabb'inden vahiy aldı.

Hakkında bilgi verilen peygamber aşağıdakilerden hangisidir?

- A) Hz. İsa
- B) Hz. Musa
- C) Hz. Davut
- D) Hz. Süleyman

5. Müslümanlar arasında mehdi anlayışı hangi dönemde ortaya çıkmıştır?

- A) Dört Halife
- B) Abbasiler
- C) Emeviler
- D) Memlükler

6. Konfüçyüs hakkında aşağıda verilen bilgilerden hangisi yanlıştır?

- A) Metafizik konularla fazla ilgilenmiş Hint filozofudur.
- B) Toplumda barışı tesis etmenin eğitimden geçtiğine inanırdı.
- C) Öğrencilerine geleneksel hikmet dolu bilgiler öğretti.
- D) İdeali erdemli insanlardan oluşan bir toplum oluşturmaktır.

7. Aşağıdaki dinlerin hangisinde tanrı heykellerinin önünde ibadet yapılmaz?

- A) Yahudilik
- B) Hinduizm
- C) Budizm
- D) Caynizm

8. Bir anlamda Tanah'ın tefsiri olan, Yahudi hahamlarının nesilden nesile aktardıkları sözlü rivayetlerin tümüne ne denir?

- A) Mezmurlar (Zebur)
- B) Eski Ahit
- C) Yeni Ahit
- D) Talmut

9. Dinlerin oruç ibadeti ile ilgili aşağıda verilen bilgilerden hangisi yanlıştır?

- A) Protestan mezhebine bağlı olanlar oruç tutmazlar.
- B) Müslümanın, vakti gelince orucunu açmasına "imsak" denir.
- C) Hristiyanlık'ta oruç bir öğün yemek yeme şeklindedir.
- D) Yahudiler günahlarına kefaretle ve kötü günlerinin hatırlanması amacıyla oruç tutarlar.

10. Sihizm'in kurucusu aşağıdaki-lerden hangisidir?

- A) Makavira
- B) Guru Nanak
- C) Lao - Tuzu
- D) Ahura Mazdah

## EK SINAV

11. Müslümanların Safa ile Merve tepeleri arasında yedi defa gidip gelerek yerine getirdikleri hac görevine ne denir?

- A) Sa'y                      B) Tavaf  
C) İhram                    D) Vakfe

12. Aşağıdakilerden hangisi Yahova Şahitleri'nin inançlarından değildir?

- A) İnsanlık sona yaklaşmıştır.  
B) Dinler arası diyalog gereksizdir.  
C) Misyonerlik faaliyetine gerek yoktur.  
D) Şeytan dünyanın görünmez yöneticisidir.

13. Aşağıdaki bayramlardan hangisi Hristiyanlara aittir?

- A) Fısıh                      B) Sukkot  
C) Matcuri                  D) Paskalya

14. Kur'an-ı Kerim'i anlama ve yorumlamada en fazla katkısı olan bilim aşağıdakilerden hangisidir?

- A) Fıkıh                      B) Tefsir  
C) Tecvid                   D) Hadis

15. "Ey iman edenler! Allah için hakkı ayakta tutun, adaletle şahitlik edenler olun..."

(İslamiyet)

"Komşuna karşı yalan yere şahitlik etmeyeceksin."

(Yahudilik)

"Yalan yere tanıklık etmeyeceksin"

(Hristiyanlık)

"Her zaman doğru konuşmak ve doğru hareket etmek insanı ızdırtıktan kurtarır."

(Budizm)

**Bu bilgiler birlikte değerlendirildiğinde aşağıdakilerden hangisi söylenebilir?**

- A) Dinler birbirlerinin tamamlayıcısıdır.  
B) Dinler birbirinden etkilenmiştir.  
C) Ahlak kuralları evrenseldir.  
D) Bütün dinler aynı kaynaktan beslenir.

16. Aşağıdaki dinlerin hangisinde İslam'ın ahiret inancına benzer bir ahiret inancı vardır?

- A) Caynizm  
B) Şintoizm  
C) Zerdüştlük  
D) Konfüçyüsçülük

17. Aşağıdakilerden hangisi Hristiyan gruplar arasında yer almaz?

- A) Baptisler  
B) Adventisler  
C) Mesih İnancılıları  
D) Yahova Şahitleri

18. Yoga ve meditasyon aşağıdaki dinlerden hangisiyle daha çok ilişkilendirilebilir?

- A) Taoizm                      B) Hinduizm  
C) Zerdüştlük                  D) Konfüçyanizm

19. Türkiye'de yaşayan en kalabalık Hristiyan grup aşağıdakilerden hangisidir?

- A) Rumlar  
B) Ermeniler  
C) Süryaniler  
D) Arap Ortodokslar

20. I. Sihizm  
II. Budizm  
III. Yahudilik  
IV. Konfüçyanizm

**Yukarıdaki dinlerden hangileri monoteisttir?**

- A) I ve II                      B) II, III ve IV  
C) I, II ve III                  D) I ve III

### (613) SEÇ. DİL VE ANLA. – 3

1. Aşağıdakilerden hangisi iletişim öğelerinden biri değildir?

- A) Kaynak                      B) İleti  
C) Bağlam                      D) Dilin işlevi

2. Aşağıdakilerden hangisi dilin işlevlerinden biri değildir?

- A) Göndergesel işlev  
B) İletişimi sağlayıcı işlev  
C) Kanal kontrol işlevi  
D) Sanatsal işlev

3. Aşağıdakilerden hangisi sözsüz iletişimde kullanılmaz?

- A) Yüz hareketleri  
B) Beden dili  
C) Yüksek sesle konuşma  
D) Araç kullanımı

4. Derste konuyu anlattıktan sonra, öğretmenin öğrencilere "Sevgili öğrenciler konu anlaşıldı mı, anlaşılmayan bir nokta var mı, sorusu olan var mı?" **biçi-minde sorması dilin aşağıdaki işlevlerinden hangisiyle ifade edilebilir?**

- A) Heyecana bağlı işlev  
B) Göndergesel işlev  
C) Kanal kontrol işlevi  
D) Alıcıyı harekete geçirme işlevi

5. Aşağıdakilerden hangisi teknolojinin iletişime sağladığı yararlarından biri değildir?

- A) İnsanların uzun süre bilgisayar başında zaman geçirmesi  
B) Bilgilerin DVD ortamında saklanabilmesi  
C) Bilgilerin DVD ortamında taşınabilmesi  
D) Slayt kullanımı ile görsellik sağlanması

6. Saydam bir yüzey üzerine alınmış, projeksiyonda kullanılmaya özgü pozitif görüntülere - - - - denir.

**Bu cümlede boş bırakılan yere aşağıdakilerden hangisi getirilmelidir?**

- A) bilgisayar                  B) DVD  
C) slayt                          D) karakter

7. Aşağıdakilerden hangisi sunum yapacak kişinin sunum sırasında yapması gerekenlerden biridir?

- A) Sunumda jest ve mimiklerle konuşmasını bütünleştirmek  
B) Güncel bir konu belirlemek  
C) Dinleyicilerin soru sormasına olanak tanımak  
D) Sunumu dinleyicilere duyurmak

## EK SINAV

8. Aşağıdakilerden hangisi sözlü anlatım türlerinden biridir?

- A) Masal      B) Forum  
C) Fıkra      D) Fabl

9. Aşağıdakilerden hangisi tartışmanın sağlıklı bir şekilde yürütülmesi için yapılması gerekenlerden biri değildir?

- A) Konuyu önceden belirlemek  
B) Tartışmacının düşüncelerinin yanlışlığını sık sık vurgulamak  
C) Tartışmayı yönetecek başkanı seçmek  
D) Tartışmada dinleme ortamını sağlamak

10. Aşağıdakilerden hangisi daha çok okullarda bir öğrenme yöntemi olarak kullanılan ve öğrenci gruplarının düşüncelerini savundukları tartışma yöntemine verilen addır?

- A) Panel      B) Nutuk  
C) Forum      D) Münazara

11. Kısmen de olsa kendimi tümüyle sorumlu hissediyorum bu olayda.

**Bu cümledeki anlatım bozukluğunun giderilmesi için aşağıdakilerden hangisi yapılmalıdır?**

- A) "bu olayda" sözü, cümlelerin başına getirilmeli.  
B) "sorumlu hissediyorum" sözü yerine "suçluyorum" sözü getirilmeli.  
C) "kendimi" sözcüğü cümleden atılmalı.  
D) "kısmen de olsa" veya "tümüyle" sözlerinden biri atılmalı.

12. (I) O, bu tür konularda tartıştığımızda aynı şeyi yapıyor. (II) Onun hiçbir düşünceye, hiçbir fikre saygısı yok. (III) Bu nedenle de artık onunla tartışmaya girmeyeceğim. (IV) Kendisi de yanlış yaptığının mutlaka farkına varmalı.

**Bu parçada numaralanmış cümlelerin hangisinde gereksiz sözcük kullanıldığı için duruluk bozulmuştur?**

- A) I.      B) II.      C) III.      D) IV.

13. (I) Pencereler açık, perdeler kırırdamıyor; bir de bülbüller ötüyor. (II) Çiçeklenen ağaçlara, yeşeren toprağa sevinerek bakıyorum. (III) Sonunda hırçın kışı geride bırakıyoruz. (IV) Güneş, insanlara yaşama sevinci veriyor.

**Bu parçada numaralanmış cümlelerin hangisinde alışılmamış bağdaştırma vardır?**

- A) I.      B) II.      C) III.      D) IV.

14. "Spor" konusu, aşağıdakilerin hangisinde diğerlerinden daha çok sınırlandırılmıştır?

- A) Sporda başarı  
B) Türk futbolunda başarı  
C) Avrupa futbolunda başarı  
D) Futbolda başarı

15. Aşağıdakilerden hangisi tartışmanın sağlıklı bir şekilde yapılmasını engeller?

- A) Tartışmacılardan biri yanlış bir şey söylediğinde hemen sözü kesilerek uyarılmalı.  
B) Konuşmalar kısa, öz ve anlaşılır bir dille yapılmalı.  
C) Ortaya sürülen düşünceler bilimsel verilere, kanıtlara dayanmalıdır.  
D) Amaç düşünceyi düşünceyle çürütmek olduğu için duygusalığa yer verilmemelidir.

16. Aşağıdakilerden hangisi panelin özelliklerinden biri değildir?

- A) Dinleyiciler tartışmaya aktif olarak katılır.  
B) Amaç, bir karara varmaktan çok sorunu çeşitli yönleriyle ele almaktır.  
C) Konuşmacı sayısı üç ile altı arasında değişir.  
D) Bir başkan vardır, konuşmacılar başkanın verdiği sıraya ve süreye göre konuşur.

17. Karşı Binboğa Dağı som yalıma kesti. Koca dağ güneş gibi oldu. Yıldızlar savruluyor. Binboğa Dağı tepeden tırnağa kaynaşiyor, ta göğün yedinci katına kadar yıldız yıldız kaynaşıp savruluyor. Binboğa Dağı yalım yalım kalktı, yürüdü Çukurova'nın üstüne. Dedesi karanlık bir duvar gibi geçti dikildi koca dağın önüne. Bekledi. Çakmak çakmak gözlelerinden yıldırımlar saçıyordu.

**Bu parçanın anlatımıyla ilgili olarak aşağıdakilerden hangisi söylenemez?**

- A) Betimleyici ve öyküleyici anlatıma başvurulmuştur.  
B) Anlatım öznelidir.  
C) Somut bir anlatım vardır.  
D) Anlatım, gözlemci anlatıcının bakış açısıyla yapılmıştır.

18. Aşağıdaki cümlelerin hangisinde kahraman anlatıcı bakış açısı kullanılmıştır?

- A) Yusuf ile kardeşi lahmacunun son lokmalarını merdivenleri çıkarken yediler.  
B) Annem usulca sokuldu yanıma, elini uzattı, yüzümü okşadı.  
C) Koşar adım sokaklardan geçti, bir duvara tırmanıp geniş bir avluya atladı.  
D) Tamer koridora girdi, kapının yanındaki yediveren gülünü hiç fark etmemişti.

19. Fakültedeki odamdan bahçeye baktığımda karşıki büyük beton binaların önünde, âdeta onlarla boy ölçüşen fakat onlardan habersiz, göklere yükselen ağaçları görürüm. Donmuş, sert, katı bir geometrik şekilden ibaret olan bu binayı bana güzel gösteren bu ağaçlardır. Onların her mevsim hatta her gün, sabah akşam değişen şekilleriyle bu beton geometri arasında bir zıtlık vardır. Beton geometri daima aynı katı gerçeği tekrarladığı hâlde bu özgür ağaçlar her gün ve her mevsim değişen şarkılarını söylerler.

**Bu parçanın konusu aşağıdakilerden hangisidir?**

- A) Betonlaşmanın hızı  
B) Ağacın güzelliği  
C) Mevsimlerin farklılıkları  
D) Doğayı korumak

20. Yazılı edebiyat, kültür dilinin en büyük hazinesini oluşturur. Günlük dilden ve sözlü edebiyattan yüzlerce defa zengindir. Bunun sebebi, yazının binlerce yıllık sözleri saklaması ve biriktirmesidir. Bu tür eserler arasında eski çağlara ait inanç ve ilim kitapları da vardır. Bunlarda yazılı olanlar bugüne uymasalar bile kültür tarihi bakımından değer taşır. Zira onlar bize eski çağda yaşamış insanları tanıtır.

**Bu parçadan aşağıdaki yargılardan hangisine ulaşamaz?**

- A) Edebiyat, kültürün nesilden nesile aktarılmasını sağlar.
- B) Yazılı edebiyat, dilin zenginliğini ortaya koyar.
- C) Eserler yazıldıkları çağın özelliklerini yansıtır.
- D) Kültür dili, milletlerin en önemli hazinesidir.

**(614) SEÇ. DİL VE ANLA. – 4**

1. İnsan, yalnız sözle insandır ve  
I II  
sözle bağlanırsız birbirimize.  
III IV

**Yukarıda altı çizili sözcüklerden hangisi isim türündedir?**

- A) I. B) II.
- C) III. D) IV.

2. Aşağıdaki cümlelerin hangisinde çoğul eki almış bir isim vardır?

- A) Bizler çok uzun yoldan geldik buraya.
- B) Kitabımın bu bölümünü dün akşam yırtmışlar.
- C) Elindeki çay tepsisini masaya bıraktı.
- D) Gece yarısına doğru misafirler yatmaya gitti.

3. I. Zambaklar en ıssız yerde açar  
II. Ve vardır her vahşi çiçekte gurur  
III. Bir mumun ardında bekleyen rüzgâr  
IV. Işıksız ruhumu sallar da durur

**Yukarıdaki numaralandırılmış dizelerin hangisinde isim tamlaması kullanılmıştır?**

- A) I. B) II.
- C) III. D) IV.

4. Kralın biri bir gün sarayın çevresinde geziye çıkar. Bir ara iki genç kızın kendisine baktığını fark eder. Kızlardan biri, kral ne kadar da yaşlı ve buruşuk yüzlü, der. Bu sözleri duyan kral, genç kızlara dönerek şöyle der: "Evet, ama kulaklarım hala iyi duyuyor."

**Bu parçadaki öykünün öğelerinin hangisinde belirsizlik vardır?**

- A) Olay B) Yer
- C) Zaman D) Kişi

5. Vapurdan çıkarken onu fark etmiştim. Omzundaki dikkatimi çekmişti. Her zaman yanırlım; O omzundaki şeyi bir müzik aletine benzetirdim. Yine öyle olmuştu. Yaz yeni başlamıştı, o gün sıcağı. Vapur bekliyorduk. Gelen vapurdan iskeleye öyle insanlar indi ki her gün İstanbul kazan ben kepçe dolaştığım hâlde onlara rastlayamamıştım.

**Bu parçanın anlatımında aşağıdaki duyu organlarından hangisine özgü ayrıntılar ağır basmaktadır?**

- A) İşitme B) Görme
- C) Koklama D) Dokunma

6. Aşağıdaki cümlelerin hangisinde betimleyici anlatım özellikleri ağır basmaktadır?

- A) Sık sık görüştüğüm Hamdi'yi göremeyince ona telefon ettim.
- B) Ertesi gün öğleye doğru onun şirketine gittim.
- C) Artık hava adam akıllı karar-mış, sokak lambaları yanıyordu.
- D) Görevli beni küçük bir odaya alıp orada biraz bekletti.

7. Yunus Reis, elli yaşlarındaydı. Yüzünün sağ tarafında ve sol kulağında şarapnel izi vardı. Orta boylu, güçlü kuvvetli, sert bakışlı biriydi. Az konuşurdu. İşlerin hemen bitmesini isteyen bir yönü vardı. Tayfaların bir işi yapmadığını görünce bir şey söylemez, kalkar kendi yapardı. Bu da onlara çok dokunurdu.

**Bu parçanın anlatımında aşağıdakilerden hangisine yer verilmiştir?**

- A) Betimleyici ifadeler
- B) Fiziksel portre anlatımına
- C) Ruhsal özelliklerin anlatımına
- D) İşitme duyusuna özgü ayrıntılara

8. Aşağıdaki cümlelerin hangisinde altı çizili sözcük niteleme sıfatı görevindedir?

- A) Eski hikâyelerdeki uçan halılarla gezmek istedi.
- B) Söğüdün dalları rüzgârın etkisiyle hışırdadı.
- C) Sözü derin tarafından öncelikle dişi kırlangıç açtı.
- D) Bütün kuşları sıraya dizseler biz sonuncu gelmeliyiz.

9. Aşağıdaki cümlelerin hangisinde "bir" sözcüğü belgisiz sıfat olarak kullanılmıştır?

- A) Sizinle elbet bir gün buluşacağız.
- B) Mağazamızda yalnız bir bilgisayar kaldı.
- C) Bir ekmek Sultan, bir ekmek de Necmi yedi.
- D) Bizden bir gün sonra eşyalar geldi.

10. Ağaçlar sonbahara hazırlanıyor  
I

Bu şehir o eski İstanbul mudur  
II

Karanlıkta bulutlar parçalanıyor  
Sokak lambaları birden yanıyor  
III

Kaldırımlarda yağmur kokusu  
IV

**Yukarıdaki dizelerde numaranladırılmış sözcüklerden hangisi sıfat görevinde kullanılmıştır?**

- A) I. B) II.
- C) III. D) IV.

11. "Ne ... ne" bağlacı aşağıdaki cümlelerden hangisine "ortasında, arasında" anlamı katmıştır?

- A) Bu dükkâna ne bir daha gelirim ne de önünden geçerim.
- B) Bu kıraç topraklarda ne bir ağaç ne bir ot yetişir.
- C) Ne açım ne tokum, yesem mi yemesem mi bilemedim.
- D) Bu sıralar ne dışarı çıkıyor ne bizimle konuşuyor.

12. Açık olmak, aydınlık söylemek derinliğe, güçlülüğe, yaratıcılığa engel değildir. Çetin, bulanık söylemek de her zaman derin düşünmek anlamına gelmez. Bunun en ilginç örneklerini şiirde görürüz. Açıklığın en tatlı örneklerini veren Yunus Emre'nin derinliğini birçok düşünürde bulamazsınız. Firdavsi ve Hayyam da açık söylemiş. İşte bu yüzden eskimek bilmiyorlar bir türlü.

**Bu parçanın anlatımıyla ilgili aşağıdakilerden hangisi söylenmez?**

- A) Kanıtlayıcı anlatıma başvurulmuştur.  
B) Tanımlamalara yer verilmiştir.  
C) Dil göndergesel işlevde kullanılmıştır.  
D) Karşılaştırma ve örneklemeden yararlanılmıştır

13. "İle" sözcüğü aşağıdaki cümlelerin hangisinde "ve" bağlacının yerine kullanılmıştır?

- A) Kıskançlıkla şüphe insan ilişkilerine zarar verir.  
B) Ben duygularımı her zaman babamla paylaşıyorum.  
C) Torunlarıyla mutlu dakikalar geçirmişti.  
D) Boş sayfanın üzerine kalemle birkaç şekil çizdi.

14. (I) Şu bu derken birdenbire kendimi karanlık, koca bir şatoda buluverdim. (II) Şatoya nasıl girdiğimi hiç fark etmedim. (III) Ah, şuradan bir çıkabilsem! (IV) Rüyaymış meğer, salondaki koltukta uyuyakalmışım.

**Bu parçada numaralanmış cümlelerdeki fiillerin yapısı aşağıdakilerden hangisinde yanlış verilmiştir?**

- A) I. cümledeki yaklaşma kurallı birleşik fiildir.  
B) II. cümledeki yardımcı eylemle oluşan birleşik fiildir.  
C) III. cümledeki yeterlik kurallı birleşik fiildir.  
D) IV. cümledeki sürerlik kurallı birleşik fiildir.

15. Aşağıdakilerden hangisinin yüklemi dönüştürücü bir fiildir?

- A) Bütün eşyalar yerleştirildikten sonra perdeler takıldı.  
B) Çocuk, yaşlı adama yol vermek için biraz kenara çekildi.  
C) Müdür, rahatsızlanınca acilen hastaneye kaldırıldı.  
D) Kaybolan ihale dosyası kaloriferin arkasında bulundu.

16. Aşağıdakilerin hangisinde fiil haber kipiyle çekimlenmemiştir?

- A) Evin dış cephesi yazın yalıtım malzemesiyle kaplanacak.  
B) Arılar kırlardaki rengârenk çiçeklerden bal özü topluyor.  
C) Zabiteler pazardaki esnafın terazilerini kontrol etti.  
D) Parasını böyle gereksiz işlere, eşyalara harcamamalı.

17. Aşağıdaki cümlelerin hangisinde kişi zamiri kullanılmıştır?

- A) Bu devirde herkes, çıkarını düşünüyor ne yazık ki!  
B) Onu kasaya kilitte, içindeki bilgiler çok önemli.  
C) Gittiğim yerden sana güzel bir hediye getireceğim.  
D) Dün teslim edilen kargonun kimden geldiğini bilmiyormuş.

18. Ailesi, parayı hiç önemsemezdi.

**Bu cümlede aşağıdakilerden hangisi yoktur?**

- A) Cins isim  
B) Topluluk ismi  
C) Tekil isim  
D) Soyut isim

19. Bir padişahın üç kızı varmış. Devler bu kızları almak için her yıl buraya hücum eder fakat bir türlü alamazlarmış.

**Bu parçada aşağıdakilerden hangisi yoktur?**

- A) Bağlaç  
B) Ünlem  
C) Edat  
D) Zarf

20. (I) Hasta hemen doktora derdini anlattı. (II) Koltuğunun altındaki röntgenleri çıkardı. (III) Bu sırada doktor muslukta ellerini yıkadı. (IV) Sonra ellerini özenle kuruladı.

**Bu parçada numaralanmış cümlelerin hangisinde yapıca farklı bir fiil vardır?**

- A) I. B) II. C) III. D) IV.

1. Aşağıdakilerden hangisi geleneksel Türk tiyatrosunun türlerinden biri değildir?

- A) Orta oyunu  
B) Mesnevi  
C) Karagöz  
D) Köy tiyatrosu

2. Aşağıdakilerden hangisi gazete çevresinde gelişen öğretici metinlere örnek olabilir?

- A) Coğrafya ders kitabı  
B) Ahmet Haşim'in denemeleri  
C) Türkçe Sözlük  
D) Türk Klasikleri Ansiklopedisi

3. Aşağıdakilerden hangisi öğretici metinlerin özelliklerinden biri değildir?

- A) Metinler okuyucuda aynı izleri bırakır.  
B) Yazarın nasıl söylediğinden çok ne söylediği önemlidir.  
C) Gerçeği olduğu gibi yansıtmak amaçlanır.  
D) Anlatım mecaz anlamalı sözcüklerle zenginleştirilir.

4. Aşağıdakilerden hangisi gazete çevresinde gelişen metinlerden biridir?

- A) Anı  
B) Biyografi  
C) Makale  
D) Gezi Yazısı

5. Yaşanmış ya da yaşanması olanaklı olayları yer, zaman ve kişilere bağlı olarak anlatan uzun yazılara - - - - denir.

**Bu cümlede boş bırakılan yere aşağıdakilerden hangisi getirilmelidir?**

- A) hikâye  
B) tiyatro  
C) roman  
D) destan

6. Aşağıdakilerden hangisi öğretici metinlerden biri değildir?

- A) Hikâye  
B) Anı  
C) Felsefi Metinler  
D) Deneme

## EK SINAV

7. - - - - divan edebiyatında olay çevresinde gelişen edebi metinlerin en önemlisidir. Uzun anlatılar bu biçimde yazılmıştır. Divan edebiyatının romanı olarak adlandırılmıştır. Türk edebiyatına İran ve Arap edebiyatında geçmiştir.

**Bu parçada boş bırakılan yere aşağıdakilerden hangisi getirilmelidir?**

- A) Masal  
B) Mesnevi  
C) Destan  
D) Halk Hikayesi

8. Aşağıdaki metin türlerinden hangisi anlatım özellikleri bakımında gerçeğe en yakındır?

- A) Roman  
B) Destan  
C) Anı  
D) Masal

9. Aşağıdakilerden hangisi coşku ve heyecanı dile getiren metinlere örnektir?

- A) Şiir  
B) Deneme  
C) Komedi  
D) Günlük

10. Annem, babam, ağabeyim, babaannem, amcalarım, halalarım, yengeler beş katlı bir apartmanın çeşitli katlarında yaşıyorduk. Ben doğmadan bir yıl önceye kadar bir büyük Osmanlı ailesi gibi hep birlikte ayrı oda ve kısımlarında yaşadıkları büyük taş konak terk edilmiş. Özel bir ilkokula kiraya verilmiş. 1951’de bitişikteki arsaya şimdi bizim dördüncü katında oturduğumuz “modern” apartman yapılmış. Sokak kapısının üzerine de o zamanki modaya uygun olarak gururla “Pamuk Apt.” diye yazılmıştı.

**Bu parça aşağıdaki türlerin hangisinden alınmış olabilir?**

- A) Anı  
B) Günlük  
C) Sohbet  
D) Gezi Yazısı

11. Helsinki’yi dolaşıyoruz. Burası bir şehir değil, bir çiçek bahçesi... Evler, oteller, lokantalar, dükkânlar hep bir yeşil dekor içinde. Bahçeler, parklar eksik değil. Ağaçların altında, yolların kenarında beyaz boyalı kanepeler, koltuklar var. Burada genç, yaşlı, çocuk, isteyen oturup dinleniyor, okuyor, güneşliyor. Sokaklarda polis görmedim. Ulusal terbiye belli ki en yüksek basamağa varmış.

**Bu parçada gezi yazısının aşağıdaki özelliklerinden hangisi örneklenmemiştir?**

- A) Görülen çevre, tabii özellikleriyle anlatılır.  
B) Yazar, gördüklerini kişisel yorumlarıyla aktarır.  
C) Gezilen yerin kültürel özellikleri verilir.  
D) Gezilen yerin tarihî hakkında bilgi verilir.

12. Aşağıdakilerden hangisi göstermeye bağlı edebî metinlerden biridir?

- A) Masal  
B) Mesnevi  
C) Destan  
D) Karagöz

13. Malesef edebiyat öğretimimiz yanlış. Edebiyat öğretiminde esas olan, okunan metin üzerinde öğrencinin düşünmesini; okuduklarını kendi diliyle, kendi algılamasıyla yeniden üretebilmesini sağlamaktır. Yoksa sorgulamadan metindeki anlamı tekrarlamak, önceden üretilmiş ve tanımlanmış bilgileri ezberlemek değildir. Edebiyat öğretiminden beklenen öğrencinin kuru bilgi sahibi olmasını sağlamak değildir. Öğrendiklerine hep bir şüpheyle bakmasını sağlamak, doğruluğu, yanlışlığı konusunda fikir jimnastiği yapmasını sağlamak esastır.

**Bu parçada “edebiyat öğretimi” ile ilgili asıl eleştirilen düşünce aşağıdakilerden hangisidir?**

- A) Öğrencilere okuma alışkanlığı kazandıramaması  
B) Eleştirel düşünceden yoksun olması  
C) İyi metinlerin seçilmemesi  
D) Edebî bilgilerin çok fazla olması

14. • İlk makale Şinasi’nin yazdığı “Tercümei Ahval Mukaddimesi”dir.  
• Edebiyatımızdaki ilk biyografi yazarı Ali Şir Nevai’dir.  
• İlk özel gazete “Takvîm-i Vakâyî”dir.

**Bu cümleler doğru (D), yanlış (Y) olarak değerlendirildiğinde doğru sıralama aşağıdakilerden hangisi olur?**

- A) D - Y - D  
B) Y - D - Y  
C) Y - Y - D  
D) D - D - Y

15. Dünyada olup biten günlük ve önemli olayları, tarafsız biçimde halka ulaştırmak amacıyla olan bir kişi, aşağıdaki yazı türlerinden hangisini kullanmalıdır?

- A) Mektup  
B) Haber yazısı  
C) Deneme  
D) Makale

16. Aşağıdakilerden hangisi kişisel hayatı konu alan metinler içerisinde yer almaz?

- A) Biyografi  
B) Fıkra  
C) Anı  
D) Gezi yazısı

17. Günlükle ilgili aşağıda verilen bilgilerden hangisi yanlıştır?

- A) Anı, roman, gezi yazısı türünde eserler yazmada da yararlanılabilir.  
B) Yazıldıkları dönemin özelliklerini yansıtmaması bakımından tarihe ışık tutar.  
C) Anlatılanlar kanıtlanmak zorundadır.  
D) Kişisel ve içten bir anlatım vardır.

18. Aşağıdakilerden hangisi öğretici metinlerin özelliklerinden değildir?

- A) Dil göndergesel işlevde kullanılır.  
B) Kurmaca değil, gerçeklik ön plandadır.  
C) Amaç; bilgi vermek, okuyucuyu aydınlatmaktır.  
D) Her okuyan farklı yorumla ulaşır.

## EK SINAV

19. Aşağıda fıkra ile ilgili verilen bilgilerden hangisi onu makaleden ayıran en temel özelliğidir?

- A) Düşünce yazısı olması
- B) Dilin göndergesel işlevde kullanılması
- C) Kanıtlanmaya gerek olmaması
- D) Anlatımın açık, sade ve duru olması

20. Aşağıdakilerden hangisi gölge oyununun bölümlerinden biri değildir?

- A) Bitiş
- B) Tekerleme
- C) Mukaddime
- D) Fasil

### (616) SEÇ. DİL VE ANLA. – 6

1. Aşağıdakilerden hangisi “görüşme”nin eskiden kullanılan karşılığıdır?

- A) Seyahatname
- B) Ruzname
- C) Mülakat
- D) Hatıra

2. Aşağıdakilerden hangisi “söylevci” anlamına gelir?

- A) Muhabir
- B) Hatip
- C) Ozan
- D) Spiker

3. Ünlü kişilerin çeşitli yönlerini tanıtmak, için yapılan görüşmeleri sorulu - cevaplı aktaran yazılara - - - - denir.

**Bu cümlede boş bırakılan yere aşağıdakilerden hangisi getirilmelidir?**

- A) görüşme
- B) hatıra
- C) tartışma
- D) hayat hikâyesi

4. Aşağıdakilerden hangisi “görüşme”de dikkat edilecek özelliklerden biridir?

- A) Çok ayrıntıya inmek
- B) Sürekli, konuşan kişinin sözünü kesmek
- C) Soruları karışık sormak
- D) Alınan cevapları olduğu gibi aktarmak

5. Aşağıdaki sanatçı - eser eşleştirmelerinden hangisi doğrudur?

- A) Ahmet Haşim - Boğaziçi Şingir Mingir
- B) Necip Fazıl Kısakürek - Mavi Sürgün
- C) Hikmet Feridun Us - Bugün de Diyorlar ki
- D) Orhan Veli Kanık - Günlerin Götürdüğü

6. Aşağıdakilerden hangisi söylev türlerinden biri değildir?

- A) Askeri
- B) Günlük
- C) Hukuksal
- D) Dinsel

7. Aşağıdakilerden hangisi söylev ve ait bir özellik değildir?

- A) Gereksiz ve yersiz vurgulardan kaçınılmalı.
- B) Kısa ve açık cümlelerle bitirilmeli.
- C) İlgi çekecek cümlelerle başlanmalı.
- D) Dinleyicilerin kültür düzeyinden etkilemekten uzak durulmalı.

8. Bir kişinin sonraki anlattıklarının öncekilerle çelişmemesine verilen ad aşağıdakilerden hangisidir?

- A) Yalınlık
- B) Açıklık
- C) Tutarlılık
- D) Akıcılık

9. — Çocuk Betül’le yetişkin Betül arasındaki en belirgin fark ne?

Daha az konuşmuşum, daha çok dinlermişim. Gözlerimi açar, dinlermişim. Meslek icabı şimdi daha çok konuşuyorum.

— Yaşlılığın hoşlukları da var mı?

Var tabii, hırsın kalmıyor o kadar.

**Bu parça aşağıdaki türlerden hangisine örnektir?**

- A) Mülakat
- B) Söylev
- C) Sohbet
- D) Fıkra

10. Görüşme yapan kişi için aşağıdakilerden hangisi söylenemez?

- A) Sabırlı ve nazik olmalı.
- B) Konuşacağı kişi hakkında bilgi edinmeli.
- C) Konuşma yapacağı konuyu belirlemeli.
- D) Aldığı cevaplara kendi yorumlarını da eklemeli.

11. Konu yönünden bir yeri ele alan röportaj türü, aşağıdaki edebî türlerden hangisiyle benzerlik gösterir?

- A) Hatıra
- B) Gezi yazısı
- C) Roman
- D) Haber yazısı

12. Aşağıdaki sanatçılardan hangisi söylev türünde eser vermiştir?

- A) Mustafa Baysal
- B) Halit Ziya Uşaklıgil
- C) Reşat Nuri Güntekin
- D) Rıza Tevfik Bölükbaşı

13. Bir topluluğun önünde belli bir fikri, bir duyguyu aşlamak için söylenen etkili ve inandırıcı konuşmalara verilen ad aşağıdakilerden hangisidir?

- A) Deneme
- B) Nutuk
- C) Röportaj
- D) Mülakat

14. Aşağıdakilerden hangisi söylev türünün dünyada ilk örneklerini veren sanatçılardan biridir?

- A) Balzac
- B) Shakespeare (Şekspir)
- C) Cicero (Çiçero)
- D) Dostoyevski

15. “Nutuk” sözlü anlatım türünde dilin aşağıdaki işlevlerinden hangisi kullanılmaz?

- A) Dil ötesi işlev
- B) Heyecana bağlı işlev
- C) Alıcıyı harekete geçirme işlevi
- D) Kanalı kontrol işlevi

16. Aşağıda verilen bilgilerden hangisi yanlıştır?

- A) Eşyayı konu alan röportajlarda bir eşya, dikkat çekecek ve okuyanları düşündürcek bütün yönleriyle anlatılır.
- B) Akademik söylev, bilimsel toplantılarda ilim ve fen insanların yaptıkları konuşmalara denir.
- C) Mülakatta sorular, herkesin anlayabileceği biçimde açık olmalıdır.
- D) Röportajda yazılanların kanıtlanma ihtiyacı yoktur.



## EK SINAV

17. – Çocuklar ne ifade ediyordu Rifat Ilgaz için?  
– Çocuklar farklıydı babam için. Öykülerinde kullandığı sözcükleri bile çocukların dilinden seçerdi.

– “Hababam Sınıfı”nda yazar nasıl bir mizah anlayışıyla karşımıza çıkıyor?

– Hababam Sınıfı’nı gülsünler diye yazmadığını söylerdi babam. Aslında burada ezenle ezilen arasındaki çelişkileri göstermek istemiştir.

**Bu parça aşağıdaki edebî türlerin hangisinden alınmıştır?**

- A) Anı B) Mülakat  
C) Söylev D) Eleştiri

18. Kişinin anlattıklarını ve söylediklerini süslemeden, sanatlı ifadelerden kaçınarak anlatmasına - - - - denir.

**Bu cümlede boş bırakılan yere aşağıdakilerden hangisi getirilmelidir?**

- A) akıcılık B) tutarlılık  
C) yalınlık D) bağdaşıklık

19. I. Mülakat  
II. Söylev  
III. Röportaj

**Yukarıda numaralanmış anlatım türlerinden hangileri gazete ile gelişim göstermiştir?**

- A) Yalnız I. B) I. ve II.  
C) I. ve III. D) Yalnız III.

20. Aşağıdakilerden hangisi röportajda kullanılan anlatım biçimlerinden biri değildir

- A) Düşsel B) Kanıtlayıcı  
C) Öğretici D) Açıklayıcı

(617) SEÇ. DİL VE ANLA. – 7

1. Aşağıdakilerden hangisi sanatsal metinlerin özelliklerinden biri değildir

- A) Dil sanatsaldır.  
B) Gerçeklik ön plandadır.  
C) Mecazlı ifadelerle yer verilir.  
D) Okuyucuya zevk verme amacı taşır.

2. Aşağıdakilerden hangisi sanatsal metinlere örnek gösterilebilir?

- A) Röportaj B) Söyleşi  
C) Biyografi D) Tiyatro

3. Sanat, bilim, politika ve başka alanlarda tanınmış kişilerin yaşamlarını anlatan yazı türüne verilen ad aşağıdakilerden hangisidir?

- A) Otobiyografi B) Söylev  
C) Biyografi D) Seyahatname

4. Aşağıdakilerden hangisi anlatmaya bağlı metinlerin yapı unsurlarından biri değildir?

- A) Yazar B) Yer  
C) Zaman D) Kişi

5. Kahramanları hayvanlar ya da cansız varlıklar olan, ders vermek amacı taşıyan, eğitici genellikle de manzum nitelik taşıyan yazılara verilen ad aşağıdakilerden hangisidir?

- A) Fabl B) Destan  
C) Hikâye D) Orta oyunu

6. Aşağıda verilen eserlerden hangisinin türü halk hikâyesidir?

- A) Ayaşlı ve Kiracıları  
B) Kerem ile Aslı  
C) Sodom ve Gomore  
D) Memleket Hikâyeleri

7. Anlatmaya bağlı metinlerde anlatım halkalar biçiminde olan - - - - üzerine kuruludur.

**Bu cümlede boş bırakılan yere aşağıdakilerden hangisi getirilmelidir?**

- A) anlatıcı B) bakış açısı  
C) mekân D) olay

8. Aşağıdaki türlerden hangisi anlatım özellikleri yönünden diğerlerinden farklıdır?

- A) Deneme B) Makale  
C) Şiir D) Fıkra

9. Aşağıda verilen bilgilerden hangisi yanlıştır?

- A) Öğretici metinler kurallaştırılmış yargılar taşır.  
B) Bilimsel metinler öğretici bir içeriğe sahiptir.  
C) Öğretici metinler okunduğu gibi anlaşılır.  
D) Öğretici metinler sanatsal amaç taşır.

10. Aşağıdakilerden hangisi masal türünün özelliklerinden biridir?

- A) Yer ve zaman belirlidir.  
B) Gelecek zaman kipi kullanılır.  
C) Hayal ürünü olan kısa hikâyelerdir.  
D) Varlıklar gerçek yaşamdan seçilir.

11. Kimsede hiç para kalmamıştı. Hasan, bütün obanın kadınlarından, kızlarından birer altın topluyordu. Belki de kadınlar son altınlarını veriyorlardı. O gece, Abdullah altınları getirdi; babasına verdi. Süleyman Kâhya önüne getirilen kulplu altınları ateşin ışığında saydı. İşte son servetleri de buydu.

**Bu parçada anlatmaya bağlı edebî metinlerin yapı unsurlarından hangisi yer almamıştır?**

- A) Zaman B) Kişi  
C) Yer D) Olay

12. Kara Mustafa, öyle olduğu yerde bakıp kaldı arkalarından. Anlayamadığı, aklının almadığı bir şey zonklayıp durdu ense kökünde. Yüreği bir cenderede yedi sanki. Sabahleyin Somuncu Baba'ya anlattığı yıldırım düşünüyü hatırladı nedense. Dervişler öğlen sıcağında yola sıralanmış, çömelmış, işlerine dalmışlardı. Taş tıktırıları, taş hafif hafif vuran tokmak, çekiç sesleri geliyordu.

**Bu parçayla ilgili aşağıdakilerden hangisi söylenemez?**

- A) Olayın geçtiği mekân betimlenerek verilmiştir.  
B) Hâkim (ilahi) anlatıcının bakış açısıyla anlatılmıştır.  
C) Kahraman, ruh hâliyle yansıtılmıştır.  
D) Zaman unsuruna yer verilmiştir.

## EK SINAV

13. Aşağıdaki yazar – eser eşleştirmelerinden hangisi yanlıştır?
- A) Ahmet Mithat Efendi – Letaif-i Rivayat  
B) Halikarnas Balıkcısı – Merhaba Akdeniz  
C) Orhan Kemal – Ekmek Kavgası  
D) Memduh Şevket Esenal – Memleket Hikâyeleri
14. Aşağıdakilerden hangisi anlatmaya bağlı edebî türlerden değildir?
- A) Tiyatro B) Masal  
C) Roman D) Hikâye
15. Aşağıdakilerden hangisi Sait Faik Abasıyanık'ın hikâyelerinden biri değildir?
- A) Yüksek Ökçeler  
B) Alemdağ'da Var Bir Yılan  
C) Mahalle Kahvesi  
D) Lüzumsuz Adam
16. Aşağıdakilerden hangisi Türk halk tiyatrosu türlerinden değildir?
- A) Meddah B) Karagöz  
C) Komedi D) Orta oyunu
17. Aşağıdaki halk hikâyelerinden hangisi Türk kaynaklıdır?
- A) Ferhat ile Şirin  
B) Köroğlu  
C) Leyla ile Mecnun  
D) Kelile ve Dimne
18. Aşağıdakilerden hangisi dünya edebiyatında fabl türünde eser veren ilk sanatçılardan değildir?
- A) La Fontaine  
B) Şeyh Sadi  
C) Montaigne  
D) Aisopos (Ezop)
19. Aşağıdakilerin hangisinde trajedi ile ilgili yanlış bir bilgi verilmiştir?
- A) “Üç birlik” kuralına uyulur.  
B) Kişiler çoğunlukla halktan kimselelerdir.  
C) Öldürme, yaralama gibi acı olaylar sahnede gösterilmez.  
D) Nazımla yazılır.

20. Aşağıdakilerden hangisi aşk konulu halk hikâyelerindendir?
- A) Danişment Gazi  
B) Dede Korkut  
C) Köroğlu  
D) Kerem ile Aslı
- (618) SEÇ. DİL VE ANLA. – 8**
1. Bilimsel yazılarda aşağıdaki anlatım türlerinden hangisi kullanılmaz?
- A) Tartışmacı  
B) Kanıtlayıcı  
C) Açıklayıcı  
D) Öyküleyici
2. Bilimsel yazılarda metnin tamamında anlatılanların küçültülerek bir paragraf hâline getirilip verildiği bölüm aşağıdakilerden hangisidir?
- A) Başlık B) Giriş  
C) Özet D) Sonuç
3. Toplumunu ilgilendiren bir konuda farklı gruplardan oluşan dinleyicilerin söz sırası olarak yaptıkları tartışmalara ne ad verilir?
- A) Forum B) Sempozyum  
C) Münazara D) Konferans
4. Yazar, düşünür ve sanatçıların veya alanında uzman kişilerin bilgi vermek, bir konuyu açıklamak, öğretmek amacıyla yaptıkları konuşmalara ne ad verilir?
- A) Söylev B) Münazara  
C) Konferans D) Mülakat
5. Belli bir konuyu aydınlatmak amacıyla bilim adamı ve araştırmacıların bir araya geldikleri ve konuşmacıların konunun belirli bölümlerini sundukları tartışmalı toplantılara ne ad verilir?
- A) Forum B) Sempozyum  
C) Mülakat D) Röportaj

6. Bir kitabın veya derginin kişi, konu, yer adı vb. bakımından içindekileri yer numarasıyla belirten ve eserlerin arkasında yer alan alfabetik listeye ne ad verilir?
- A) Dipnot  
B) İndeks  
C) Kaynakça  
D) Dokümantasyon
7. Aşağıdakilerden hangisi öğretici metinler arasında yer almaz?
- A) Öykü B) Makale  
C) Fıkra D) Biyografi
8. “Konferansta amaç dinleyicileri - - - -” cümlesi aşağıdakilerin hangisiyle tamamlanmalıdır?
- A) güldürmektir.  
B) coşkulandırmaktır.  
C) bilgilendirmektir.  
D) duygulandırmaktır.
9. Aşağıdakilerden hangisi bilimsel yazılarda kullanılan “bibli-yografya” teriminin karşılığıdır?
- A) Dokümantasyon  
B) Kaynakça  
C) İndeks  
D) Dipnot
10. İbrahim Şinasi ve Agâh Efendi tarafından 1860 yılında çıkarılan ilk özel gazete aşağıdakilerden hangisidir?
- A) Tercüman-ı Ahval  
B) Ceride-i Havadis  
C) Takvim-i Vekayi  
D) Tasvir-i Efkâr
11. Aşağıdakilerden hangisi açık oturum, sempozyum, konferans, forum ve münazara anlatım türlerinin ortak bir özelliği değildir?
- A) Dilin göndergesel işlevde kullanılması  
B) Bir başkan tarafından yönetilmesi  
C) Bir dinleyici topluluğunun bulunması  
D) İki farklı tartışma grubunun bulunması

## EK SINAV

12. Aşağıdakilerden hangisi münazarada hakem kurulunun konuşmaları değerlendirme esaslarından değildir?

- A) Konuşmacıların konuşma yeteneği
- B) Konuşmacıların kılık kıyafeti
- C) Beden dilini kullanıp kullanmamları
- D) Savunmada inandırıcı olmaları

13. Münazarada tartışan kişiler aşağıdakilerden hangisini yapmamalıdır?

- A) Süslü söyleyişlere değil, sağlam fikirlere önem vermek
- B) Daha önceden söylenmiş bilgileri ve örnekleri tekrarlamamak
- C) Kişisel üstünlüğünü kanıtlamak
- D) Düşünceleri anlaşılır, açık ve kısa söylemek

14. Aşağıdaki cümlelerin hangisinde gereksiz sözcük kullanıldığı için duruluk bozulmuştur?

- A) Hırs ve öfkesine yenik düşen insanlar asla başarılı olamazlar.
- B) Bunca olumsuz şart ve koşula rağmen amacımıza ulaştık.
- C) Yağmurun altında onunla hiç konuşmadan yavaş yavaş yürüdük.
- D) İnceleyeceğim evrakı yorgun, isteksiz bir şekilde elime aldım.

15. Aşağıda sempozyumla ilgili verilen bilgilerden hangisi yanlıştır?

- A) Sempozyumlar fizik, kimya, biyoloji, tıp gibi bilim alanlarında yapılabilir.
- B) Önceden belirlenmiş bir konuşmacı grubu bulunur.
- C) Belirli bir konu konuşmacılar tarafından farklı yönleriyle açıklanmaya çalışılır.
- D) Dinleyiciler sempozyum yapılan konuda uzmanlaşmış kişilerdir.

16. (I) Forum bilimsel ve akademik konularda düzenlenir. (II) Aktif bir katılımcı konumunda bulunan dinleyiciler farklı kültür, anlayış ve yaş gruplarından oluşur. (III) Bu nedenle hem katılan uzmanları hem de katılımcıları yöneteceği için forum başkanının görevi diğer sözlü anlatım türlerindeki başkanlara göre daha zordur. (IV) Forumda amaç belli kararlara varmak değil konuyu değişik anlayışlarla farklı boyutlarıyla ortaya koymaktır.

**Bu parçada numaralanmış cümlelerin hangisinde yanlış bilgi verilmiştir?**

- A) I. B) II. C) III. D) IV.

17. Aşağıdakilerden hangisi münazaranın öğrencilere kazandırdığı özelliklerden biri değildir?

- A) Karşı fikre saygı duymasını sağlamak
- B) Ezber gücünü artırmak
- C) Toplum önünde soğukkanlı konuşma alışkanlığı kazandırmak
- D) Araştırma, inceleme yöntemlerini öğrenmelerini sağlamak

18. • Sayfa içinde geçen herhangi bir düşünce veya bilgi ile ilgili olarak sayfanın altına konan açıklama  
• Belli bir konu, yer veya dönemle ilgili yayınları kapsayan veya en iyilerini seçen eser listesi  
• Bir kitabın veya derginin kişi, konu, yer adı vb. bakımdan içindekileri yer numarasıyla belirten ve eserin arkasında yer alan alfabetik liste

**Aşağıdaki kavramlardan hangisi bu tanımlardan biriyle esleştiremez?**

- A) Kaynakça
- B) Dipnot
- C) Dokümantasyon
- D) İndeks

19. (I) Bilimsel yazılarla makalelerin benzerlikleri olduğu gibi farklılıkları da vardır. (II) Bir kere bilimsel yazılar makaleye göre daha geniş bir araştırmaya dayanır. (III) Bilimsel yazıların okuyucusunun o konuda belli bir birikime sahip olması gerekir. (IV) Her iki türde de amaç bilgi vermek olduğu için sözcükler gerçek anlamlarıyla kullanılır. (V) Yalnız, bilimsel yazılarda anlatılanların kanıtlanması gerekmez.

**Bu parçada numaralanmış cümlelerin hangisinde bilgi yanlış vardır?**

- A) II. B) III. C) IV. D) V.

20. Bilimsel yazılarla ilgili aşağıda verilen bilgilerden hangisi yanlıştır?

- A) Dil alıcısı harekete geçirme işlevinde kullanılır.
- B) Dipnot, kaynakça ve indeks kullanılır.
- C) Bilimsel buluşları iletmek için yazılır.
- D) Konferans raporları, toplantı özetleri bilimsel yazı türleridir.

### (623) SEÇ. TÜRK ED. – 3

1. Bir metnin siyasi bir belge ya da tarihi metin olmasıyla edebî metin olması arasındaki farkı sağlayan özellik aşağıdakilerden hangisidir?

- A) Üslup
- B) Yazıldığı ortam
- C) Yazarın özellikleri
- D) Beğeni

2. Duygu, düşünce ve hayalleri okuyucuda heyecan, hayranlık ve estetik zevk uyandıracak şekilde anlatan, malzemesi dil olan bilime - - - - denir.

**Bu cümlede boş bırakılan yere aşağıdakilerden hangisi getirilmelidir?**

- A) sanat B) edebiyat tarihi
- C) dil Bilgisi D) edebiyat

## EK SINAV

3. Türk edebiyatının dönemlere ayrılmasında aşağıdaki değişimlerden hangisinin bir etkisi olmamıştır?

- A) Kültür değişimi
- B) Coğrafya değişimi
- C) Silah değişimi
- D) Dildeki değişimler

4. Aşağıdakilerden hangisi İslamiyet öncesi Türk edebiyatı dönemi ürünleri için söylenemez?

- A) Ürünler şölen adı verilen ölüm törenlerinde yazılmıştır.
- B) Halkın ortak duygusu dile getirilmiştir.
- C) Ürünler sözlü olarak yayılmıştır.
- D) Anonim ürünlerdir.

5. İranlı sanatçı Firdavsi'nin Şehname adlı destanında "Efrasiyâb" adıyla anılan Türk destan kahramanı aşağıdakilerden hangisidir?

- A) İskender
- B) Cengiz Han
- C) Alp Er Tunga
- D) Mete Han

6. Günlerden bir gün Ay Kağan'ın gözleri parladı. Doğum sancıları arttı. Bir erkek çocuk doğurdu. Bu çocuğun yüzü gök gibi parlak, ağzı ateş gibi kızıl, gözleri ela, saçları ve kaşları koyu kara idi. Periler gibi güzel, sakin denizler gibi engin ve sessizdi. Bu çocuk öyle yiğit, öyle gözü tok, öyle çabuk büyüyen bir çocuktuk ki anasından bir defa süt içti, bir daha içmedi. Hemen çiğ et, çorba istedi. Çok sürmedi kırk gün sonra büyüdü, yürüdü ve oynamaya başladı.

**Bu parça, anlatım özellikleri dikkate alındığında aşağıdaki destanların hangisinden alınmış olabilir?**

- A) Göç Destanı
- B) Ergenekon Destanı
- C) Oğuz Kağan Destanı
- D) Alp Er Tunga Destanı

7. I. Kutadgu Bilig  
II. Orhun Yazıtları  
III. Atabetü'l Hakayık  
IV. Divan-ı Hikmet

**Numaralanmış eserlerden hangisi yazıldığı dönemin özellikleri bakımından farklıdır?**

- A) I. B) II. C) III. D) IV.

8. Orhun Yazıtları ile ilgili aşağıdaki bilgilerden hangisi yanlıştır?

- A) Vezir Tonyukuk tarafından yazılmıştır.
- B) Söylev biçiminde yazılmıştır.
- C) Türkçe dil bilgisi kurallarıyla uyumludur.
- D) Danimarkalı bilgin W. Thomsen tarafından çözümlenip okunmuştur.

9. Aşağıdakilerden hangisi İslamiyet öncesi Türk edebiyatı sözlü döneminde şairlerin özelliklerinden biri değildir?

- A) Sanatçılık B) Komutanlık
- C) Doktorluk D) Din adamlığı

10. Aşağıdakilerden hangisi Türklerin Destan Dönemi'nde kabul ettiği dinlerden biri değildir?

- A) Şamanizm B) Maniheizm
- C) İslamiyet D) Budizm

11. Ülkemizde Batılı anlamda edebiyat tarihi çalışmaları Tanzimat Dönemi'nde başlar. Bu alandaki ilk kapsamlı çalışma, yazarın 1928 yılında yayımladığı "Edebiyat Tarihi" adlı eseridir. Türk edebiyat tarihinin kurucusu sayılır.

**Bu paragrafta sözü edilen yazar aşağıdakilerden hangisidir?**

- A) Ahmet Hamdi Tanpınar
- B) Nihat Sami Banarlı
- C) Şükran Kurdakul
- D) Fuat Köprülü

12. Eski Türkçede "sav" olarak adlandırılan özlü sözlerin günümüzdeki karşılığı aşağıdakilerden hangisidir?

- A) Atasözü B) Deyim
- C) Vecize D) Cümle

13. Etel suvu aka turur  
Kaya tübi kaka turur  
Balık telim baka turur  
Kölüng takı küşerür

**Koşuktan alınmış bu dördlüğün uyak düzeni aşağıdakilerden hangisidir?**

- A) aaaa B) aaab
- C) abab D) aabb

14. Aşağıdakilerden hangisi "koşuk"un tanımıdır?

- A) Ölen bir kişinin ardından onun iyi yönlerini anlatan şiirlerdir.
- B) Doğa güzellikleri ve aşk konulu şiirlerdir.
- C) Az sözle çok anlam ifade eden özlü sözlerdir.
- D) Savaş, yiğitlik, doğal afet gibi önemli olayların etkisiyle söylenmiş şiirlerdir.

15. Aşağıdakilerden hangisi İslamiyet'ten sonraki Türk destanlarından biridir?

- A) Köroğlu Destanı
- B) Bozkurt Destanı
- C) Ergenekon Destanı
- D) Alp Er Tunga Destanı

16. "İlyada" ve "Odysseia" destanlarının derleyicisi aşağıdakilerden hangisidir?

- A) Sophokles B) Aiskhilos
- C) Homeros D) Euripides

17. Aşağıdakilerden hangisi Türk halk edebiyatının bölümlerinden biri değildir?

- A) Anonim B) Dinî-tasavvufi
- C) Aşık tarzı D) Klasik

18. Tarihte Türk sözcüğünün ilk kez geçtiği metin aşağıdakilerden hangisidir?

- A) Divanü Lügati't Türk
- B) Oğuz Kağan Destanı
- C) Göktürk Kitabeleri
- D) Alp Er Tunga Sagusu

## EK SINAV

19. Orhun Yazıtları'ndan söz eden ilk kaynak, aşağıdakilerden hangisidir?

- A) Kutadgu Bilig
- B) Tarih-i Cihanküşa
- C) Atabetü'l Hakayik
- D) Divanü Lügati't Türk

20. Aşağıdaki eser-yazar eşleştirmelerinden hangisi doğrudur?

- A) Kurtuluş Savaşı Destanı - Nazım Hikmet
- B) Çakır'ın Destanı - Cahit Külebi
- C) Sakarya Meydan Savaşı - Gülten Akın
- D) Berlin Üçlemesi - Melih Cevdet Anday

(624) SEÇ. TÜRK ED. – 4

1. Aşağıdakilerden hangisi İslamiyet etkisinde gelişen Türk edebiyatı geçiş döneminin özellikleri arasında yer almaz?

- A) Hece ölçüsü ile aruz ölçüsü birlikte kullanılmıştır.
- B) Nazım birimi dördlük ve beyittir.
- C) İslamiyet Öncesi Dönem'deki öz Türkçe ısrarla korunmaktadır.
- D) İslamiyet öncesi kültür ile İslamiyet etkisindeki kültür bir aradadır.

2. Aşağıdaki eşleştirmelerden hangisi yanlıştır?

- A) Kırgız Türklerine ait dünyanın en uzun destanı - Manas Destanı
- B) Orhun Yazıtları'nın bulunduğu ülke - Türkiye
- C) Orhun Yazıtları'nda adına anıt diktirilen hükümdar - Bilge Kağan
- D) Bilinen ilk türk şairi - Aprinçur Tigin

3. Türk edebiyatında XIII. ve XIV. yy. da yaşanan gelişmeler ile ilgili aşağıdakilerden hangisi söylenemez?

- A) Battalname, Danişmendname gibi ürünler oluşmaya başlamıştır.
- B) Arapça ve Farsça sözcükler dilimize girmeye başlamıştır.
- C) Türk edebiyatında yeni türler kullanılmaktadır.
- D) Eserlerde Türklerin İslamiyet öncesi dönemdeki yaşamları ve dinleri övülmektedir.

4. Karamanoğlu Mehmet Bey, 1277 yılında bir ferman yayımlayarak; "Bugünden sonra divanda, dergâhta, mecliste, meydanda Türkçeden başka bir dil kullanılmayacaktır." demiştir.

**Bu fermana göre, Karamanoğlu Mehmet Bey aşağıdakilerden hangisini amaçlamış olamaz?**

- A) Türkçe konuşan insanları başka topluluklardan uzaklaştırmayı
- B) Türkçe konuşmayı özendirmeyi
- C) Türkçe sevgisi oluşturmaya
- D) Türkçeyi başka diller etkisinden korumayı

5. Aşağıdakilerden hangisi XIII. ve XIV. yy.da Anadolu sahasında tasavvuf etkisiyle edebi ürün veren sanatçılardan biri değildir?

- A) Hoca Dehhanî
- B) Mevlana
- C) Yunus Emre
- D) Hacı Bektaş-ı Veli

6. Aşağıdaki bilgilerden hangisi "gazel" türü için doğru değildir?

- A) Aşk, sevgi, ayrılık gibi konular işlenir.
- B) Son beyitte şairin mahlasına yer verilir.
- C) Halk edebiyatı nazım biçimlerinden biridir.
- D) Kısa ve özlü şiirlerdir.

7. Aşağıdakilerden hangisi Türk edebiyatındaki ünlü mesnevislerden biri değildir?

- A) Battalname
- B) Harname
- C) Hüsn ü Aşk
- D) Leyla ve Mecnun

8. Aşağıdakilerden hangisi Kutadgu Bilig'in özelliklerinden biri değildir?

- A) Karahanlılar döneminde yazılmıştır.
- B) Dilî, yabancı etkilerden uzaktır.
- C) Mesnevi biçiminde yazılmıştır.
- D) Alegorik bir anlatımı vardır.

9. Aşağıdakilerden hangisi coşku ve heyecanı dile getiren ürünlere bir örnek sayılmaz?

- A) Yunus Emre'den ilahi
- B) Evliya Çelebi'nin seyahatnamesi
- C) İslamiyet öncesi döneme ait bir sagu
- D) Sezai Karakoç'a ait bir şiir

10. İslamiyet etkisinde gelişen Türk edebiyatında aşağıdakilerin hangisinde bir değişim görülmez?

- A) Millet Adı
- B) İnanç
- C) Kültür
- D) Dil

11. Aşağıdakilerden hangisi divan şiiri nazım şekillerinden biridir?

- A) İlahi
- B) Mesnevi
- C) Semai
- D) Türkü

12. "Cihannüma" adlı eserin yazarı aşağıdakilerden hangisidir?

- A) Ahmet Resmî Efendi
- B) Yunus Emre
- C) Mütercim Âsım
- D) Kâtip Çelebi

13. XVII. yüzyılın hattat, nakkaş, musikişinaslarından olan ve asıl ününü dünyaca tanınmış "Seyahatname" adlı eseriyle kazanan yazar aşağıdakilerden hangisidir?

- A) Evliya Çelebi
- B) Âşık Çelebi
- C) Kâtip Çelebi
- D) Yirmi Sekiz Mehmet Çelebi

14. Aşağıdakilerden hangisi XVII. yüzyılda yazdığı kaside ve hicivleriyle öne çıkmış bir şairdir?

- A) Şeyh Galip
- B) Fuzulî
- C) Bâkî
- D) Nefî

## EK SINAV

15. Aşağıdakilerden hangisi ağıt mânilerine örnektir?

- A) Mendilin uçları  
Çıkamam yokuşları  
Yâre selam götürün  
Yedi dağın kuşları
- B) Su gelir deste gider  
Ayrılır dosta gider  
Gurbet yansın yıkılsın  
Sağ gelen hasta gider
- C) Almaya al olaydım  
Selviye dal olaydım  
Ela gözlü yârimin  
Atına nal olaydım
- D) Bura Yemendir  
Gülü çemendir  
Giden gelmiyor  
Acep nedendir

16. Aşağıdaki eserlerden hangisi Yunus Emre'ye aittir?

- A) Hayriyye
- B) Terkib-i Bent
- C) Risaletü'n-Nushiye
- D) Atabetü'l-Hakayık

17. Âşık-ı sâdıklarun hâlin  
diğergûn eyledün  
Gûşe-i fûrkatde her birini  
mecnun eyledün  
Çünkü Yahya bendeni pür-derd  
dü mahzûn eyledün  
Var heman şimden girü sağ ol  
begum var ol begüm

**Bu dördlüğün uyak düzeni aşağıdakilerden hangisidir?**

- A) aaaa B) abba
- C) aaab D) aabb

18. Bir zengin hast(a) olsa çok  
hekim gelir  
Avrupa'dan yâresine em gelir  
Bir fakirin ölüsüne kim gelir  
Hoca bile elin vurmaz parasız.

**Bu dördlüğün konusuna göre türü aşağıdakilerden hangisidir?**

- A) Ağıt
- B) Taşlama
- C) Güzelleme
- D) Koçaklama

19. Halk şiirinde tekdüzeliği önlemek ve şiirde belli bir ses uyumu oluşturmak amacıyla dizelerin belli parçalara ayrıldığı yerlere verilen ad aşağıdakilerden hangisidir?

- A) Hece ölçüsü
- B) Durak
- C) Kalıp
- D) Vezin

20. Aşağıdakilerden hangisi tasavvuf düşünürlerine verilen addır?

- A) Tevhid B) Devriye
- C) Münacaat D) Mutasavvıf

### (625) SEÇ. TÜRK ED. – 5

1. İnsan ve toplum yaşantısından doğan olay, duygu, düşünce ve hayallerin söz ve yazı ile güzel ve etkili biçimde anlatılmasına - - - - - denir.

**Bu cümlede boş bırakılan yere aşağıdakilerden hangisi getirilmelidir?**

- A) dil
- B) edebiyat
- C) sanat tarihi
- D) Türk edebiyatı

2. "Gülhane Hattı Hümayunu" nun bugün en çok bilinen adı aşağıdakilerden hangisidir?

- A) Islahat Fermanı
- B) I. Meşrutiyet'in ilanı
- C) Tanzimat Fermanı
- D) Anayasanın kabul edilmesi

3. Tanzimat Dönemi sanatçılarının yetişmesinde önemli katkıları bulunan devlet adamı aşağıdakilerden hangisidir?

- A) Sokullu Mehmet Paşa
- B) Mustafa Reşit Paşa
- C) Mustafa Sabri Efendi
- D) Enver Paşa

4. Aşağıdakilerden hangisi Tanzimat Dönemi'nde edebiyatımıza giren edebi türlerden biri değildir?

- A) Şiir B) Makale
- C) Eleştiri D) Öykü

5. Tanzimat Fermanı ile başlayan yeni dönemde Türk edebiyatında aşağıdaki değişimlerden hangisi olmuştur?

- A) Divan edebiyatı anlayışı benimsenmiştir.
- B) Türk askeri sisteminin çok ilerlediği görülmüştür.
- C) Batılı edebiyat anlayışına yönelim başlamıştır.
- D) Sanatla dilin gerekliliği anlaşılmıştır.

6. Aşağıdaki sanatçı-eser eleştirilerinden hangisi yanlıştır?

- A) Recaizade Mahmut Ekrem - Zemzeme
- B) Ahmet Mithat Efendi - Avrupa'da Bir Cevlan
- C) Ziya Paşa - Şiir ve İnşa
- D) Şinasi - Karabela

7. Aşağıdaki eserlerden hangisi türü yönünden diğerlerinden farklıdır?

- A) Felatun Beyle Rakım Efendi
- B) İntibah
- C) Cezmi
- D) Gülnihal

8. Tanzimat Edebiyatı I. Dönem için aşağıdakilerden hangisi doğrudur?

- A) Batılı roman ve hikâyeler çevrilmiştir.
- B) Milliyetçilik konusu işlenmiştir.
- C) "Ağıt" şiirleri ilk kez yazılmıştır.
- D) İlk resmi gazete çıkarılmıştır.

9. Aşağıdakilerden hangisi edebî metin örneklerinden biri değildir?

- A) Eşber
- B) Şiir ve İnşa
- C) Zemzeme
- D) Taaşşuk-ı Talat ve Fitnat

10. Tanzimat Dönemi edebî eserlerinde aşağıdaki Batılı akımlardan hangisi görülmez?

- A) Klasisizm B) Sürealizm
- C) Romantizm D) Realizm

## EK SINAV

(626) SEÇ. TÜRK ED. – 6

11. “Şiir ve İnşa” isimli makale aşağıdaki yazarlardan hangisi tarafından yazılmıştır?

- A) Şinasi
- B) Ziya Paşa
- C) Namık Kemal
- D) Nabizade Nazım

12. Aşağıdakilerden hangisi Tanzimat Edebiyatı İkinci Dönemine ait bir özelliktir?

- A) Toplumsal temalar yerine bireysel temalar tercih edilmiştir.
- B) Vatan, millet, özgürlük gibi konularda halk bilinçlendirilmeye çalışılmıştır.
- C) Türk edebiyatında gazetecilik bu dönemde gelişmiştir.
- D) Edebiyat tarihi ile ilgili ilk çalışmalar yapılmıştır.

13. Aşağıdakilerden hangisi ilk atasözleri kitabıdır?

- A) Harabat
- B) Zemzeme
- C) Müntehabat-ı Eşar
- D) Durub-ı Emsal-i Osmaniye

14. Tanzimat'ın İkinci Döneminde egemen olan “Sanat, sanat içindir.” görüşüne bağlı kalarak insanı doğa, sevgi ve ölüm temaları içinde değerlendirdi. Muallim Naci'nin simgelediği edebiyatı reddederek Servetifünun yeniliklerine ortam hazırladı.

**Bu parçada tanıtılan Tanzimat Dönemi sanatçısı aşağıdakilerden hangisidir?**

- A) Namık Kemal
- B) Nabizade Nazım
- C) Abdülhak Hamit Tarhan
- D) Recaizade Mahmut Ekrem

15. Aşağıdakilerden hangisi Tanzimat Dönemi roman ve hikâyeciliğinin realist örneklerinden değildir?

- A) Araba Sevdası – Recaizade Mahmut Ekrem
- B) İntibah - Namık Kemal
- C) Zehra - Nabizade Nazım
- D) Sergüzeşt - Sami Paşazade Sezai

16. Tanzimat Dönemi'nde yaptığı tiyatro uyarlamalarıyla tanınan sanatçı aşağıdakilerden hangisidir?

- A) Ziya Paşa
- B) Nabizade Nazım
- C) Ahmet Vefik Paşa
- D) Abdülhak Hamit Tarhan

17. Aşağıdakilerden hangisi Türk edebiyatının ilk edebî romanıdır?

- A) İntibah
- B) Tarık
- C) Harabat
- D) Şerare

18. Aşağıdaki gazetelerin hangisinin çıkarılmasıyla Tanzimat edebiyatı başlamıştır?

- A) Tasvir-i Efkar
- B) Takvim-i Vakayi
- C) Ceride-i Havadis
- D) Tercüman-ı Ahval

19. Aşağıdaki eser - tür eşleştirmelerinden hangisi yanlıştır?

- A) Küçük Şeyler - eleştiri
- B) Afife Anjelik - tiyatro
- C) İntibah - roman
- D) Makber - şiir

20. Şairin, eşi Fatma Hanım'ın ölümü üzerine yazdığı bir mersiye. Bu eser, her biri sekizer dizeden oluşan bentler hâlinde yazılmıştır. Tamamı 295 bentlik bu eserde şair, ölüm karşısındaki duygu ve düşüncelerini, acılarını, feryatlarını dile getirmiştir.

**Bu parçada tanıtılan eser ve sanatçısı aşağıdakilerden hangisidir?**

- A) Füzûzan - Muallim Naci
- B) Makber - Abdülhak Hamit Tarhan
- C) Zehra - Nabizade Nazım
- D) Taaşşuk-ı Talat ve Fitnat - Şemsettin Sami

1. Türk edebiyatında bir bildiri yayınlarak ortaya çıkan ilk edebî grup aşağıdakilerden hangisidir?

- A) Tanzimat
- B) Servetifünun
- C) Fecriati
- D) Millî Edebiyat

2. Aşağıdakilerden hangisi Servetifünun edebiyatının genel özelliklerinden biridir?

- A) Hece ölçüsünü esas ölçü olarak belirlemek
- B) Aydın kimselere seslenmek
- C) Sanatlı anlatımdan uzaklaşmak
- D) Geleneksel edebiyat anlayışını övmek

3. Servetifünun Dönemi'nde aşağıdaki türlerin hangisinde bir gelişme gözlenmez?

- A) Tiyatro
- B) Roman
- C) Öykü
- D) Şiir

4. Aşağıdaki eserlerden hangisi Ahmet Haşim'e ait değildir?

- A) Saray ve Ötesi
- B) Piyale
- C) Göl Saatleri
- D) Bize Göre

5. Aşağıdakilerden hangisi Fecriati topluluğunun amaçlarından biridir?

- A) Halk dilini kullanmak
- B) Millî bir edebiyat oluşturmak
- C) Grup üyelerinin kitaplarını basarak bir kitaplık oluşturmak
- D) Sıradan konuları ironik anlatımla şiire sokmak

6. Fecriati topluluğu, aşağıdakilerden hangisini Batılı edebiyatı anlamakta ve uygulamakta yetersiz kaldığı için eleştirmiştir?

- A) Tanzimatçıları
- B) Servetifünuncuları
- C) Millî Edebiyatçıları
- D) Beş Hececileri

## EK SINAV

7. Ahmet Haşim ile ilgili aşağıdakilerden hangisi doğrudur?

- A) Açık bir anlatımı vardır.
- B) Süssüz bir anlatım kullanmıştır.
- C) Halk şiirinin örnek alınması gerektiğini düşünür.
- D) Bütün şiirlerini aruz ölçüsü ile yazmıştır.

8. Aşağıdakilerden hangisi Ahmet Haşim'in şiirlerinde kullandığı imgelerden değildir?

- A) Askerler
- B) Akşam kızıllığı
- C) Sonbahar
- D) Ay ışığı ve yıldızlar

9. Aşağıdakilerden hangisi Fecriati Bildirisi'inde adı geçen sanatçılardan biri değildir?

- A) Ahmet Haşim
- B) Tahsin Nahit
- C) Emin Bülent Serdaroğlu
- D) Hüseyin Rahmi Gürpınar

10. Aruz ölçüsünü Türkçeye ustalıkla uygulayan üç şair aşağıdakilerden hangisidir?

- A) Namık Kemal - Cenab Şahabettin - Necip Fazıl Kısakürek
- B) Tevfik Fikret - Mehmet Akif Ersoy - Yahya Kemal Beyatlı
- C) Hüseyin Cahit - Mehmet Emin Yurdakul - Ziya Gökalp
- D) Ahmet Haşim - Cahit Sıtkı Tarancı - Cahit Külebi

11. Aşağıdakilerden hangisi Tevfik Fikret için doğru bilgi değildir?

- A) Servet-i Fünûn Dönemi'nin en önemli şairlerindendir.
- B) Oğlu Halûk'un kişiliğinde bütün gençlere seslendi.
- C) Divan edebiyatındaki beyit anlayışına sadık kaldı.
- D) Çocuklar için yazdığı şiirlerini "Şermin" adlı kitapta topladı.

12. Aşağıdakilerin hangisinde bütün şiirlerinde yalnızca aruz ölçüsünü kullanan sanatçılar yer almaktadır?

- A) Ahmet Haşim, Mehmet Âkif, Cenab Şehabettin
- B) Tevfik Fikret, Yahya Kemal, Mehmet Âkif
- C) Ahmet Haşim, Tevfik Fikret, Yahya Kemal
- D) Yahya Kemal, Cenab Şehabettin, Mehmet Âkif

13. Halit Ziya Uşaklıgil'in "Kırk Yıl" adlı eserinin türü aşağıdakilerden hangisidir?

- A) Hikâye
- B) Roman
- C) Anı
- D) Şiir

14. Türk edebiyatında yazılan ilk psikolojik roman olarak kabul edilir. Bu eserde olaylardan çok, kişilerin olaylara karşı tepkisi üzerinde durulmuştur. Eserde aşktan başka kaygıları olmayan insanların hayatı anlatılmıştır.

Bu parçada tanıtılan eser aşağıdakilerden hangisidir?

- A) Eylül
- B) Handan
- C) Kırk yıl
- D) Hicranlar

15. Aşağıdakilerden hangisi Fecriati edebiyatı için söylenemez?

- A) "Sanat şahsi ve muhteremdir." ilkesiyle hareket ettiler.
- B) Edebiyatı araç olarak gördüler
- C) Şiirde güzellik kavramını ön plana çıkardılar.
- D) Ağır bir dille, doğal olmayan süslü bir anlatımla eserler verdiler.

16. Millî Edebiyatçıların görüş ve eserlerinin yayılmasında aşağıdaki dergilerden hangisinin rolü olmamıştır?

- A) Genç Kalem
- B) Türk Yurdu
- C) Türk Ocağı
- D) Meşale

17. Güzel dil Türkçe bize, Başka dil gece bize İstanbul konuşması En saf, en ince bize.

Bu dizeler aşağıdaki topluluk veya eğilimlerden hangisinin dil anlayışını belirtmektedir?

- A) Tanzimatçılar
- B) Servetifünuncular
- C) Fecriâtîciler
- D) Millî Edebiyatçılar

18. Recaizade Mahmut Ekrem birtakım gençleri çevresinde topladı. Bir dergide toplanarak yeni bir hareket yarattılar. Bunlar arasında "estetik zevki" ön plana çıkaran ve özgün tavırları ile ün kazanmış iki şairimiz de vardır.

Bu parçada söz edilen dergi ve iki ünlü şairimiz aşağıdakilerin hangisinde bir arada verilmiştir?

- A) Genç Kalem; Ziya Gökalp, Muallim Naci
- B) Servet-i Fünûn; Tevfik Fikret, Cenab Şehabettin
- C) Genç Kalem; Recaizade Mahmut Ekrem, Abdülhak Hamit
- D) Servet-i Fünûn; Mehmet Raûf, Şinasi

19. "Kendi Gök Kubbe'miz" ve "Eski Şiirin Rüzgârıyla" adlı eserlerin şairi aşağıdakilerden hangisidir?

- A) Tevfik Fikret
- B) Ahmet Haşim
- C) Yahya Kemal Beyatlı
- D) Cenab Şehabettin

20. Asıl amacı şiirde söze önem vermek olan öz şiir (saf şiir) anlayışının Türk edebiyatındaki iki önemli temsilcisi aşağıdakilerin hangisinde yer almaktadır?

- A) Faruk Nafiz Çamlıbel, Ziya Gökalp
- B) Cenab Şehabettin, Enis Behiç Koryürek
- C) Ahmet Haşim, Yahya Kemal Beyatlı
- D) Mehmet Âkif Ersoy, Tahsin Nahit



1. Aşağıdakilerden hangisi Cumhuriyet Dönemi'nde işlenen konulardan biri değildir?

- A) Kahramanlık  
B) Savaşın gerekliliği  
C) İnkılaplar  
D) Kurtuluş mücadelesi

2. Aşağıdakilerden hangisi Cumhuriyet Dönemi'nde şiir yazan sanatçılardan biridir?

- A) Orhan Kemal  
B) Kemal Tahir  
C) Behçet Necatigil  
D) Tarık Buğra

3. Aşağıdakilerden hangisi Cumhuriyet Dönemi Türk Şiiri için söylenebilir?

- A) Farklı özelliklerde şiir anlayışları oluşmuştur.  
B) Süslü bir anlatım kullanılmıştır.  
C) İstanbul ve çevresi anlatılmıştır.  
D) Halk şiiri anlayışının geçerli olamayacağı vurgulanmıştır.

4. Aşağıdakilerden hangisi gazete çevresinde gelişen edebi türlerden biridir?

- A) Günlük  
B) Fıkra  
C) Roman  
D) Şiir

5. Aşağıdakilerden hangisi makalenin özelliklerinden biri değildir?

- A) Kesin sonuçlara varmadan, samimi bir üslup kullanılır.  
B) Yalın ve yoğun bir anlatım vardır.  
C) Söz oyunlarına başvurulmaz.  
D) Uzmanlık gerektiren bir yazı türüdür.

6. Deneme türünün kurucusu olarak kabul edilen Fransız yazar aşağıdakilerden hangisidir?

- A) Montaigne  
B) A. Huxley  
C) J. P. Sartre  
D) A. Camus

7. Yazarın her hangi bir konu üzerinde kesin hükümlere varmadan kişisel görüş ve düşüncelerini anlattığı yazı türüne - - - - - denir.

**Bu cümlede boş bırakılan yere aşağıdakilerden hangisi getirilmelidir?**

- A) anı  
B) fıkra  
C) eleştiri  
D) deneme

8. Aşağıdaki sanatçı-eser eşleştirmelerinden hangisi yanlıştır?

- A) Cahit Sıtkı Tarancı - Otuz Beş Yaş  
B) Turgut Uyar - Büyük Saat  
C) Peyami Safa - Çalıkuşu  
D) Sabahattin Ali - Kuyucaklı Yusuf

9. Gezi yazısında aşağıdaki özelliklerden hangisi öne çıkar?

- A) Uzaklık  
B) Yazıldığı Dönem  
C) Yazarın Kişiliği  
D) Gözlem

10. Aşağıdakilerden hangisi Türk edebiyatındaki en önemli gezi yazarlarından biridir?

- A) Evliya Çelebi  
B) Ali Canip Yöntem  
C) Halit Ziya Uşaklıgil  
D) Namık Kemal

11. Türkçe yazılan ilk gezi kitabı aşağıdakilerden hangisine aittir?

- A) Kâtip Çelebi  
B) Evliya Çelebi  
C) Seydi Ali Reis  
D) Yirmi Sekiz Çelebi Mehmet Efendi

12. Gazete ve dergilerin yaygınlaşması bu türün gelişmesini sağlamıştır. Servet-i Fünûn, Genç Kalemler, Dergâh, Türk Yurdu gibi dergiler bu konuda etkili olmuştur. Bu yıllarda bu türün usta yazarları arasında Ahmet Rasim, Refik Halit Karay ve Ahmet Haşim akla ilk gelenlerdir.

**Bu parçada anlatılan edebî tür aşağıdakilerden hangisidir?**

- A) Deneme  
B) Roman  
C) Tiyatro  
D) Fıkra

13. Aşağıdakilerden hangisi yurt içi gezi yazılarından biridir?

- A) Bir Demet Pasifik (Nadir Paksoy)  
B) Seyir Defteri (Nedim Gürsel)  
C) Gide Gide (Fikret Otyam)  
D) Hind (Falih Rıfki Atay)

14. Aşağıdaki eser-yazar eşleştirmelerinden hangisi yanlıştır?

- A) Hürrem Sultan - Orhan Asena  
B) Bekçi Murtaza - Halide Edip Adıvar  
C) Bir Adam Yaratmak - Necip Fazıl Kısakürek  
D) Mahmud ile Yezida - Murathan Mungan

15. Cumhuriyet döneminde mizah edebiyatı, güldürürken düşündürmeyi de amaçlayan bir mizah anlayışıyla yeni boyutlara ulaştı.

**Aşağıdakilerden hangisi bu alanda eser veren yazarlardan biri değildir?**

- A) Aziz Nesin  
B) Rıfat Ilgaz  
C) Muzaffer İzgü  
D) Feyzi Halıcı

16. • Şiirsel söyleyişte konuşma dilinin yalınlığından faydalandılar.  
• Varlık dergisinde ölçsüz, uyaksız, şairanelikten uzak yeni bir şiir akımı başlattılar.  
• Yaşama sevincini, günlük hayatı, küçük adamın dertlerini konu edindiler.

**Bu özellikler aşağıdaki edebî toplulukların hangisiyle ilgilidir?**

- A) Fecriaticiler  
B) Garipçiler  
C) Yedi Meşaleciler  
D) İl. Yeni Grubu

17. Hecenin beş şairinden biri olan şair Anadolucu edebiyatın en öne çıkan adıdır. Millî ve yerli sanat anlayışına göre kaleme aldığı "Han Duvarları" en tanınmış şiirlerindendir.

**Bu parçada bahsedilen şair aşağıdakilerden hangisidir?**

- A) Enis Behiç Koryürek  
B) Turgut Uyar  
C) Faruk Nafiz Çamlıbel  
D) Orhan Seyfi Orhon

## EK SINAV

18. Zengin Brezilya topraklarının Atlantik üstünde büyük limanları var; kuzeyden güneye doğru, Bahai, Rio de Jaonerio, Santos... Bunlar Amazonya'nın kauçuk ve kerestesini, şeker kamışını, tütününü ve kakaosunu Sainte Paule'un kahvesini boşaltan altın ağızlarıdır. Amerika kıtasının deniz üstünde çıkıntı ve girintileri pek az olduğu için kıtanın zengin şehirleri limanlardır.

**Bu parça, aşağıdaki edebî türlerden hangisine örnektir?**

- A) Fıkra                      B) Gezi Yazısı  
C) Eleştiri                    D) Söyleşi

19. Aşağıdakilerden hangisi "İkinci Yeni" şairlerinden biridir?

- A) İlhan Berk  
B) Orhan Veli Kanık  
C) Ziya Osman Saba  
D) Ahmet Muhip Dıranas

20. "Halikarnas Balıkçısı" takma adıyla hikâye ve romanlar yazmış olan sanatçı aşağıdakilerden hangisidir?

- A) Tarık Buğra  
B) Haldun Taner  
C) Sait Faik Abasıyanık  
D) Cevat Şakir Kabaağaçlı

### (628) SEÇ. TÜRK ED. – 8

1. Aşağıdaki bilgilerden hangisi doğru değildir?

- A) Cumhuriyet Dönemi Türk Edebiyatı 1940 öncesi ve sonrası diye ikiye ayrılır.  
B) Öz şiir anlayışındaki şairler postmodernist olarak adlandırılmıştır.  
C) Sembolist şairler varlığın kendisinden çok görüntüsünü, izlenimini anlatmışlardır.  
D) Necip Fazıl Kısakürek, şiirin dışında tiyatro da yazmıştır.

2. Aşağıdaki sanatçı-eser eşleştirmelerinden hangisi yanlıştır?

- A) Ahmet Kutsi Tecer - Nerdesin  
B) Ziya Osman Saba - Sebil ve Güvercinler  
C) Yahya Kemal Beyatlı - Sessiz Gemi  
D) Cahit Sıtkı Tarancı - Asım'ın Nesli

3. Aşağıdakilerden hangisi "Beş Hececiler" olarak bilinen sanatçılardan biridir?

- A) Ali Canip Yöntem  
B) Ahmet Kutsi Tecer  
C) Faruk Nafiz Çamlıbel  
D) Mehmet Emin Yurdakul

4. Aşağıdakilerden hangisi öz şiir anlayışı ile ürün veren sanatçılardan biri değildir?

- A) Ahmet Arif  
B) Ahmet Haşim  
C) Ahmet Hamdi Tanpınar  
D) Ahmet Muhip Dıranas

5. Fransız Baudelaire, P. Verlaine gibi şairlerden etkilenmiştir. Geleneksel şiir ile Batı şiirini başarıyla kaynaştırmıştır. Şiirlerinde hece ölçüsünü kullanmış, ahenge önem vermiştir. "Olvido, Kar, Fahriye Abı" ünlü şiirlerindendir.

**Bu parçada tanıtılan sanatçı aşağıdakilerden hangisidir?**

- A) Ahmet Muhip Dıranas  
B) Orhan Veli Kanık  
C) Ziya Osman Saba  
D) Yahya Kemal Beyatlı

6. Aşağıdakilerden hangisi toplumcu gerçekçi sanatçılardan biri değildir?

- A) Ahmet Arif  
B) Rifat Ilgaz  
C) Ercüment Behzat Lav  
D) Ahmet Kutsi Tecer

7. Olayları toplumsal gerçeklik içinde ele alıp var olan aksaklıklara çözüm yolları öneren edebî anlayış aşağıdakilerden hangisidir?

- A) Öz şiir  
B) Serbest nazım ve toplumcu şiir  
C) Garipçi şiir  
D) Millî Edebiyat zevk ve anlayışını sürdüren şiir

8. Aşağıdakilerden hangisi Yahya Kemal Beyatlı'nın özelliklerinden biri değildir?

- A) Osmanlı kültürüne bağlı kalmıştır.  
B) Şiirde uyak ve ölçünün gereksiz olduğunu savunmuştur.  
C) Vatan, millet, İstanbul sevgisi gibi konuları işlemiştir.  
D) Şiiri, bir tür musiki olarak kabul etmiştir.

9. Şimdi hiçbirinden eser yok Gitti o geceler o cenk kitapları Dağıldı kalelerin önündeki askerler Çocukluk güzün dökülen yaprakları gibi.

**Bu dizelerde işlenen tema aşağıdakilerden hangisidir?**

- A) Beklenti  
B) Korku  
C) Özlem  
D) Doğanın güzelliği

10. Arif Nihat Asya ile ilgili aşağıdakilerden hangisi söylenebilir?

- A) Bayrak şairi olarak tanınmıştır.  
B) Büyük Doğu dergisini kurmuştur.  
C) Bütün şiirlerini aruz ölçüsü ile yazmıştır.  
D) Ölüm korkusu temasını işlemiştir.

11. Türk hikâye ve romanında toplumcu gerçekçiliğin öncülerindendir. Sanatın tek amacının insanları daha iyiye, daha doğruya, daha güzele yükseltmek olduğunu belirten yazarın önemli romanlarından biri Kuyucaklı Yusuf'tur.

**Bu parçada bahsedilen yazar, aşağıdakilerden hangisidir?**

- A) Aziz Nesin  
B) Fakir Baykurt  
C) Sabahattin Ali  
D) Necati Cumalı

12. Sağlığında kitap çıkarmayan şair, klasik divan şiirimizi Batı şiirindeki bütünlük anlayışıyla ele aldı. Genel olarak Osmanlı medeniyet ve kültürüne bağlı kaldı. Şiirlerinin bir kısmı "Kendi Gök Kubbemiz" adıyla ölümünden sonra yayımlandı.

**Bu parçada sözü edilen şair aşağıdakilerden hangisidir?**

- A) Ahmet Haşim  
B) Cahit Sıtkı Tarancı  
C) Yahya Kemal Beyatlı  
D) Ahmet Hamdi Tanpınar

13. "Tutunamayanlar" adlı eseriyle postmodern romanın yolunu açan yazarımız aşağıdakilerden hangisidir?

A) Oğuz Atay B) Bilge Karasu  
C) Lâfite Tekin D) İnci Aral

14. KAR

Kardır yağın üstümüne geceden  
Yağmurla karanlık bir düşünceden,  
Ormanın uğultusuyla birlikte  
Ve dört nala dümdüz bir mavilikte  
Kar yağıyor üstümüne inceden.

Bu şiir, Anadolucu şiir dışında günün sorunlarına değil, insan duygularının sonsuzluğuna yönelen şairlerin en önemlilerinden birine aittir.

"Olvido", "Fahriye Abla" gibi şiirleriyle de tanınmış bu şair, aşağıdakilerden hangisidir?

A) Behçet Kemal Çağlar  
B) Ahmet Muhip Dıranas  
C) Halide Nusret Zorlutuna  
D) Orhan Veli Kanık

15. - - - - , Garipçiler'in tersine birbirinden çok farklı olan şairlerin tek tek arayış ve sezgileriyle dağınık uçlar vermiş bir şiir akımıdır. İlhan Berk, Cemal Süreya, Turgut Uyar bu akımın şairlerindendir.

**Bu parçada boş bırakılan yere aşağıdakilerden hangisi gelmelidir?**

A) Toplumcular  
B) Genç Kalemiler  
C) İkinci Yeni  
D) Beş Hececiler

16. "Kimi insan otların  
Kimi insan balıkların çeşidini bilir  
Ben ayrılıkları...  
Kimi insan ezbere sayar yıldızların  
adını

Ben hasretlerin..."

dizeleriyle Türk şiirine edebî gelenekten kopuşu getirdi. "Kuvayı Milliye Destanı, Memleketimden İnsan Manzaraları" gibi eserlerinde hayata, topluma daha geniş ve gerçekçi bir açıdan bakar.

**Bu parçada bahsedilen şair aşağıdakilerden hangisidir?**

A) İlhan Berk  
B) Nazım Hikmet  
C) Attilâ İlhan  
D) Sezai Karakoç

17. Hikâyelerinde net bir şekilde giriş, gelişme ve sonuç bölümlerinin bulunmadığı, şiirsel bir anlatımın ağır bastığı bir tarzı sürdürmüştür. Hikâyelerindeki kahramanların çoğu kendisidir. "Bir ilkbahar Hikâyesi, Mahalle Kahvesi, Havada Bulut, Semaver" en tanınmış hikâyelerindendir.

**Bu parçada tanıtılan Cumhuriyet Dönemi hikâyecimiz aşağıdakilerden hangisidir?**

A) Memduh Şevket Esendal  
B) Reşat Nuri Güntekin  
C) Refik Halit Karay  
D) Sait Faik Abasıyanık

18. Türk romanında modern anlatım teknikleri, bireyin iç dünyasına yönelik konuları ile dikkat çeken romancılardan biridir. "Aylak Adam" ve "Anayurt Otel" adlı romanlarında, okuru, bilinçaltının gizemli ve karışık dünyasında dolaştırır.

**Bu parçada bahsedilen yazar aşağıdakilerden hangisidir?**

A) Tezer Özlü  
B) Yusuf Atılgan  
C) Necip Fazıl Kısakürek  
D) Fakir Baykurt

19. Ağlasam sesimi duyar mısın  
Mısrarımında;  
Dokunabilir misin  
Gözyaşlarıma, ellerinizle

**Bu dizelerden yola çıkılarak Orhan Veli'nin şiiriyle ilgili aşağıdakilerden hangisi söylenebilir?**

A) Süslü, ağır bir dil kullandığı  
B) Nükteli bir söyleyişi yeğlediği  
C) Toplumsal sorunlara değindiği  
D) Ölçü ve uyağa önem vermediği

20. Aşağıda verilen bilgilerden hangisi yanlıştır?

A) Anadolu ve Anadolu insanının ele alındığı ilk hikâye ve roman örnekleri Cumhuriyet Dönemi'nde verilmiştir.  
B) Köylüyü anlatan ilk roman Nabizade Nazım'ın "Karabibik" adlı eseridir.  
C) Refik Halit Karay "Memleket Hikâyeleri" adlı eseriyle köylüleri ve yaşamlarını konu almıştır.  
D) Memduh Şevket Esendal, Sait Faik Abasıyanık Cumhuriyet Dönemi önemli hikâyecilerindendir.

(711) İSLAM TARİHİ – 1

1. Allah'a ortak koşana ne ad verilir?

A) Kıpti B) Kâfir  
C) Müşrik D) Münafık

2. Aşağıdakilerden hangisi, İslam öncesi Arap Yarımadası'ndaki inanışlardan biri değildir?

A) Mecusilik B) Yahudilik  
C) Putperestlik D) Bedevilik

3. "Hadari" kavramının anlamı, aşağıdakilerden hangisinde doğru verilmiştir?

A) Sahabe  
B) Çöl ve vahalarda göçebe hayatı yaşayan Araplar  
C) Aynı soydan gelen kişilerin oluşturduğu topluluk  
D) Köy, kasaba ve şehirlerde yerleşik hayat süren Araplar

4. İslam inancına göre Kur'an-ı Kerim dünya semasına hepsi birden olarak, aşağıdaki hicri ayların hangisinde indirilmiştir?

A) Muharrem B) Ramazan  
C) Recep D) Şaban

5. Hz. Muhammed'in Medine'ye hicret ettiği sırada orada yaşayan iki Arap kabilesi, aşağıdakilerden hangisinde birlikte verilmiştir?

A) Evs ve Hazreç  
B) Ensar ve Muhacir  
C) Nadir ve Hevazin  
D) Kaynuka ve Kurayza

6. İslamiyet öncesi Arap Yarımadası'nda yaşayanlar için aşağıdakilerden hangisi söylenemez?

A) Yaygın olarak Putperestlik inancına bağlıdır.  
B) Sosyal hayatta kadınlar mirastan hak alamazlar.  
C) Yerleşik Arapların uğraşları tarım ve ticarettir.  
D) Güçlü bir merkezî yönetim altında yaşamaktadırlar.

## EK SINAV

7. İslamiyet'in doğduğu yıllarda Arap Yarımadası'na komşu olan iki büyük devlet, aşağıdakilerin hangisinde birlikte verilmiştir?

- A) Bizans - Sasani
- B) Sasani - Memlük
- C) Osmanlı – Akkoyunlu
- D) Akkoyunlu – Karakoyunlu

8. Aşağıdakilerden hangisi, Hanif inancına bağlılığıyla ünlenmiş kişilerden biri değildir?

- A) Kuss bin Said
- B) Varaka bin Nevfel
- C) Tuleyha bin Huveylit
- D) Ubeydullah bin Cahş

9. Hayber'in fethi Müslümanlara, aşağıdakilerden hangisini kazandırmıştır?

- A) Arap Yarımadası bütünüyle Müslümanların eline geçti.
- B) Yahudi – Müslüman yakınlaşması sağlandı.
- C) Yahudiler arasında İslam hızla yayıldı.
- D) Şam ticaret yolu güvenlik altına alındı.

10. I. Gassan kralına  
II. İskenderiye valisine  
III. İran hükümdarına  
IV. Bizans imparatoruna

**Hız. Muhammed, yukarıdakilerden hangilerine İslam'ı tebliğ eden mektuplar göndermiştir?**

- A) Yalnız IV
- B) I, II ve IV
- C) II, III ve IV
- D) I, II, III ve IV

11. Aşağıdaki halifelerden hangisinin künyesi Ebu Hafsa'dır?

- A) Hz. Ali
- B) Hz. Ömer
- C) Hz. Osman
- D) Hz. Ebu Bekir

12. • Sıffin Savaşı  
• Cemel Olayı  
• Hz. Osman'ın şehit edilmesi

**Verilen olayların ortak özelliği, aşağıdakilerden hangisidir?**

- A) Hz. Ali Dönemi'nde gerçekleşmiş olmaları
- B) Dört Halife Dönemi'ni sona erdirmeleri
- C) Arap milliyetçiliğini zayıflatmaları
- D) İslam dünyasında iç karışıklıklara neden olmaları

13. "Tahkim Antlaşması", aşağıdakilerden hangisi ile ilgilidir?

- A) Puvatya Savaşı'yla
- B) Mekke'nin fethiyle
- C) Sıffin Olayı'yla
- D) Cemel Olayı'yla

14. İslam tarihinde "Dört Halife Devri" olarak bilinen dönem, aşağıdaki olaylardan hangisiyle sona ermiştir?

- A) Hakem Olayı'yla
- B) Kerbela Olayı'yla
- C) Hz. Ali'nin şehit edilmesiyle
- D) Hz. Osman'ın şehit edilmesiyle

15. Aşağıdaki devletlerden hangisi Avrupa'nın fethini gerçekleştirmek için büyük mücadeleler vermiştir?

- A) Danişmentli Beyliği
- B) Endülüs Emevileri
- C) Büyük Selçuklular
- D) Anadolu Selçukluları

16. Aşağıdaki devletlerden hangisinin döneminde Zındıklara karşı mücadele etmek için "Divanü'z-Zenadika" adlı teşkilat kurulmuştur?

- A) Abbasiler
- B) Emeviler
- C) Harzemşahlar
- D) Endülüs Emevileri

17. Abbasi halifelerinden Mansur, Mehdi, Harun Reşit, Me'mun, Mu'tasım ve Vasık dönemleri için, aşağıdakilerden hangisi söylenebilir?

- A) Devlet parçalanmıştır.
- B) Fetih hareketlerinin durduğu bir dönemdir.
- C) Dönemleri, Abbasilerin "Altın Çağı" kabul edilir.
- D) Savaş meydanlarında şehit olmuş Abbasi halifeleridir.

18. İslam tarihinde "10 Muharrem" gününün anlam ve önemi, aşağıdakilerden hangisidir?

- A) Mekke fethedilmiştir.
- B) Hz. Hüseyin şehit edilmiştir.
- C) Hz. Muhammed Mekke'den Medine'ye hicret etmiştir.
- D) Puvatya Savaşı'nda Müslümanlar Franklara yenilmiştir.

19. Aşağıdakilerden hangisi, Abbasiler Dönemi'nde yaşamış ünlü tarihçilerden biri değildir?

- A) Koçi Bey
- B) Taberi
- C) Belazuri
- D) İbnü'l - Esir

20. Aşağıdakilerin hangisinde, Abbasilerin "avasım" illerini kurmalarının amacı verilmiştir?

- A) Ülkeyi bayındır hâle getirmek
- B) Ülke sınırlarını genişletmek
- C) Bilim ve sanatı geliştirmek
- D) Sınır güvenliğini sağlamak

### (712) İSLAM TARİHİ – 2

1. Arap dilinin, Arap coğrafyasının dışında yaygınlık kazanmasında, aşağıdakilerden hangisinin etkisi yoktur?

- A) Fetihlerin çoğalması
- B) Arap milliyetçiliğinin yapılması
- C) Arapça'nın resmî dil ilan edilmesi
- D) Müslüman olan toplumların Kur'an'ı anlama isteği

2. "Türklerin millî varlıklarını muhafaza etmelerinde - - - dini önemli rol oynamıştır."

**Verilen bilgi cümlesinin doğru olabilmesi için boş bırakılan yere, aşağıdakilerden hangisi yazılmalıdır?**

- A) İslam
- B) Mani
- C) Şamanizm
- D) Zerdüştlük

3. Aşağıdakilerden hangisi, İslam dünyasının dünyevi hâkimiyeti ve koruyuculuğunun resmen Büyük Selçuklulara verildiğine kanıttır?

- A) Büveyhoğulları'nı yıkmaları
- B) Anadolu'ya akınlar düzenlemeleri
- C) Malazgirt Savaşı'nda Bizans'ı yenmeleri
- D) Halife tarafından Tuğrul Bey'e "Doğunun ve Batının Sultanı" unvanının verilmesi

## EK SINAV

4. Papa III. Urbanus, aşağıdaki şehirlerden hangisinin İslam ordularınca fethi üzerine üzün-tüsünden ölmüştür?

- A) İstanbul B) Antakya  
C) Kudüs D) Urfa

5. Babür hükümdarı Babür'ün yazdığı fıkıh kitabı, aşağıdakilerden hangisidir?

- A) Mübeyyen  
B) Suretü'l - Arz  
C) Miratü'l - Memalik  
D) Mucem el - Büldan

6. Müslüman Oğuzlara verilen isim, aşağıdakilerden hangisidir?

- A) Alp B) Türkmen  
C) Ensar D) Bektaşî

7. Aşağıdakilerden hangisi, Türklerin İslamiyet'i kabul etmelerinin nedenlerinden biri değildir?

- A) Ölümden sonraki hayata inanılması  
B) Abbasilerin ılımlı politikalar izlemesi  
C) Zor kullanılarak baskı altında benimsetilmesi  
D) "Cihat" ve "Şehit" anlayışının Türk askerî yapısını güçlendir-mesi

8. 1096 – 1099 yılları arasında yapılan ilk Haçlı ordusunun tamamına yakını, aşağıdaki devletlerden hangisi tarafından etkisiz hâle getirilmiştir?

- A) Türkiye Selçuklu  
B) Harzemşahlar  
C) Karahanlı  
D) Osmanlı

9. Alman İmparatoru Friedrich, hangi Haçlı Seferi sırasında Silifke Çayı'nı geçerken boğularak ölmüştür?

- A) I. B) II.  
C) III. D) IV.

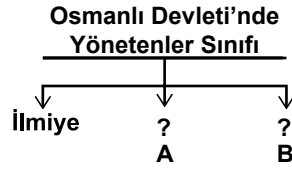
10. "Haremeyn Vakıfları" olarak adlandırılan vakıflar, hangi devlet zamanında kurulmuştur?

- A) Büyük Selçuklu  
B) Eyyubi  
C) Abbasi  
D) Osmanlı

11. İslam devletlerinde gayrimüs-limlerden alınan haraç, cizye, ticaret vergisi ve diğer gelirle-rin tamamına verilen isim, aşağıdakilerden hangisidir?

- A) Fey B) Fer  
C) Fem D) Füg

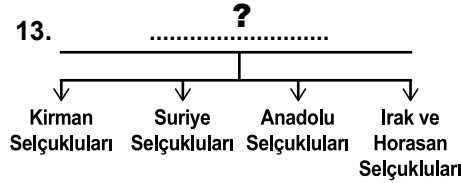
12.



Verilen şemada boş bırakılan "?" yerlere yazılması gerekenler, aşağıdakilerin hangisinde birlikte verilmiştir?

| A           | B        |
|-------------|----------|
| A) Kelamiye | Reaya    |
| B) Reaya    | Müderis  |
| C) Seyfiye  | Kelamiye |
| D) Mültezim | Seyfiye  |

13.



Verilen şemanın başlığı için aşağıdakilerden hangisini yazmalıyız?

- A) Büyük Selçukluları Kuran Devletler  
B) Büyük Selçuklulara Bağlı Atabeylikler  
C) Büyük Selçuklulardan Doğan Devletler  
D) Büyük Selçukluların Fethettiği Devletler

14. İslam hukuku ile ilgilenen İslamî bilim dalı, aşağıdakilerden hangisidir?

- A) Hadis B) Fıkıh  
C) Kelam D) Tefsir

15. İslam uygarlığında, aşağıdakilerden hangisinin yasaklanma-sı oymacılık ve nakkaşlık gibi süsleme sanatlarının gelişme-sine etkisi olmuştur?

- A) Hat sanatı  
B) Çinçilik  
C) Minyatür sanatı  
D) Resim ve heykelticilik

16. Toledo ile doğudaki Dimeşk şehirlerini İslam dünyasında meşhur yapan uğraşı, aşağıdakilerden hangisidir?

- A) Çinçilik B) Kâğıt imalatı  
C) Dokumacılık D) Kılıç yapımı

17. Aşağıdakilerden hangisi mu-haddis değildir?

- A) Müslim B) Zemahşeri  
C) İmam Malik D) Ebu Davut

18. Aşağıdaki kavramlardan hangisi "Ciltçi" anlamına gelir?

- A) Mücellit B) Mülhit  
C) Mutavva D) Mürtet

19. • Yunanistan  
• Ermenistan  
• Hollanda  
• Kanada

Verilen ülkelerin ortak özelliği, aşağıdakilerden hangisidir?

- A) Asya ülkeleridirler.  
B) Türkiye'nin komşularıdır.  
C) Nüfuslarının % 1 – 5'i Müslüman'dır.  
D) Nüfuslarının % 20 – 50'si Müslüman'dır.

20. Üsküp İsa Bey İmam Hatip Lisesi ile Üsküp İslami İlimler Fakültesi, aşağıdaki hangi ülkede eğitim – öğretim hizmeti veren kurumlardır?

- A) Kosova B) Hırvatistan  
C) Arnavutluk D) Makedonya

## (811) KELAM – 1

1. Aşağıdakilerden hangisi kelam ilminin amaçları arasında yer almaz?

- A) İnanç esaslarını açıklamak.
- B) İnananları taklitten kurtarmak.
- C) İbadetlerin doğru yapılmasını sağlamak.
- D) Eleştirilere karşı inanç esaslarını savunmak.

2. Kelam alimleri, âlemi oluşturan bütün varlıklara, sonradan yaratılmış anlamında hangi kavramı kullanmışlardır?

- A) Hâdis
- B) İmkân
- C) Vacip
- D) Âraz

3. Aşağıdakilerden hangisi itikadi mezheplerden biri değildir?

- A) Mürci'e
- B) Eş'ariye
- C) Maturidiye
- D) Hanbelilik

4. Aşağıdaki kelam ekollerinden hangisi, büyük günah işleyenlerin fasık mümin olduğunu, yani dinden çıkmadığını, böyle kişilerin ahiretteki durumunun ise Allah'a bırakılması gerektiğini savunur?

- A) Mutezile
- B) Mürcie
- C) Haricilik
- D) Şia

5. • Sıffin Savaşı'ndaki hakem meselesinden dolayı fiilen ortaya çıkmıştır.  
• İtikadi nitelikli ilk fırkalaşma hareketidir.

Hakkında bilgi verilen itikadi mezhep aşağıdakilerden hangisidir?

- A) Mürcie
- B) Mutezile
- C) Şiilik
- D) Haricilik

6. Allah'ın hiç bir şeye ihtiyaç duymaksızın bizzat var olmasıdır. Ondan başka her şey var olmak için ve varlığını devam ettirebilmek için başka bir varlığa ihtiyaç duyar. Yalnız Allah'ın varlığı kendindendir.

**Bu bilgiler Allah'ın zatî sıfatlarından hangisini açıklamaktadır?**

- A) Beka
- B) Kıdem
- C) Kıyam bi Nefsihi
- D) Muhalafetün li'l-Havadis

7. Allah zatında, sıfatlarında ve fiillerinde birdir. Allah'ın sıfatları zatının aynıdır. Allah zâtı ile bilir, zâtı ile görür ve zâtı ile işitir.

**Bu paragrafta Mutezile'nin beş esastan hangisi açıklanmıştır?**

- A) Adalet
- B) Tevhit
- C) el-Vad ve'l-Vaid
- D) el-Menziletü beyne'l menzileteyn

8. Evren, her şeyiyle sonradan meydana gelmiştir. Sonradan meydana gelen herşey yaratılmıştır. O hâlde evren de yaratılmıştır. Bundan hareketle bir var edicinin bulunması aklî bir zorunluluktur. Nitekim Yüce Allah "Acaba onlar herhangi bir yaratıcı olmadan mı yaratıldılar?" (Tur suresi, 35. ayet) buyurarak hiçbir şeyin kendiliğinden meydana gelmediğini vurgulamıştır.

**Yukarıda anlatılan Kelamî delil hangisidir?**

- A) Gaye ve Nizam
- B) Temanu'
- C) İmkân
- D) Hudûs

9. Aşağıdaki eserlerden hangisi İmam Maturidi'ye aittir?

- A) Fıkh-ı Ekber
- B) Kitabu't - Tevhit
- C) Makalatül - İslamiyyin
- D) El-İbane an Usulî'd Diyane

10. Aşağıdakilerden hangisi Şia'nın kollarındandır?

- A) Eş'ariyye
- B) İmamiyye
- C) İbadiyye
- D) Mürcie

11. • el-Ümm fıkhı dair en önemli eseridir.  
• İstihsan'ı ve Mesalih-i Mürseleyi delil olarak kabul etmez.

**Bu bilgiler aşağıda verilen fıkıh alimlerden hangisine aittir?**

- A) Cafer b. Sadık
- B) Ahmet b. Hanbel
- C) Enes b. Malik
- D) Muhammet b. İdris eş-Şafii

12. "Yaratıcının varlığını bilmek ve nassları anlamak için akla başvurulması gerekir. Allah'a iman etmek, naklen değil aklen vaciptir. Bununla birlikte akıl, bütün dini gerçekleri idrak etmede yeterli değildir."

**Bu görüş aşağıdaki kelam ekollerinden hangisine aittir?**

- A) Maturidilik
- B) Mutezile
- C) Cehmiyye
- D) Eş'arilik

13. Evren, içindeki her şeye beraber mümkün bir varlıktır. Her mümkün kendisini var eden bir vacibe ihtiyaç duyar. Bu vacip varlığı zorunlu olan Allah'tır.

**Bu metinde Alah'ın varlığı ile ilgili hangi delil açıklanmıştır?**

- A) Hudus
- B) İmkan
- C) Kemal
- D) Gaye ve Nizam

14. "Onunla birlikte hiçbir ilah yoktur. Aksi takdirde her ilah kendi yarattığını sevk ve idare eder ve bir gün mutlaka onlardan biri diğerine üstün gelirdi."

(Mü'minin suresi, 91. ayet)

**Bu ayet Allah'ın varlığı ve birliğinin delillerinden hangisine temel oluşturur?**

- A) Temanu
- B) İmkan
- C) Kemal
- D) Hudus

15. Allah'ın zati sıfatlarından birisi olan "muhalafetü'n li'l-havadis" aşağıdakilerden hangisinde doğru açıklanmıştır?

- A) Varlığının kendinden olmasıdır.
- B) Varlığının sonunun olmamasıdır.
- C) Varlığının başlangıcı olmamasıdır.
- D) Sonradan yaratılan hiçbir şeye benzememesidir.

16. Mutezile'nin "İyilik yapana mükâfat, kötülük yapana da ceza vermek Allah için vaciptir." **şeklinde özetlenen temel ilkesi aşağıdaki kavramlardan hangisi ile ifade edilmiştir?**

- A) Tevhid
- B) Adalet
- C) Va'd ve va'id
- D) el-Menzile beyne'l-menzileteyn

17. "Ölümsüz ve daima diri olan Allah'a dayanıp güven..."  
(Furkan Suresi, 58. ayet)

**Bu ayette Allah'ın subuti sıfatlarından hangisi dile getirilmektedir?**

- A) Hayat
- B) İlim
- C) Semi
- D) Basar

18. "Te'vilatü'l-Kur'an" ve "Kitabü't-Tevhid" isimli eserler aşağıdaki hangi alime aittir?

- A) İmam Eş'ari
- B) İmam Nesefi
- C) İmam Maturidi
- D) İmam Cafer-i Sadık

19. "Yaptıklarınızı bilen ve sizi gözetleyen değerli yazıcılar vardır."  
(İnfitar Suresi, 10-12. ayetler)

**Bu ayet aşağıda verilen meleklerden hangisine işaret etmektedir?**

- A) Hafaza
- B) Mukarrebun
- C) Kiramen Katibin
- D) Münker Nekir

20. Aşağıdakilerden hangisi Maturidiliği benimseyen alimlerdenidir?

- A) Nesefi
- B) Bakıllani
- C) Cüveyni
- D) İbn Küllab

1. Aşağıdakilerden hangisi Kelam ilminin ana konuları arasında **yer almaz?**

- A) Allah'ın varlığı ve birliği
- B) Öldükten sonra dirilme
- C) Peygamberlik ve sıfatları
- D) İbadetler ve esasları

2. Kelam ilminde hayır ve şer hangi kavramlarla ifade edilir?

- A) Husun - Kubuh
- B) Tecsim - Teşbih
- C) Hidayet - Dalâlet
- D) Emr-i bi'l-ma'ruf - Nehy-i ani'l-münker

3. Kur'an-ı Kerim, "ayet, âyât, beyyine, delil ve delâil" kelime-lerini aşağıdaki kavramlardan hangisinin yerine kullanmıştır?

- A) Keramet
- B) Mucize
- C) Sihir
- D) Büyü

4. Aşağıdakilerden hangisi "Deizm'in" temel fikirlerinden **değildir?**

- A) Varlıkları yaratan tanrıdır.
- B) Akıl vahye ve peygambere ihtiyaç duymaz .
- C) Tanrı evrene müdahale eder.
- D) Akıl kurtuluşu sağlayan ahlak ilkelerini koyabilir.

5. Peygamberlerin akıllı ve zeki oldukları anlamına gelen sıfat aşağıdakilerden hangisidir?

- A) Tebliğ
- B) Fetanet
- C) İsmet
- D) Emanet

6. "Çürüyüp toz olmuş şu kemiklere kim hayat verebilir?"  
(Yasin suresi, 78. ayet)

**Verilen ayette müşrikler aşağıdaki kavramlardan hangisine yönelik itirazlarını dile getirmişlerdir?**

- A) Kader
- B) Sırat
- C) Mizan
- D) Ba's

7. Aşağıdaki ayetlerden hangisinde peygamberlerin niteliklerine vurgu **yapılmamıştır?**

- A) "(Peygamberleri) rahmetimizle ödüllendirdik ve onlara doğru olanları başkalarına ulaştırma-maları için üstün bir sıdk dili bahsettik."  
(Meryem suresi, 50. ayet)
- B) "... Her millet içinde mutlaka bir peygamber bulunmuştur."  
(Fatır suresi, 24. ayet)
- C) "Ey resulüm sana indirilmiş olanı tebliğ et. Eğer yapmazsan görevini yapmamış olursun..."  
(Maide suresi, 67. ayet)
- D) "Ey Allah'ın kulları! Bana gelin, doğrusu ben size gönderilmiş güvenilir bir elçiyim."  
(Duhân suresi, 18. ayet)

8. "Bizim uğrumuzda gayret gös-terenleri biz, yollarımıza elbette ulaştıracağız. Allah, güzel düşü-nüp güzel davrananlarla mutlaka beraberdir."  
(Ankebut suresi, 69. ayet)

**Verilen ayette aşağıdaki kelimî kavramların hangisinden bahsedilmektedir?**

- A) Hidayet
- B) Kubuh
- C) Hayr
- D) İrade

9. Kur'an-ı Kerim hakkında aşağıdakilerden hangisi **söylenemez?**

- A) Peygamberimiz zamanında kitap hâline getirilmiştir.
- B) Bütün insanlığa gönderilmiştir.
- C) Kıyamete kadar bozulmaya-caktır.
- D) Lafzen ve manen mucizedir.

10. Aşağıda verilen ayetlerden hangisinde insanın yaratılış amacına değinilmemiştir?

- A) "Biz göğü, yeri ve ikisi arasın-da bulunanları boşuna yarat-madık."  
(Sa'd Suresi, 27. ayet)
- B) "Biz insanı en güzel şekilde yarattık."  
(Tin Suresi, 4. ayet)
- C) "Ben insanları ve cinleri bana kulluk etsinler diye yarattım."  
(Zariyat Suresi, 56. ayet)
- D) "O, hanginizin daha güzel işler yapacağını denemek için ölü-mü ve hayatı yarattı."  
(Mülk Suresi, 2. ayet)

## EK SINAV

11. Agnostisizm'in Türkçe karşılığı aşağıdakilerden hangisidir?

- A) Hiççilik B) Olguculuk  
C) Gizemcilik D) Bilinemezlik

12. Çağdaş dönemde yazılan "Yeni İlim-i Kelam" isimli eser aşağıdaki alimlerden hangisine aittir?

- A) Filibeli Ahmet Hilmi  
B) İzmirli İsmail Hakkı  
C) İsmail Fenni Ertuğrul  
D) Muhammed İkbâl

13. Aşağıdakilerden hangisi cehennem'in Kur'an-ı Kerim'de geçen farklı isimlerinden biri değildir?

- A) Hutame B) Havîye  
C) Naîm D) Saîr

14. "And olsun, Allah, müminlere kendi içlerinden; onlara ayetlerini okuyan, onları arıtıp tertemiz yapan, onlara kitap ve hikmeti öğreten bir peygamber göndermekle büyük bir lütufta bulunmuştur. Oysa onlar, daha önce apaçık bir sapıklık içinde idiler."  
(Âl-i İmran suresi, 164. ayet)

Hz. Muhammed ile ilgili olarak nazil olan bu ayetten aşağıdaki yargılardan hangisi çıkarılamaz?

- A) Gönderildiği toplumun bir bireyi olduğu  
B) İçinde yaşadığı toplumun doğru yolda olmadığı  
C) Allah'ın müminlere yönelik yardım ve desteğinin devam edeceği  
D) Allah'ın peygamber göndermek sureti ile insanlara yol gösterdiği

15. Allah'ın sonsuz ilmi ve kudretiyle başlangıçtan sona kadar evrende olacak her şeyi programlayıp, bilmesine ne denir?

- A) İrade B) Kader  
C) Kaza D) Mizan

16. Aşağıdakilerden hangisi ahirete inanan insandan beklenen davranış değildir?

- A) İyi ve adil davranmak  
B) Sorumluluklarının gereğini yapmak  
C) Kendinden başkasına hesap vermeyecekmiş gibi yaşamak  
D) Sevap kazanma duygusuyla hareket etmek

17. Mutezile'nin rızıkla ilgili görüşü aşağıdakilerden hangisinde doğru verilmiştir?

- A) Haram, rızık değildir.  
B) İnsanın yediği her şey onun rızıktır.  
C) İnsan çalışmasa da kaderinde olan rızık onu bulur.  
D) Rızık kazanılmasında insanın irade ve çabasının rolü yoktur.

18. Dinî literatürde herhangi bir olayın mucize sayılabilmesi için aşağıdakilerden hangisi şart değildir?

- A) Peygamber aracılığı ile olması  
B) Tabiat kanunlarına aykırı olması  
C) İstendiğinde tekrar edebilen bir olay olması  
D) Allah'ın izniyle gerçekleşmesi

19. Nihilizm'in Türkçe karşılığı aşağıdakilerden hangisidir?

- A) Hiççilik B) Gizemcilik  
C) Olguculuk D) Bilinmezlik

20. Cehennem'in isimlerinden olan "Cahim", Kur'an'da hangi anlamda yer almıştır?

- A) Kötü yurt  
B) Kaynar su  
C) Derin çukur  
D) Kat kat yanan ateş

### (931) SİYER – 1

1. Aşağıdakilerden hangisi Hz. Muhammed'in hayatını öğrenmenin gerekçelerinden biri olamaz?

- A) Davranışlarının örnek alınmasını sağlar.  
B) Peygamberi daha iyi tanıtmamızı sağlar.  
C) Kur'an-ı Kerim'in anlaşılmasına yardımcı olur.  
D) Müslümanlara bilimsel buluşlar konusunda rehberlik eder.

2. Aşağıdakilerden hangisi Hz. Muhammed (sav.)'in doğduğu ortamın özelliklerindendir?

- A) Edebiyat ve güzel söz söyleme sanatı gelişmişti.  
B) Kadınlar ile kız çocuklarına değer verildi.  
C) Hanıflık en yaygın inanç biçimiydi.  
D) Okuma-yazma oranı yüksekti.

3. İslam öncesi Arap yarımadasında, şehirlerdeki kabile meclisine verilen isim aşağıdakilerden hangisidir?

- A) Mevali B) Bedevi  
C) Hadari D) Mele

4. Arap toplumunda göçebe hayatı yaşayan ve hayvancılıkla uğraşanlara ne ad verildi?

- A) Kıptî B) Bedevî  
C) Hadarî D) Mağribî

5. Aşağıdakilerden hangisi Kâbe'nin isimlerinden biri değildir?

- A) Beytül - Hikme  
B) Beytül - Haram  
C) Beytül - Mamur  
D) Beytül - Atik

6. İslam'a davetin gizli dönemi hangi yıllar arasındadır?

- A) 610-614 B) 613-615  
C) 610-613 D) 613-616

7. Hz. Muhammed'in doğum tarihi aşağıdakilerden hangisidir?

- A) 10 Rebiulahir 570  
B) 12 Rebiülevvel 571  
C) 10 Zilhicce 570  
D) 12 Zilkade 571

8. İslam öncesi Arap toplumunda kabile meclisinin toplandığı yer aşağıdakilerden hangisidir?

- A) Darü'n Nedve  
B) Darü'l Erkam  
C) Zül Mecaz  
D) Hilf

9. Hz. Muhammed aşağıdaki çocuklarının hangisinin ismiyle künyelenmiştir?

- A) Fatma B) Kasım  
C) Abdullah D) İbrahim



## EK SINAV

10. “Ey örtüsüne bürünmüş yatan (Muhammed)! Kalk ve uyar. Rabbini yücelt. Giydiklerini temiz tut. Kötü şeyleri terk et.”  
(Müddessir suresi, 1-5. ayetler)

**Bu ayetlerde peygamberimize verilen görev aşağıdakilerden hangisidir?**

- A) Tefsir (Yorumlama)  
B) Tebyin (Açıklama)  
C) Tebşir (Müjdeleme)  
D) Nübüvvet (Peygamberlik)

11. Hz. Muhammed ile ilgili verilen bilgilerden hangisi yanlıştır?

- A) Amcası Ebu Lehep ile ticari yolculuk yapmıştır.  
B) Kabe hakemliğiyle toplumsal barışa katkı sağlamıştır.  
C) Hz. Hatice'nin vefatına kadar başka biri ile evlenmemiştir.  
D) Kendisine vahiy gelmeden önce de Tevhit inancına sahiptir.

12. Aşağıdakilerden hangisi İlk Müslümanlar arasında sayılmaz?

- A) Hz. Ali  
B) Hz. Hatice  
C) Halid b. Velid  
D) Zeyd b. Harise

13. İslam'ın ilk dönemi ile ilgili aşağıda verilen bilgilerden hangisi yanlıştır?

- A) Haşimoğulları davetin ilk yıllarında Hz. Muhammed'e destek vermeyeceklerini bildirmişlerdir.  
B) Hz. Muhammed Dâr'ül - Erkam'dan Hz. Ömer'in Müslüman olduğu yıl ayrılmıştır.  
C) Hz. Hatice'nin kızları anneleriyle aynı zamanda İslam'ı kabul etmişlerdir.  
D) Müşrikler İslam'ın yayılması üzerine Utbe b. Rebia'yı Hz. Muhammed'e antlaşmak üzere göndermişlerdir.

14. Peygamberimizin eşi Hz. Hatice ile amcası Ebu Talip'in vefat ettiği yıla ne isim verilir?

- A) Ölüm yılı      B) Ayrılık yılı  
C) Hüzün yılı      D) Hicret yılı

15. Habeşistan'a yapılan hicretlere aşağıdaki sahabelerden hangisi katılmamıştır?

- A) Osman b. Affan  
B) Zübeyr b. Avvam  
C) Ali b. Ebi Talib  
D) Cafer b. Ebi Talib

16. Aşağıdaki olaylardan hangisi Hicret'ten sonra gerçekleşmiştir?

- A) Akabe biatları  
B) Hudeybiye antlaşması  
C) Hz. Ömer'in Müslüman olması  
D) Hz. Muhammed'in Taif yolculuğu

17. Hz. Muhammed Taif yolculuğu dönüşünde aşağıdakilerden hangisinin himayesinde Mekke'ye girmiştir?

- A) Mutim b. Adiy  
B) Zeyd b. Harise  
C) Ömer b. Hattab  
D) Hamza b. Abdulmuttalip

18. Hz. Muhamed (sav.) ile ilgili olarak aşağıda verilen bilgilerden hangisi yanlıştır?

- A) Kâbe hakemliği yapmıştır.  
B) Kız çocuklarına değer vermiştir.  
C) Ebu Cehil ile ticari ortaklığı vardır.  
D) Peygamberlik öncesi de güvenilir kişi olarak anılmaktadır.

19. 620 yılında Akabe mevkiinde Hz. Muhammed'le görüşüp İslam'ı kabul eden altı kişilik Medineli grup hangi kabiledendir?

- A) Evs      B) Hazreç  
C) Ben-i Nadir      D) Ben-i Kaynuka

20. Hz. Muhammed (sav.)'in peygamberlik öncesi hayatıyla ilgili aşağıdakilerden hangisi söylenemez?

- A) Yetimleri ve fakirleri gözetirdi.  
B) Ticari hayatı başarı ve güven vericiydi.  
C) İnsan haklarına saygılı birisiydi.  
D) Yaşadığı toplumun ahlakını benimsemişti.

### (932) SİYER – 2

1. Müslümanların Medine'de toplumsal konuları konuşup karara bağladığı yer aşağıdakilerden hangisidir?

- A) Darun Nedve  
B) Daru'l - Erkam  
C) Mescid-i Dirar  
D) Mescid-i Nebevi

2. Namaza çağrının ateş yakarak yapılması teklifi Hz. Muhammed (sav.) tarafından neden reddedilmiştir?

- A) Mecusilere ait bir adet olması  
B) Her zaman ateş yakmanın zorluğu  
C) Hristiyanlara ait bir adet olması  
D) Uyuyan kişilere faydasının olmaması

3. Aşağıdakilerden hangisi Medine Sözleşmesi'nin amaçlarından biri değildir?

- A) İdari birliği sağlamak.  
B) Dini birliği sağlamak.  
C) Toplumsal huzuru sağlamak.  
D) Müslümanların güvenliğini sağlamak.

4. “Eğer siz bir acıya uğradınızsa, o kavim de benzer bir acıya uğramıştır. O günleri biz insanlar arasında döndürür dururuz. Taki Allah, iman edenleri ortaya çıkar-sın ve aranızdan şahitler edinsin. Allah zalimleri sevmez.”  
(Al-i İmrân suresi, 140. ayet)

**Aşağıdakilerden hangisi bu ayetten çıkarılacak sonuçlardan biri değildir?**

- A) İnananların çeşitli olaylarla im-tihan edildiği  
B) Allah'ın Müslümanlara üzüntü yaşatmadığı  
C) Karşılaşılan imtihanların inananları belirlemek için olduğu  
D) Zaferin bazen bir topluma bazen de diğer topluma nasip olduğu

5. Aşağıdaki seferlerden hangisi Gazve ismiyle adlandırılmaz?

- A) Bedir  
B) Hayber  
C) Hendek  
D) Batn-ı Nahle

## EK SINAV

6. Hz. Muhammed (sav.) ile ilgili aşağıda verilen bilgilerden hangisi yanlıştır?

- A) Vefat ettiği yere defnedilmiştir.
- B) Veda haccından yaklaşık üç ay sonra vefat etmiştir.
- C) Kabri Ravza-i Mutahhara olarak adlandırılmıştır.
- D) Cenaze namazını Hz. Ebubekir kıldırılmıştır.

7. Aşağıdakilerden hangisi Uhud Savaşının sonuçlarından değildir?

- A) Medine'deki Müslümanların can güvenliği tehlikeye girmiştir.
- B) Müslümanlardan Musab b. Umeyr ve Hz. Hamza şehit olmuştur.
- C) Müşrikler bir çok esir ve ganimet elde etmiştir.
- D) Bu savaş müşriklerin cesareti- ni artırmıştır.

8. Aşağıdaki ayetlerden hangisi Hz. Muhammed (sav.)'in peygamberlik yönü ile ilgilidir?

- A) "Biz, seni bütün insanlara müjdeleyici ve uyarıcı olarak gönderdik" (Sebe suresi, 28. ayet)
- B) "Sen de öleceksin onlar da ölecekler" (Zümer suresi, 30. ayet)
- C) "O, seni fakir bulup zengin etmedi mi?" (Duha suresi, 8. ayet)
- D) "... De ki; ben de ancak sizin gibi bir insanım..." (Fussilet suresi, 6. ayet)

9. Aşağıdakilerden hangisi Mekke'nin fethinde yaşanan olaylardan değildir?

- A) Şehir savaş yapılmadan alındı.
- B) Hz. Muhammed'in emriyle Kâbe putlardan temizlendi.
- C) Mekke'de ilk ezan Bilal-i Habeşi tarafından okundu.
- D) Mekkeli müşriklerin malları ganimet olarak Müslümanlara dağıtıldı.

10. Aşağıdakilerden hangisi Uhud Savaşı'nın sonuçlarından biri değildir?

- A) Müşriklerden yirmi iki kişi öldü.
- B) Hz. Hamza şehit oldu.
- C) Mekkeli müşriklerin her türlü saldırganlıkları sona erdi.
- D) Medineli Müslümanlar kısa süreli güvenlik tehlikesi atlattı.

11. Hz. Muhammed Mute Savaşı'na gönderdiği birliğin başına ilk komutan olarak aşağıdakilerden hangisini atamıştır?

- A) Halit b. Velid
- B) Cafer b. Ebi Talip
- C) Zeyd b. Harise
- D) Abdullah b. Revaha

12. Aşağıdakilerden hangisi Hz. Muhammed (sav.)'in bizim gibi bir insan olduğuna delil oluşturmaz?

- A) İsmet sıfatına sahip olması
- B) Kıyametin ne zaman kopacağını bilmemesi
- C) Kendi emeği ile rızkını temin etmiş olması
- D) İlahi emirlerden sorumlu tutulması

13. Hz. Muhammed Kur'an-ı Kerim'de "Ümmi" bir peygamber olarak vasıflandırılmıştır. Bununla aşağıdakilerden hangisi anlatılmak istenmiştir?

- A) Okuma - yazma bilmediği
- B) Kendisinin bir beşer olduğu
- C) Son peygamber olduğu
- D) İnsanlar için rahmet olduğu

14. Hz. Muhammed (sav.)'in katıldığı, bir sahabenin komuta ettiği askeri birliklere ne ad verilir?

- A) Mübareze
- B) Müsalaha
- C) Seriyeye
- D) Gazve

15. Hz. Muhammed, Bedir Savaşı öncesi birliklerini düşmana en uzak kuyunun bulunduğu tarafa yerleştirmişti. Sahabeden Hubab b. Münzir ise düşmana en yakın kuyuya yerleşilmesinin daha uygun olacağını söyleyince Hz. Peygamber bu görüşü uygun bularak yerine getirdi. Hz. Peygamber'in bu davranışı aşağıdaki ayetlerden hangisine örnek oluşturur?

- A) "Emrolunduğun gibi dosdoğru ol..." (Hud Suresi, 112. ayet)
- B) "Biz seni müjdeci ve uyarıcı olarak gönderdik." (Furkan Suresi, 56. ayet)
- C) "Onlar emanetlerini ve sözlerini yerine getirirler." (Mü'minun Suresi, 8. ayet)
- D) "Onlar ki sözü dinlerler, sonra da en güzeline uyarlar." (Zümer Suresi, 18. ayet)

16. Peygamberimizin Veda Hutbesi'nde "Ey İnsanlar!" şeklinde hitabı onun hangi yönüne işaret etmektedir?

- A) Adaletine
- B) Evrenselliğine
- C) Hoşgörüsüne
- D) Merhametine

17. Hudeybiye Antlaşması'nın bozulmasına neden olan olay aşağıdakilerden hangisidir?

- A) Gassam Meliki'nin Hz. Muhammed'in gönderdiği elçiyi öldürmesi.
- B) Mekkeli müşriklerin Müslümanlara savaş ilan etmesi.
- C) Bekir kabilesinden bir grubun Huzaalılara saldırıp 23 kişiyi öldürmesi.
- D) Mekkeli müşriklerin, Müslümanların ticaret kervanına el koyması.

18. Peygamberimizin Necranlı Hristiyan heyetinin Mescid-i Nebi'de ibadet etmelerine izin vermesi O'nun hangi yönüne örnek oluşturur?

- A) Sabır
- B) Hoşgörü
- C) Merhamet
- D) Dürüstlük

19. "Senetü'l - Vüfud" kavramıyla İslam tarihinde aşağıdakilerden hangisi kastedilmiştir?

- A) Savaş yılı
- B) Hüzün yılı
- C) Fetihler yılı
- D) Heyetler yılı

20. ... Ne dersiniz? Size şu dağın ardından bir takım atlıların geldiğini haber versem bana inanır mısınız?"

Bu olay Hz. Muhammed (sav.)'in eğitimde kullandığı metotlardan hangisine örnek olur?

- A) Müjdeleyici olmasına
- B) Kolaylaştırıcı olmasına
- C) Tartışarak ikna etmesine
- D) Soru sorarak öğretmesine

(974) GİRİŞİMCİLİK – 1

1. Yokluk hissiyle belirip karşılanma isteği uyandıran, karşılanmadığında sıkıntı veren, karşılandığında tatmin hissi veren ekonomik ve biyolojik olayın karşılığı aşağıdakilerden hangisidir?

- A) Üretim B) Tüketim  
C) İhtiyaç D) Emek

2. Müteşebbis ile ilgili verilen bilgilerden hangisi yanlıştır?

- A) Kâr amacı güder.  
B) Örgütsel birimler oluşturur.  
C) Mal ve hizmet üretimi yapar.  
D) Doğabilecek risklerden uzak durur.

3. Aşağıdakilerden hangisi müteşebbislerin teminat altına alınmış haklarından biri değildir?

- A) İsteddiği kâr elde etme hakkı  
B) Sözleşme yapma hakkı  
C) Meslek seçme hakkı  
D) Mülkiyet hakkı

4. Aşağıdakilerden hangisi müteşebbisliğin en önemli özelliklerinden birisidir?

- A) Uyumluluk  
B) Kararlılık  
C) İş bitiricilik  
D) İnisiyatif kullanma

5. Bir işletmenin kuruluş sürecinde, projenin niteliğine göre kuruluş ve konum yeri durumu, fabrika binası, üretim teçhizatı, güvenlik araştırması, doğal afet ve çevre kirliliği gibi konularda yapılan araştırma türü aşağıdakilerden hangisidir?

- A) Ekonomik araştırma  
B) Teknik araştırma  
C) Mali araştırma  
D) Yasal araştırma

6. Yapılan ekonomik, teknik ve mali araştırmalar kapsamlı bir şekilde gözden geçirildikten sonra, işletmenin yasal biçimi, teknik nitelikleri, kapasitesi, ürün ve miktarları ile ilgili kesin planların yapılması işletme kurma sürecinin hangi aşamasını gösterir?

- A) Yatırım kararı verme  
B) Deneme üretimi  
C) Yatırım projesi  
D) Ön proje

7. İhtiyaçlar hiyerarşisine göre insanın fizyolojik ihtiyaçlarından sonra ortaya çıkan ihtiyacı aşağıdakilerden hangisidir?

- A) Güvenlik ihtiyacı  
B) Saygı ihtiyacı  
C) Başarma ihtiyacı  
D) Sevgi ve ait olma ihtiyacı

8. Üretim yönetimi dönüşüm sürecinde aşağıdakilerden hangisi çıktı olarak kabul edilir?

- A) Emek B) Sermaye  
C) Girişimci D) Hizmetler

9. Üretim sırasında doğrudan kullanılmayan mallara ne denir?

- A) Yardımcı araçlar  
B) İşletme gereçleri  
C) Yatırım donatım malları  
D) Üretim gereçleri ve parçaları

10. Üretici ya da satıcıların belli bir zaman aralığında ve bir fiyat karşılığı piyasaya sürdükleri mal ve hizmet miktarına ne denir?

- A) Arz B) Talep  
C) Emek D) Fayda

11. Aşağıdakilerden hangisi talebin özelliklerinden biri değildir?

- A) Satın alma gücü  
B) Piyasanın olması  
C) Satın alma isteğinin var olması  
D) Geniş bir zaman dönemini kapsamaması

12. Aşağıda verilenlerden hangisi işletmenin özel amaçlarından?

- A) Kâr sağlamak  
B) Topluma hizmet etmek  
C) İşletmenin yaşamını devam ettirmek  
D) Mal ve hizmetlerin kalitesini sürekli arttırmak

13. Aşağıdakilerden hangisi planlamada uyulacak kural olarak görülmez?

- A) Uygun bir süreyi kapsamalıdır.  
B) Kesin uygulanabilir olmalıdır.  
C) Basit ve anlaşılır olmalıdır.  
D) Dengeli olmalıdır.

14. Etkili denetimin ilkelerine aykırı bir açıklama hangi seçenekte verilmiştir?

- A) Denetleme gizli olmalıdır.  
B) Denetleme esnek olmalıdır.  
C) Denetleme şekli işletmeye uygun olmalıdır.  
D) Denetlenme standartları önceden belirlenmelidir.

15. Aşağıdakilerden hangisi bir işletmenin şirket olma şartlarına uygun değildir?

- A) Ortak bir amaç olmalıdır.  
B) Ortaklar arası bir anlaşma olmalıdır.  
C) Şirket kuranların sayısı en az bir olmalıdır.  
D) Ortak üretim elemanlarına sahip olmalıdır.

16. Limitet şirketler en az kaç ortak tarafından kurulabilir?

- A) 2 B) 5 C) 7 D) 10

17. Aşağıdakilerden hangisi İktisadi Devlet Teşekkülü değildir?

- A) Boru Hatları ile Petrol Taşıma AŞ  
B) Türkiye Kömür İşletmeleri  
C) Devlet Malzeme Ofisi  
D) Türkiye Cumhuriyeti Devlet Demiryolları

## EK SINAV

18. Bir işletmenin diğer işletmeye ait hisse senetlerini satın alarak o işletmenin hukuki varlığına son vermesiyle sağladığı tam birleşmeye ne ad verilir?

- A) Füzyon B) Merger  
C) Kornerler D) Konsernler

19. Seçici talebi yaratmaya yönelik bir reklam, aşağıda verilen reklam çeşitlerinden hangisi açısından değerlendirilmelidir?

- A) Reklam içeriği açısından  
B) Hedef kitle açısından  
C) Amaçlar açısından  
D) Yapanlar açısından

20. Satış sürecinin sunuş aşamasıyla ilgili verilen bilgilerden hangisi yanlıştır?

- A) Dikkat çekme  
B) İlginin isteğe dönüşmesi  
C) İsteğin arza dönüşmesi  
D) Satışın gerçekleştirilmesi

### (975) GİRİŞİMCİLİK – 2

1. Aşağıda verilen etmenlerden hangisi bir işletmenin dış çevresinde yer alır?

- A) İş gücü B) Personel  
C) Üretim D) Finans

2. Ön proje çalışmasına yönelik yapılan açıklamalardan hangisi doğrudur?

- A) Kesin yatırım kararı alındıktan sonra yapılır.  
B) Kesin proje, ön projenin minyatürüdür.  
C) Yatırıma yönelik kesin bilgiler elde edilir.  
D) Düşük bir maliyetle yatırım verimliliği test edilir.

3. Bir işletme kurma sürecinde, kesin proje aşamasından sonra hangi aşamaya geçilmelidir?

- A) Yatırım kararı verme  
B) Deneme üretimi  
C) Açılış ve üretim  
D) Ön araştırmalar

4. Aşağıdakilerden hangisi günümüzde müteşebbisliğin çok önemli bir konuma sahip olmasının nedenlerinden biri olarak gösterilemez?

- A) İthalatın artmasını sağlar.  
B) Kamu hizmetlerinin kalitesini artırır.  
C) Vergi gelirlerinin artmasını sağlar.  
D) Alt yapı hizmetlerinin giderilmesini sağlar.

5. Aşağıdakilerden hangisi bir işletmenin kuruluş yeri etmenlerinden birisi olarak düşünülemez?

- A) Sermaye faizi  
B) Askeri tehlike  
C) Personel giderleri  
D) Sosyal kültürel şartlar

6. Maslow'un ihtiyaçlar hiyerarşisine göre, bir insanın saygı ihtiyaçlarından sonra ortaya çıkacak ihtiyaçları aşağıdakilerden hangisidir?

- A) Fizyolojik  
B) Başarma  
C) Güvenlik  
D) Sevgi ve ait olma

7. Üretim yöntemi dönüşüm sürecinde aşağıdakilerden hangisi girdi olarak kabul edilmez?

- A) Mallar B) Emek  
C) Sermaye D) Girişimci

8. Mal ve hizmet elde etmek için kullanılan yöntemlerin tümüne ne ad verilir?

- A) Sermaye  
B) Emek  
C) Doğal kaynak  
D) Teknoloji

9. Çelik üretiminde kullanılan pik demir, hangi tür üretim mallarındandır?

- A) Hammaddeler  
B) Yatırım donatım malları  
C) Üretim gereçleri ve malları  
D) Yardımcı araçlar

10. Aşağıdakilerden hangisi, bir ürünün yaşam eğrisi dönemine ait değildir?

- A) Gerileme  
B) Tanıma süreci  
C) Üretilme süreci  
D) Doygunluk dönemi

11. Bir kişinin araba satın alması aşağıdakilerden hangisine örnek teşkil eder?

- A) Arz B) Talep  
C) İstek D) Piyasa

12. Verilen açıklamalardan hangisi işletmenin özel amaçlarından birisidir?

- A) Kâr sağlamak  
B) Topluma hizmet etmek  
C) İşletmenin yaşamını devam ettirmek  
D) Tüketicide iyi izlenim bırakmak

13. Aşağıdaki açıklamalardan hangisi, işletme yönetiminde başarılı bir yöneticinin "Harekete Geçiricilik" niteliğini göstermektedir?

- A) Kişilere karşı güvenini gösterme  
B) Kişisel güveni ifade etme  
C) Tutarlı davranışlar gösterme  
D) Görüşlerini rahatça ifade edebilme

14. Aşağıdakilerden hangisi karar vermenin özelliklerine uygun bir açıklama değildir?

- A) Karar verme bir planın yapılmasıdır.  
B) Karar verme süreci geleceğe yöneliktir.  
C) Karar süreci rasyonelliğe dayanır.  
D) Karar verme sorun çözme sürecidir.

15. Çevre ile ilgili kalite belgesi aşağıdakilerden hangisidir?

- A) ISO 8000 B) ISO 9000  
C) ISO 14000 D) ISO 22000

## EK SINAV

16. "Sermaye Paylara Bölünmüş Komandit Şirketler", özel işletmelere göre aşağıda yapılan sınıflamalardan hangisinin kapsamına girmektedir?

- A) Ortaklıklar
- B) Kooperatifler
- C) Tek Kişi İşletmeleri
- D) Dernek ve Vakıfların İktisadi İşletmeleri

17. Aşağıdakilerden hangisi kamu iktisadi kuruluşlarından birisidir?

- A) Türkiye Kömür İşletmeleri
- B) Devlet Malzeme Ofisi
- C) Toprak Mahsulleri Ofisi
- D) Posta ve Telgraf Teşkilatı Genel Müdürlüğü

18. Bir şirketin diğer işletmelere ait hisse senetlerine sahip olması yolu ile onları finansal ve yönetim olarak kontrolüne alma biçimine ne ad verilir?

- A) Tröst
- B) Holding
- C) Kartel
- D) Konsorsiyum

19. Satışın temel ilkelerine aykırı bir açıklama hangi seçenekte verilmiştir?

- A) Pazar şartları bilinmelidir.
- B) Satış için tüm çabalar sarf edilmelidir.
- C) Satış, satıcıya göre düzenlenmelidir.
- D) Pazarlama elemanlarına uygun şartlar yaratılmalıdır.

20. "Hizmet işletmesi reklamı" hangi reklam çeşidi kapsamında değerlendirilmelidir?

- A) Reklam içeriği açısından
- B) Hedef kitle açısından
- C) Amaçlar açısından
- D) Yapanlar açısından

### (998) MATEMATİK – 1

1.  $A = \{x | x < 5, x \in \mathbb{N}\}$  kümesinin eleman sayısı kaçtır?

- A) 4
- B) 5
- C) 6
- D) 7

2.  $M = \{a, b, c, d, e, f\}$  kümesinin 4 elemanlı alt kümelerinin sayısı kaçtır?

- A) 10
- B) 15
- C) 20
- D) 30

3. İngilizce ve Almanca dillerinden en az birini bilen 45 kişilik turist kafilesinde 28 kişi İngilizce, 25 kişi Almanca bilmektedir. Bu turist kafilesinde yalnız İngilizce bilen kaç kişi vardır?

- A) 10
- B) 17
- C) 18
- D) 20

4. A ve B kümeleri için,  $s(A \cup B) = 25$ ,  $s(A) = 17$  ve  $s(B) = 13$  olduğuna göre,  $s(A \cap B)$  kaçtır?

- A) 5
- B) 6
- C) 7
- D) 8

5.  $(2x, 0) = (x - 3, y + 1)$  olduğuna göre,  $x \cdot y$  kaçtır?

- A) -21
- B) -7
- C) 3
- D) 15

6.  $A = \{1, 2, 3, 4\}$  ve  $B = \{a, b, c, d, e\}$  kümeleri için  $s(A \times B)$  kaçtır?

- A) 9
- B) 16
- C) 20
- D) 25

7.  $|3| + |-8| + |-2|$  işleminin sonucu kaçtır?

- A) -7
- B) -3
- C) 9
- D) 13

8.  $|x + 3| \leq 2$  eşitsizliğini sağlayan x tam sayılarının toplamı kaçtır?

- A) -15
- B) -14
- C) -10
- D) -9

9.  $\frac{5 \cdot 5 \cdot 5 \cdot 5 \cdot 5}{5^2 + 5^2 + 5^2 + 5^2 + 5^2}$  işleminin sonucu kaçtır?

- A) 1
- B) 5
- C) 25
- D) 125

10.  $(-16)^2 \cdot (-2)^{-3}$  işleminin sonucu aşağıdakilerden hangisidir?

- A)  $-2^5$
- B)  $-2^2$
- C)  $2^6$
- D)  $2^{11}$

11.  $\sqrt{2 + \frac{1}{4}}$  işleminin sonucu kaçtır?

- A)  $\frac{1}{2}$
- B)  $\frac{3}{2}$
- C)  $\frac{5}{2}$
- D)  $\frac{7}{2}$

12.  $\sqrt{(-3)^2} + \sqrt{36} + \sqrt[3]{(-5)^3}$  işleminin sonucu kaçtır?

- A) -8
- B) -2
- C) 3
- D) 4

13.  $3(x - 1) + 2(x + 1) = 6x - 4$  denkleminin gerçek sayılar kümesindeki çözüm kümesi aşağıdakilerden hangisidir?

- A)  $\{-4\}$
- B)  $\{-3\}$
- C)  $\{3\}$
- D)  $\{4\}$

14.  $\frac{3}{4} = \frac{x}{20}$  orantısında x kaçtır?

- A) 9
- B) 15
- C) 25
- D) 27

15.  $\begin{cases} 2x + y = 15 \\ x - y = 3 \end{cases}$  denkleminin çözüm kümesi aşağıdakilerden hangisidir?

- A)  $\{(6, 3)\}$
- B)  $\{(4, 7)\}$
- C)  $\{(3, 0)\}$
- D)  $\{(0, 6)\}$

16. Bir otobüsteki yolcuların  $\frac{2}{5}$ 'si kadındır. Otobüse 7 kadın yolcu binip, otobüsten 2 erkek yolcu indiğinde otobüsteki erkeklerin sayısı kadınların sayısına eşit olduğuna göre, ilk durumda otobüsteki yolcu sayısı kaçtır?

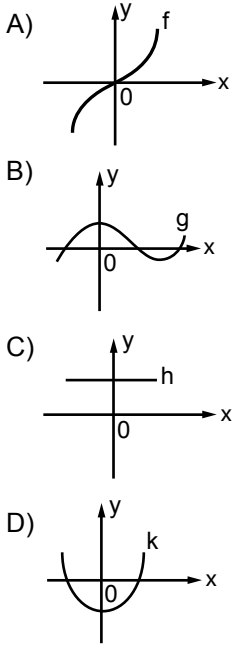
- A) 55
- B) 50
- C) 45
- D) 40

17. %20'si şeker olan 40 gram şekerli suya, 40 gram şeker karıştırılırsa karışımdaki şeker yüzdesi kaç olur?

- A) 50
- B) 60
- C) 70
- D) 80

## EK SINAV

18. Aşağıdaki grafiklerden hangisi gerçel sayılarda tanımlı bire bir fonksiyon grafiğidir?



19.  $f: \mathbb{R} \rightarrow \mathbb{R}$ ,  
 $f(x) = x^2 - 1$  fonksiyonunda  
 $f(-2) + f(0)$  kaçtır?

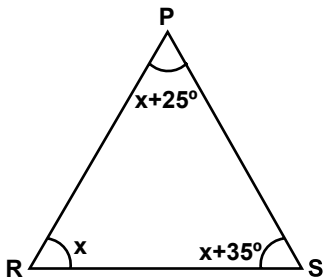
- A) -6 B) -5  
 C) 3 D) 2

20.  $f: \mathbb{R} \rightarrow \mathbb{R}$ ,  
 $f(x) = (3+a)x^2 + (2-b)x + a + 2b$   
 fonksiyonu sabit fonksiyon  
 olduğuna göre,  $f(2015)$  kaçtır?

- A) -2 B) -1 C) 0 D) 1

### (999) MATEMATİK - 2

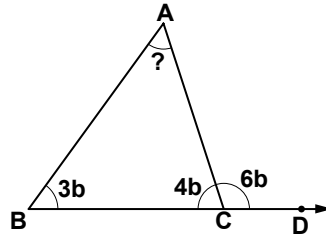
1.



Şekilde PRS üçgeninde  
 $m(\widehat{PRS}) = x$ ,  $m(\widehat{RSP}) = x + 35^\circ$   
 ve  $m(\widehat{SPR}) = x + 25^\circ$  olduğuna  
 göre,  $x$  kaç derecedir?

- A) 25 B) 35 C) 40 D) 50

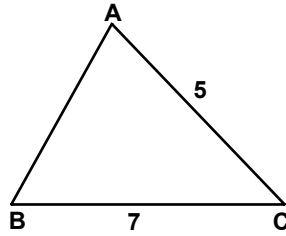
2.



Şekilde B, C, D noktaları doğru-  
 sal, ABC üçgen,  $m(\widehat{ABC}) = 3b$ ,  
 $m(\widehat{BCA}) = 4b$  ve  $m(\widehat{ACD}) = 6b$   
 olduğuna göre,  $m(\widehat{BAC})$  kaç  
 derecedir?

- A) 54 B) 60 C) 64 D) 72

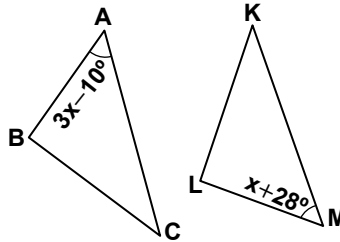
3.



Şekildeki  $\widehat{ABC}$ 'nde  $|AC| = 5$  cm  
 ve  $|BC| = 7$  cm olduğuna göre,  
 $|AB|$ 'nin santimetre cinsinden  
 alabileceği en büyük ve en küçük  
 tam sayı değerlerinin toplamı  
 kaçtır?

- A) 11 B) 12 C) 13 D) 14

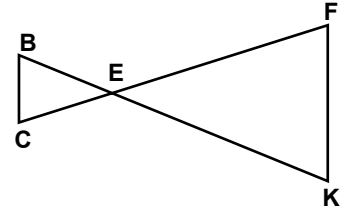
4.



Şekildeki ABC ve KLM üç-  
 genleri için  $\widehat{ABC} \cong \widehat{MLK}$ ,  
 $m(\widehat{BAC}) = 3x - 10^\circ$  ve  
 $m(\widehat{LMK}) = x + 28^\circ$  olduğuna  
 göre,  $x$  kaç derecedir?

- A) 9 B) 15 C) 19 D) 23

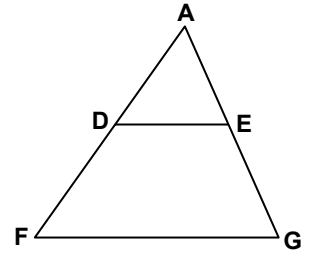
5.



Şekilde  $\widehat{BEC} \sim \widehat{KEF}$  olduğuna  
 göre, aşağıdaki orantılardan  
 hangisi doğrudur?

- A)  $\frac{|BE|}{|EF|} = \frac{|BC|}{|KE|}$   
 B)  $\frac{|EC|}{|EF|} = \frac{|KF|}{|BC|}$   
 C)  $\frac{|CB|}{|EK|} = \frac{|CE|}{|EB|}$   
 D)  $\frac{|BC|}{|KF|} = \frac{|BE|}{|KE|}$

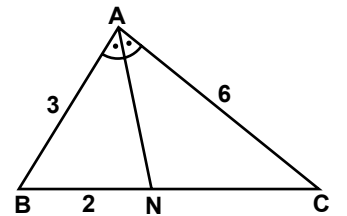
6.



Şekildeki AFG üçgeninde,  
 $[DE] \parallel [FG]$ ,  $\frac{|AD|}{|DF|} = \frac{2}{3}$  ve  
 $|DE| = 10$  cm olduğuna göre,  
 $|FG|$  kaç santimetredir?

- A) 18 B) 21 C) 24 D) 25

7.

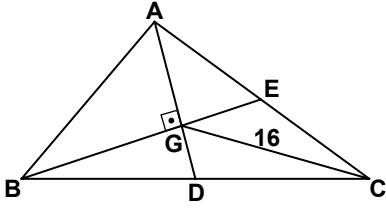


Şekildeki  $\widehat{ABC}$ 'nde;  
 $[AN]$ ,  $\widehat{BAC}$ 'nin açıortayıdır.  
 $|AB| = 3$  cm,  $|AC| = 6$  cm ve  
 $|BN| = 2$  cm olduğuna göre,  
 $|AN|$  kaç santimetredir?

- A)  $\sqrt{10}$  B)  $2\sqrt{3}$   
 C)  $\sqrt{14}$  D)  $3\sqrt{2}$

# EK SINAV

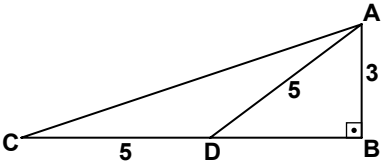
8.



Şekildeki ABC üçgeninde,  $[AD]$ ,  $[BE]$  kenarortay ve  $[AG] \perp [BG]$ 'tir.  $|GC| = 16$  cm olduğuna göre,  $|AB|$  kaç santimetredir?

- A) 8 B) 12 C) 14 D) 16

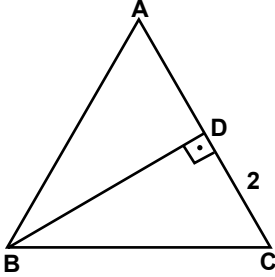
9.



Şekildeki ABC üçgeninde,  $[AB] \perp [BC]$ 'tir.  $|AB| = 3$  cm,  $|AD| = 5$  cm ve  $|CD| = 5$  cm olduğuna göre,  $|AC|$  kaç santimetredir?

- A)  $3\sqrt{10}$  B)  $5\sqrt{2}$   
C)  $3\sqrt{5}$  D)  $2\sqrt{5}$

10.



Şekildeki  $\widehat{ABC}$  eşkenar üçgen ve  $|DC| = 2$  cm olduğuna göre,  $|DB|$  kaç santimetredir?

- A)  $\frac{2\sqrt{3}}{3}$  B)  $2\sqrt{3}$   
C)  $3\sqrt{2}$  D) 4

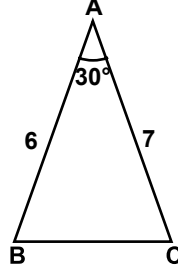
11.  $\cos 210^\circ$ ,  $\sin 155^\circ$ ,  $\tan 310^\circ$  ve  $\cot 70^\circ$  değerlerinin işaretleri sırasıyla aşağıdakilerden hangisinde verilmiştir?

- A) +, +, -, + B) +, -, +, -  
C) -, -, +, - D) -, +, -, +

12.  $0^\circ < \alpha < 90^\circ$  olmak üzere,  $\sin \alpha = \frac{2}{\sqrt{13}}$  ise  $\tan \alpha$  kaçtır?

- A)  $\frac{\sqrt{13}}{2}$  B)  $\frac{2}{3}$   
C)  $\frac{3}{2}$  D)  $\frac{\sqrt{13}}{3}$

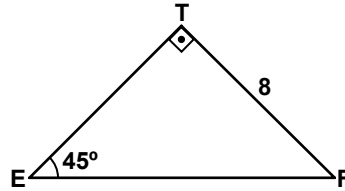
13.



Şekildeki  $\widehat{ABC}$ 'nde  $m(\widehat{BAC}) = 30^\circ$ ,  $|AB| = 6$  cm ve  $|AC| = 7$  cm olduğuna göre,  $A(\widehat{ABC})$  kaç santimetrekaredir?

- A)  $\frac{21}{4}$  B) 7  
C)  $\frac{21}{2}$  D) 21

14.



Şekildeki EFT üçgeninde  $[ET] \perp [TF]$ ,  $m(\widehat{TEF}) = 45^\circ$  ve  $|TF| = 8$  cm olduğuna göre,  $|EF|$  kaç santimetredir?

- A)  $8\sqrt{2}$  B) 8  
C)  $4\sqrt{2}$  D) 4

15. Kenar uzunlukları 5 cm, 7 cm ve 8 cm olan üçgenin alanı kaç santimetrekaredir?

- A)  $7\sqrt{5}$  B)  $8\sqrt{3}$   
C)  $10\sqrt{3}$  D)  $10\sqrt{5}$

16. K(-8) ve L(4) noktaları veriliyor. Buna göre,  $|KL|$  kaç birimdir?

- A) 12 B) 10 C) 8 D) 4

17. A, B, D, E noktaları aynı düzlemde bulunan farklı noktalardır. Buna göre,  $\overrightarrow{AB} + \overrightarrow{BD} + \overrightarrow{DE}$  aşağıdaki vektörlerden hangisine eşittir?

- A)  $\overrightarrow{BE}$  B)  $\overrightarrow{AE}$   
C)  $\overrightarrow{AD}$  D)  $\overrightarrow{ED}$

18. Üç sayının aritmetik ortalaması 30'dur. Bu sayılardan ilk ikisinin aritmetik ortalaması 40 olduğuna göre, üçüncü sayı kaçtır?

- A) 10 B) 20 C) 30 D) 40

19. Bir zar art arda 2 defa atılıyor. Zarın birinci atışta tek sayı ve ikinci atışta çift sayı gelme olasılığı nedir?

- A) 1 B)  $\frac{1}{2}$  C)  $\frac{1}{3}$  D)  $\frac{1}{4}$

20. 3, 2, 2, 4, 4, 3, 2, 1, 3, 2 veri grubunun tepe değeri kaçtır?

- A) 1 B) 2 C) 3 D) 4

TEST BİTTİ.  
CEVAPLARINIZI KONTROL  
EDİNİZ.

### ADAYLARIN DİKKATİNE!

1. Her ders için **20** soru bulunmaktadır. Bu oturumda **150** dakikalık cevaplama süreniz vardır. Sınav başladıktan sonra ilk **30** dakika dolmadan dışarı çıkmayınız.
2. Sınav sırasında sözlük, hesap cetveli veya makinesi, çağrı cihazı, cep telefonu, telsiz, radyo gibi elektronik iletişim araçlarını yanınızda bulundurmayınız. Bu araçları kullanmanız ve kopya çekmeye teşebbüs etmeniz hâlinde sınavınız geçersiz sayılacaktır.
3. Başvuru şartlarını taşımadığınız hâlde sınava girmeniz, kopya çekmeniz, başka adayın sınav evrakını kullanmanız, geçerli kimlik belgenizi ve sınav giriş belgenizi ibraz edemediğiniz durumlarda sınavınız geçersiz sayılacaktır.
4. Sınavın değerlendirilmesi aşamasında, bilgisayar ortamında yapılan kopya analizinde ikili veya toplu kopya tespiti hâlinde sınavınız geçersiz sayılacaktır.

### CEVAP KÂĞIDI VE SORU KİTAPÇIĞI İLE İLGİLİ AÇIKLAMALAR

1. Cevap kâğıdınızdaki bilgilerin doğruluğunu kontrol ediniz ve cevap kâğıdınızı mürekkepli kalemle imzalayınız.
2. Cevap kâğıdı üzerinde kodlamalarınızı kurşun kalemle yapınız.
3. Değiştirmek istediğiniz bir cevabı, yumuşak silgiyle cevap kâğıdını örselemeden temizce siliniz ve yeni cevabınızı kodlayınız.
4. Soru kitapçığının sayfalarını kontrol ediniz, baskı hatası var ise değiştirilmesini sağlayınız.
5. Soruların çözümü için size ayrıca boş kâğıt verilmeyecektir. Soru kitapçığının içindeki boş alanları soru çözümleri için kullanabilirsiniz.
6. Her sorunun dört seçeneğinden sadece biri doğrudur. Doğru seçeneği, cevap kâğıdınızın ilgili sütununa soru numarasını dikkate alarak yuvarlağın dışına taşırmadan kodlayınız. **Soru kitapçığı üzerinde yapılan cevaplandırmalar dikkate alınmayacaktır.**
7. Cevaplamaya istediğiniz dersin sorusundan başlayabilirsiniz. Cevabını bilmediğiniz sorular üzerinde fazla zaman kaybetmeden diğer sorulara geçiniz. Zamanınız kalırsa bu sorulara daha sonra dönebilirsiniz.
8. Yanlış cevaplarınız dikkate alınmadan sadece doğru cevaplarınız üzerinden puanlama yapılacaktır.
9. Soruları ve sorulara verdiğiniz cevapları, yanınızda götürmek amacıyla kaydetmeyiniz; hiçbir şekilde dışarı çıkarmayınız.
10. **Sınav bitiminde, soru kitapçığı ve cevap kâğıdını salon görevlilerine teslim ediniz.**

### SINAV SÜRESİNCE UYULACAK KURALLAR

1. **Adaylar, sınav kurallarına ve salon görevlilerinin tüm uyarılarına uymak zorundadırlar. Kural-lara ve uyarılara uymayan adayların sınavları geçersiz sayılacaktır.**
2. Sınav başladıktan sonra adayların salon görevlileri ve birbirleri ile konuşmaları, kalem, silgi vb. şeyleri istemeleri yasaktır.
3. Adaylar sınav süresince, sınav giriş belgesi ile birlikte kimlik belgelerinden birini (nüfus cüzdanı, pasaport veya sürücü belgesi) masalarının üzerinde bulundurmamak zorundadırlar.

### SALON GÖREVLİLERİNCE SINAV BAŞLAMADAN ÖNCE ADAYLARA YAPILACAK SON UYARI

- Soracağınız bir şey var mı? Varsa şimdi sorunuz.
- Sınav başladıktan sonra sorularınıza cevap verilmeyecektir.
- Başlama zilini bekleyiniz.
- Hepinize başarılar dileriz.

(Salon başkanı başlama ve bitiş saatini tahtaya yazacaktır.)

Bu kitapçığın her hakkı saklıdır. Hangi amaçla olursa olsun, kitapçığın tamamının veya bir kısmının Millî Eğitim Bakanlığı Ölçme, Değerlendirme ve Sınav Hizmetleri Genel Müdürlüğünün yazılı izni olmadan kopya edilmesi, fotoğraflarının çekilmesi, bilgisayar ortamına alınması, herhangi bir yolla çoğaltılması, yayımlanması veya başka bir amaçla kullanılması yasaktır. Bu yasağa uymayanlar, doğabilecek cezai sorumluluğu ve kitapçığın hazırlanmasındaki mali külfeti peşinen kabullenmiş sayılır.



**11 EKİM 2015 TARİHİNDE YAPILAN AÇIKÖĞRETİM LİSESİ / MESLEKİ AÇIKÖĞRETİM LİSESİ  
2014-2015 ÖĞRETİM YILI EK SINAV KİTAPÇIĞI CEVAP ANAHTARI**

|   |   |   |   |
|---|---|---|---|
| <b>DİN KÜL. AHLAK BİL. – 1</b>  | <b>DİN KÜL. AHLAK BİL. – 3</b>  | <b>DİN KÜL. AHLAK BİL. – 5</b>  | <b>DİN KÜL. AHLAK BİL. –7</b>   |
| 1. A<br>2. D<br>3. B<br>4. C<br>5. D<br>6. C<br>7. C<br>8. A<br>9. D<br>10. D<br>11. A<br>12. C<br>13. D<br>14. D<br>15. B<br>16. B<br>17. A<br>18. B<br>19. A<br>20. D | 1. A<br>2. B<br>3. C<br>4. D<br>5. D<br>6. C<br>7. D<br>8. D<br>9. C<br>10. B<br>11. C<br>12. A<br>13. B<br>14. D<br>15. C<br>16. C<br>17. A<br>18. A<br>19. C<br>20. B | 1. B<br>2. A<br>3. C<br>4. C<br>5. D<br>6. C<br>7. D<br>8. B<br>9. B<br>10. C<br>11. D<br>12. A<br>13. C<br>14. B<br>15. B<br>16. A<br>17. D<br>18. D<br>19. A<br>20. D | 1. B<br>2. C<br>3. B<br>4. D<br>5. A<br>6. C<br>7. D<br>8. A<br>9. A<br>10. B<br>11. D<br>12. C<br>13. C<br>14. A<br>15. B<br>16. B<br>17. A<br>18. D<br>19. B<br>20. A |
| <b>DİN KÜL. AHLAK BİL. – 2</b>  | <b>DİN KÜL. AHLAK BİL. – 4</b>  | <b>DİN KÜL. AHLAK BİL. – 6</b>  | <b>DİN KÜL. AHLAK BİL. – 8</b>  |
| 1. B<br>2. C<br>3. C<br>4. D<br>5. C<br>6. D<br>7. B<br>8. D<br>9. A<br>10. A<br>11. B<br>12. D<br>13. B<br>14. A<br>15. D<br>16. B<br>17. A<br>18. A<br>19. C<br>20. B | 1. A<br>2. A<br>3. D<br>4. C<br>5. D<br>6. A<br>7. A<br>8. D<br>9. B<br>10. D<br>11. D<br>12. A<br>13. B<br>14. B<br>15. C<br>16. A<br>17. D<br>18. C<br>19. B<br>20. C | 1. A<br>2. D<br>3. C<br>4. B<br>5. D<br>6. B<br>7. A<br>8. A<br>9. D<br>10. A<br>11. C<br>12. D<br>13. D<br>14. C<br>15. B<br>16. A<br>17. D<br>18. D<br>19. A<br>20. C | 1. B<br>2. B<br>3. A<br>4. C<br>5. D<br>6. D<br>7. A<br>8. A<br>9. C<br>10. A<br>11. B<br>12. B<br>13. D<br>14. B<br>15. C<br>16. B<br>17. C<br>18. C<br>19. A<br>20. A |

**11 EKİM 2015 TARİHİNDE YAPILAN AÇIKÖĞRETİM LİSESİ / MESLEKİ AÇIKÖĞRETİM LİSESİ  
2014-2015 ÖĞRETİM YILI EK SINAV KİTAPÇIĞI CEVAP ANAHTARI**

| FELSEFE – 1   | SEÇMELİ FELSEFE – 1   | TARİH – 1   | TARİH – 3   |
|---|---|---|---|
| 1. B<br>2. A<br>3. D<br>4. A<br>5. C<br>6. C<br>7. D<br>8. D<br>9. B<br>10. C<br>11. B<br>12. B<br>13. C<br>14. A<br>15. D<br>16. B<br>17. D<br>18. C<br>19. A<br>20. B | 1. D<br>2. B<br>3. A<br>4. B<br>5. C<br>6. A<br>7. D<br>8. C<br>9. C<br>10. B<br>11. D<br>12. B<br>13. D<br>14. A<br>15. C<br>16. D<br>17. B<br>18. C<br>19. A<br>20. B | 1. A<br>2. C<br>3. B<br>4. C<br>5. D<br>6. C<br>7. A<br>8. D<br>9. B<br>10. A<br>11. A<br>12. D<br>13. B<br>14. A<br>15. C<br>16. D<br>17. C<br>18. A<br>19. C<br>20. B | 1. C<br>2. D<br>3. D<br>4. B<br>5. A<br>6. C<br>7. A<br>8. C<br>9. B<br>10. D<br>11. B<br>12. A<br>13. D<br>14. A<br>15. A<br>16. D<br>17. A<br>18. B<br>19. A<br>20. C |
| FELSEFE – 2   | SEÇMELİ FELSEFE – 2   | TARİH – 2   | TARİH – 4   |
| 1. C<br>2. A<br>3. A<br>4. B<br>5. A<br>6. D<br>7. B<br>8. A<br>9. C<br>10. C<br>11. B<br>12. A<br>13. D<br>14. D<br>15. B<br>16. C<br>17. D<br>18. C<br>19. B<br>20. D | 1. B<br>2. A<br>3. C<br>4. D<br>5. C<br>6. A<br>7. B<br>8. B<br>9. D<br>10. D<br>11. C<br>12. B<br>13. C<br>14. B<br>15. B<br>16. D<br>17. A<br>18. C<br>19. D<br>20. A | 1. B<br>2. A<br>3. D<br>4. D<br>5. C<br>6. A<br>7. C<br>8. D<br>9. C<br>10. D<br>11. B<br>12. B<br>13. A<br>14. D<br>15. C<br>16. C<br>17. B<br>18. A<br>19. B<br>20. C | 1. C<br>2. A<br>3. D<br>4. D<br>5. B<br>6. D<br>7. A<br>8. A<br>9. B<br>10. D<br>11. C<br>12. A<br>13. D<br>14. B<br>15. B<br>16. C<br>17. A<br>18. D<br>19. C<br>20. C |

**11 EKİM 2015 TARİHİNDE YAPILAN AÇIKÖĞRETİM LİSESİ / MESLEKİ AÇIKÖĞRETİM LİSESİ**  
**2014-2015 ÖĞRETİM YILI EK SINAV KİTAPÇIĞI CEVAP ANAHTARI**

| TARİH – 5   | T.C. İNK. TAR. ATATÜRK. – 1   | COĞRAFYA – 1  | COĞRAFYA – 3  |
|---|---|---|---|
| 1. B<br>2. A<br>3. A<br>4. C<br>5. D<br>6. C<br>7. B<br>8. A<br>9. A<br>10. D<br>11. C<br>12. B<br>13. A<br>14. B<br>15. D<br>16. B<br>17. A<br>18. B<br>19. C<br>20. D | 1. B<br>2. C<br>3. A<br>4. D<br>5. D<br>6. B<br>7. D<br>8. A<br>9. A<br>10. C<br>11. B<br>12. C<br>13. A<br>14. C<br>15. B<br>16. A<br>17. C<br>18. B<br>19. D<br>20. C | 1. D<br>2. C<br>3. B<br>4. A<br>5. A<br>6. C<br>7. D<br>8. D<br>9. A<br>10. C<br>11. A<br>12. B<br>13. C<br>14. B<br>15. D<br>16. A<br>17. C<br>18. B<br>19. D<br>20. A | 1. A<br>2. A<br>3. D<br>4. A<br>5. C<br>6. C<br>7. B<br>8. D<br>9. A<br>10. D<br>11. C<br>12. D<br>13. B<br>14. C<br>15. B<br>16. B<br>17. A<br>18. D<br>19. B<br>20. A |
| TARİH – 6   | T.C. İNK. TAR. ATATÜRK. – 2   | COĞRAFYA – 2  | COĞRAFYA – 4  |
| 1. C<br>2. A<br>3. D<br>4. D<br>5. B<br>6. A<br>7. B<br>8. C<br>9. D<br>10. D<br>11. A<br>12. C<br>13. B<br>14. C<br>15. D<br>16. B<br>17. D<br>18. C<br>19. D<br>20. C | 1. A<br>2. C<br>3. B<br>4. B<br>5. A<br>6. A<br>7. D<br>8. B<br>9. A<br>10. C<br>11. D<br>12. D<br>13. C<br>14. C<br>15. D<br>16. D<br>17. B<br>18. A<br>19. A<br>20. C | 1. C<br>2. B<br>3. C<br>4. B<br>5. A<br>6. D<br>7. B<br>8. C<br>9. D<br>10. C<br>11. D<br>12. C<br>13. B<br>14. A<br>15. C<br>16. B<br>17. A<br>18. D<br>19. A<br>20. D | 1. A<br>2. D<br>3. A<br>4. C<br>5. D<br>6. C<br>7. B<br>8. C<br>9. D<br>10. B<br>11. C<br>12. A<br>13. B<br>14. C<br>15. D<br>16. A<br>17. D<br>18. B<br>19. A<br>20. C |

**11 EKİM 2015 TARİHİNDE YAPILAN AÇIKÖĞRETİM LİSESİ / MESLEKİ AÇIKÖĞRETİM LİSESİ  
2014-2015 ÖĞRETİM YILI EK SINAV KİTAPÇIĞI CEVAP ANAHTARI**

|   |   |   |   |
|---|---|---|---|
| <b>COĞRAFYA – 5</b>   | <b>COĞRAFYA – 7</b>   | <b>MATEMATİK– 3</b>   | <b>İNGİLİZCE– 1</b>   |
| 1. B<br>2. B<br>3. A<br>4. D<br>5. A<br>6. C<br>7. B<br>8. A<br>9. D<br>10. D<br>11. A<br>12. D<br>13. A<br>14. C<br>15. D<br>16. A<br>17. D<br>18. B<br>19. A<br>20. C | 1. A<br>2. D<br>3. B<br>4. A<br>5. D<br>6. D<br>7. C<br>8. A<br>9. B<br>10. B<br>11. C<br>12. D<br>13. A<br>14. B<br>15. B<br>16. A<br>17. D<br>18. B<br>19. D<br>20. C | 1. A<br>2. C<br>3. B<br>4. C<br>5. B<br>6. D<br>7. A<br>8. C<br>9. B<br>10. A<br>11. D<br>12. A<br>13. B<br>14. D<br>15. C<br>16. C<br>17. B<br>18. A<br>19. D<br>20. D | 1. D<br>2. A<br>3. C<br>4. B<br>5. D<br>6. B<br>7. C<br>8. A<br>9. B<br>10. C<br>11. C<br>12. A<br>13. A<br>14. D<br>15. B<br>16. A<br>17. D<br>18. B<br>19. A<br>20. D |
| <b>COĞRAFYA – 6</b>   | <b>COĞRAFYA – 8</b>   | <b>MATEMATİK– 4</b>   | <b>ALMANCA– 1</b>   |
| 1. C<br>2. B<br>3. C<br>4. B<br>5. C<br>6. B<br>7. A<br>8. D<br>9. B<br>10. A<br>11. B<br>12. C<br>13. D<br>14. D<br>15. B<br>16. A<br>17. D<br>18. C<br>19. D<br>20. A | 1. C<br>2. A<br>3. D<br>4. B<br>5. B<br>6. C<br>7. A<br>8. D<br>9. A<br>10. D<br>11. C<br>12. D<br>13. C<br>14. A<br>15. B<br>16. C<br>17. B<br>18. A<br>19. D<br>20. B | 1. C<br>2. D<br>3. A<br>4. C<br>5. D<br>6. C<br>7. D<br>8. A<br>9. D<br>10. C<br>11. B<br>12. B<br>13. A<br>14. C<br>15. A<br>16. B<br>17. D<br>18. B<br>19. A<br>20. B | 1. A<br>2. C<br>3. B<br>4. C<br>5. C<br>6. D<br>7. D<br>8. D<br>9. C<br>10. B<br>11. A<br>12. B<br>13. D<br>14. A<br>15. C<br>16. A<br>17. D<br>18. A<br>19. B<br>20. C |

**11 EKİM 2015 TARİHİNDE YAPILAN AÇIKÖĞRETİM LİSESİ / MESLEKİ AÇIKÖĞRETİM LİSESİ**  
**2014-2015 ÖĞRETİM YILI EK SINAV KİTAPÇIĞI CEVAP ANAHTARI**

| FRANSIZCA – 1   | ALMANCA – 2   | PSİKOLOJİ – 1   | SOSYOLOJİ– 1  |
|---|---|---|---|
| 1. C<br>2. A<br>3. D<br>4. B<br>5. D<br>6. A<br>7. C<br>8. B<br>9. B<br>10. D<br>11. C<br>12. D<br>13. A<br>14. C<br>15. B<br>16. D<br>17. B<br>18. A<br>19. D<br>20. C | 1. A<br>2. C<br>3. D<br>4. D<br>5. A<br>6. C<br>7. C<br>8. B<br>9. C<br>10. A<br>11. A<br>12. B<br>13. C<br>14. D<br>15. B<br>16. B<br>17. C<br>18. A<br>19. D<br>20. C | 1. C<br>2. B<br>3. A<br>4. D<br>5. C<br>6. A<br>7. D<br>8. B<br>9. D<br>10. A<br>11. D<br>12. C<br>13. A<br>14. D<br>15. C<br>16. A<br>17. B<br>18. C<br>19. B<br>20. A | 1. A<br>2. C<br>3. D<br>4. A<br>5. D<br>6. B<br>7. A<br>8. B<br>9. C<br>10. C<br>11. D<br>12. A<br>13. B<br>14. B<br>15. C<br>16. D<br>17. B<br>18. D<br>19. A<br>20. B |
| İNGİLİZCE– 2  | FRANSIZCA – 2   | PSİKOLOJİ – 2   | SOSYOLOJİ– 2  |
| 1. D<br>2. A<br>3. A<br>4. B<br>5. D<br>6. C<br>7. B<br>8. B<br>9. C<br>10. D<br>11. D<br>12. B<br>13. A<br>14. C<br>15. A<br>16. D<br>17. B<br>18. D<br>19. C<br>20. A | 1. D<br>2. A<br>3. C<br>4. C<br>5. B<br>6. C<br>7. A<br>8. C<br>9. B<br>10. A<br>11. C<br>12. D<br>13. C<br>14. A<br>15. B<br>16. D<br>17. A<br>18. B<br>19. C<br>20. D | 1. D<br>2. B<br>3. D<br>4. C<br>5. A<br>6. C<br>7. D<br>8. C<br>9. A<br>10. B<br>11. C<br>12. C<br>13. B<br>14. A<br>15. D<br>16. B<br>17. A<br>18. B<br>19. D<br>20. A | 1. D<br>2. C<br>3. A<br>4. B<br>5. B<br>6. C<br>7. A<br>8. D<br>9. A<br>10. C<br>11. D<br>12. A<br>13. D<br>14. B<br>15. C<br>16. B<br>17. D<br>18. B<br>19. A<br>20. C |

**11 EKİM 2015 TARİHİNDE YAPILAN AÇIKÖĞRETİM LİSESİ / MESLEKİ AÇIKÖĞRETİM LİSESİ  
2014-2015 ÖĞRETİM YILI EK SINAV KİTAPÇIĞI CEVAP ANAHTARI**

| İNGİLİZCE- 3  | FRANSIZCA - 3   | ALMANCA - 4   | İNGİLİZCE- 5  |
|---|---|---|---|
| 1. D<br>2. B<br>3. C<br>4. A<br>5. D<br>6. C<br>7. B<br>8. D<br>9. C<br>10. A<br>11. D<br>12. C<br>13. B<br>14. A<br>15. D<br>16. C<br>17. A<br>18. B<br>19. A<br>20. C | 1. A<br>2. C<br>3. B<br>4. D<br>5. D<br>6. A<br>7. C<br>8. B<br>9. B<br>10. D<br>11. A<br>12. D<br>13. A<br>14. D<br>15. C<br>16. B<br>17. C<br>18. C<br>19. B<br>20. D | 1. C<br>2. D<br>3. A<br>4. B<br>5. D<br>6. D<br>7. A<br>8. D<br>9. C<br>10. B<br>11. B<br>12. D<br>13. B<br>14. A<br>15. C<br>16. B<br>17. B<br>18. C<br>19. A<br>20. C | 1. A<br>2. C<br>3. A<br>4. D<br>5. B<br>6. C<br>7. D<br>8. A<br>9. C<br>10. B<br>11. D<br>12. C<br>13. A<br>14. D<br>15. B<br>16. C<br>17. B<br>18. D<br>19. A<br>20. C |
| ALMANCA - 3   | İNGİLİZCE- 4  | FRANSIZCA - 4   | ALMANCA - 5   |
| 1. B<br>2. C<br>3. A<br>4. A<br>5. A<br>6. C<br>7. D<br>8. A<br>9. D<br>10. B<br>11. A<br>12. C<br>13. D<br>14. C<br>15. B<br>16. B<br>17. C<br>18. D<br>19. A<br>20. B | 1. D<br>2. A<br>3. B<br>4. D<br>5. A<br>6. C<br>7. A<br>8. B<br>9. D<br>10. C<br>11. B<br>12. C<br>13. C<br>14. D<br>15. A<br>16. B<br>17. B<br>18. C<br>19. D<br>20. B | 1. B<br>2. A<br>3. C<br>4. D<br>5. C<br>6. C<br>7. A<br>8. D<br>9. B<br>10. D<br>11. A<br>12. C<br>13. C<br>14. A<br>15. B<br>16. B<br>17. D<br>18. C<br>19. D<br>20. B | 1. A<br>2. B<br>3. D<br>4. A<br>5. B<br>6. C<br>7. C<br>8. A<br>9. D<br>10. B<br>11. C<br>12. A<br>13. B<br>14. A<br>15. D<br>16. D<br>17. C<br>18. B<br>19. B<br>20. C |

**11 EKİM 2015 TARİHİNDE YAPILAN AÇIKÖĞRETİM LİSESİ / MESLEKİ AÇIKÖĞRETİM LİSESİ**  
**2014-2015 ÖĞRETİM YILI EK SINAV KİTAPÇIĞI CEVAP ANAHTARI**

| FRANSIZCA- 5  | DİL VE ANLATIM- 2   | DİL VE ANLATIM- 4   | DİL VE ANLATIM- 6   |
|---|---|---|---|
| 1. C<br>2. D<br>3. A<br>4. D<br>5. B<br>6. A<br>7. D<br>8. C<br>9. C<br>10. B<br>11. D<br>12. A<br>13. B<br>14. A<br>15. C<br>16. D<br>17. A<br>18. D<br>19. B<br>20. B | 1. B<br>2. D<br>3. A<br>4. B<br>5. B<br>6. D<br>7. D<br>8. B<br>9. A<br>10. C<br>11. C<br>12. C<br>13. D<br>14. C<br>15. B<br>16. A<br>17. A<br>18. C<br>19. D<br>20. B | 1. C<br>2. A<br>3. C<br>4. A<br>5. B<br>6. D<br>7. B<br>8. C<br>9. D<br>10. B<br>11. B<br>12. C<br>13. C<br>14. D<br>15. B<br>16. A<br>17. A<br>18. A<br>19. B<br>20. D | 1. A<br>2. A<br>3. B<br>4. C<br>5. B<br>6. B<br>7. B<br>8. A<br>9. D<br>10. A<br>11. C<br>12. D<br>13. B<br>14. C<br>15. A<br>16. D<br>17. C<br>18. A<br>19. B<br>20. D |
| DİL VE ANLATIM- 1   | DİL VE ANLATIM- 3   | DİL VE ANLATIM- 5   | DİL VE ANLATIM- 7   |
| 1. A<br>2. B<br>3. C<br>4. D<br>5. B<br>6. A<br>7. C<br>8. D<br>9. C<br>10. B<br>11. C<br>12. A<br>13. D<br>14. A<br>15. B<br>16. A<br>17. D<br>18. A<br>19. A<br>20. D | 1. D<br>2. A<br>3. B<br>4. C<br>5. B<br>6. A<br>7. B<br>8. A<br>9. B<br>10. B<br>11. A<br>12. C<br>13. B<br>14. C<br>15. D<br>16. D<br>17. A<br>18. A<br>19. C<br>20. D | 1. D<br>2. D<br>3. A<br>4. B<br>5. C<br>6. C<br>7. A<br>8. C<br>9. D<br>10. B<br>11. B<br>12. C<br>13. A<br>14. D<br>15. D<br>16. A<br>17. D<br>18. A<br>19. B<br>20. A | 1. B<br>2. C<br>3. A<br>4. B<br>5. C<br>6. C<br>7. D<br>8. B<br>9. D<br>10. D<br>11. D<br>12. A<br>13. B<br>14. D<br>15. A<br>16. D<br>17. C<br>18. A<br>19. B<br>20. B |

**11 EKİM 2015 TARİHİNDE YAPILAN AÇIKÖĞRETİM LİSESİ / MESLEKİ AÇIKÖĞRETİM LİSESİ**  
**2014-2015 ÖĞRETİM YILI EK SINAV KİTAPÇIĞI CEVAP ANAHTARI**

| DİL VE ANLATIM – 8  | TÜRK EDEBİYATI– 2   | TÜRK EDEBİYATI– 4   | TÜRK EDEBİYATI– 6   |
|---|---|---|---|
| 1. A<br>2. D<br>3. D<br>4. A<br>5. B<br>6. A<br>7. C<br>8. B<br>9. C<br>10. D<br>11. D<br>12. B<br>13. C<br>14. A<br>15. A<br>16. A<br>17. D<br>18. B<br>19. C<br>20. B | 1. C<br>2. D<br>3. B<br>4. A<br>5. A<br>6. D<br>7. B<br>8. D<br>9. B<br>10. C<br>11. C<br>12. B<br>13. B<br>14. A<br>15. A<br>16. D<br>17. D<br>18. C<br>19. A<br>20. D | 1. A<br>2. B<br>3. C<br>4. B<br>5. D<br>6. B<br>7. D<br>8. D<br>9. C<br>10. C<br>11. A<br>12. A<br>13. B<br>14. B<br>15. D<br>16. A<br>17. C<br>18. A<br>19. B<br>20. C | 1. D<br>2. A<br>3. B<br>4. D<br>5. A<br>6. C<br>7. B<br>8. A<br>9. D<br>10. B<br>11. D<br>12. C<br>13. D<br>14. B<br>15. B<br>16. C<br>17. A<br>18. A<br>19. B<br>20. C     |
| TÜRK EDEBİYATI– 1   | TÜRK EDEBİYATI– 3   | TÜRK EDEBİYATI– 5   | TÜRK EDEBİYATI– 7   |
| 1. C<br>2. A<br>3. D<br>4. B<br>5. D<br>6. C<br>7. D<br>8. C<br>9. A<br>10. B<br>11. D<br>12. B<br>13. D<br>14. C<br>15. A<br>16. A<br>17. C<br>18. D<br>19. A<br>20. B | 1. D<br>2. B<br>3. A<br>4. C<br>5. C<br>6. B<br>7. A<br>8. B<br>9. B<br>10. C<br>11. A<br>12. C<br>13. A<br>14. D<br>15. D<br>16. B<br>17. D<br>18. B<br>19. A<br>20. A | 1. A<br>2. B<br>3. A<br>4. B<br>5. B<br>6. D<br>7. D<br>8. A<br>9. D<br>10. B<br>11. C<br>12. C<br>13. D<br>14. A<br>15. A<br>16. B<br>17. A<br>18. C<br>19. C<br>20. C | 1. D<br>2. İPTAL<br>3. A<br>4. D<br>5. B<br>6. A<br>7. C<br>8. B<br>9. B<br>10. C<br>11. D<br>12. A<br>13. B<br>14. D<br>15. B<br>16. C<br>17. A<br>18. B<br>19. D<br>20. C |



**11 EKİM 2015 TARİHİNDE YAPILAN AÇIKÖĞRETİM LİSESİ / MESLEKİ AÇIKÖĞRETİM LİSESİ**  
**2014-2015 ÖĞRETİM YILI EK SINAV KİTAPÇIĞI CEVAP ANAHTARI**

| TÜRK EDEBİYATI- 8   | FİZİK- 2  | FİZİK- 4  | KİMYA- 2  |
|---|---|---|---|
| 1. C<br>2. B<br>3. B<br>4. C<br>5. C<br>6. B<br>7. C<br>8. D<br>9. A<br>10. C<br>11. D<br>12. A<br>13. D<br>14. B<br>15. B<br>16. A<br>17. D<br>18. A<br>19. C<br>20. B | 1. B<br>2. D<br>3. A<br>4. C<br>5. D<br>6. C<br>7. A<br>8. B<br>9. C<br>10. D<br>11. B<br>12. B<br>13. C<br>14. C<br>15. D<br>16. A<br>17. A<br>18. A<br>19. A<br>20. B | 1. B<br>2. D<br>3. A<br>4. A<br>5. C<br>6. B<br>7. D<br>8. A<br>9. D<br>10. B<br>11. D<br>12. C<br>13. B<br>14. C<br>15. A<br>16. C<br>17. A<br>18. D<br>19. A<br>20. B | 1. C<br>2. D<br>3. B<br>4. D<br>5. A<br>6. B<br>7. B<br>8. C<br>9. D<br>10. B<br>11. C<br>12. A<br>13. A<br>14. D<br>15. A<br>16. C<br>17. C<br>18. B<br>19. A<br>20. D |
| FİZİK- 1  | FİZİK- 3  | KİMYA- 1  | KİMYA- 3  |
| 1. B<br>2. D<br>3. D<br>4. C<br>5. B<br>6. C<br>7. C<br>8. A<br>9. D<br>10. B<br>11. A<br>12. D<br>13. A<br>14. D<br>15. A<br>16. B<br>17. C<br>18. A<br>19. B<br>20. A | 1. A<br>2. C<br>3. D<br>4. D<br>5. B<br>6. D<br>7. A<br>8. C<br>9. C<br>10. B<br>11. A<br>12. D<br>13. C<br>14. B<br>15. B<br>16. A<br>17. B<br>18. A<br>19. C<br>20. D | 1. D<br>2. B<br>3. C<br>4. A<br>5. B<br>6. C<br>7. B<br>8. C<br>9. D<br>10. A<br>11. D<br>12. B<br>13. D<br>14. A<br>15. D<br>16. C<br>17. A<br>18. D<br>19. C<br>20. B | 1. B<br>2. C<br>3. C<br>4. D<br>5. B<br>6. A<br>7. D<br>8. C<br>9. B<br>10. D<br>11. D<br>12. C<br>13. A<br>14. A<br>15. D<br>16. B<br>17. A<br>18. B<br>19. B<br>20. C |

**11 EKİM 2015 TARİHİNDE YAPILAN AÇIKÖĞRETİM LİSESİ / MESLEKİ AÇIKÖĞRETİM LİSESİ**  
**2014-2015 ÖĞRETİM YILI EK SINAV KİTAPÇIĞI CEVAP ANAHTARI**

|                    |                    |                              |                                |
|--------------------|--------------------|------------------------------|--------------------------------|
| <b>KİMYA- 4</b>    | <b>BİYOLOJİ- 2</b> | <b>BİYOLOJİ- 4</b>           | <b>ÇAĞ.TÜRK DÜN.TAR. - 2</b>   |
| 1. D               | 1. A               | 1. A                         | 1. C                           |
| 2. D               | 2. B               | 2. B                         | 2. A                           |
| 3. B               | 3. B               | 3. D                         | 3. A                           |
| 4. C               | 4. D               | 4. C                         | 4. D                           |
| 5. C               | 5. C               | 5. A                         | 5. B                           |
| 6. A               | 6. C               | 6. B                         | 6. A                           |
| 7. A               | 7. A               | 7. D                         | 7. B                           |
| 8. C               | 8. B               | 8. C                         | 8. C                           |
| 9. A               | 9. B               | 9. A                         | 9. D                           |
| 10. B              | 10. D              | 10. A                        | 10. D                          |
| 11. B              | 11. A              | 11. D                        | 11. B                          |
| 12. D              | 12. B              | 12. C                        | 12. C                          |
| 13. C              | 13. A              | 13. A                        | 13. A                          |
| 14. B              | 14. C              | 14. B                        | 14. C                          |
| 15. C              | 15. D              | 15. D                        | 15. D                          |
| 16. A              | 16. C              | 16. C                        | 16. C                          |
| 17. A              | 17. B              | 17. B                        | 17. B                          |
| 18. C              | 18. A              | 18. D                        | 18. A                          |
| 19. D              | 19. D              | 19. C                        | 19. A                          |
| 20. D              | 20. D              | 20. D                        | 20. C                          |
| <b>BİYOLOJİ- 1</b> | <b>BİYOLOJİ- 3</b> | <b>ÇAĞ.TÜRK DÜN.TAR. - 1</b> | <b>DEMOK. VE İNSAN HAK- 1.</b> |
| 1. B               | 1. C               | 1. C                         | 1. A                           |
| 2. C               | 2. D               | 2. A                         | 2. D                           |
| 3. B               | 3. A               | 3. A                         | 3. A                           |
| 4. D               | 4. B               | 4. B                         | 4. C                           |
| 5. A               | 5. B               | 5. D                         | 5. A                           |
| 6. C               | 6. D               | 6. A                         | 6. D                           |
| 7. C               | 7. C               | 7. D                         | 7. D                           |
| 8. B               | 8. A               | 8. C                         | 8. B                           |
| 9. D               | 9. B               | 9. B                         | 9. D                           |
| 10. C              | 10. D              | 10. A                        | 10. A                          |
| 11. D              | 11. A              | 11. C                        | 11. C                          |
| 12. A              | 12. B              | 12. B                        | 12. B                          |
| 13. B              | 13. A              | 13. D                        | 13. C                          |
| 14. A              | 14. D              | 14. B                        | 14. C                          |
| 15. A              | 15. A              | 15. A                        | 15. A                          |
| 16. C              | 16. C              | 16. D                        | 16. B                          |
| 17. D              | 17. B              | 17. C                        | 17. C                          |
| 18. C              | 18. C              | 18. D                        | 18. D                          |
| 19. D              | 19. D              | 19. B                        | 19. A                          |
| 20. B              | 20. B              | 20. A                        | 20. B                          |

**11 EKİM 2015 TARİHİNDE YAPILAN AÇIKÖĞRETİM LİSESİ / MESLEKİ AÇIKÖĞRETİM LİSESİ**  
**2014-2015 ÖĞRETİM YILI EK SINAV KİTAPÇIĞI CEVAP ANAHTARI**

| EKONOMİ- 1  | TEMEL DİNİ BİLGİLER- 1  | İŞLETME- 1  | MANTIK - 1  |
|---|---|---|---|
| 1. C<br>2. B<br>3. D<br>4. A<br>5. C<br>6. D<br>7. A<br>8. B<br>9. D<br>10. C<br>11. B<br>12. D<br>13. C<br>14. A<br>15. B<br>16. B<br>17. B<br>18. C<br>19. D<br>20. A | 1. A<br>2. A<br>3. D<br>4. D<br>5. B<br>6. C<br>7. A<br>8. C<br>9. A<br>10. B<br>11. C<br>12. A<br>13. D<br>14. A<br>15. B<br>16. D<br>17. D<br>18. B<br>19. C<br>20. A | 1. C<br>2. D<br>3. B<br>4. A<br>5. D<br>6. A<br>7. C<br>8. B<br>9. D<br>10. B<br>11. B<br>12. A<br>13. C<br>14. D<br>15. C<br>16. A<br>17. C<br>18. B<br>19. A<br>20. D | 1. C<br>2. B<br>3. D<br>4. C<br>5. D<br>6. A<br>7. D<br>8. B<br>9. A<br>10. C<br>11. D<br>12. C<br>13. B<br>14. D<br>15. A<br>16. C<br>17. A<br>18. B<br>19. D<br>20. B |
| EKONOMİ- 2  | TEMEL DİNİ BİLGİLER- 2  | İŞLETME - 2   | MANTIK- 2   |
| 1. C<br>2. D<br>3. B<br>4. A<br>5. C<br>6. D<br>7. C<br>8. A<br>9. B<br>10. A<br>11. A<br>12. B<br>13. D<br>14. C<br>15. B<br>16. B<br>17. A<br>18. D<br>19. C<br>20. D | 1. C<br>2. C<br>3. D<br>4. B<br>5. D<br>6. A<br>7. C<br>8. A<br>9. A<br>10. B<br>11. B<br>12. C<br>13. D<br>14. D<br>15. B<br>16. A<br>17. D<br>18. B<br>19. B<br>20. D | 1. B<br>2. B<br>3. A<br>4. B<br>5. D<br>6. B<br>7. C<br>8. A<br>9. D<br>10. D<br>11. D<br>12. B<br>13. C<br>14. A<br>15. D<br>16. C<br>17. B<br>18. C<br>19. C<br>20. A | 1. B<br>2. C<br>3. B<br>4. A<br>5. C<br>6. C<br>7. D<br>8. B<br>9. B<br>10. D<br>11. A<br>12. A<br>13. B<br>14. D<br>15. B<br>16. C<br>17. D<br>18. C<br>19. A<br>20. D |

**11 EKİM 2015 TARİHİNDE YAPILAN AÇIKÖĞRETİM LİSESİ / MESLEKİ AÇIKÖĞRETİM LİSESİ**  
**2014-2015 ÖĞRETİM YILI EK SINAV KİTAPÇIĞI CEVAP ANAHTARI**

| SANAT TARİHİ – 1  | SAĞLIK BİLGİSİ – 1  | TRAFİK VE İLK YARDIM – 1  | İNGİLİZCE – 6   |
|---|---|---|---|
| 1. C<br>2. B<br>3. B<br>4. A<br>5. B<br>6. A<br>7. C<br>8. D<br>9. A<br>10. D<br>11. B<br>12. D<br>13. B<br>14. A<br>15. C<br>16. A<br>17. C<br>18. A<br>19. C<br>20. D | 1. C<br>2. D<br>3. A<br>4. D<br>5. B<br>6. A<br>7. B<br>8. C<br>9. B<br>10. D<br>11. A<br>12. D<br>13. C<br>14. D<br>15. B<br>16. A<br>17. C<br>18. C<br>19. A<br>20. C | 1. D<br>2. A<br>3. B<br>4. C<br>5. A<br>6. B<br>7. C<br>8. D<br>9. B<br>10. D<br>11. C<br>12. A<br>13. D<br>14. B<br>15. C<br>16. D<br>17. B<br>18. A<br>19. C<br>20. A | 1. D<br>2. C<br>3. B<br>4. A<br>5. C<br>6. D<br>7. A<br>8. B<br>9. D<br>10. C<br>11. D<br>12. A<br>13. B<br>14. C<br>15. D<br>16. B<br>17. B<br>18. A<br>19. D<br>20. C |
| SANAT TARİHİ – 2  | SAĞLIK BİLGİSİ – 2  | TRAFİK VE İLK YARDIM – 2  | ALMANCA – 6   |
| 1. A<br>2. B<br>3. D<br>4. D<br>5. A<br>6. B<br>7. C<br>8. A<br>9. D<br>10. B<br>11. D<br>12. A<br>13. C<br>14. C<br>15. B<br>16. D<br>17. C<br>18. A<br>19. B<br>20. C | 1. B<br>2. A<br>3. C<br>4. B<br>5. B<br>6. D<br>7. C<br>8. B<br>9. C<br>10. D<br>11. A<br>12. C<br>13. B<br>14. A<br>15. B<br>16. A<br>17. D<br>18. D<br>19. C<br>20. D | 1. C<br>2. B<br>3. D<br>4. A<br>5. B<br>6. A<br>7. C<br>8. A<br>9. C<br>10. D<br>11. D<br>12. A<br>13. C<br>14. B<br>15. D<br>16. C<br>17. A<br>18. B<br>19. D<br>20. B | 1. B<br>2. A<br>3. B<br>4. C<br>5. D<br>6. B<br>7. D<br>8. A<br>9. C<br>10. A<br>11. D<br>12. C<br>13. B<br>14. A<br>15. D<br>16. B<br>17. A<br>18. C<br>19. D<br>20. A |

**11 EKİM 2015 TARİHİNDE YAPILAN AÇIKÖĞRETİM LİSESİ / MESLEKİ AÇIKÖĞRETİM LİSESİ**  
**2014-2015 ÖĞRETİM YILI EK SINAV KİTAPÇIĞI CEVAP ANAHTARI**

| FRANSIZCA – 6   | ALMANCA – 7   | İNGİLİZCE – 8   | FRANSIZCA – 8   |
|---|---|---|---|
| 1. D<br>2. D<br>3. C<br>4. D<br>5. D<br>6. A<br>7. C<br>8. B<br>9. B<br>10. A<br>11. D<br>12. A<br>13. A<br>14. D<br>15. B<br>16. C<br>17. B<br>18. C<br>19. B<br>20. C | 1. A<br>2. D<br>3. A<br>4. D<br>5. B<br>6. C<br>7. B<br>8. A<br>9. D<br>10. C<br>11. A<br>12. B<br>13. D<br>14. C<br>15. D<br>16. B<br>17. A<br>18. C<br>19. C<br>20. B | 1. D<br>2. C<br>3. B<br>4. A<br>5. D<br>6. B<br>7. A<br>8. C<br>9. D<br>10. C<br>11. D<br>12. C<br>13. D<br>14. A<br>15. B<br>16. C<br>17. A<br>18. B<br>19. D<br>20. B | 1. B<br>2. D<br>3. A<br>4. D<br>5. D<br>6. B<br>7. A<br>8. B<br>9. B<br>10. C<br>11. D<br>12. A<br>13. C<br>14. B<br>15. A<br>16. D<br>17. A<br>18. C<br>19. A<br>20. C |
| İNGİLİZCE – 7   | FRANSIZCA – 7   | ALMANCA – 8   | SEÇMELİ TARİH – 3   |
| 1. D<br>2. C<br>3. B<br>4. D<br>5. A<br>6. C<br>7. B<br>8. A<br>9. D<br>10. C<br>11. B<br>12. C<br>13. A<br>14. D<br>15. A<br>16. C<br>17. B<br>18. D<br>19. A<br>20. A | 1. B<br>2. A<br>3. C<br>4. D<br>5. D<br>6. A<br>7. B<br>8. C<br>9. C<br>10. D<br>11. B<br>12. A<br>13. C<br>14. A<br>15. A<br>16. C<br>17. A<br>18. B<br>19. D<br>20. A | 1. A<br>2. D<br>3. B<br>4. D<br>5. C<br>6. A<br>7. D<br>8. B<br>9. C<br>10. A<br>11. C<br>12. A<br>13. D<br>14. C<br>15. B<br>16. B<br>17. C<br>18. D<br>19. B<br>20. A | 1. D<br>2. B<br>3. A<br>4. A<br>5. A<br>6. D<br>7. A<br>8. C<br>9. D<br>10. B<br>11. A<br>12. D<br>13. B<br>14. D<br>15. C<br>16. A<br>17. C<br>18. C<br>19. B<br>20. A |

**11 EKİM 2015 TARİHİNDE YAPILAN AÇIKÖĞRETİM LİSESİ / MESLEKİ AÇIKÖĞRETİM LİSESİ**  
**2014-2015 ÖĞRETİM YILI EK SINAV KİTAPÇIĞI CEVAP ANAHTARI**

| SEÇMELİ TARİH – 4   | SEÇMELİ COĞRAFYA– 4   | FIKİH – 2   | SEÇ. YAB. DİL ALMANCA – 7   |
|---|---|---|---|
| 1. A<br>2. D<br>3. B<br>4. C<br>5. B<br>6. B<br>7. A<br>8. D<br>9. C<br>10. B<br>11. B<br>12. A<br>13. D<br>14. C<br>15. A<br>16. B<br>17. A<br>18. A<br>19. B<br>20. C | 1. A<br>2. C<br>3. B<br>4. D<br>5. B<br>6. C<br>7. A<br>8. D<br>9. B<br>10. A<br>11. A<br>12. B<br>13. C<br>14. B<br>15. A<br>16. C<br>17. C<br>18. A<br>19. A<br>20. D | 1. D<br>2. A<br>3. B<br>4. D<br>5. A<br>6. C<br>7. A<br>8. D<br>9. B<br>10. C<br>11. C<br>12. B<br>13. C<br>14. A<br>15. B<br>16. A<br>17. A<br>18. C<br>19. B<br>20. B | 1. A<br>2. C<br>3. B<br>4. D<br>5. A<br>6. B<br>7. A<br>8. D<br>9. B<br>10. A<br>11. B<br>12. C<br>13. A<br>14. C<br>15. D<br>16. C<br>17. D<br>18. C<br>19. A<br>20. B |
| SEÇMELİ COĞRAFYA – 3  | FIKİH – 1   | SEÇ. YAB. DİL İNGİLİZCE –7  | SEÇ. YAB. DİL FRANSIZCA– 7  |
| 1. D<br>2. B<br>3. D<br>4. C<br>5. A<br>6. C<br>7. D<br>8. A<br>9. B<br>10. C<br>11. C<br>12. A<br>13. A<br>14. B<br>15. D<br>16. B<br>17. A<br>18. A<br>19. B<br>20. A | 1. D<br>2. C<br>3. A<br>4. A<br>5. C<br>6. A<br>7. A<br>8. B<br>9. B<br>10. D<br>11. A<br>12. C<br>13. D<br>14. B<br>15. D<br>16. D<br>17. B<br>18. C<br>19. D<br>20. B | 1. D<br>2. C<br>3. B<br>4. A<br>5. A<br>6. C<br>7. B<br>8. D<br>9. B<br>10. C<br>11. B<br>12. A<br>13. B<br>14. D<br>15. C<br>16. D<br>17. A<br>18. A<br>19. D<br>20. B | 1. B<br>2. B<br>3. C<br>4. A<br>5. A<br>6. D<br>7. C<br>8. D<br>9. B<br>10. A<br>11. D<br>12. C<br>13. C<br>14. A<br>15. B<br>16. D<br>17. D<br>18. C<br>19. A<br>20. C |

**11 EKİM 2015 TARİHİNDE YAPILAN AÇIKÖĞRETİM LİSESİ / MESLEKİ AÇIKÖĞRETİM LİSESİ  
2014-2015 ÖĞRETİM YILI EK SINAV KİTAPÇIĞI CEVAP ANAHTARI**

**SEÇ. YAB. DİL İNGİLİZCE – 8**

1. A
2. B
3. C
4. D
5. D
6. A
7. C
8. B
9. D
10. B
11. A
12. A
13. B
14. C
15. D
16. C
17. A
18. B
19. D
20. C

**SEÇ. YAB. DİL FRANSIZCA – 8**

1. B
2. C
3. D
4. A
5. A
6. C
7. D
8. B
9. C
10. B
11. A
12. D
13. B
14. A
15. C
16. B
17. C
18. B
19. A
20. D

**HZ. MUHAMMED'İN HAY. – 2**

1. B
2. C
3. C
4. D
5. C
6. B
7. A
8. C
9. D
10. B
11. A
12. B
13. A
14. A
15. C
16. C
17. A
18. D
19. D
20. B

**HZ. MUHAMMED'İN HAY. – 4**

1. B
2. D
3. C
4. D
5. D
6. A
7. B
8. A
9. C
10. C
11. B
12. C
13. D
14. B
15. D
16. A
17. A
18. D
19. A
20. D

**SEÇ. YAB. DİL ALMANCA – 8**

1. C
2. B
3. C
4. D
5. A
6. D
7. B
8. A
9. D
10. B
11. B
12. A
13. A
14. C
15. A
16. C
17. D
18. B
19. A
20. C

**HZ. MUHAMMED'İN HAY. – 1**

1. D
2. B
3. C
4. A
5. C
6. A
7. A
8. D
9. B
10. A
11. A
12. B
13. A
14. B
15. D
16. C
17. B
18. C
19. A
20. D

**HZ. MUHAMMED'İN HAY. – 3**

1. C
2. B
3. B
4. A
5. A
6. D
7. A
8. B
9. C
10. B
11. B
12. A
13. D
14. C
15. A
16. D
17. C
18. B
19. D
20. D

**DEMOK. VE İNSAN HAK. – 2**

1. B
2. D
3. B
4. D
5. C
6. C
7. D
8. A
9. A
10. C
11. C
12. B
13. B
14. A
15. A
16. D
17. C
18. B
19. A
20. C

**11 EKİM 2015 TARİHİNDE YAPILAN AÇIKÖĞRETİM LİSESİ / MESLEKİ AÇIKÖĞRETİM LİSESİ**  
**2014-2015 ÖĞRETİM YILI EK SINAV KİTAPÇIĞI CEVAP ANAHTARI**

| KARŞ. DİN. TARİHİ – 1   | SEÇMELİ DİL VE ANLATIM – 3  | SEÇMELİ DİL VE ANLATIM – 5  | SEÇMELİ DİL VE ANLATIM – 7  |
|---|---|---|---|
| 1. D<br>2. C<br>3. A<br>4. D<br>5. C<br>6. C<br>7. B<br>8. A<br>9. A<br>10. D<br>11. C<br>12. D<br>13. B<br>14. D<br>15. A<br>16. A<br>17. B<br>18. D<br>19. C<br>20. A | 1. D<br>2. B<br>3. C<br>4. C<br>5. A<br>6. C<br>7. A<br>8. B<br>9. B<br>10. D<br>11. D<br>12. B<br>13. C<br>14. B<br>15. A<br>16. A<br>17. D<br>18. B<br>19. B<br>20. D | 1. B<br>2. B<br>3. D<br>4. C<br>5. C<br>6. A<br>7. B<br>8. C<br>9. A<br>10. A<br>11. D<br>12. D<br>13. B<br>14. D<br>15. B<br>16. B<br>17. C<br>18. D<br>19. C<br>20. B | 1. B<br>2. D<br>3. C<br>4. A<br>5. A<br>6. B<br>7. D<br>8. C<br>9. D<br>10. C<br>11. C<br>12. A<br>13. D<br>14. A<br>15. A<br>16. C<br>17. B<br>18. C<br>19. B<br>20. D |
| KARŞ. DİN. TARİHİ – 2   | SEÇMELİ DİL VE ANLATIM – 4  | SEÇMELİ DİL VE ANLATIM – 6  | SEÇMELİ DİL VE ANLATIM – 8  |
| 1. A<br>2. D<br>3. D<br>4. B<br>5. C<br>6. A<br>7. A<br>8. D<br>9. B<br>10. B<br>11. A<br>12. C<br>13. D<br>14. B<br>15. C<br>16. C<br>17. D<br>18. B<br>19. B<br>20. D | 1. A<br>2. D<br>3. C<br>4. C<br>5. B<br>6. C<br>7. D<br>8. A<br>9. A<br>10. B<br>11. C<br>12. B<br>13. A<br>14. A<br>15. B<br>16. D<br>17. C<br>18. D<br>19. B<br>20. C | 1. C<br>2. B<br>3. A<br>4. D<br>5. C<br>6. B<br>7. D<br>8. C<br>9. A<br>10. D<br>11. B<br>12. D<br>13. B<br>14. C<br>15. A<br>16. D<br>17. B<br>18. C<br>19. C<br>20. A | 1. D<br>2. C<br>3. A<br>4. C<br>5. B<br>6. B<br>7. A<br>8. C<br>9. B<br>10. A<br>11. D<br>12. B<br>13. C<br>14. B<br>15. D<br>16. A<br>17. B<br>18. C<br>19. D<br>20. A |



**11 EKİM 2015 TARİHİNDE YAPILAN AÇIKÖĞRETİM LİSESİ / MESLEKİ AÇIKÖĞRETİM LİSESİ**  
**2014-2015 ÖĞRETİM YILI EK SINAV KİTAPÇIĞI CEVAP ANAHTARI**

**SEÇMELİ TÜRK EDEBİYATI – 3**

1. A
2. D
3. C
4. A
5. C
6. C
7. B
8. A
9. B
10. C
11. D
12. A
13. A
14. B
15. A
16. C
17. D
18. C
19. B
20. A

**SEÇMELİ TÜRK EDEBİYATI – 5**

1. B
2. C
3. B
4. A
5. C
6. D
7. D
8. A
9. B
10. B
11. B
12. A
13. D
14. D
15. B
16. C
17. A
18. D
19. A
20. B

**SEÇMELİ TÜRK EDEBİYATI – 7**

1. B
2. C
3. A
4. B
5. A
6. A
7. D
8. C
9. D
10. A
11. C
12. D
13. C
14. B
15. D
16. B
17. C
18. B
19. A
20. D

**İSLAM TARİHİ – 1**

1. C
2. D
3. D
4. B
5. A
6. D
7. A
8. C
9. D
10. D
11. B
12. D
13. C
14. C
15. B
16. A
17. C
18. B
19. A
20. D

**SEÇMELİ TÜRK EDEBİYATI – 4**

1. C
2. B
3. D
4. A
5. A
6. C
7. A
8. B
9. B
10. A
11. B
12. D
13. A
14. D
15. D
16. C
17. C
18. B
19. B
20. D

**SEÇMELİ TÜRK EDEBİYATI – 6**

1. C
2. B
3. A
4. A
5. C
6. B
7. D
8. A
9. D
10. B
11. C
12. A
13. C
14. A
15. B
16. D
17. D
18. B
19. C
20. C

**SEÇMELİ TÜRK EDEBİYATI – 8**

1. B
2. D
3. C
4. A
5. A
6. D
7. B
8. B
9. C
10. A
11. C
12. C
13. A
14. B
15. C
16. B
17. D
18. B
19. D
20. A

**İSLAM TARİHİ – 2**

1. B
2. A
3. D
4. C
5. A
6. B
7. C
8. A
9. C
10. D
11. A
12. C
13. C
14. B
15. D
16. D
17. B
18. A
19. C
20. D

**11 EKİM 2015 TARİHİNDE YAPILAN AÇIKÖĞRETİM LİSESİ / MESLEKİ AÇIKÖĞRETİM LİSESİ**  
**2014-2015 ÖĞRETİM YILI EK SINAV KİTAPÇIĞI CEVAP ANAHTARI**

| KELAM – 1   | SİYER – 1   | GİRİŞİMCİLİK – 1  | MATEMATİK – 1   |
|---|---|---|---|
| 1. C<br>2. A<br>3. D<br>4. B<br>5. D<br>6. C<br>7. B<br>8. D<br>9. B<br>10. B<br>11. D<br>12. A<br>13. B<br>14. A<br>15. D<br>16. C<br>17. A<br>18. C<br>19. C<br>20. A | 1. D<br>2. A<br>3. D<br>4. B<br>5. A<br>6. C<br>7. B<br>8. A<br>9. B<br>10. D<br>11. A<br>12. C<br>13. A<br>14. C<br>15. C<br>16. B<br>17. A<br>18. C<br>19. B<br>20. D | 1. C<br>2. D<br>3. A<br>4. D<br>5. B<br>6. C<br>7. A<br>8. D<br>9. B<br>10. A<br>11. D<br>12. D<br>13. B<br>14. A<br>15. C<br>16. A<br>17. D<br>18. B<br>19. C<br>20. C | 1. B<br>2. B<br>3. D<br>4. A<br>5. C<br>6. C<br>7. D<br>8. A<br>9. C<br>10. A<br>11. B<br>12. D<br>13. C<br>14. B<br>15. A<br>16. C<br>17. B<br>18. A<br>19. D<br>20. D |
| KELAM – 2   | SİYER – 2   | GİRİŞİMCİLİK – 2  | MATEMATİK – 2   |
| 1. D<br>2. A<br>3. B<br>4. C<br>5. B<br>6. D<br>7. B<br>8. A<br>9. A<br>10. B<br>11. D<br>12. B<br>13. C<br>14. C<br>15. B<br>16. C<br>17. A<br>18. C<br>19. A<br>20. D | 1. D<br>2. A<br>3. B<br>4. B<br>5. D<br>6. D<br>7. C<br>8. A<br>9. D<br>10. C<br>11. C<br>12. A<br>13. A<br>14. C<br>15. D<br>16. B<br>17. C<br>18. B<br>19. D<br>20. D | 1. A<br>2. D<br>3. B<br>4. A<br>5. C<br>6. B<br>7. A<br>8. D<br>9. C<br>10. C<br>11. B<br>12. D<br>13. B<br>14. A<br>15. C<br>16. A<br>17. D<br>18. B<br>19. C<br>20. D | 1. C<br>2. A<br>3. D<br>4. C<br>5. D<br>6. D<br>7. A<br>8. D<br>9. A<br>10. B<br>11. D<br>12. B<br>13. C<br>14. A<br>15. C<br>16. A<br>17. B<br>18. A<br>19. D<br>20. B |